The left side of the slide features three stylized balloons in yellow, light blue, and pink, each with a white ribbon and several yellow triangular streamers. The background is a vertical gradient from light pink at the top to light blue at the bottom.


Десятичные дроби. Сложение и вычитание десятичных дробей.

Выполнила:
Азмуханова Л.Р

Путешествие в страну

Десятичных

2 // e
Й



Девиз:




**«Знания имей
отличные по теме
«Дробь
десятичные»»**

Разминка

**Какой знак можно
поставить между числами
4 и 5, чтобы получившееся
число было больше 4, но
меньше 5?**

$$4 < 4,5 < 5$$



Городок дробей

Представьте в
виде десятичной
дроби:

$$\frac{9}{10};$$

$$\frac{24}{100};$$

$$\frac{3}{1000};$$

$$\frac{92}{10000};$$

$$6\frac{8}{100};$$

$$14\frac{105}{10000}.$$



Отвeты:

0,9

0,24

0,003


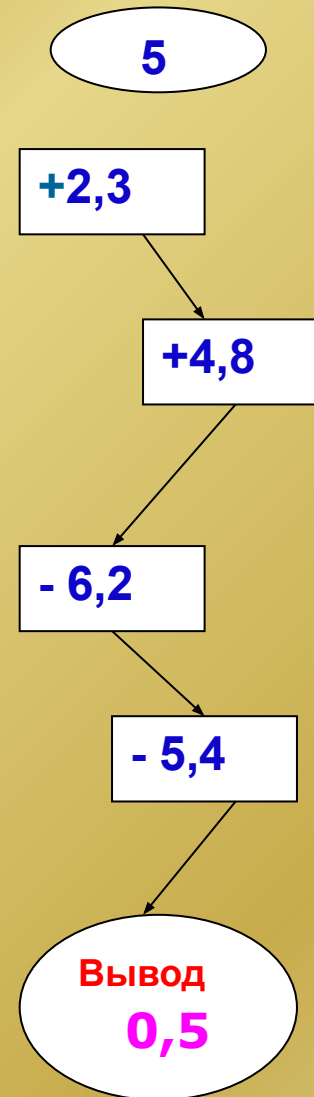
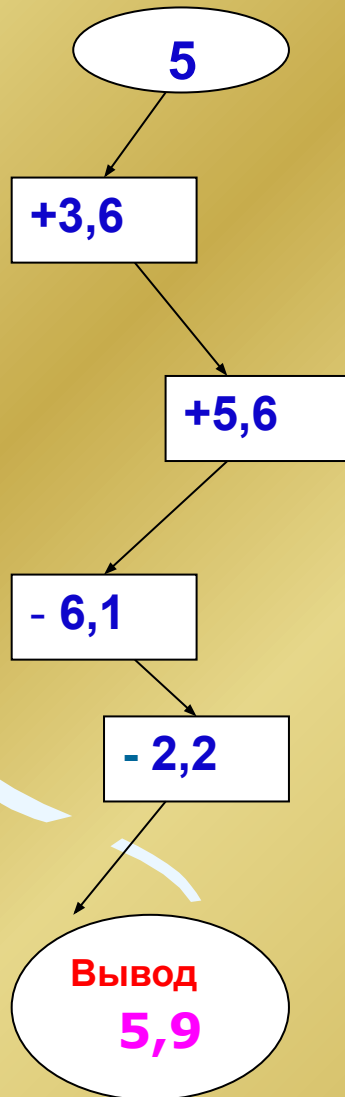
0,0092

6,08

14,0105



Планета вычислений:





и

0,9

м

0,4



о

1,5

На земном шаре обитают птицы – безошибочные составители прогноза погоды на лето. Название этих птиц вы прочтете, если расположите эти дроби в порядке возрастания.

а

0,1

г

1,36

ф

0,012

н

0,92

л

0,03



Ф

л

а

м

и

н

г

о

0,012

0,03

0,1

0,4

0,9

0,92

1,36

1,5

**Замените звездочки знаками $>$ $<$
так, чтобы получилось верное
неравенство:**

$$21 * 18,75$$

$$21 > 18,75$$

$$8,006 * 9,001$$

$$8,006 < 9,001$$

$$7,2 * 7,205$$

$$7,2 < 7,205$$

$$4,009 * 3,99$$

$$4,009 > 3,99$$



Остров задач

Один класс собрал 215,7 кг металлолома, а второй на 5,8 кг больше. Сколько кг металлолома собрали оба класса?

Ответ:

$$215,7 + 5,8 = 221,5 \text{ кг}$$



Водопад приближений.

- Чтобы благополучно пройти водопад, требуется выполнить такое задание:

1) Округлите до целых:

а) $3,34 \approx 3$

б) $4,644 \approx 5$

2) Округлите до десятых :

а) $5,327 \approx 5,3$

б) $0,6722 \approx 0,7$

3) Округлите до сотых:

а) $1,4563 \approx 1,46$

б) $7,45378 \approx 7,45$

4) Округлите до тысячных:

а) $0,35825 \approx 0,358$

б) $3,345924 \approx 3,346$



Волшебный сад.

Сколько знаков после запятой имеет десятичная дробь, если знаменатель ее обычной записи равен 10, 100, 1000 и т.д.?

Правила сравнения десятичных дробей?

Правило сложения и вычитания десятичных дробей?



**- Молодцы, ребята!
Путешествие
окончено.
Возвращаемся домой.**

