

МКОУ КОПАНИЩЕНСКАЯ ООШ

ПРЕЗЕНТАЦИЯ НА ТЕМУ: МАТЕРИКИ, ОКЕАНЫ,  
НАРОДЫ И СТРАНЫ.

ПОДГОТОВИЛ: УЧИТЕЛЬ ГЕОГРАФИИ

СЕМЧЕНКО А.Н.


2018 г.

## 1 тип заданий.

«На определения страны по ее краткому описанию.

Определите страну по её краткому описанию.

Эта страна протянулось узкой полосой вдоль восточного и южного побережья одного из крупных полуостровов Евразии. Рельеф в основном гористый; равнины, расположенные в дельте двух крупных рек, занимают около четверти территории страны. Климат субэкваториальный, часты тайфуны и наводнения. Недра богаты полезными ископаемыми: разведаны запасы нефти, каменного угля, железных, оловянных и вольфрамовых руд. Сельское хозяйство специализируется на производстве риса, сахарного тростника, чая, кофе и натурального каучука.




## 1 тип заданий.

«На определения страны по ее краткому описанию.

Определите страну по её краткому описанию.

Эта страна протянулось узкой полосой вдоль восточного и южного побережья одного из крупных полуостровов Евразии. Рельеф в основном гористый; равнины, расположенные в дельте двух крупных рек, занимают около четверти территории страны. Климат субэкваториальный, часты тайфуны и наводнения. Недра богаты полезными ископаемыми: разведаны запасы нефти, каменного угля, железных, оловянных и вольфрамовых руд. Сельское хозяйство специализируется на производстве риса, сахарного тростника, чая, кофе и натурального каучука.




## 2 тип заданий.

«На определения народа по его краткому описанию.

Кустарное ткачество – традиционное занятие многих азиатских народов. Ещё в раннем Средневековье высоко ценились хлопчатобумажные и шёлковые узорные ткани, производимые в оазисах Средней Азии. В культуре и хозяйственной деятельности какого из перечисленных народов это ремесло занимало особое место?

- 1) буряты
- 2) алтайцы
- 3) узбеки
- 4) монголы



## 2 тип заданий.

«На определения народа по его краткому описанию.

Кустарное ткачество – традиционное занятие многих азиатских народов. Ещё в раннем Средневековье высоко ценились хлопчатобумажные и шёлковые узорные ткани, производимые в оазисах Средней Азии. В культуре и хозяйственной деятельности какого из перечисленных народов это ремесло занимало особое место?

- 1) буряты
- 2) алтайцы
- 3) узбеки
- 4) монголы




## 2 тип заданий.

«На определения народа по его краткому описанию.

Кустарное ткачество – традиционное занятие многих азиатских народов. Ещё в раннем Средневековье высоко ценились хлопчатобумажные и шёлковые узорные ткани, производимые в оазисах Средней Азии. В культуре и хозяйственной деятельности какого из перечисленных народов это ремесло занимало особое место?

- 1) буряты
- 2) алтайцы
- 3) узбеки**
- 4) монголы



## 3 тип заданий.

### «На соответствие стран туристическим слоганам.»

Туристические фирмы разных стран разработали слоганы (рекламные лозунги) для привлечения туристов на свои островные территории. Установите соответствие между слоганами и странами, к которым относятся островные территории: к каждому элементу первого столбца подберите соответствующий элемент из второго столбца.

#### СЛОГАНЫ

- А) Красота коралловых островов в Индийском океане уникальна! Для любителей подводного плавания – великолепные лагуны с кристально чистой водой!
- Б) Вас ждут живописные пляжи Атлантики и чудеса тропического рая!

#### СТРАНЫ

- 1) Великобритания (Шетландские острова)
- 2) Мальдивы (Мальдивские острова)
- 3) Испания (Канарские острова)
- 4) Новая Зеландия (острова Новая Зеландия)



## 3 тип заданий.

### «На соответствие стран туристическим слоганам.»

Туристические фирмы разных стран разработали слоганы (рекламные лозунги) для привлечения туристов на свои островные территории. Установите соответствие между слоганами и странами, к которым относятся островные территории: к каждому элементу первого столбца подберите соответствующий элемент из второго столбца.

#### СЛОГАНЫ

- А) Красота коралловых островов в **Индийском океане** уникальна! Для любителей подводного плавания – великолепные дагуны с кристально чистой водой!
- Б) Вас ждут живописные пляжи **Атлантики** и чудеса тропического рая!

#### СТРАНЫ

- 1) Великобритания (Шетландские острова)
- 2) Мальдивы (Мальдивские острова)
- 3) Испания (Канарские острова)
- 4) Новая Зеландия (острова Новая Зеландия)





## 3 тип заданий.

### «На соответствие стран туристическим слоганам.

Туристические фирмы разных стран разработали слоганы (рекламные лозунги) для привлечения туристов на свои островные территории. Установите соответствие между слоганами и странами, к которым относятся островные территории: к каждому элементу первого столбца подберите соответствующий элемент из второго столбца.

#### СЛОГАНЫ

- А) Красота коралловых островов в **Индийском океане** уникальна! Для любителей подводного плавания – великолепные дагуны с кристально чистой водой!
- Б) Вас ждут живописные пляжи **Атлантики** и чудеса тропического рая!

#### СТРАНЫ

- 1) Великобритания (Шетландские острова)
- 2) Мальдивы (Мальдивские острова)
- 3) Испания (Канарские острова)
- 4) Новая Зеландия (острова Новая Зеландия)

А 2


Б 3

## 4 тип заданий.

«На общегеографические знания.

В какой части света проживает бóльшая часть населения мира?

- 1) Африка
- 2) Азия
- 3) Америка
- 4) Европа




## 4 тип заданий.

«На общегеографические знания.

В какой части света проживает бóльшая часть населения мира?

- 1) Африка
- 2) Азия**
- 3) Америка
- 4) Европа




## 5 тип заданий.

«На определение численности городов.

В каком из перечисленных городов численность населения наибольшая?

- 1) Сидней
- 2) Рим
- 3) Мехико
- 4) Санкт-Петербург




## 5 тип заданий.

«На определение численности городов.

В каком из перечисленных городов численность населения наибольшая?

- 1) Сидней
- 2) Рим
- 3) Мехико**
- 4) Санкт-Петербург




## 6 тип заданий.

«На соответствие: природная зона – страна».

На территории какой из перечисленных стран имеется пустыня, расположенная в тропических широтах вдоль океанического побережья?

- 1) Китай
- 2) Египет
- 3) Турция
- 4) Намибия




## 6 тип заданий.

«На соответствие: природная зона – страна».

На территории какой из перечисленных стран имеется **пустыня**, расположенная в тропических широтах вдоль океанического побережья?

- 1) Китай
- 2) Египет
- 3) Турция
- 4) Намибия




## 6 тип заданий.

«На соответствие: природная зона – страна».

На территории какой из перечисленных стран имеется **пустыня**, расположенная в тропических широтах вдоль океанического побережья?

- 1) Китай
- 2) Египет
- 3) Турция
- 4) Намибия**





## 7 тип заданий.

«На соответствие: остров –  
климатический пояс».

Какой из перечисленных островов находится в  
экваториальном климатическом поясе?

- 1) Мадагаскар
- 2) Калимантан
- 3) Куба
- 4) Тасмания



## 7 тип заданий.

«На соответствие: остров –  
климатический пояс».

Какой из перечисленных островов находится в  
**экваториальном** климатическом поясе?

- 1) Мадагаскар
- 2) Калимантан
- 3) Куба
- 4) Тасмания



## 7 тип заданий.

«На соответствие: остров –  
климатический пояс».

Какой из перечисленных островов находится в  
**экваториальном** климатическом поясе?

- 1) Мадагаскар
- 2) Калимантан**
- 3) Куба
- 4) Тасмания



## 8 тип заданий.

«На знание численности стран».

Численность населения какой из перечисленных стран **наименьшая?**

- 1) Индия      2) Австралия
- 3) Индонезия      4) США



## 8 тип заданий.

«На знание численности стран».

Численность населения какой из перечисленных стран **наименьшая?**

- 1) Индия      **2) Австралия**  
3) Индонезия      4) США



## 9 тип заданий.

«На определения соответствия: остров - вулканы».

На территории какого из перечисленных островов имеются **действующие** вулканы?

- 1) Сицилия
- 2) Ирландия
- 3) Шри-Ланка
- 4) Тасмания



## 9 тип заданий.

«На определения соответствия: остров - вулканы».

На территории какого из перечисленных островов имеются **действующие** вулканы?

- 1) Сицилия
- 2) Ирландия
- 3) Шри-Ланка
- 4) Тасмания



## 10 тип заданий.

«На определения соответствия: материк-животные».

Представителями животного мира **Северной Америки** являются

- 1) скунс и бизон
- 2) бегемот и носорог
- 3) тигр и панда
- 4) коала и утконос





## 10 тип заданий.

«На определения соответствия: материк-животные».

Представителями животного мира **Северной Америки** являются

- 1) **скунс и бизон**
- 2) бегемот и носорог
- 3) тигр и панда
- 4) коала и утконос

