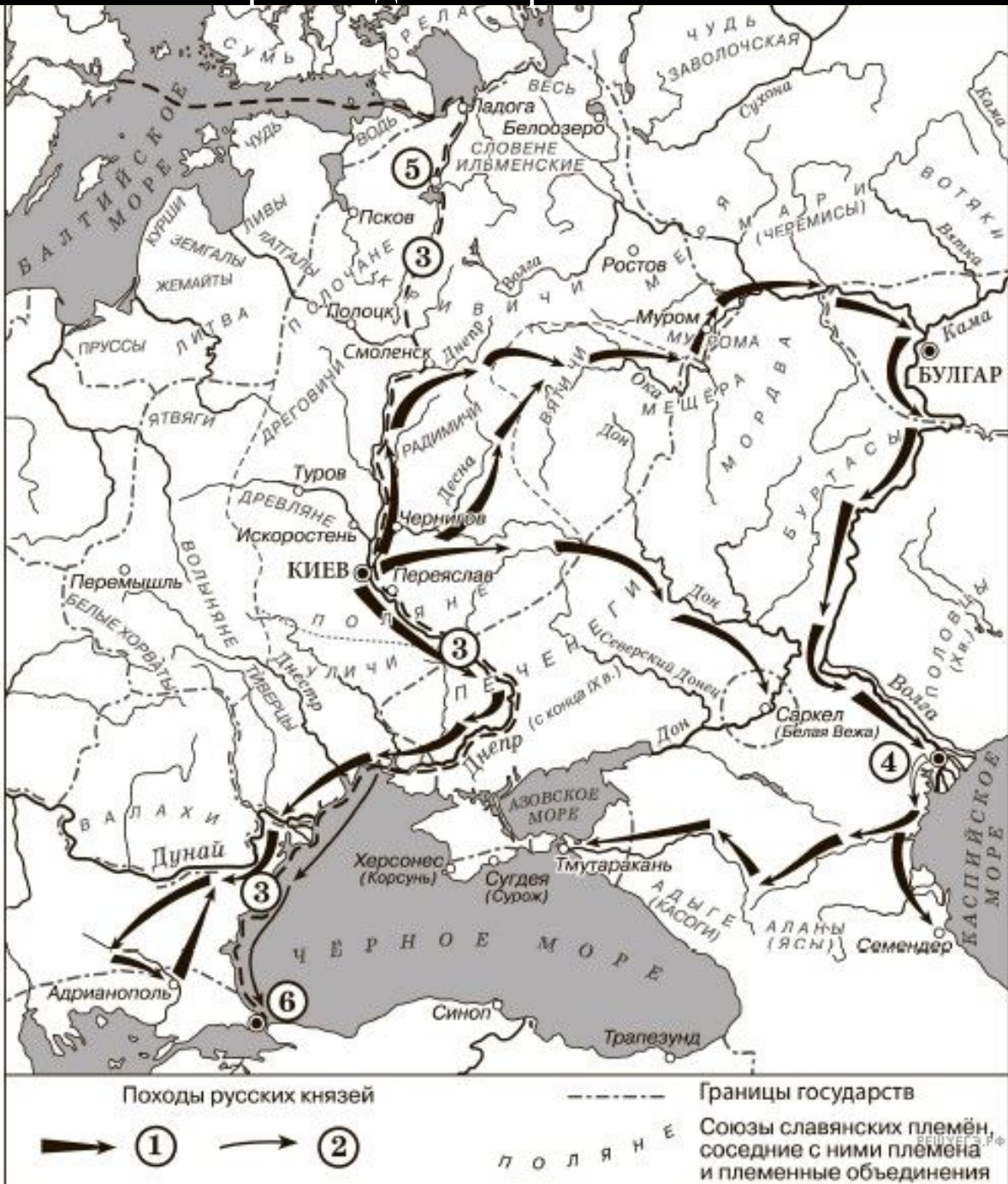


**Задание №
13-16 (работа с
картой)**



Общая информация.

Задания с картой в ЕГЭ - № 13, 14, 15, 16.

Все четыре задания привязаны к одной карте.

Списка карт, которые могут попасться в ЕГЭ, не существует в природе. Разработчики ФИПИ отталкиваются от тех карт, которые есть в школьных учебниках и атласах. Таких карт около 120.

Карты в КИМах ЕГЭ черно-белые.

Навыки работы с картой нарабатываются постоянной практикой. При изучении почти любой темы нужно использовать карту.



Общая информация.

Карты в ЕГЭ можно разделить на 5 групп:

- 1) Карты войн, военных походов.
- 2) Схемы отдельных сражений и событий (встречаются редко).
- 3) Экономические (для большинства школьников - наиболее сложные, встречаются начиная с 17 века).
- 4) Политические
- 5) Смешанные (и военные, и политические, и экономические одновременно)

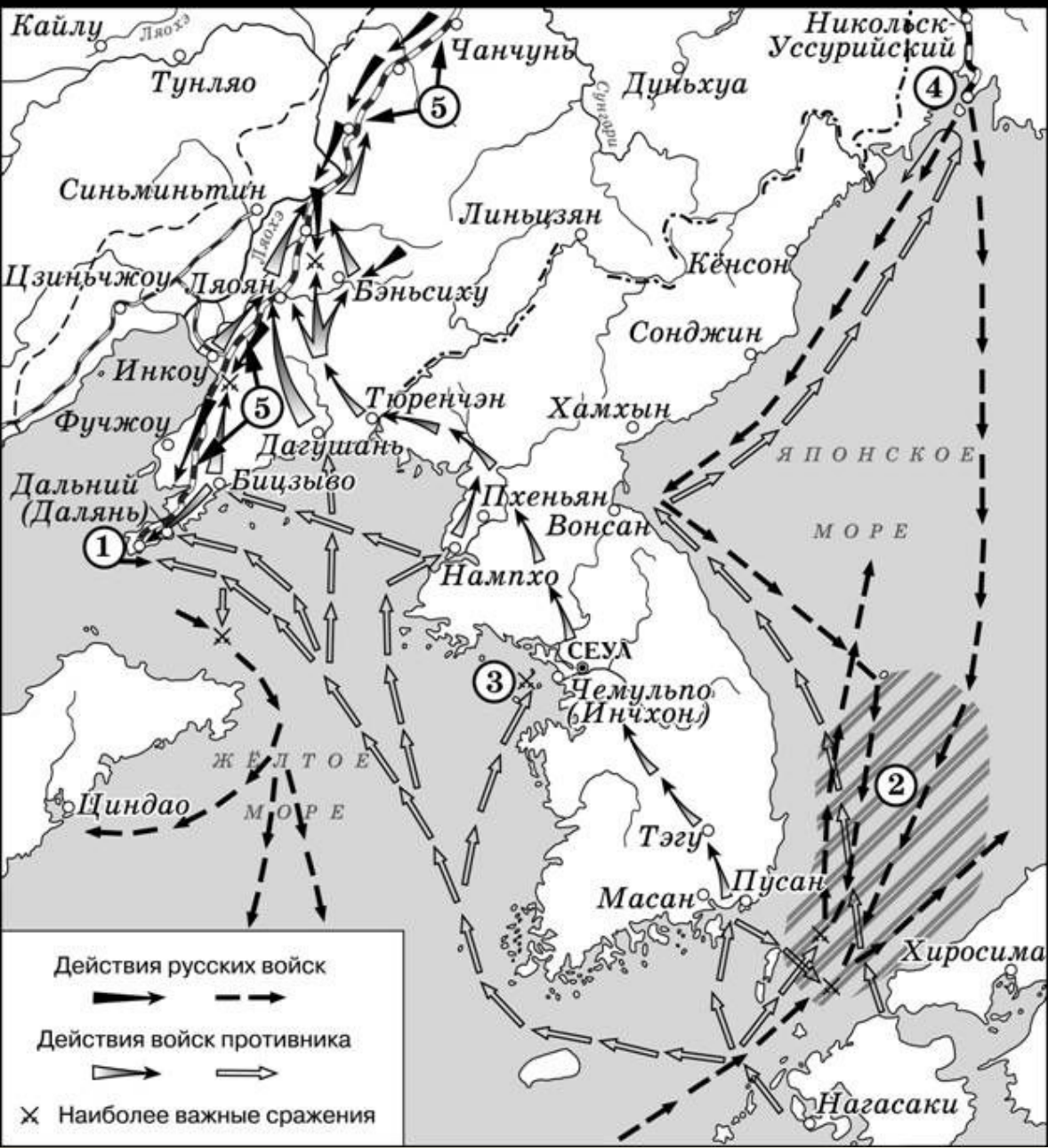
Походы русских князей



Границы государств

Союзы славянских племён, соседние с ними племена и племенные объединения

Пример «военной» карты в ЕГЭ.
Карта русско-японской войны 1904-1905 гг.

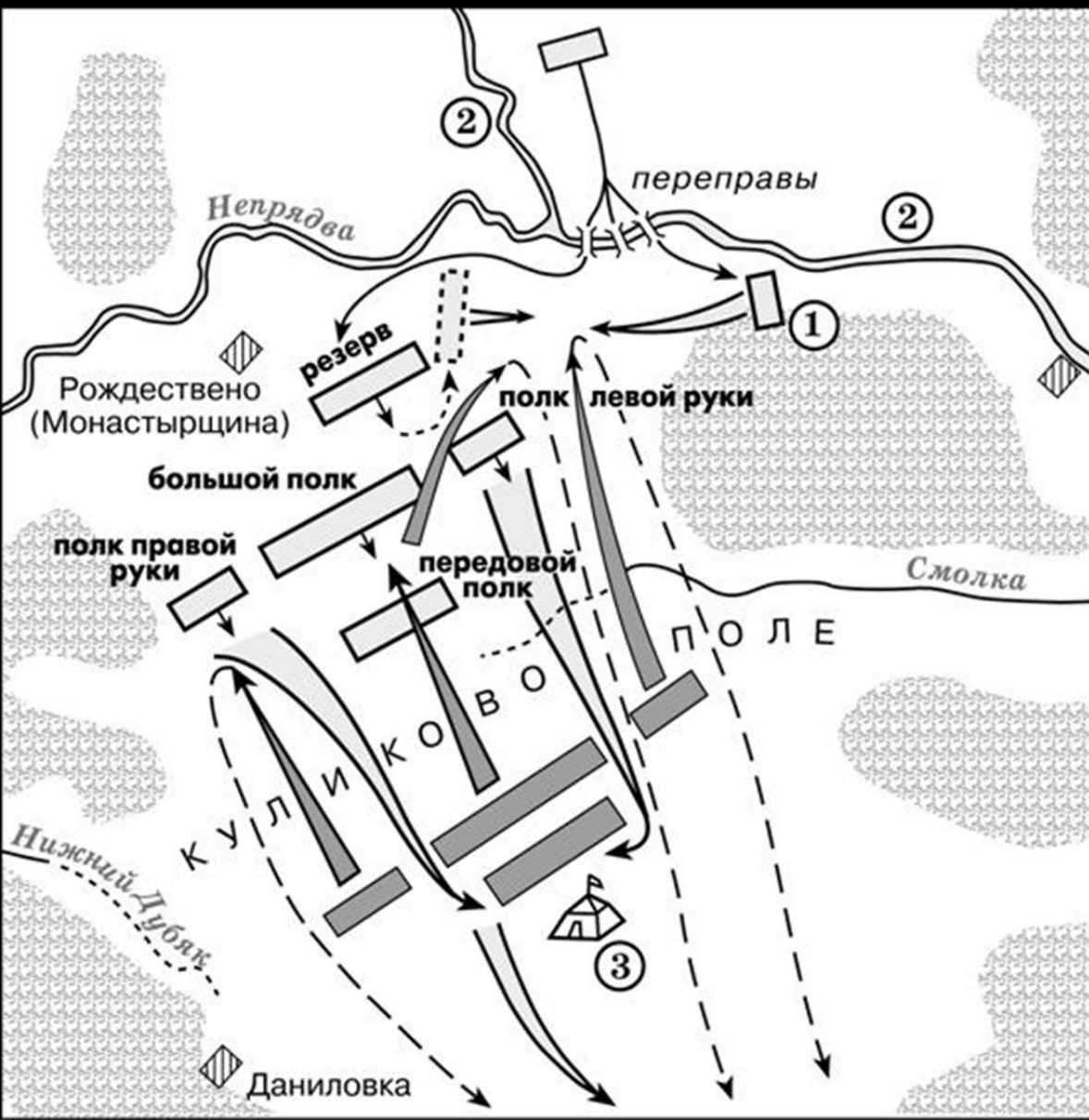


Общая информация.

Карты в ЕГЭ можно разделить на 4 группы:

- 1) Карты войн, военных походов.
- 2) Схемы отдельных сражений и событий (встречаются редко).
- 3) Экономические (для большинства школьников - наиболее сложные, встречаются начиная с 17 века).
- 4) Политические
- 5) Смешанные (и военные, и политические, и экономические одновременно)

Пример «карты-схемы» в ЕГЭ.
Карта-схема Куликовской битвы 1380 г.

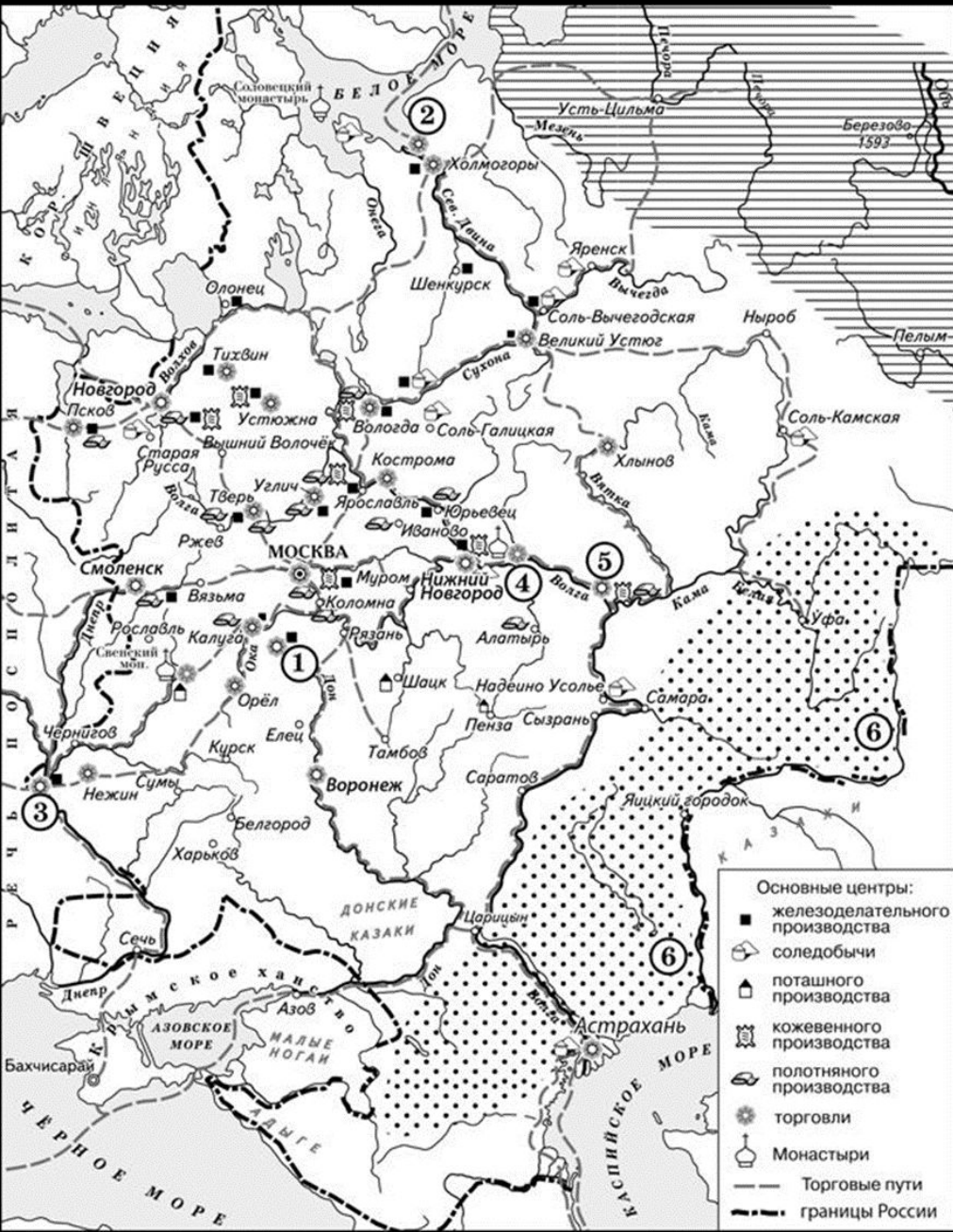


Общая информация.

Карты в ЕГЭ можно разделить на 5 групп:

- 1) **Карты войн, военных походов.**
- 2) **Схемы** отдельных сражений и событий (встречаются редко).
- 3) **Экономические** (для большинства школьников - наиболее сложные, встречаются начиная с 17 века).
- 4) **Политические**
- 5) **Смешанные** (и военные, и политические, и экономические одновременно)

Пример экономической карты в ЕГЭ.
Карта экономического развития России в 17 веке.



Общая информация.

Карты в ЕГЭ можно разделить на 5 групп:

- 1) Карты войн, военных походов.
- 2) Схемы отдельных сражений и событий (встречаются редко).
- 3) Экономические (для большинства школьников - наиболее сложные, встречаются начиная с 17 века).
- 4) Политические
- 5) Смешанные (и военные, и политические, и экономические одновременно)

Политическая карта СССР в 1922-1939 гг.
На карте есть только политическое деление СССР и нет
никаких событий.



Общая информация.

Карты в ЕГЭ можно разделить на 5 групп:

1) Карты войн, военных походов.

2) Схемы отдельных сражений и событий
(встречаются редко).

3) Экономические
(для большинства школьников - наиболее сложные,
встречаются начиная с 17 века).

4) Политические

5) Смешанные
(и военные, и политические, и экономические
одновременно)

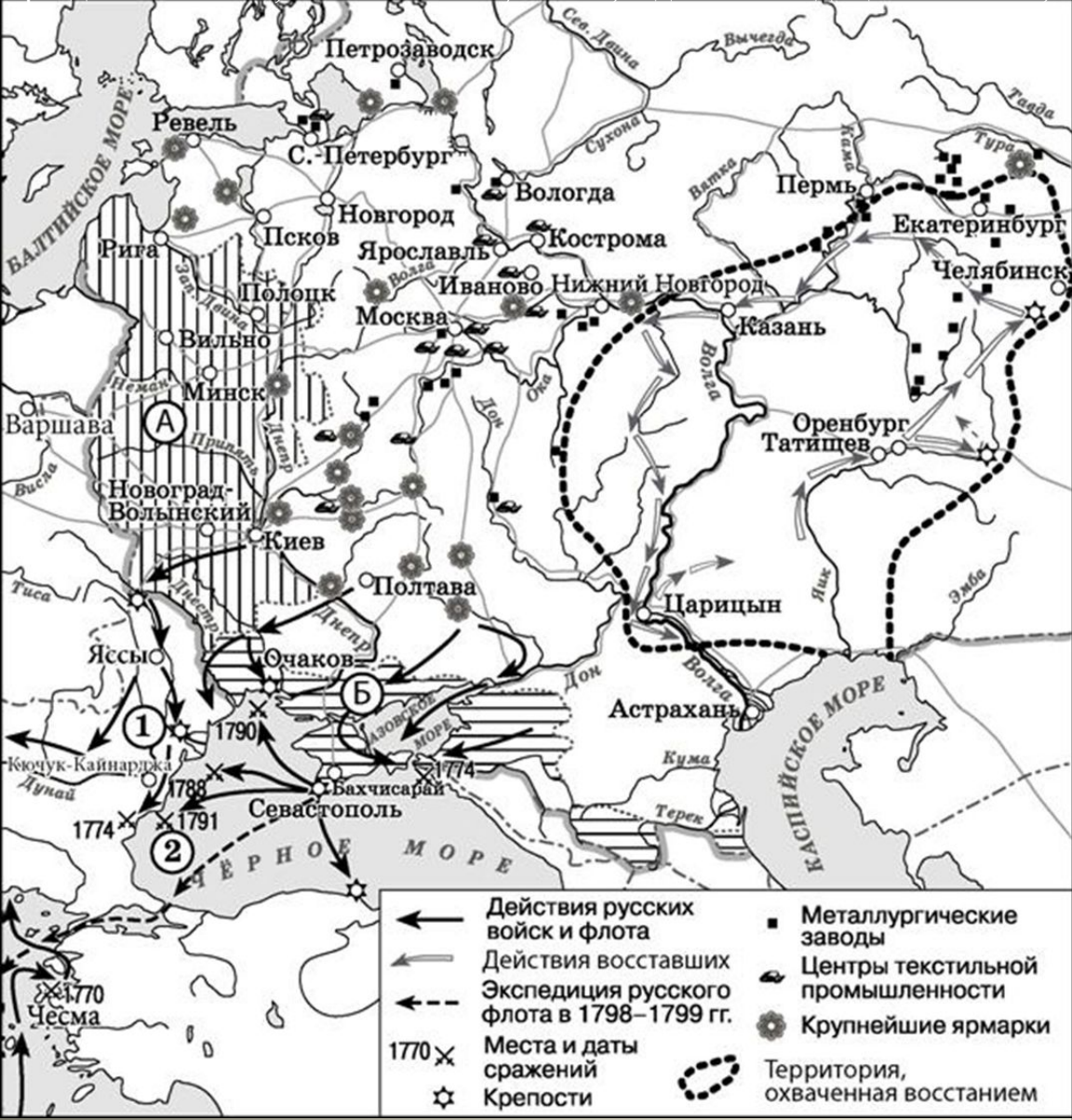
Граница СССР
Границы государств
Границы советских республик
Цифрами на карте обозначены
Союзные республики:
I Белорусская ССР
II Украинская ССР
Республики, находившиеся в союзных
отношениях с РСФСР:
III Хорезмская Народная Советская Республика
IV Бухарская Народная Советская Республика
Территория Бессарабии,
присоединенная к Румынии

Яркий пример «смешанной карты».

Россия второй половины 18 века.

Включает в себя и правление Екатерины II, и Павла I.

На карте отражены и экономика России, и русско-турецкие войны, и разделы Польши, и восстание Пугачева, и даже экспедиция Ушакова.



Общая информация.

Карты в ЕГЭ можно разделить на 5 групп:

- 1) Карты войн, военных походов.
- 2) Схемы отдельных сражений и событий (встречаются редко).
- 3) Экономические (для большинства школьников - наиболее сложные, встречаются начиная с 17 века).
- 4) Политические
- 5) Смешанные (и военные, и политические, и экономические одновременно)



Что нужно сделать с картой перед решением заданий № 13-16?

- 1) Атрибутировать карту**
- 2) Расшифровать карту**

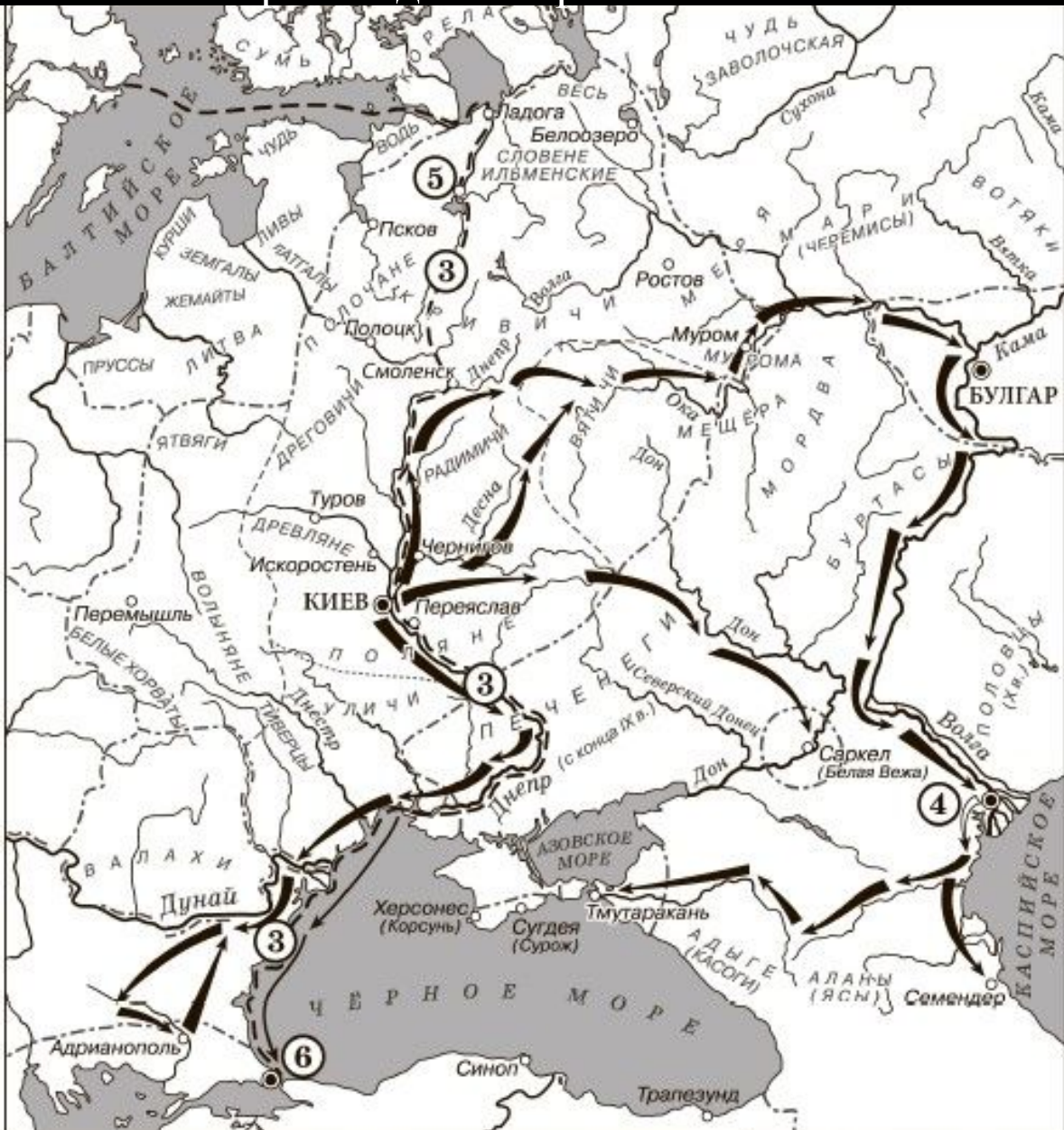
Походы русских князей

➔ ① ➔ ②

----- Границы государств

..... Союзы славянских племён, соседние с ними племена и племенные объединения

п о л я н е



Что нужно сделать с картой перед решением заданий № 13-16?

1) Атрибутировать карту (выяснить, к каким событиям, процессам относится карта, датировать ее).

Как это делать?

По намекам, рассыпанным на карте («маркерам»).

Пример «маркера» на карте слева.

На карте в Причерноморье отмечены печенеги -> карта относится к 9-11 векам.

Походы русских князей



Границы государств

Союзы славянских племён, соседние с ними племена и племенные объединения



Что нужно сделать с картой перед решением заданий № 13-16?

2) Расшифровать карту

(выяснить, какие географические объекты «спрятаны» под цифрами и буквами).

Как это делать?

По намекам, рассыпанным на карте («маркерам»), соседним не зашифрованным объектам, контексту заданий и т.д.

Пример расшифровки города под цифрой «5» на карте слева.

Город под цифрой «5» расположен в районе проживания словен ильменских, к западу от Пскова -> это Новгород.

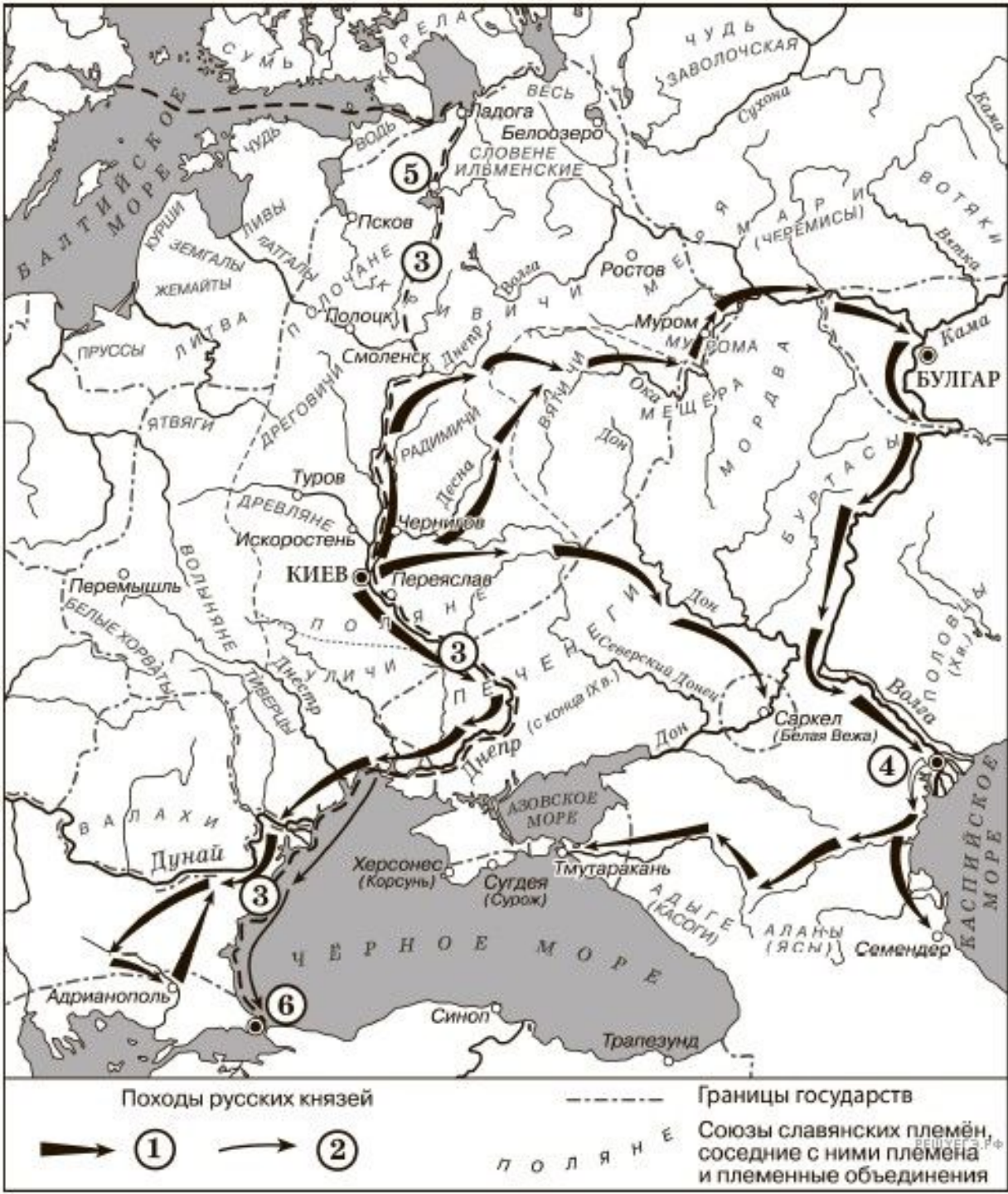
Необходимо расшифровать все объекты на карте и только затем переходить к решению заданий.

Походы русских князей



Границы государств

Союзы славянских племён,
соседние с ними племена
и племенные объединения



Что представляют из себя задание № 16?

Шесть суждений о событиях, отраженных на карте. Три суждения – верные, три – неверные. Нужно определить верные.

Внимание! Среди суждений **обязательно** есть одно, верность которого определить проще других. Чтобы оценить такое суждение как верное/неверное, необязательно знать контекстуальную информацию, достаточно просто извлечь ответ из самой карты.

В примере из желтой рамки это суждение 2-е. Чтобы понять, что русское войско не брало Перемышль, достаточно а) найти на карте Перемышль б) обнаружить, что до него не дотягиваются черные стрелки.

За верное решение задания № 16 начисляются 2 балла. За одну ошибку – минус балл.

16. Какие суждения, относящиеся к исторической ситуации, обозначенной на схеме, являются верными? Выберите три суждения из шести предложенных. Запишите в таблицу цифры, под которыми они указаны.

- 1) Цифрой «5» на схеме обозначен город Новгород.
- 2) В ходе событий, обозначенных на схеме стрелками, русское войско взяло город Перемышль.
- 3) В городе, обозначенном на схеме цифрой «6», согласно Повести временных лет, принял крещение киевский князь Владимир.
- 4) На схеме обозначен политико-административный центр восточнославянского племенного союза древлян.
- 5) Цифрой «4» на схеме обозначена столица Волжской Булгарии.
- 6) Киевский князь Олег совершил поход, обозначенный в легенде схемы цифрой «2».

Карты периода 862-1132 гг.
(Киевская Русь)

Карта 1. Расселение восточных славян в 9 веке н.э.

Карта 2. Киевская Русь в 862-964 гг.

Карта 3. Походы князя Святослава 964-972 гг.

Карта 4. Киевская Русь в 972-1054 гг.

Карта 5. Киевская Русь в 9-11 веках (обобщающая).

Карта 1.

Расселение восточных
славян в 9 веке н.э.

**Славяне и их соседи
в VII–VIII вв.**



**Карта 1. Расселение восточных славян в 9
веке н.э.**

Знать на карте:

- Расположение восточно-славянских племен (**особенно – поляне, древляне, словене ильменские, вятичи**)
 - Первые крупные города (**Киев, Искоростень, Новгород, Смоленск, Чернигов, Муром, Ростов, Изборск, Белоозеро, Любеч, Полоцк**)
- Соседи восточных славян (**балты, финно-угры, Хазарский каганат, Волжская Булгария, Болгарское царство, Византийская империя**)
 - Города соседей восточных славян:
 - **Константинополь, Саркел, Итиль**
 - Путь из варяг в греки (**Скандинавский полуостров-Балтийское море-Финский залив-Нева-Ладожское озеро-Волхов-Новгород-Ильмень-Ловать-ВОЛОКОМ-Днепр-Смоленск-Любеч-Киев-по Днепру в Черное море-Черное море-Константинополь**)
- Великий Волжский путь (**Волга-Каспийское море**)



Карта 1. Расселение восточных славян в 9 веке н.э.

Знать на карте:

- Расположение восточно-славянских племен (особенно – поляне, древляне, словене ильменские, вятичи)
 - Первые крупные города (Киев, Искоростень, Новгород, Смоленск, Чернигов, Муром, Ростов, Изборск, Белоозеро, Любеч, Полоцк)
- Соседи восточных славян (балты, финно-угры, Хазарский каганат, Волжская Булгария, Болгарское царство, Византийская империя)
 - Города соседей восточных славян:
 - Константинополь, Саркел, Итиль
 - Путь из варяг в греки (Скандинавский полуостров-Балтийское море-Финский залив-Нева-Ладожское озеро-Волхов-Новгород-Ильмень-Ловать-ВОЛОКОМ-Днепр-Смоленск-Любеч-Киев-по Днепру в Черное море-Черное море-Константинополь)
- Великий Волжский путь (Волга-Каспийское море)



№ 13-16 ЕГЭ. Рассмотрите схему и выполните задания 13–16.

13. Укажите название города, отмеченного на карте цифрой «5»

14. Укажите название реки, отмеченной на карте цифрой «2»

15. Укажите название восточнославянского племенного союза, центром которого в 9-м веке был город, отмеченный на карте цифрой «4»

16. Какие суждения, относящиеся к событиям, обозначенным на схеме, являются верными? Выберите три суждения из шести предложенных.

- 1) Согласно «Повести временных лет», в городе под цифрой «5» в 862-м году княжили Аскольд и Дир.
- 2) В городе под цифрой «3» был подписан первый известный исторической науке письменный договор Русского государства.
- 3) Князь Рюрик никогда не княжил в городе, отмеченном на карте цифрой «4»
- 4) Город под цифрой «4» в настоящий момент входит в состав Российской федерации.
- 5) Город под цифрой «3» в настоящее время входит в состав Турецкой республики.
- 6) Согласно «Повести временных лет», в город под цифрой «5» был призван княжить варяг Трувор.



№ 13-16 ЕГЭ. Рассмотрите схему и выполните задания 13–16.

13. Укажите название города, отмеченного на карте цифрой «5»

НОВГОРОД

14. Укажите название реки, отмеченной на карте цифрой «2»

ДОН

15. Укажите название восточнославянского племенного союза, центром которого в 9-м веке был город, отмеченный на карте цифрой «4»

ПОЛЯНЕ

16. Какие суждения, относящиеся к событиям, обозначенным на схеме, являются верными? Выберите три суждения из шести предложенных.

1) Согласно «Повести временных лет», в городе под цифрой «5» в 862-м году княжили Аскольд и Дир.

2) В городе под цифрой «3» был подписан первый известный исторической науке письменный договор Русского государства.

3) Князь Рюрик никогда не княжил в городе, отмеченном на карте цифрой «4»

4) Город под цифрой «4» в настоящий момент входит в состав Российской федерации.

5) Город под цифрой «3» в настоящее время входит в состав Турецкой республики.

6) Согласно «Повести временных лет», в город под цифрой «5» был призван княжить варяг Трувор.

Карта 2.

Киевская Русь в 862-964 гг.

Русь: 860–957



Карта 2.

Киевская Русь в 862-964 гг.

Знать на карте:

Города:

Новгород, Ладога, Псков, Изборск, Полоцк, Смоленск, Чернигов, Переяславль, Ростов, Муром, Суздаль, Саркел, Итиль, Тмутаракань, Искоростень

Племенные союзы восточных славян:

Словене ильменские, кривичи, вятичи, древляне, поляне

Соседи восточных славян:

Печенеги, Хазарский каганат



Карта 2. Киевская Русь в 862-957 гг.

Знать на карте:
Города:

Новгород, Ладога, Псков, Изборск, Полоцк, Смоленск, Чернигов, Переяславль, Ростов, Муром, Суздаль, Саркел, Итиль, Тмутаракань, Искоростень

Племенные союзы восточных славян:

Словене ильменские, кривичи, вятичи, древляне, поляне

Соседи восточных славян:
Печенеги, Хазарский каганат

- УЛИЧИ** Племенные объединения восточных славян в IX-X вв.
- КАРЕЛЫ** Соседние племена и племенные объединения
- Древнерусские государственные центры
- Территория Древнерусского государства в начале X в. (при князе Олеге)
- Направления военных походов дружин древнерусских князей
- Направления передвижений кочевых народов
- Набеги печенегов на Русь
- Торговый путь из Киева к варягам и грекам



№ 13-16 ЕГЭ. Рассмотрите схему и выполните задания 13–16.

13. Укажите название племенного союза восточных славян, чьим центром был город под цифрой «3»

14. Укажите имя князя, который согласно летописи, был в 862 году призван править в город под цифрой «2»

15. Укажите название города под цифрой «1»

16. Какие суждения, относящиеся к событиям, обозначенным на схеме, являются верными? Выберите три суждения из шести предложенных.

1) Город под цифрой «4» стоял в 9-11 веках на торговом пути из варяг в греки.

2) Город по цифрой «2» был оккупирован немецкими войсками в период Великой отечественной войны.

3) Город под цифрой «3» в 16 веке входил в состав Великого княжества Московского.

4) Город под цифрой «1» в 9-11 веках был племенным центром радимичей.

5) Под цифрой «4» обозначен город Киев.

6) На карте обозначено название племени, в результате столкновения с которым в 972-м году скончался князь Святослав.



№ 13-16 ЕГЭ. Рассмотрите схему и выполните задания 13–16.

13. Укажите название племенного союза восточных славян, чьим центром был город под цифрой «3».

ПОЛЯНЕ.

14. Укажите имя князя, который согласно летописи, был в 862 году призван править в город под цифрой «2».

РЮРИК.

15. Укажите название города под цифрой «1».

РОСТОВ.

16. Какие суждения, относящиеся к событиям, обозначенным на схеме, являются верными? Выберите три суждения из шести предложенных.

1) Город под цифрой «4» стоял в 9-11 веках на торговом пути из варяг в греки.

2) Город по цифрой «2» был оккупирован немецкими войсками в период Великой отечественной войны.

3) Город под цифрой «3» в 16 веке входил в состав Великого княжества Московского.

4) Город под цифрой «1» в 9-11 веках был племенным центром радимичей.

5) Под цифрой «4» обозначен город Киев.

6) На карте обозначено название племени, в результате столкновения с которым в 972-м году скончался князь Святослав.

Карта 3.

Походы князя Святослава
(964-972 гг.).

Карта 3. Походы князя Святослава (964-972 гг.).

Знать на карте:

Государства:

Киевская Русь, Волжская Булгария, Хазарский каганат, Византийская империя, Болгарское царство.

Племенные союзы:

поляне, словене ильменские, вятичи, печенеги.

Города:

Киев, Саркел (Белая Вежа), Булгар, Итиль, Тмутаракань, Переяславец на Дунае, Константинополь, Доростол





13. Укажите век, в котором происходили события, обозначенные на схеме. Ответ запишите словом.

14. Напишите имя князя, погибшего в месте, обозначенном на схеме цифрой «3».

15. Напишите название города, обозначенного на схеме цифрой «1».

16. Какие суждения, относящиеся к исторической ситуации, обозначенной на схеме, являются верными? Выберите три суждения из шести предложенных.

Запишите в таблицу цифры, под которыми они указаны.

- 1) Князь, походы которого обозначены на схеме, планировал перенести столицу Древнерусского государства.
- 2) Последствием походов князя, обозначенных на схеме, стала раздробленность русских земель.
- 3) В ходе одного из походов, обозначенных на схеме, произошло первое столкновение русских и монгольских войск.
- 4) В городе, обозначенном на схеме цифрой «2», был заключён первый письменный договор Древнерусского государства.
- 5) В ходе одного из походов, обозначенных на схеме, князем и его дружиной был разгромлен Хазарский каганат.
- 6) Во время походов князя, которые обозначены на схеме, государством управляла его жена.



13. Укажите век, в котором происходили события, обозначенные на схеме. Ответ запишите словом.

ДЕСЯТЫЙ.

14. Напишите имя князя, погибшего в месте, обозначенном на схеме цифрой «3». **СВЯТОСЛАВ.**

15. Напишите название города, обозначенного на схеме цифрой «1». **КИЕВ.**

16. Какие суждения, относящиеся к исторической ситуации, обозначенной на схеме, являются верными? Выберите три суждения из шести предложенных. Запишите в таблицу цифры, под которыми они указаны.

- 1) Князь, походы которого обозначены на схеме, планировал перенести столицу Древнерусского государства.
- 2) Последствием походов князя, обозначенных на схеме, стала раздробленность русских земель.
- 3) В ходе одного из походов, обозначенных на схеме, произошло первое столкновение русских и монгольских войск.
- 4) В городе, обозначенном на схеме цифрой «2», был заключён первый письменный договор Древнерусского государства.
- 5) В ходе одного из походов, обозначенных на схеме, князем и его дружиной был разгромлен Хазарский каганат.
- 6) Во время походов князя, которые обозначены на схеме, государством управляла его жена.

Карта 4.

Киевская Русь в 957-1054 гг.

Карта 4. Киевская Русь в 957-1054 гг.

Знать на карте:

Государства:

Киевская Русь, Волжская Булгария, Византийская империя, Польша, Венгрия.

Племена:

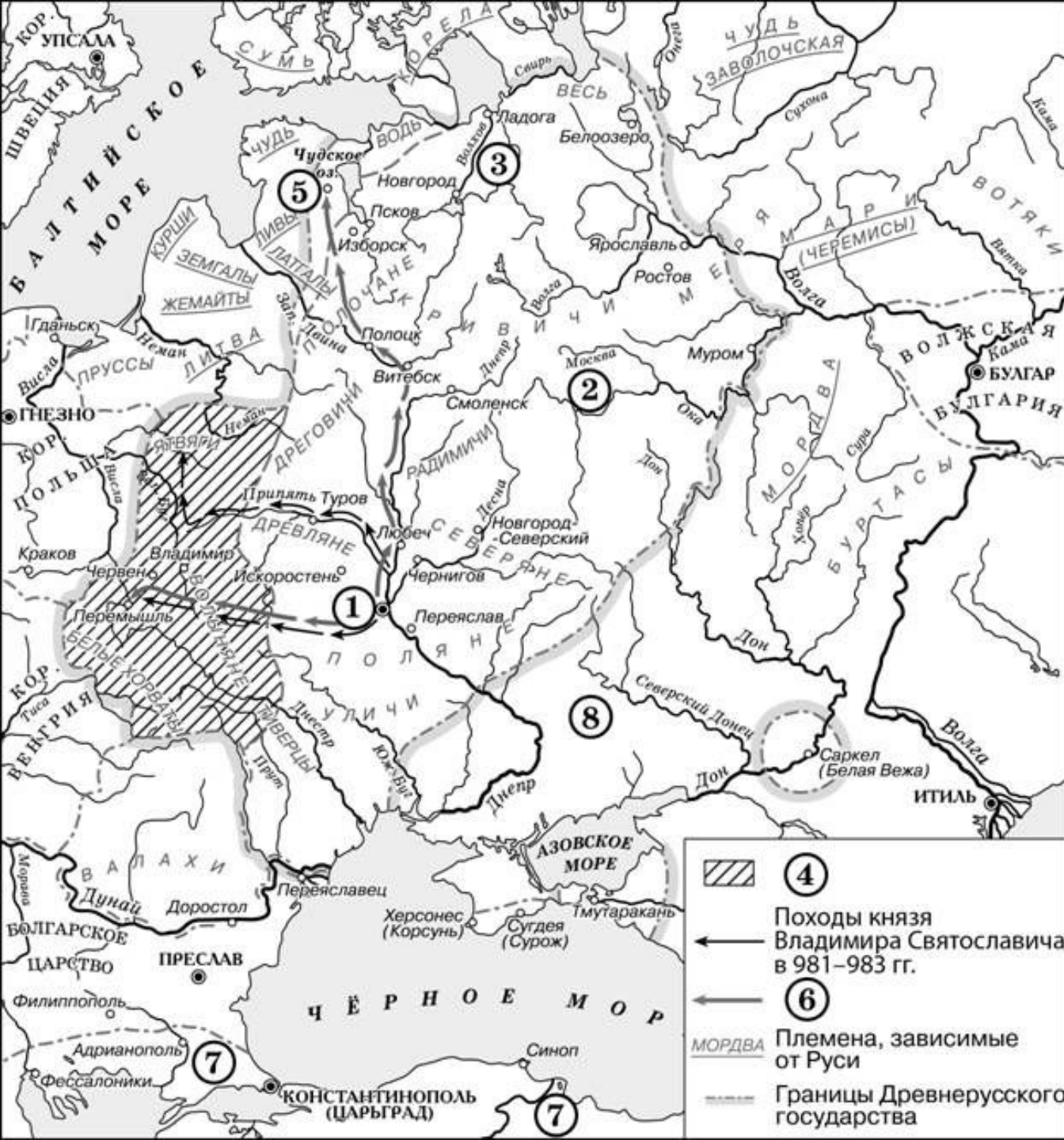
Словене ильменские, поляне, вятичи, древляне, печенеги

Города:

Киев, Чернигов, Переяславль, Новгород-Северский, Новгород, Ладога, Смоленск, Ярославль, Ростов, Муром, Полоцк, Брест (Берестье), Юрьев, Перемышль, Саркел (Белая Вежа), Итиль, Тмутаракань, Корсунь, Константинополь,



УЛИЧИ	Племенные объединения восточных славян в IX-X вв.		Земли, вошедшие в состав Древнерусского государства при Ярославе Мудром
ЭСТЫ	Племенные объединения восточных славян в IX-X вв.		Походы князя Владимира
	Территория древнерусского государства в 972 г.		Походы князя Ярослава
	Земли, вошедшие в состав Древнерусского государства при Владимире I		Границы Древнерусского государства к 1054 г.
			Территории, осваиваемые в XI в.



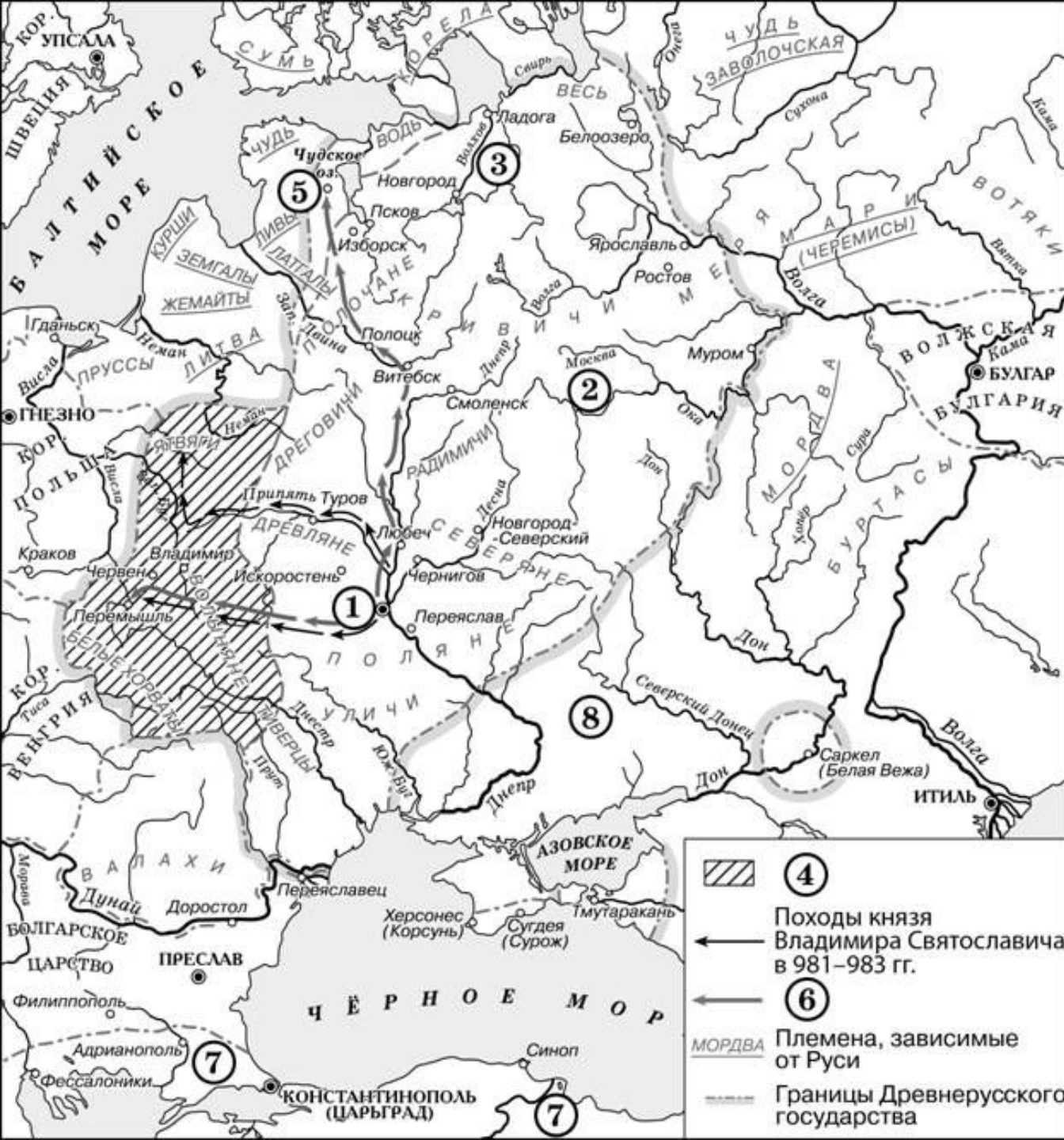
13. Укажите название города, обозначенного на схеме цифрой «1».

14. Укажите название восточнославянского союза племен, территория которого обозначена на схеме цифрой «2».

15. Назовите князя, заключившего первый известный письменный договор с государством, обозначенным на карте цифрой «7».

16. Какие суждения, относящиеся к исторической ситуации, обозначенной на схеме, являются верными? Выберите три суждения из шести предложенных. Запишите в таблицу цифры, под которыми они указаны.

- 1) Киевский князь Игорь погиб во время восстания восточнославянского племенного союза, название которого указано на данной схеме.
- 2) Цифрой «3» на схеме обозначена территория восточнославянского племенного союза ильменских словен.
- 3) Цифрой «6» в легенде схемы обозначены направления походов киевского князя Святослава.
- 4) Город, обозначенный на схеме цифрой «5», расположен в том месте, где теперь находится Санкт-Петербург.
- 5) С середины XI в. половецкие племена кочевали в районе, обозначенном на схеме цифрой «8».
- 6) Территория, обозначенная в легенде схемы цифрой «4», вошла в состав Древнерусского государства при Владимире Мономахе.



13. Укажите название города, обозначенного на схеме цифрой «1». **КИЕВ.**

14. Укажите название восточнославянского союза племен, территория которого обозначена на схеме цифрой «2». **ВЯТИЧИ.**

15. Назовите князя, заключившего первый известный письменный договор с государством, обозначенным на карте цифрой «7». **ОЛЕГ.**

16. Какие суждения, относящиеся к исторической ситуации, обозначенной на схеме, являются верными? Выберите три суждения из шести предложенных. Запишите в таблицу цифры, под которыми они указаны.

1) Киевский князь Игорь погиб во время восстания восточнославянского племенного союза, название которого указано на данной схеме.

2) Цифрой «3» на схеме обозначена территория восточнославянского племенного союза ильменских словен.

3) Цифрой «6» в легенде схемы обозначены направления походов киевского князя Святослава.

4) Город, обозначенный на схеме цифрой «5», расположен в том месте, где теперь находится Санкт-Петербург.

5) С середины XI в. половецкие племена кочевали в районе, обозначенном на схеме цифрой «8».

6) Территория, обозначенная в легенде схемы цифрой «4», вошла в состав Древнерусского государства при Владимире Мономахе.

Карта 5.

Карта 5. Киевская Русь в 9-11
веках (обобщающая).



Карта 5. Киевская Русь в 957-1054 гг.

Знать на карте:

Государства:

Киевская Русь, Волжская Булгария, Византийская империя, Хазарский каганат, Византийская империя, Польша, Венгрия, Швеция.

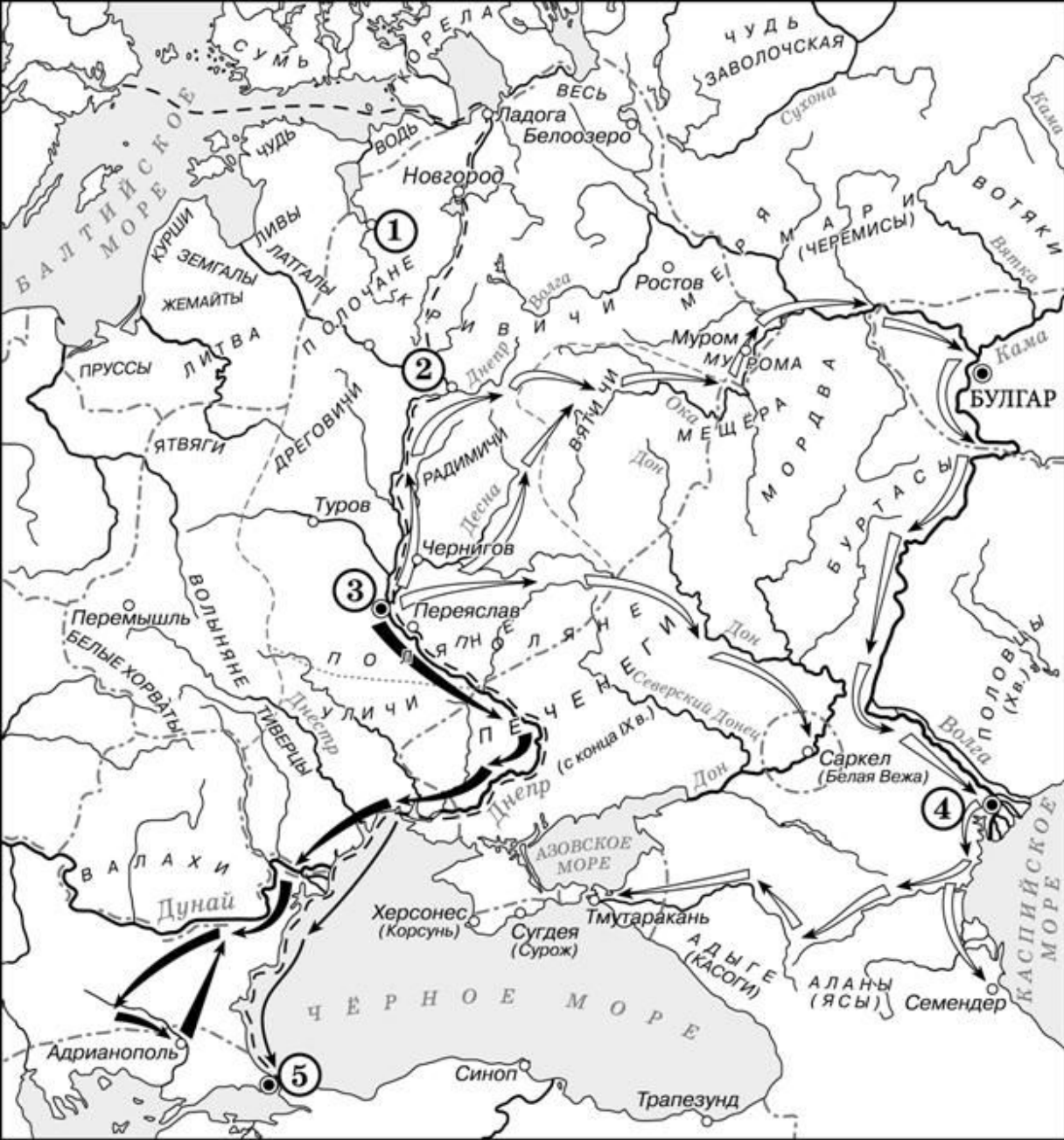
Племена:

Словене ильменские, кривичи, поляне, вятичи, древляне, печенеги, половцы.

Города:

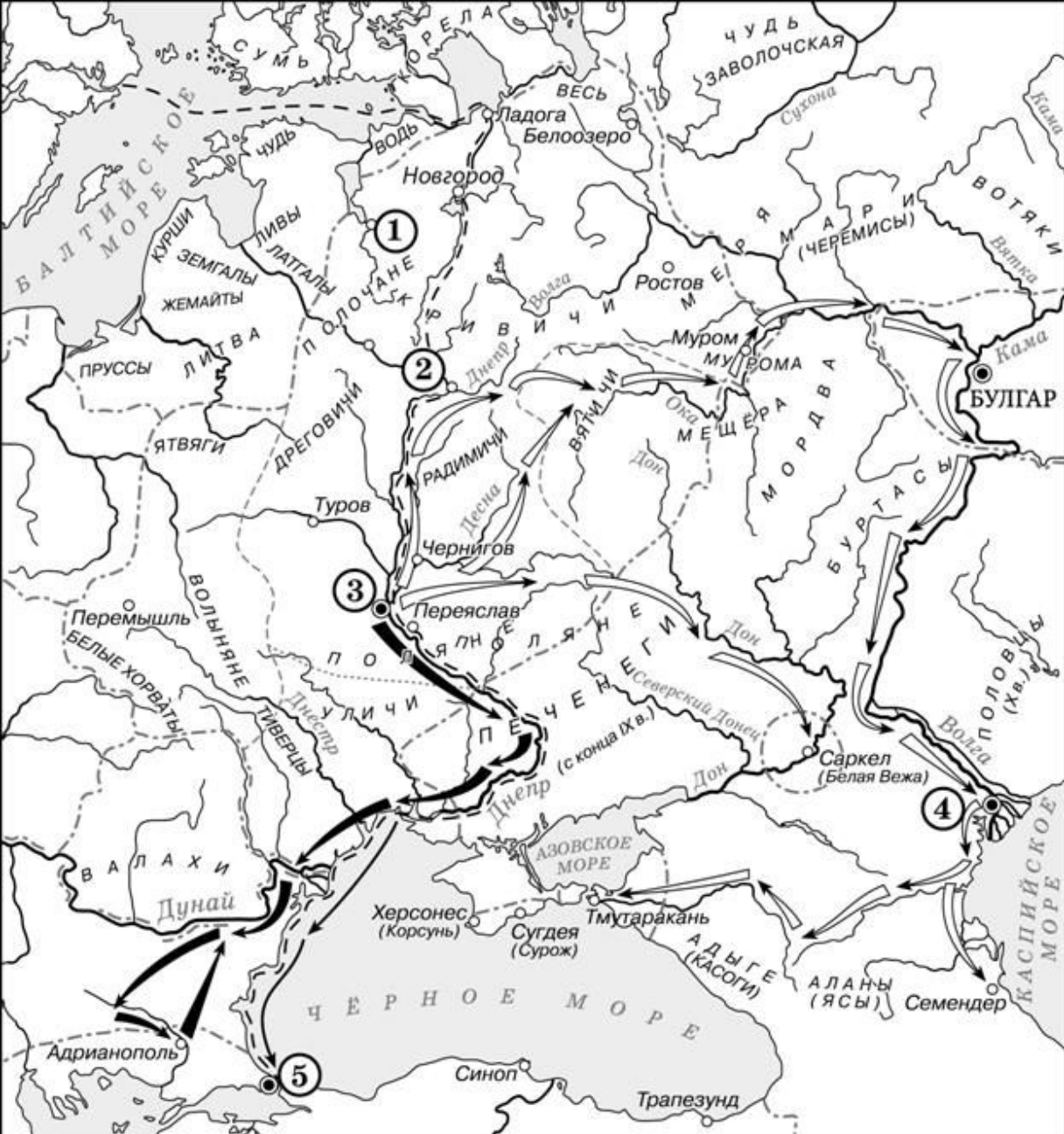
Киев, Искоростень, Чернигов, Переяславль, Новгород-Северский, Любеч, Новгород, Белоозеро, Псков, Изборск, Ладога, Смоленск, Ярославль, Ростов, Муром, Полоцк, Брест (Берестье), Юрьев, Перемышль, Саркел (Белая Вежа), Итиль, Тмутаракань, Корсунь, Константинополь, Доростол.

На карте возможны военные походы (Олег, Игорь, Святослав, Владимир, Ярослав Мудрый), торговые пути (Путь из варяг в греки, Великий волжский путь).



 Походы русских князей
 Торговый путь
 Союзы славянских племён, соседние с ними племена и племенные объединения

13. Заполните пропуск в предложении: «Киевский князь _____ в начале X в. совершил успешный поход по маршруту, обозначенному на схеме тонкими чёрными стрелками».
14. Укажите название города, обозначенного на схеме цифрой «1».
15. Укажите название государства, столица которого обозначена цифрой «5», в период отражённых на схеме событий.
16. Какие суждения, относящиеся к исторической ситуации, обозначенной на схеме, являются верными? Выберите три суждения из шести предложенных. Запишите в таблицу цифры, под которыми они указаны.
- 1) На схеме обозначен город, в котором согласно «Повести временных лет» было принято решение о приглашении варяжских князей.
 - 2) Цифрой «2» на схеме обозначен город Москва.
 - 3) Походы, обозначенные на схеме широкими чёрными стрелками и белыми стрелками, относятся к деятельности одного и того же киевского князя.
 - 4) Цифрой «4» на схеме обозначена столица Волжской Булгарии.
 - 5) Торговый путь, обозначенный на схеме, известен в истории как путь «из варяг в греки».
 - 6) Киевский князь Игорь погиб во время восстания восточнославянского племенного союза, центр которого обозначен на схеме цифрой «3».



Походы русских князей
 Торговый путь
 Союзы славянских племён, соседние с ними племена и племенные объединения

13. Заполните пропуск в предложении: «Киевский князь _____ в начале X в. совершил успешный поход по маршруту, обозначенному на схеме тонкими чёрными стрелками». **ОЛЕГ.**

14. Укажите название города, обозначенного на схеме цифрой «1». **ПСКОВ.**

15. Укажите название государства, столица которого обозначена цифрой «5», в период отражённых на схеме событий. **ВИЗАНТИЙСКАЯ ИМПЕРИЯ.**

16. Какие суждения, относящиеся к исторической ситуации, обозначенной на схеме, являются верными? Выберите три суждения из шести предложенных. Запишите в таблицу цифры, под которыми они указаны.

- 1) На схеме обозначен город, в котором согласно «Повести временных лет» было принято решение о приглашении варяжских князей.
- 2) Цифрой «2» на схеме обозначен город Москва.
- 3) Походы, обозначенные на схеме широкими чёрными стрелками и белыми стрелками, относятся к деятельности одного и того же киевского князя.
- 4) Цифрой «4» на схеме обозначена столица Волжской Булгарии.
- 5) Торговый путь, обозначенный на схеме, известен в истории как путь «из варяг в греки».
- 6) Киевский князь Игорь погиб во время восстания восточнославянского племенного союза, центр которого обозначен на схеме цифрой «3».



13. Укажите век, когда произошли события, обозначенные на схеме стрелками. Ответ запишите словом.

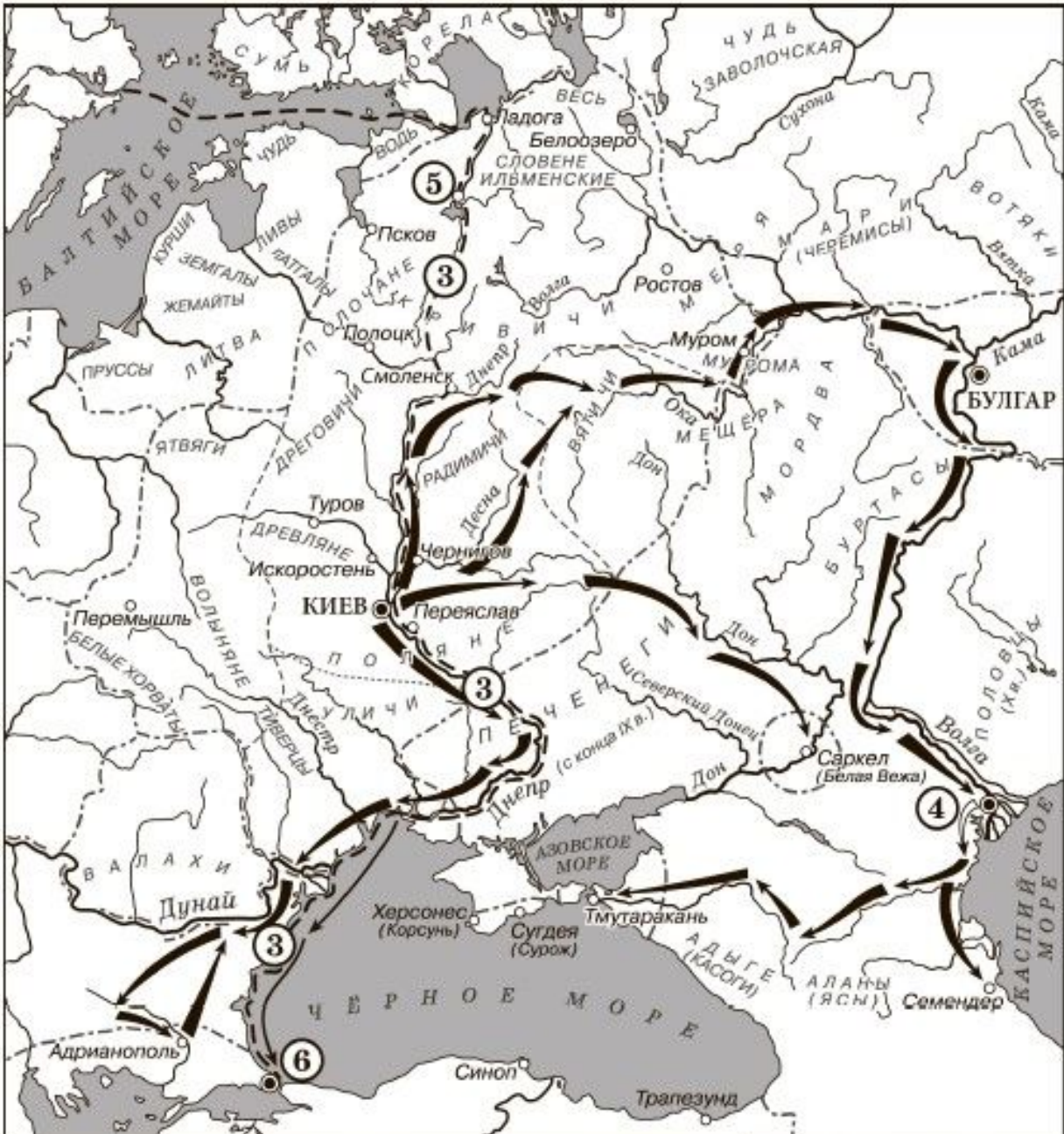
14. Укажите имя князя, походы которого обозначены в легенде схемы цифрой «1».

15. Укажите название торгового пути, обозначенного на схеме цифрой «3».

16. Какие суждения, относящиеся к исторической ситуации, обозначенной на схеме, являются верными? Выберите три суждения из шести предложенных.

Запишите в таблицу цифры, под которыми они указаны.

- 1) Цифрой «5» на схеме обозначен город Новгород.
- 2) В ходе событий, обозначенных на схеме стрелками, русское войско взяло город Перемышль.
- 3) В городе, обозначенном на схеме цифрой «6», согласно Повести временных лет, принял крещение киевский князь Владимир.
- 4) На схеме обозначен политико-административный центр восточнославянского племенного союза древлян.
- 5) Цифрой «4» на схеме обозначена столица Волжской Булгарии.
- 6) Киевский князь Олег совершил поход, обозначенный в легенде схемы цифрой «2».



13. Укажите век, когда произошли события, обозначенные на схеме стрелками. Ответ запишите словом. **ДЕСЯТЫЙ.**

14. Укажите имя князя, походы которого обозначены в легенде схемы цифрой «1». **СВЯТОСЛАВ.**

15. Укажите название торгового пути, обозначенного на схеме цифрой «3». **ИЗ ВАРЯГ В ГРЕКИ.**

16. Какие суждения, относящиеся к исторической ситуации, обозначенной на схеме, являются верными? Выберите три суждения из шести предложенных. Запишите в таблицу цифры, под которыми они указаны.

- 1) Цифрой «5» на схеме обозначен город Новгород.
- 2) В ходе событий, обозначенных на схеме стрелками, русское войско взяло город Перемышль.
- 3) В городе, обозначенном на схеме цифрой «6», согласно Повести временных лет, принял крещение киевский князь Владимир.
- 4) На схеме обозначен политико-административный центр восточнославянского племенного союза древлян.
- 5) Цифрой «4» на схеме обозначена столица Волжской Булгарии.
- 6) Киевский князь Олег совершил поход, обозначенный в легенде схемы цифрой «2».

Походы русских князей



Границы государств

 Союзы славянских племён,
 соседние с ними племена
 и племенные объединения