

Интерактивная  
игра по математике

# «Самый умный»

## 2 класс

*Автор: Донцова Наталья  
Владимировна, учитель  
начальных классов МБОУ  
«ООШ № 35» Киселевского  
городского округа*

**ССЫЛКИ НАЧАТЬ ИГРУ**





# Интерактивная игра



РАЗМЫШЛ  
ЯЕВО



РЕШАЛКИН  
О



ЗАДАЧКИН  
О



СЧИТАЛКИ  
НО



ЗАГАДКИНО

|   |   |   |   |   |
|---|---|---|---|---|
| 1 | 2 | 3 | 4 | 5 |
| 0 | 0 | 0 | 0 | 0 |
| 1 | 2 | 3 | 4 | 5 |
| 0 | 0 | 0 | 0 | 0 |
| 1 | 2 | 3 | 4 | 5 |
| 0 | 0 | 0 | 0 | 0 |
| 1 | 2 | 3 | 4 | 5 |
| 0 | 0 | 0 | 0 | 0 |
| 1 | 2 | 3 | 4 | 5 |
| 0 | 0 | 0 | 0 | 0 |





# Размышляево



**В корзине три яблока. Как поделить их между тремя детьми так, чтобы одно яблоко осталось в корзине?**

**Ответ: Отдать одно яблоко вместе с корзиной**





# Размышляево



**Таня и Валя собирали грибы. Вместе они нашли на 5 грибов больше, чем Аня, и на 4 гриба больше, чем Валя. Сколько всего грибов собрали девочки?**

**Ответ: Вместе они нашли 9 грибов. Если 2 девочки нашли на 5 грибов больше, чем Таня, значит, эти 5 грибов собрала Валя. Если вместе они нашли на 4 гриба больше, чем Валя, значит эти 4 гриба собрала Таня.  $5+4=9$  грибов**





# Размышляево



**Что тяжелее-3 яблока или 5 груш, если 2 яблока весят столько же, сколько 3 груши?**

**Ответ: Весы находятся в равновесии, если на одной из чаш находятся 2 яблока, а на другой-3 груши. То есть одно яблоко весит столько, сколько полторы груши. На одну из чаш весов добавляем яблоко = полторы груши. А на другую-2 груши.**

**5 груш весят больше чем 3 яблока.**





# Размышляево



*Сколько лет сиднем просидел на печи Илья Муромец? Известно, что если бы он просидел ещё 2 раза по столько, то его возраст составил бы наибольшее двузначное число.*



*Ответ: 33 года*






# Размышляево



**Сколько лет моему дедушке, если через 15 лет мы будем отмечать его 70-летие?**

**Ответ: дедушке 55 лет.**





# Решалкино



Гном Забывалка учился писать цифры заострённой палочкой на песке. Только он успел нарисовать 5 цифр: **1 2 3 4 5**

как увидел большую собаку, испугался и убежал. Вскоре в это место пришёл другой гном Путалка. Он тоже взял палочку и начертил вот что:

$$1\ 2\ 3\ 4\ 5 = 60$$

Вставь между цифрами плюсы таким образом, чтобы получившийся пример был решён правильно.



Ответ:  $12 + 3 + 45 = 60$





# Решалкино



**Барон Мюнхгаузен пересчитал число волшебных волос в бороде старика Хоттабыча. Оно оказалось равным сумме наименьшего трёхзначного числа и наибольшего двузначного. Это какое число?**

**Ответ:  $100 + 99 = 199$**





# Решалкино



**Портной имеет кусок сукна в 16 м, от которого он ежедневно отрезает по 2 м. через сколько дней он отрежет последний кусок?**

**Ответ: через 7 дней**

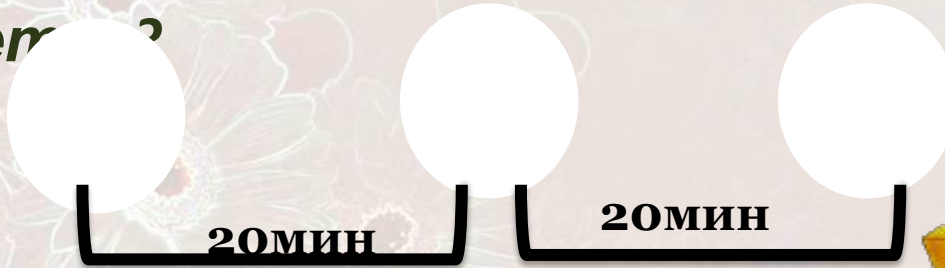




# Решалкино



Врач прописал Коле 3 таблетки, указав, что каждую таблетку надо принимать через 20 минут. На какое время хватит этих таблеток?





# Решалкино



**Наш Бараш – поэт отменный  
Пишет в день по три поэмы.  
Сосчитай дружок смелее –  
Сколько пишет он в неделю?**



**Ответ:  $3 \times 7 = 21$  поэма**






# Решалкино



**На обед пришли к Совунье  
Ёжик, Нюша и Бараш,  
Крош, Копатыч и Кар-Карыч,  
Биби с Пином и Лосяш.  
По четыре пирожка  
испекла им хлопотунья.  
Сколько пирожков всего  
подала на стол Совунья?**



**Ответ:  $4 \times 10 = 40$  пирожков**





# Задачкино



**Когда Пятачок подарил друзьям 10 воздушных шариков, у него осталось ещё 8 шариков. Сколько воздушных шариков было у Пятачка сначала?**



**Ответ: 18 шариков было у Пятачка**






# Задачкино



**Кот Васька – рыболов  
Притащил большой улов:  
Больших 15 окуней,  
В 3 раза меньше карасей.  
Какой же у кота улов?  
Кто ответить нам гото**



**Ответ:  $15 : 3 + 15 = 20$**





# Задачкино

Достала обезьяна 42 банана.  
Жаль, теперь придётся их  
Поделить на шестерых.  
Сколько бананов достанется каждой обезьяне?



Ответ:

7





# Задачкино



**Два утёнка увлечённо  
Делят в миске макаронны  
Их обычный рацион-  
18 макарон.**

**Спорам утиным  
Конец положила.**

**Сколько макарон досталось каждому?**

**Ответ:  $18 : 2 = 9$**





# Задачкино



*К двум зайчатам в час обеда*

*Прискакали три соседа.*

*В огороде зайцы сели*

*И по три морковки съели.*

*Кто считать, ребята, ловок?*

*Сколько съедено морковок?*

**Ответ:  $(2 + 3) \times 3 = 15$**






# Считалкино



**На дереве сидело  
8 воробьёв, а синиц в 2 раза меньше.  
Сколько было синиц?**

**Ответ: 4 синицы**





# Считалкино



**Белка на ветках сушила грибы.  
Грибов – 18, а веточек – 3.  
Поскольку грибов, угадай-ка,  
На ветку нанижет хозяйка?**



**Ответ: по 6 грибов.**





# Считалкино



**У Камы 4 котёнка.**

**У Мурки – на 2 котёнка меньше.**

**А у Василиски столько котят, сколько**

**У Камы и Мурки вместе.**

**Сколько котят у Василиски?**



**Ответ: 6 котят.**






# Размышляево



**На лестнице 9 ступенек. На какую ступеньку надо встать, чтобы оказаться посередине лестницы?**

**Ответ: надо встать на 5 ступеньку?**





# Считалкино



**Сшили мы сапожки  
Для сороконожки.  
Сколько пар сапожек  
Нужны для сороконожки?**



**Ответ:  $40:2=20$  пар**





# Загадкино



**Петр - сын Сергея, а Сергей – сын Федора. Кем приходится Петр Федору?**

**Ответ: Петр – внук Федора.**






# Загадкино



**В голове она одна,  
А в кармане сразу две,  
В барабане целых три,  
Повнимательней смотри!**

**Ответ: буква «А»**






# Загадкино



Я приношу с собою боль,  
В лице большое искаженье,  
А «**Ф**» на «**П**» заменишь коль,  
То превращаюсь в знак сложенья.

Ответ: **Ф**ЛЮС - **П**ЛЮС






# Загадкино



**Он грызун, но очень мелкий  
И только чуть побольше белки.  
А заменишь «У» на «О»,  
Будет круглое число.**

**Ответ: СУРОК - СОРОК**






# Загадкино



**Как пятью пятёрками выразить  
100?**

**Ответ:  $(5+5+5+5) \times 5 = 100$**





# ИНТЕРНЕТ - РЕСУРСЫ

[http://img-fotki.yandex.ru/get/9349/20573769.52/0\\_94204\\_946b02f5\\_L.png](http://img-fotki.yandex.ru/get/9349/20573769.52/0_94204_946b02f5_L.png)

цветок с божьей коровкой в левом углу

[http://forchel.ru/uploads/posts/2011-08/1312737308\\_5.jpg](http://forchel.ru/uploads/posts/2011-08/1312737308_5.jpg)

забор с подсолнухами

<http://papus666.narod.ru/clipart/p/pods/pods04.png>

подсолнухи (цветок для божьей коровки)

<http://gifsgifsparavoce.files.wordpress.com/2012/02/abelhinha031.png?w=630>

божья коровка

[http://img-fotki.yandex.ru/get/6306/162549541.6/0\\_744cd\\_83128e8d\\_XL](http://img-fotki.yandex.ru/get/6306/162549541.6/0_744cd_83128e8d_XL)

цветок подсолнуха

<http://s008.radikal.ru/i306/1011/71/1a06c40bc806.jpg>

картинка для создания фона





# АВТОР ШАБЛОНА:

**Ранько Елена Алексеевна**

учитель начальных классов

МАОУ лицей №21

г. Иваново

Сайт: <http://elenaranko.ucoz.ru/>

**Слайд не удалять!**

