

Историческая ВИКТОРИНА

[Начать игру](#)



Уровен ь

Вопросы

Понятие

1

2

3

4

5

Убрать
лишнее

1

2

3

4

5

Карта

1

2

3

4

5

Культура

1

2

3

4

5

Отрывки

1

2

3

4

5

1 балл

Назовите понятие:

глубокие, качественные изменения в обществе, экономике, мировоззрении, науке, культуре и т.

Д.

ОТВЕТ



**Ответ:
РЕВОЛЮЦИЯ**



2 балла

Назовите понятие:

совокупность всех денежных и натуральных повинностей крестьян и посадских людей в пользу государства

ОТВЕТ



**Ответ:
ТЯГЛО**



3 балла

Назовите понятие:

одна из первых славянских азбук, по предположению, созданная славянским просветителем Кириллом.

ОТВЕТ



**Ответ:
ГЛАГОЛИЦА**



4 балла

Назовите понятие:

часть погребального обряда у восточных славян периода язычества (до XI в.), сопровождалась военными играми, плясками, песнями, пиром. После христианизации сохранилась в виде поминальных песен и пира.

ОТВЕТ



**Ответ:
ТРИЗНА**



5 баллов

Назовите понятие:

метод планового ведения хозяйства в СССР, заключающийся в соизмерении затрат на производство продукции с результатами хозяйственной деятельности на основе самоокупаемости, самофинансирование, самоуправление.

ОТВЕТ



**Ответ:
ХОЗРАСЧЕТ**



1 балл

Выберите два ответа, которые не относятся к событиям, явлениям древнерусского государства:

1. Младшая дружина
2. Вече
3. Смерд
4. Великокняжеский ярлык
5. Полюдье
6. Баскак

ОТВЕТ



**Ответ:
4 и 6**



2 балла

Ниже приведён список терминов. Все они, за исключением двух, относятся к событиям, явлениям XI в.:

1. Верфь
2. Люди
3. Баскаки
4. Закупы
5. Вира
6. Опричнина

ОТВЕТ



Ответ:
3 и 6



3 балла

Ниже приведён список терминов. Все они, за исключением двух, относятся к событиям, явлениям XVII в.:

1. Судебник
2. Соборное уложение
3. «Кружок ревнителей древнего благочестия»
4. Стоглавый собор
5. Старообрядчество
6. «Семибоярщина».

ОТВЕТ



**Ответ:
1 и 4**



4 балла

Ниже приведён список названий (терминов). Все они, за исключением двух, обозначают представителей различных течений общественно-политической мысли России XIX в.:

1. Трудовики
2. Народники
3. Западники
4. Октябристы
5. Славянофилы
6. Декабристы

ОТВЕТ



Ответ:
1 и 4



5 баллов

Ниже приведён список терминов. Все они, за исключением двух, относятся к событиям (явлениям), происходившим в СССР в 1930-е гг.:

1. Пятилетка
2. Раскулачивания
3. Трудодни
4. Многопартийность
5. НЭП
6. Стахановцы

ОТВЕТ



**Ответ:
4 и 5**



1 балл

Как называл летописец Нестор древний речной путь, обозначенный на схеме цифрой «1».

ОТВЕТ



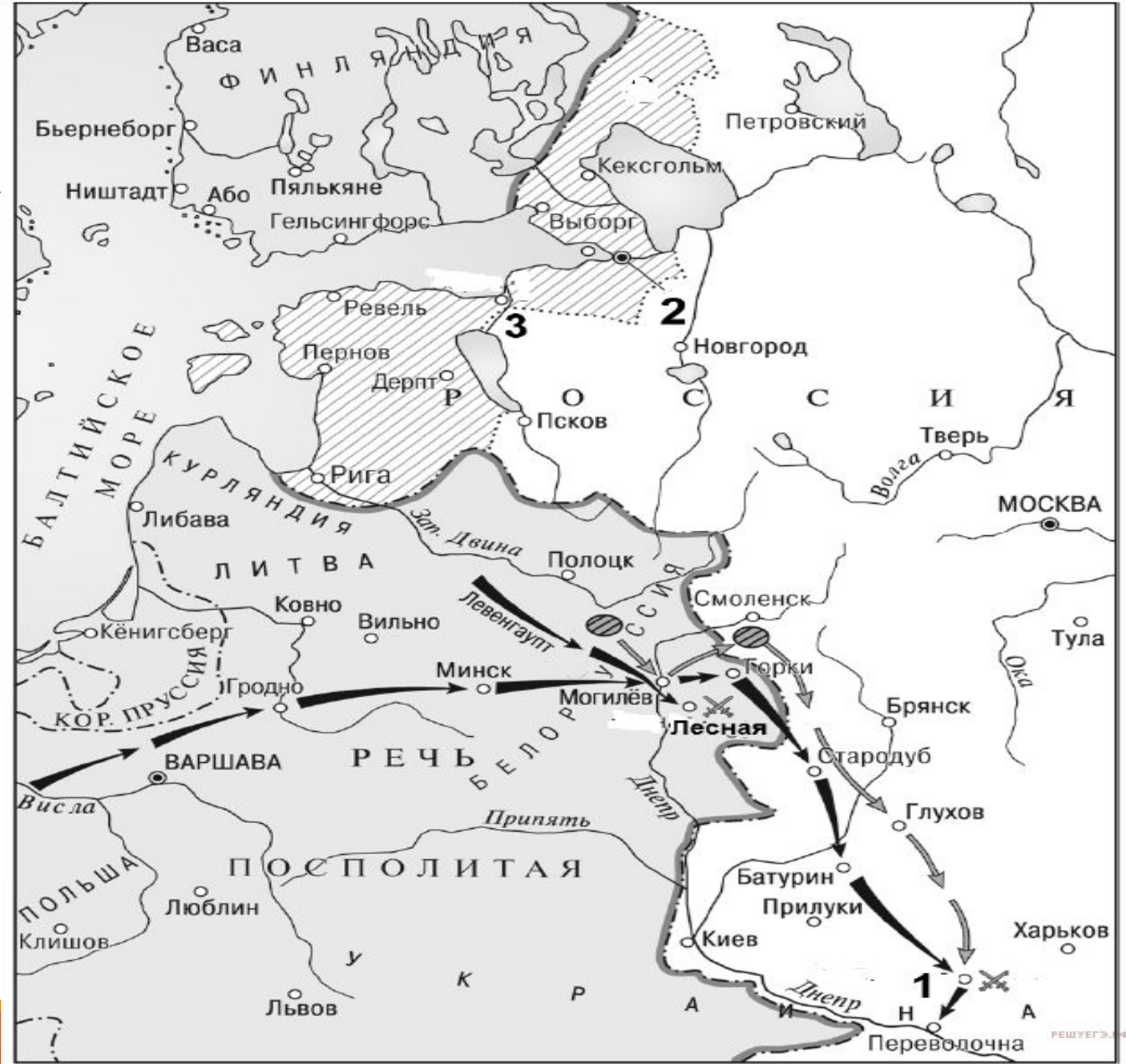
**Ответ:
Из варяг в
греки**



2 балла

Кто был правителем России в период войны, события которой обозначены на схеме?

ОТВЕТ

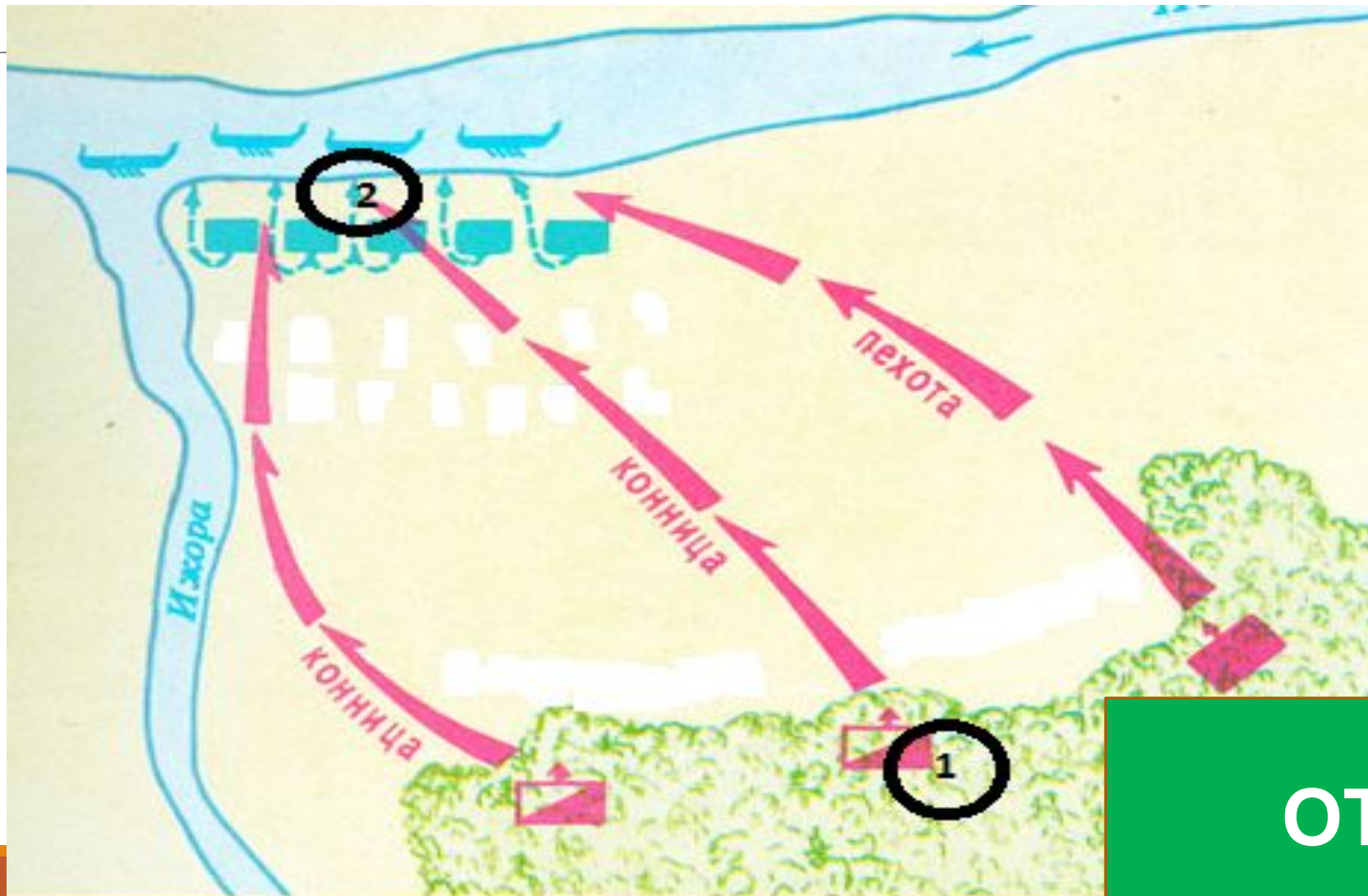


**Ответ:
Пётр
Первый**



3 балла

Назовите название битвы, представленной на схеме.



ОТВЕТ



**Ответ:
Невская
битва**



4 балла

Назовите период отечественной истории, в результате событий которого Российское государство утратило заштрихованные на схеме территории.

ОТВЕТ



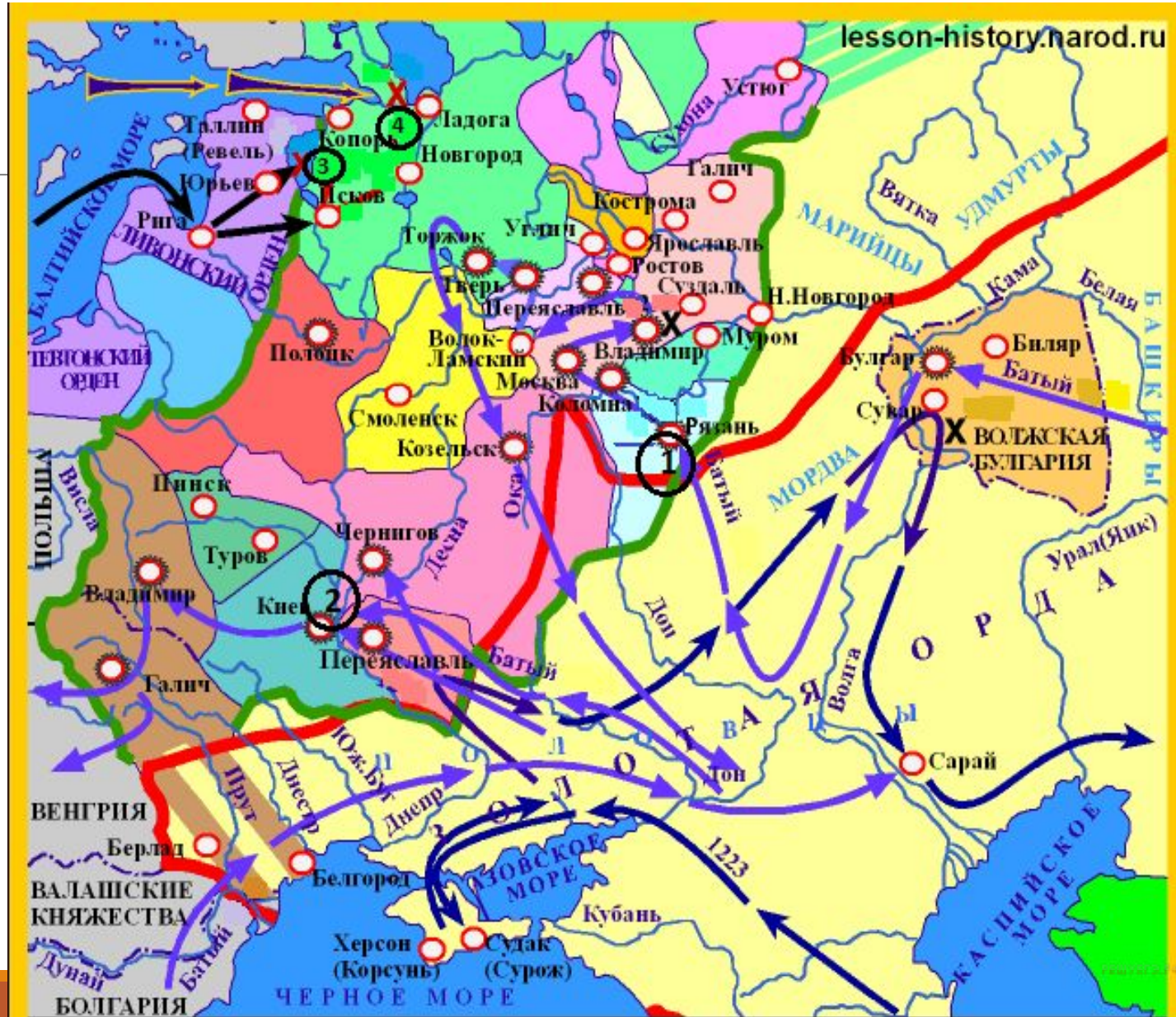
**Ответ:
Смута**



5 баллов

Назовите имя русского полководца XIII в., одержавшего победы над неприятелем в сражениях, отмеченных на карте цифрами «3» и «4».

ОТВЕТ



**Ответ:
Александр Невский**



1 балл

Литературные произведения	Характеристика
<p>А. Роман «Что делать?»</p> <p>Б. «Задонщина»</p> <p>В. «История о великом князе Московском»</p> <p>Г. «Поднятая целина»</p>	<ol style="list-style-type: none">1. Автор удостоен Нобелевской премии2. Событие, описанное в произведении, известно как Мамаево побоище3. Автор был одним из основателей движения народничества4. Автор был лишён советского гражданства5. Произведение является памятником общественной мысли русского государства второй половины XVI в.6. Произведение написано современником Александра Невского

ОТВЕТ



Ответ:
3251



2 балла

Выберите два верных суждения из предложенных.

Определите при каком из правителей построен монумент.

1. Изображенный монумент целиком посвящен юбилею крещения Руси.
2. Создание монумента относится к XVIII в.
3. Монумент находится в Великом Новгороде.
4. Монумент содержит элементы христианской символики.
5. Автор монумента скульптор Э. Фальконе.

ОТВЕТ




**Ответ:
3 и 4
Александр II**



3 балла

Укажите изображения, на которых представлены объекты, построенные в одном веке.



ОТВЕТ

Ответ:
1 и 4



4 балла

Какие суждения о данном значке являются верными?

Выберите два суждения из пяти предложенных:

1. Значок посвящён событиям 1942 г.
2. В сражении, юбилею которого посвящён значок, впервые в войне немцы были вынуждены перейти к обороне.
3. Значок был выпущен в период руководства СССР Н.С. Хрущёва.
4. В том же году, в котором был выпущен значок, состоялся первый полёт человека в космос.
5. В том же году, в котором произошло сражение, которому посвящён значок, был создан Государственный комитет обороны.



ОТВЕТ



**Ответ:
2 и 5**



5 баллов

Определите автора, название картины и век



ОТВЕТ



**Ответ:
В. И. Суриков;
«Боярыня
Морозова», 19
век.**



1 балл

В 1812 г. Россия нанесла поражение не только Наполеону, но и всему блоку европейских стран союзников Наполеона.

Объясните, почему крепостная и, как считается, отсталая Россия победила не только Францию, но и весь блок европейских государств, выступавших союзниками французов.

ОТВЕТ



Ответ:

- Мужество и героизм русских солдат и офицеров;
- Помощь партизанских движений;
- Высокий уровень военного искусства полководцев;
- Значительные силы Наполеона были отвлечены войной в Испании и континентальной блокадой в Англии.



2 балла

Период правления Александра II характеризуется как важный этап развития Российского государства.

Его внешняя и внутренняя политика были направлены как на укрепление России на мировой арене, так и на сведение к минимуму внутренних разногласий в стране.

Укажите политические направления, относящиеся к правлению императора.

ОТВЕТ



Ответ:

- отмена Крепостного права;
- реформы (судебная, цезура, городская, финансовая и т.д);
- русско – турецкая война.



3 балла

В XVII в. Россию сотрясали многочисленные народные выступления — современники нередко называли этот век «бунташным».

В частности, середина — вторая половина XVII в. были отмечены рядом массовых народных движений.

Назовите основные причины социальных движений середины — второй половины XVII в.

ОТВЕТ



Ответ:

- складывание посадского тяглого сословия (горожане заговорили о своих интересах во весь голос);
- усиление централизации и крепостничества, злоупотреблений власти;
- непосильность налогового бремени (строительство государства при скудности природных богатств, суровом климате, бедности и относительной малочисленности населения, низких урожаях и частых стихийных бедствиях).
- правительство иногда пускалось на откровенные финансовые авантюры (пример – замена серебряной монеты медной при той же стоимости);
- 1613-1633 гг. – 7 раз собирались чрезвычайные налоги (государству требовались средства для содержания армии и возвращения утраченных земель);
- правительство стремилось включить в состав тяглого населения все новые категории жителей.



4 балла

Лидер большевиков В. И. Ленин назвал реформу Столыпина «последним клапаном». Объясните, в чём причина неудачи Столыпинской реформы.



ОТВЕТ



Ответ:

Во-первых, Столыпин начал свои реформы с большим опозданием (не в 1861 году, а только в 1906).

Во-вторых, переход от натурального типа экономики к рыночному в условиях административно - командной системы возможен, прежде всего, на основе активной деятельности государства. При этом особую роль должна сыграть финансово-кредитная деятельность государства.

В-третьих, там, где господствовали административные принципы управления экономикой и уравнильные способы распределения, всегда будет существовать сильная оппозиция преобразованиям.

Но главной причиной было сопротивление крестьянства проведению новой аграрной политики.



5 баллов

В 1921 г. В. И. Ленин настоял на переходе от «военного коммунизма» к новой экономической политике. Однако в 1927 г. экономическая политика была свёрнута.

В чём заключались причины отказа от НЭПа?

Приведите не менее трёх объяснений.

ОТВЕТ



Плакат «Из России нэповской будет Россия социалистическая (Ленин)». Художник Г.Г. Клуцис. 1930 г.



Ответ:

- Политика НЭП, противоречила коммунистической идеологии т. к. поддерживала мелкое производство;
- Настроения руководящих кадров и большой части общества, которые рассматривали его как «временное отступление», «тактический маневр»;
- Кризис хлебозаготовок 1927 – 1928.

