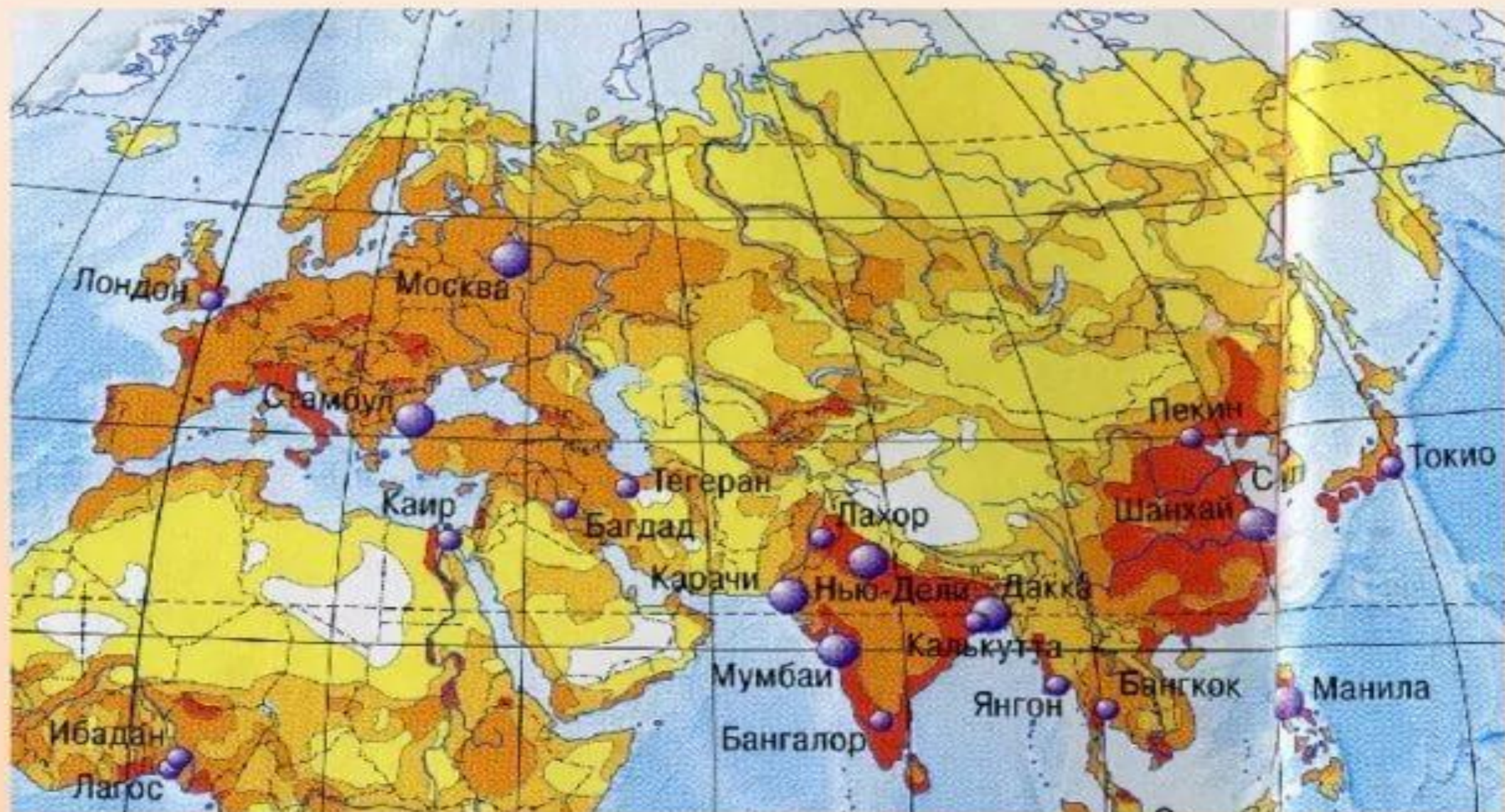


7 класс. **Народы Евразии. Страны.**  
читать стр.260 -262.

**Яндекс.** [Смотрите видеоурок по ссылке:](#)

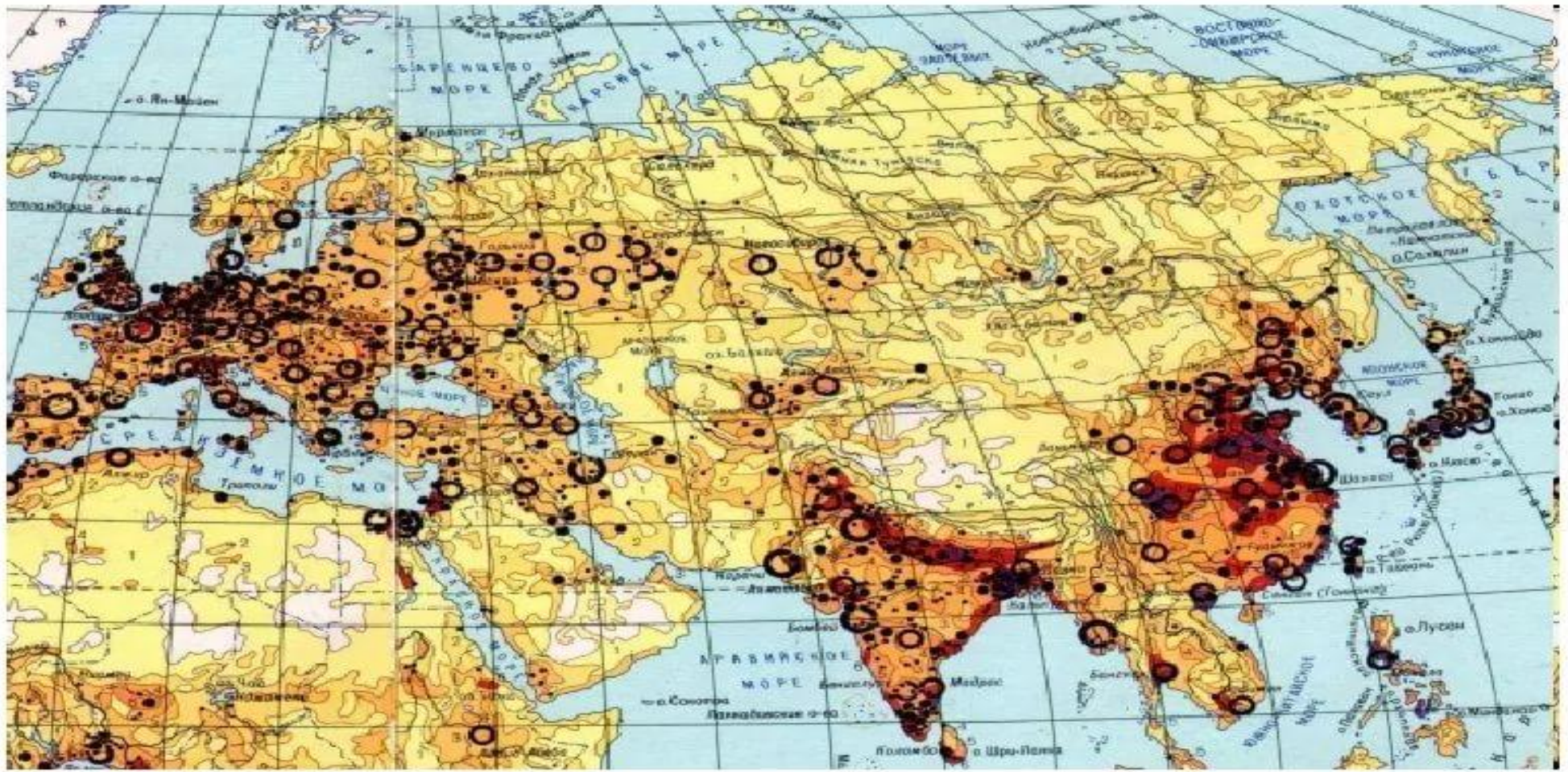
1. Видеоуроки по основным предметам школьной программы
2. Видеоуроки школьной программы, конспекты, тесты .....
3. Выбрал. География
4. Выбрал. 7 класс
5. Выбрал учебник. Коринская А.В.(черный)
6. Смотри П.66 (внизу)



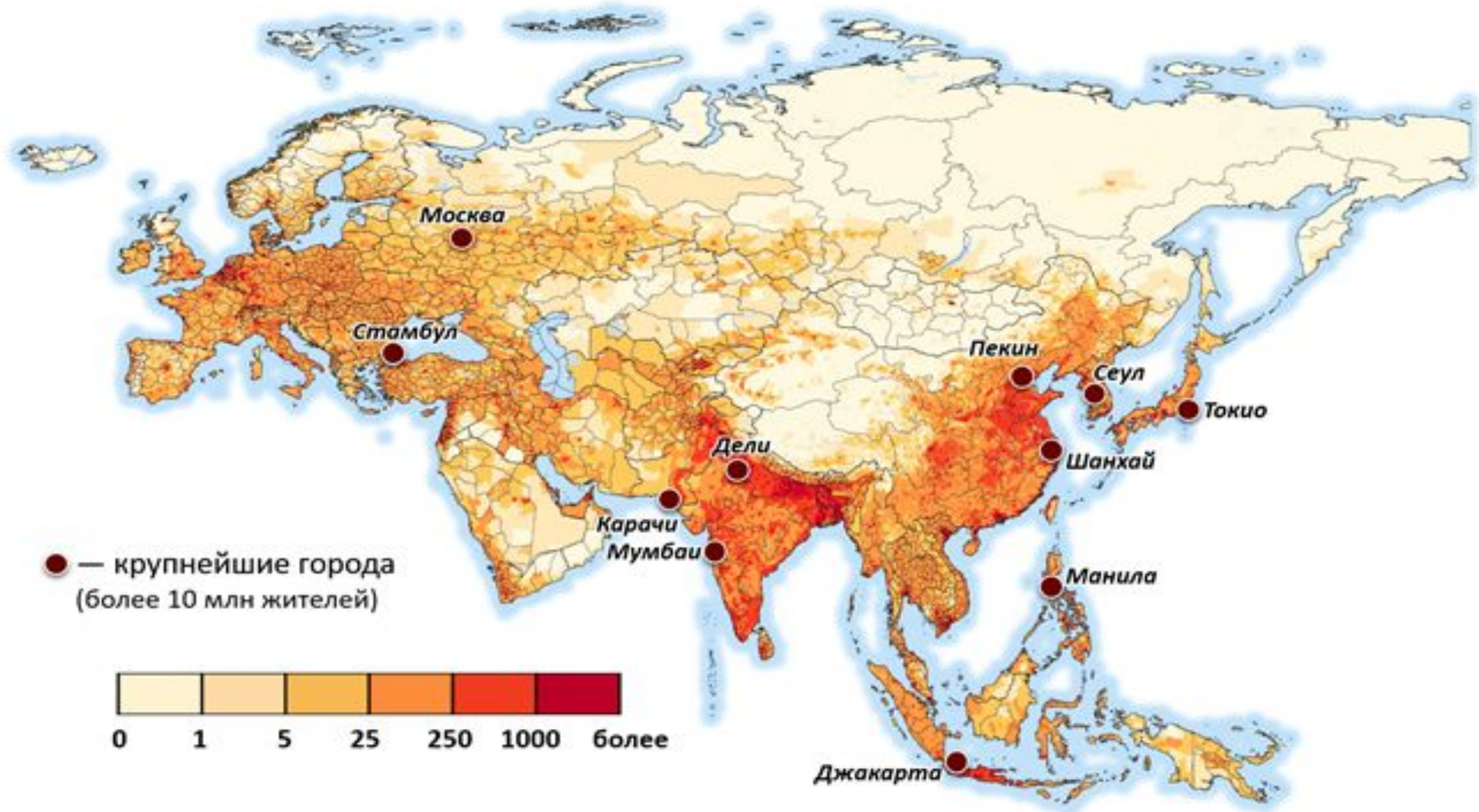
Плотность населения



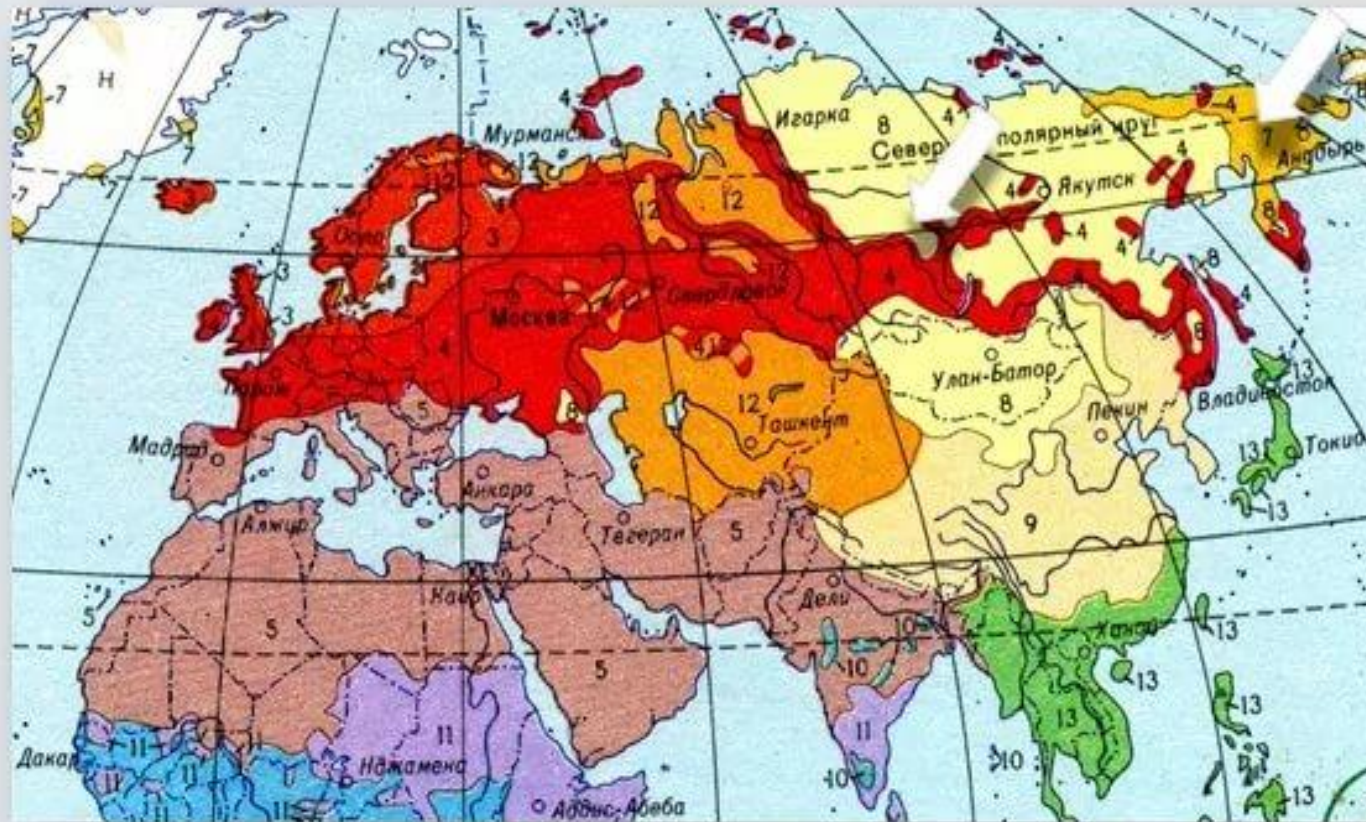
**ЗАДАНИЕ: По карте атласа выясни:**  
**Как размещено население по территории Евразии?**  
**Какие районы и почему имеют высокую плотность населения?**  
**Какие районы заселены слабо и почему?**



# Запомни города.



# Население Евразии



## ЕВРОПЕОИДНАЯ БОЛЬШАЯ РАСА:

- 3 – северная ветвь
- 4 – переходные и средне-европейские типы
- 5 – южная ветвь

## МОНГОЛОИДНАЯ БОЛЬШАЯ РАСА:

- 7 – эскимосы и палеоазиаты
- 8 – северо-азиатская ветвь
- 9 – восточно-азиатская ветвь

## ПЕРЕХОДНЫЕ И ПРОМЕЖУТОЧНЫЕ ТИПЫ МЕЖДУ БОЛЬШИМИ РАСАМИ:

- 12 – европеоидной и монголоидной
- 13 – монголоидной и австралоидной

# Евразия



# Страны Европы.

С. Иванов, izmeritel5@rambler.ru



# Страны Азии.





# Практическая работа (прислать учителю).

- 1. Изучите карту Евразии (политическую).
- 2. Назовите страны под № 1 - 20 (смотри следующий слайд).

## Образец выполнения.

7 «\_» кл. Ф.И. \_\_\_\_\_

«Страны Евразии.»

1 - ...

2 - ...

3 - .....

и.т.д.

Europe, c. 2003

