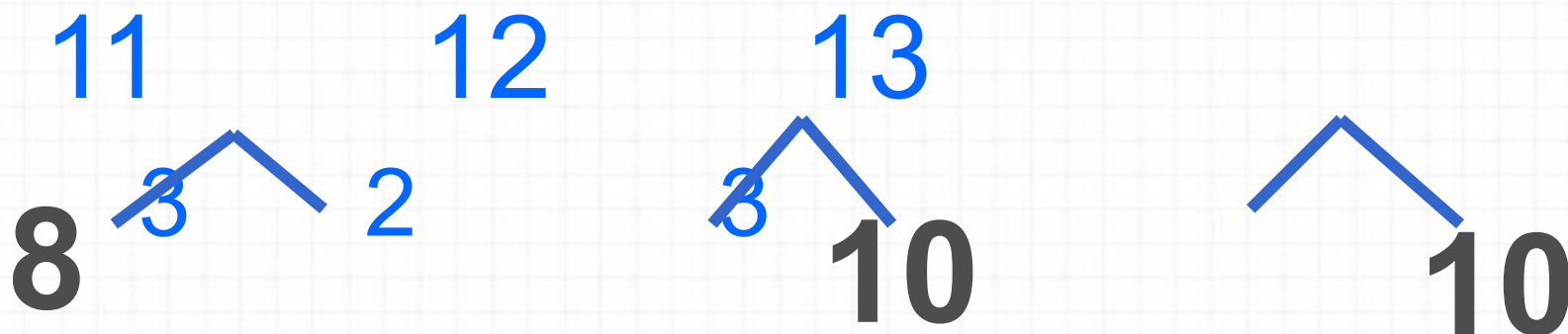



**СЛОЖЕНИЕ ОДНОЗНАЧНЫХ ЧИСЕЛ
С ПЕРЕХОДОМ ЧЕРЕЗ ДЕСЯТОК
ВИДА $\square + 4$**

- Найдите значение выражений:

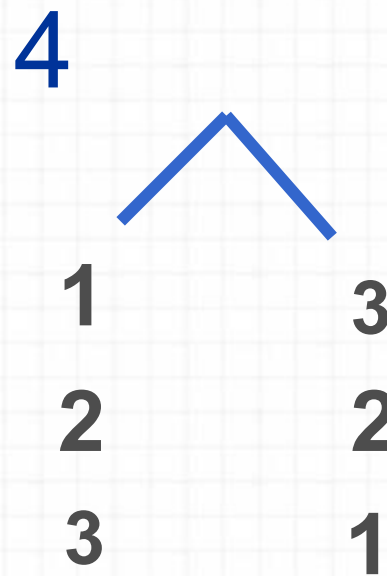
$$9+2=1 \quad 8+3= \quad 9+1= \quad 1$$

- Назовите пропущенные числа:

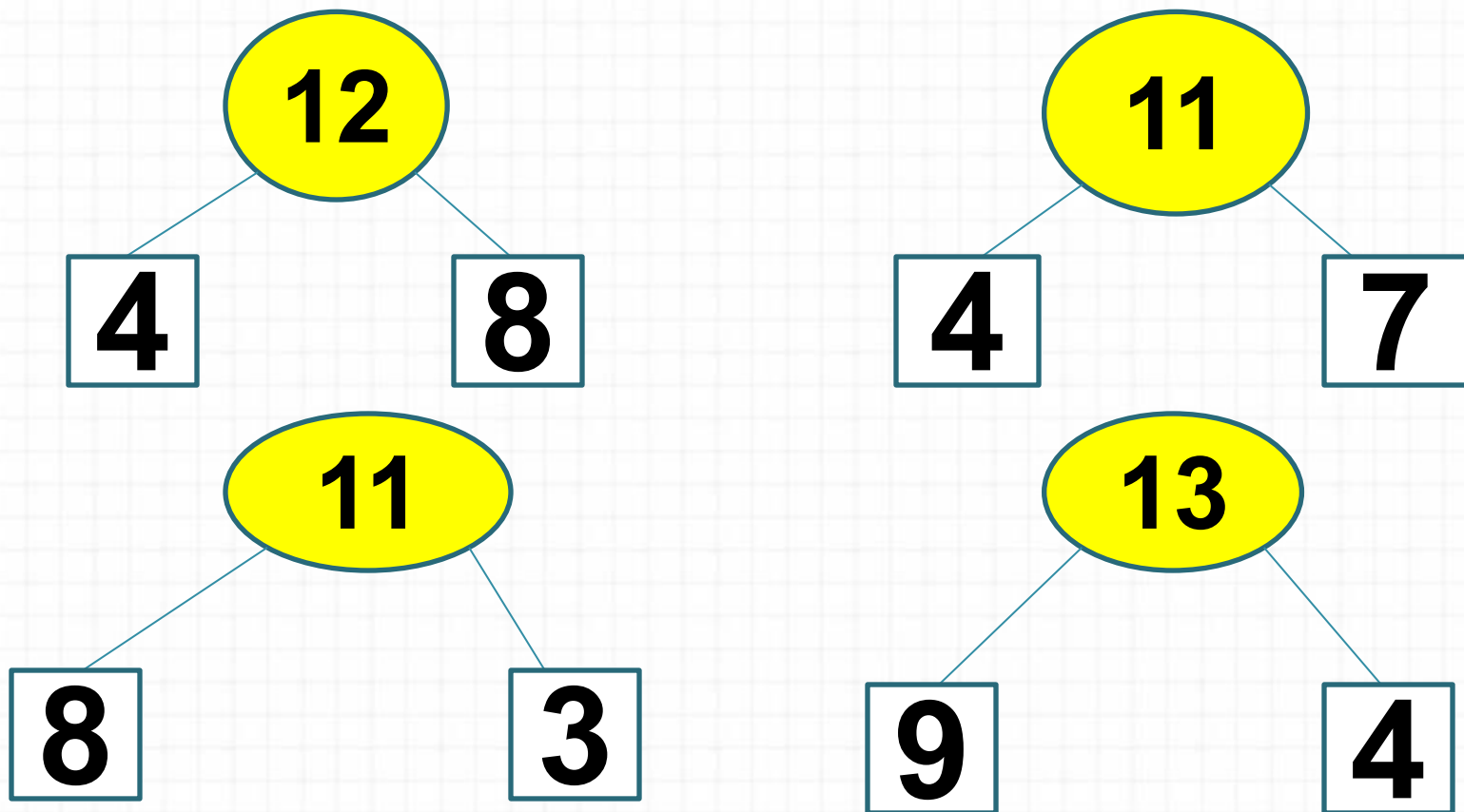




- Сколько может быть среди них мальчиков, сколько девочек?



Вспомни состав числа



Дополни до **10**:

8

7

9

6

2

3

1

4

Увеличь на **10**:

5

2

8

6

15

12

18

16

Найдите сумму

чисел

2 и

7 и

9 и

8

3

2

8 и

9 и

3

3

Какое число
нужно
увеличить на 3,

чтобы


9 получить... 10
7

**Число 16 уменъшите
на 6 и резултат
уменъшите
на 8.**

У Оли



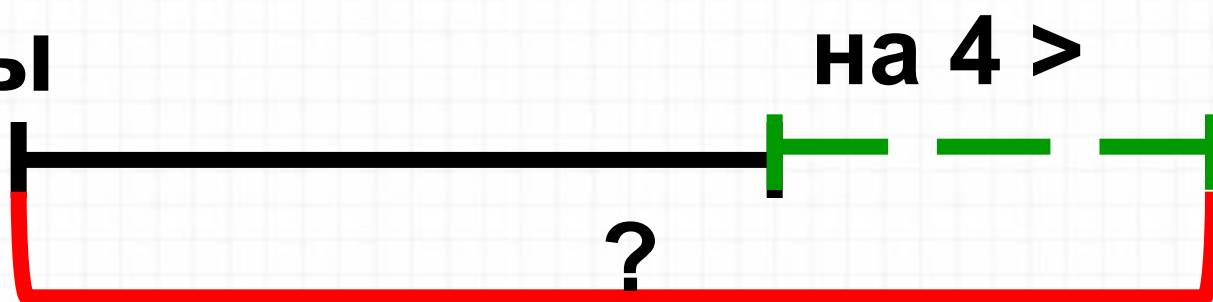
У Васи



У Нади



У Иры





5



10




?





10



7



на ? >



10



17 б.



на ? <





14



На какие группы можно
разделить примеры?

$7 + 3 = 10$ $8 + 3 = 1$


$8 + 2 = 10$ $9 + 2 = 1$

$6 + 4 = 10$ $9 + 3 = 1$

1



Объясни, как к числу 7 прибавить 4.



$$\begin{array}{r} 7 + 4 \\ \hline 7 + 3 + 1 \end{array}$$

Рассуждая так же, вычисли.

$$\begin{array}{r} 8 + 4 \\ \hline 8 + 2 + \square \end{array}$$

$$\begin{array}{r} 9 + 4 \\ \hline 9 + \square + \square \end{array}$$



2. Составь задачи и реши их.

| | |
|--|--|
| | |
|--|--|

- 1 У Саши было 8 красных воздушных шаров и 4 синих. Один шар лопнул. Сколько шаров осталось?




Самостоятельная работа


2

| | | | | | | | | | | | |
|---------|--|--|--|---------|--|--|--|---------|--|--|--|
| 7 + 4 = | | | | 9 + 6 = | | | | 8 + 3 = | | | |
| 8 + 5 = | | | | 7 + 7 = | | | | 6 + 5 = | | | |

Рефлексия

 Всё понял, могу объяснить товарищу.

 Многое понял, но мне ещё нужна помощь.

 Мне трудно было на уроке.