

Задание 24. Расположите регионы России в той последовательности, в которой их жители встречают Новый год. Запишите получившуюся последовательность цифр.

- 1) Магаданская область
- 2) Тюменская область
- 3) Республика Адыгея

Задание 24. Расположите регионы России в той последовательности, в которой их жители встречают Новый год. Запишите получившуюся последовательность цифр.

- 1) Ханты-Мансийский АО – Югра
- 2) Амурская область
- 3) Кабардино-Балкарская Республика

Задание 24. Расположите регионы России в той последовательности, в которой их жители встречают Новый год. Запишите получившуюся последовательность цифр.

- 1) Омская область
- 2) Республика Калмыкия
- 3) Еврейская АО

Задание 2. Какое утверждение о крайних точках России является верным?

- 1) Крайняя южная точка находится в Калмыкии на границе с Азербайджаном.
- 2) Крайняя восточная материковая точка находится на полуострове Камчатка.
- 3) Крайняя северная материковая точка находится в Мурманской области.
- 4) Крайняя восточная точка имеет западную долготу.

Задание 2. В какой из перечисленных областей были ликвидированы таможенные посты после создания таможенного союза между Россией, Белоруссией и Казахстаном?

- 1) Омская
- 2) Ростовская
- 3) Амурская
- 4) Ленинградская

Задание 2. По акватории какого из перечисленных морей проходит морская Государственная граница Российской Федерации?

- 1) Японское
- 2) Средиземное
- 3) Южно-Китайское
- 4) Северное

Задание 2. По акватории какого из перечисленных морей проходит морская Государственная граница Российской Федерации?

- 1) Белое
- 2) Берингово
- 3) Красное
- 4) Северное

Задание 2. Морская граница между Россией и США проходит посередине пролива между островом Крузенштерна, принадлежащим США, и российским островом

- 1) Сахалин
- 2) Кунашир
- 3) Врангеля
- 4) Ратманова

Задание 2. В каком из перечисленных регионов России находится Комсомольск-на-Амуре?

- 1) Магаданская область
- 2) Хабаровский край
- 3) Приморский край
- 4) Еврейская АО

Задание 3. Природа России

Большая часть территории какого из перечисленных регионов России расположена в таёжной зоне?

- 1) Республика Коми
- 2) Ямало-Ненецкий АО
- 3) Чукотский АО
- 4) Республика Калмыкия

Задание 3. Природа России

В каком из перечисленных регионов России широко распространены чернозёмные почвы?

- 1) Дальний Восток
- 2) Европейский Север
- 3) Европейский Юг
- 4) Урал

Задание 3. Природа России

Какая из перечисленных территорий России находится в умеренном климатическом поясе?

- 1) острова Новая Земля
- 2) Чукотский полуостров
- 3) полуостров Таймыр
- 4) остров Сахалин

Задание 3. Природа России

Для какой из перечисленных территорий России, расположенных в умеренном климатическом поясе, характерен резко континентальный климат?

- 1) Кольский полуостров
- 2) полуостров Камчатка
- 3) Забайкалье
- 4) Приморье

Задание 3. Природа России

Для какого из перечисленных регионов России характерен муссонный климат умеренного пояса?

1) Ямало-Ненецкий АО

2) Калининградская область


3) Приморский край

4) Мурманская область

Задание 3. Природа России

В какой из перечисленных горных систем количество высотных поясов наибольшее?

1. Верхоянский хребет
2. Кавказ
3. Саяны
4. Урал



Задание 4. Стихийные явления

- Такие неблагоприятные климатические явления, как засухи, суховеи и пыльные бури значительно затрудняют хозяйственное использование территории. Для какой из перечисленных территорий они наиболее характерны?

1) Республика Саха (Якутия)

3) Приморский край

2) Калининградская область

4) Калмыкия

Задание 4. Стихийные явления

Для какого из перечисленных регионов России могут представлять опасность тайфуны?

- 1) Краснодарский край
- 2) Приморский край
- 3) Калининградская область
- 4) Мурманская область

Задание 4. Стихийные явления

- Наводнения – стихийные явления. На какой из перечисленных рек наводнения наиболее часто происходят в летнее время и вызываются муссонными дождями?
 - 1) Урал
 - 2) Ока
 - 3) Зея
 - 4) Дон

Задание 4. Стихийные явления

Землетрясения – стихийные бедствия, от которых часто страдают люди. Своевременное оповещение населения специальными службами может предотвратить катастрофические последствия. В какой из перечисленных стран необходимы такие специальные службы.

1) Финляндия

2) Польша

3) Нидерланды

4) Филиппины

Задание 4. Стихийные явления

Где на Дальнем Востоке имеются действующие вулканы?

- 1) на Курильских островах
- 2) на острове Сахалин
- 3) на Чукотском полуострове
- 4) в Приморье

Задание 4. Стихийные явления


С сейсмичностью и подводным вулканизмом тесно связана опасность возникновения огромных морских волн – цунами, под угрозой которых находятся территории прибрежных городов и других населённых пунктов. В какой из перечисленных стран необходима работа специальных служб по предупреждению населения о цунами?

1) Швеция

2) Испания

3) Япония

4) Алжир



Задание 4. Стихийные явления

На какой из перечисленных территорий наблюдается сплошное распространение многолетней мерзлоты?

- 1) полуостров Таймыр
- 2) полуостров Кольский
- 3) Курильские острова
- 4) остров Сахалин

Задание 4. Стихийные явления

Для какого из перечисленных регионов России характерно сплошное распространение многолетней мерзлоты?


- 1) Свердловская область
- 2) Чукотский АО
- 3) Республика Башкортостан
- 4) Тверская область

Задание 15. В сентябре 2012 г. на одной из центральных улиц Владивостока на проспекте Красоты сошёл оползень. Камнями и землёй засыпало большую часть дорожного полотна. В результате инцидента никто не пострадал, но движение было закрыто. Причиной оползня стали сильные дожди, вызванные пришедшим в Приморье тропическим циклоном «Санба».

Объясните, почему сильные дожди могли стать причиной оползня.

Задание 15. Тихоокеанские муссоны принесли сильные ливневые дожди в юго-восточные районы России. Общее количество выпавших атмосферных осадков в 2 раза превысило обычную для этого времени года норму. В Приморском крае и Амурской области реки вышли из берегов. Некоторые населенные пункты оказались на грани затопления.

В какое время года и почему в юго-восточных районах России муссоны дуют с океана на материк?



Задание 6. Традиционные занятия народов России.

К традиционным занятиям каких из перечисленных народов России относятся охота, морской зверобойный промысел и рыболовство?

- 1) чувашаи и марийцы
- 2) эскимосы и алеуты
- 3) буряты и тувинцы
- 4) карачаевцы и кабардинцы

Задание 6. Традиционные занятия народов России.

Основное традиционное занятие хантов Приобья и народов Приамурья (негидальцев, нанайцев, нивхов, удэгейцев) –

- 1) рыболовство
- 2) коневодство
- 3) промысел морского зверя
- 4) овцеводство

Задание 13. В каком из перечисленных высказываний содержится информация о миграциях населения?

1) По итогам Всероссийской переписи населения 2010 г., население Дальнего Востока составляет всего 4,5% от общей численности населения нашей страны.

2) В 2009 г. в Москве было зарегистрировано 10,5 миллиона жителей, из них около семи миллионов граждан трудоспособного возраста и 2,5 миллиона пенсионеров.

3) В январе–июле 2011 г. из Казахстана в Россию прибыло на постоянное место жительства 19,4 тыс. человек, в обратном направлении убыло 3,3 тыс. человек.

4) В Центральном федеральном округе средняя плотность населения наибольшая в России и составляет 57 человек на 1 км²

Задание 13. В каком из перечисленных высказываний содержится информация об урбанизации?

1) В нескольких регионах Центрального федерального округа численность населения увеличивается за счёт его притока.

2) Во всех регионах Дальневосточного федерального округа из-за оттока населения происходит сокращение его численности.

3) По данным последней переписи, доля горожан в общей численности населения России возросла и составила 74%.

4) В России в начале XXI в. численность населения продолжала сокращаться.

Задание 13. В каком из перечисленных высказываний содержится информация о воспроизводстве населения?

1) Наиболее низкая средняя ожидаемая продолжительность жизни и мужчин, и женщин в 2010 г. отмечалась в Республике Тыва и Чукотском АО.

2) В 2014 г. в РФ превышение числа родившихся над числом умерших составило 30 336 человек.

3) Численность мужчин в России на 1 января 2014 г. составляла 66,5 млн человек, женщин – 77,1 млн человек.

4) Самыми малонаселёнными в России к 1 января 2010 г. были Республика Саха (Якутия) , Камчатский край, Магаданская область, Ненецкий, Чукотский и Ямало-Ненецкий АО.

Задание 8. Определите, в каком из перечисленных регионов наблюдался **наибольший естественный прирост** населения.

- 1) Магаданская область 2) Республика Тыва
3) Тверская область 4) г. Москва

Демографические показатели отдельных регионов России в 2006

Регион	Рождаемость (на 1 тыс. жителей)	Смертность (на 1 тыс. жителей)
Магаданская область	10,7	13,2
Республика Тыва	19,3	12,3
Тверская область	9,5	21,8
г. Москва	9,0	12,2

Естественный прирост =
рождаемость - смертность

- **$EP = P - C_M$**

Демографические показатели отдельных регионов России в 2006 г.

Регион	Рождаемость (на 1 тыс. жителей)	Смертность (на 1 тыс. жителей)	ЕП (на 1 тыс. жителей)
Магаданская область	10,7	13,2	$10,7 - 13,2 = - 2,5$
Республика Тыва	19,3	12,3	$19,3 - 12,3 = 7$
Тверская область	9,5	21,8	$9,5 - 21,8 = - 12,3$
г. Москва	9,0	12,2	$9,0 - 12,2 = - 3,2$

Задание 8. Используя данные приведённой ниже таблицы, определите, в каком из перечисленных регионов наблюдалась **наименьшая смертность**.

Регион	Общая численность населения, тыс.человек	Рождаемость, (на 1 тыс. жителей)	Естественный прирост, (на 1 тыс. жителей)
Кабардино-Балкарская Республика	891	11	1,0
Омская область	2030	10	– 4
Чувашская Республика	1287	10	– 4
Магаданская область	169	10,8	– 3

Естественный прирост =
рождаемость - смертность

- $EP = P - CM$

- $CM = P - EP$

Задание 8. Используя данные приведённой ниже таблицы, определите, в каком из перечисленных регионов наблюдалась **наименьшая смертность**.

Регион	Рождаемость, (на 1 тыс. жителей)	Естественный прирост, (на 1 тыс. жителей)	Смертность
Кабардино-Балкарская Республика	11	1,0	$11 - 1,0 = 10$
Омская область	10	- 4	$10 - (-4) = 14$
Чувашская Республика	10	- 4	$10 - (-4) = 14$
Магаданская область	10,8	- 3	$10,8 - (-3) = 13,8$

Задание 16. Определите, в каком из перечисленных регионов численность мужского населения **превышала** численность женского населения.

1) Краснодарский край
Чукотский АО

2) Новгородская область
4) Ямало-Ненецкий АО

3)

Половой состав населения некоторых регионов России в 2005 г.

Регион	Количество женщин на 1000 мужчин
Краснодарский край	1156
Новгородская область	1240
Чукотский автономный округ	913
Ямало-Ненецкий автономный округ	1000