

Подготовка к введению задач в 2 действия.



УСТНЫЙ СЧЁТ

$$2 + 2 =$$

$$6 - 4 =$$



Сосчитай круговые примеры, запиши их в тетрадь.

$$14 - 4 =$$

$$17 - 5 =$$

$$12 - 2 - 4 =$$

$$10 + 7 =$$

$$6 + 10 =$$

$$16 - 2 =$$

$$14 - 4 = 10$$

$$12 - 2 - 4 = 6$$

$$10 + 7 = 17$$

$$6 + 10 = 16$$

$$17 - 5 = 12$$

$$16 - 2 = 14$$



Переведи в см.



1 дм **2** см =

12 см

1 дм **6** см =

16 см


1 дм **9** см =

19 см

1 дм **4** см =

14 см

Поэт Цветик из Цветочного города сочинил 5 песен и 4 басни. А стихов столько, сколько басен и песен вместе. Сколько поэт Цветик сочинил стихов?



9

$$5 + 4 = 9$$

Музыкант Гуся умел играть на 5 музыкальных инструментах, а Незнайка освоил на 5 инструментов меньше. Сколько инструментов освоил Незнайка?



0

$$5 - 5 = 0$$



На улице Колокольчиков в Цветочном городе
жило 16 малышей –коротышек, а на бульваре
Васильков 10. На сколько больше малышей-
коротышек на улице Колокольчиков, чем на
бульваре Васильков?



на 6

$$16 - 10 = 6$$

РАБОТА ПО УЧЕБНИКУ



стр. 61

Учимся решать задачи.


1. В ведре 8 л молока, а в кувшине 3 л. На сколько меньше литров молока в кувшине, чем в ведре?
2. 1) В столовой на день заготовили 7 кг свёклы, а моркови на 3 кг больше. Сколько килограммов моркови заготовили?
2) В столовой на день заготовили 7 кг свёклы и \square кг моркови. Сколько всего килограммов овощей заготовили?

3. 1) У Юры было 5 больших солдатиков и 3 маленьких. Сколько всего солдатиков было у Юры?
- 2) У Юры было 8 солдатиков. Он подарил другу 2 солдатика. Сколько солдатиков осталось у Юры?

4.

Уменьшаемое	9	10		8		9	
Вычитаемое		10	2		9	3	1
Разность	4		7	5	1		9

5. Определи, как составлена таблица. Выбери недостающую картинку.



Сколько всего прибавили? всего вычли?

$$9 + 1 + 8$$

$$2 + 8 + 1$$


$$11 - 1 - 7$$

$$12 - 2 - 7$$

$$7 + 3 + 5$$

$$4 + 6 + 3$$

ЗАКРЕПЛЕНИЕ



Спиши, поставь знаки.




12 см < 1 дм 5 см

20 см > 1 дм 8 см

1 дм 3 см = 13 см



ЗАДАНИЯ ПОВЫШЕННОЙ ТРУДНОСТИ



Сейчас Маше и Вове 9 лет. Кто из них старше, если у Маши в этом году уже было день рождения, а у Вовы ещё будет?



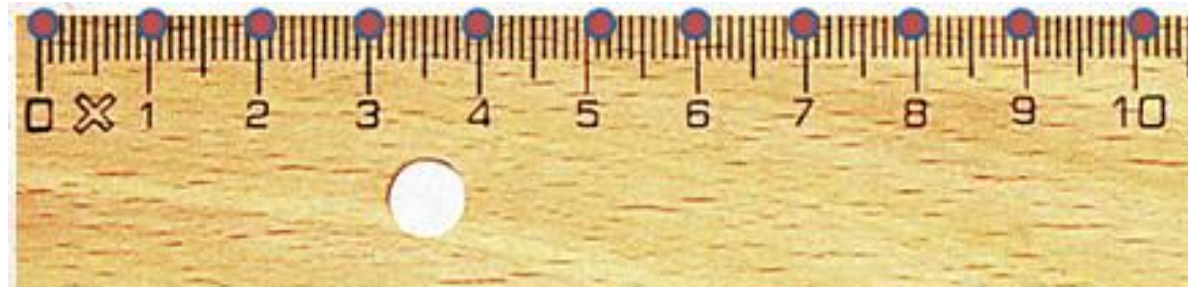
старше

Вова



По полоске бумаги длиной в 1 дм Незнайка сделает ровно два шага. Чему равна длина шага Незнайки?

5 см



Если малышка Галочка сделает 2 шага по полоске, длиной 1 дм, то до конца полоски она не дойдёт 2 см. А если сделает 3 шага, то пройдёт, больше длины полоски на 2 см. Чему равен шаг Галочки?



4 см



КОНЕЦ

