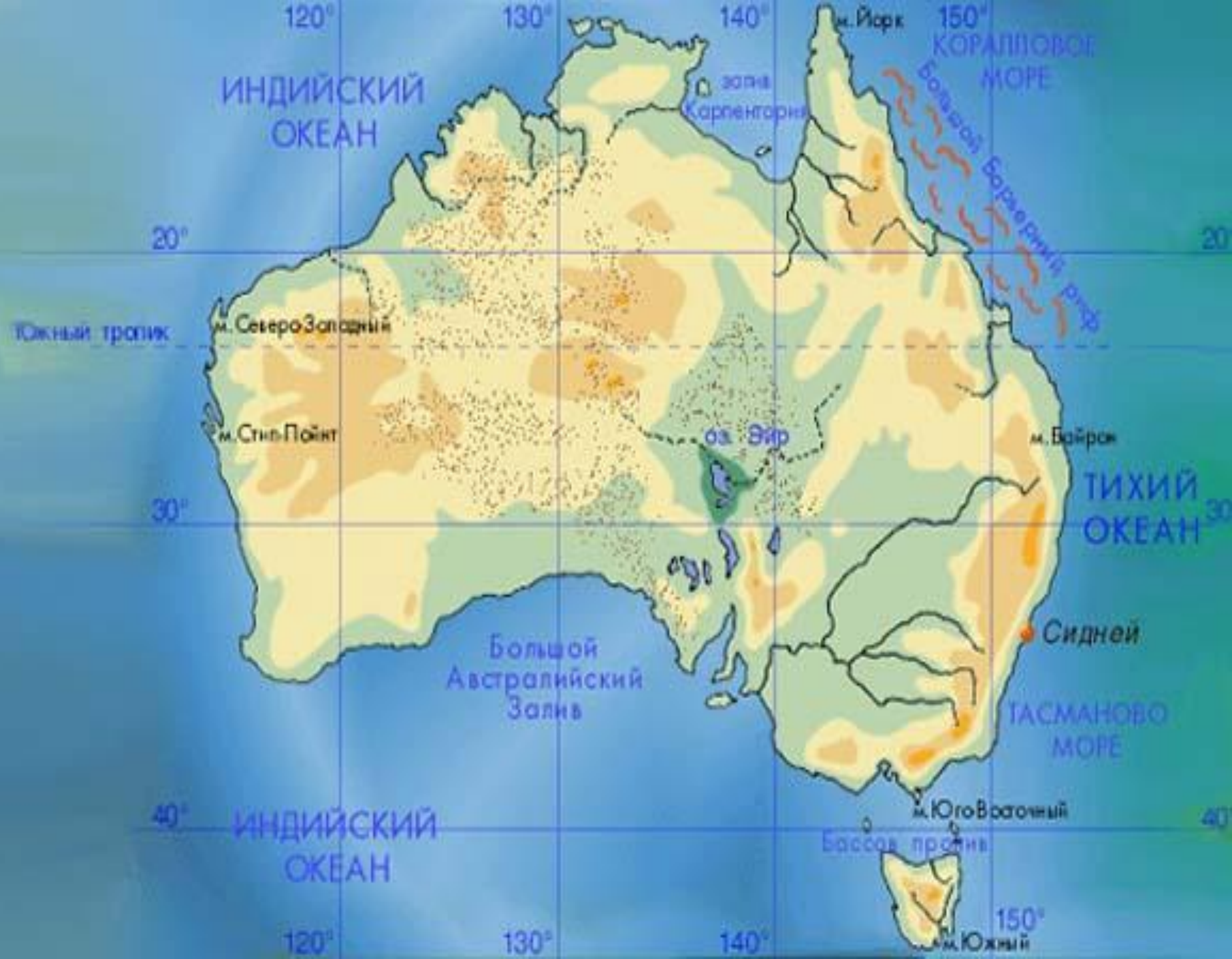
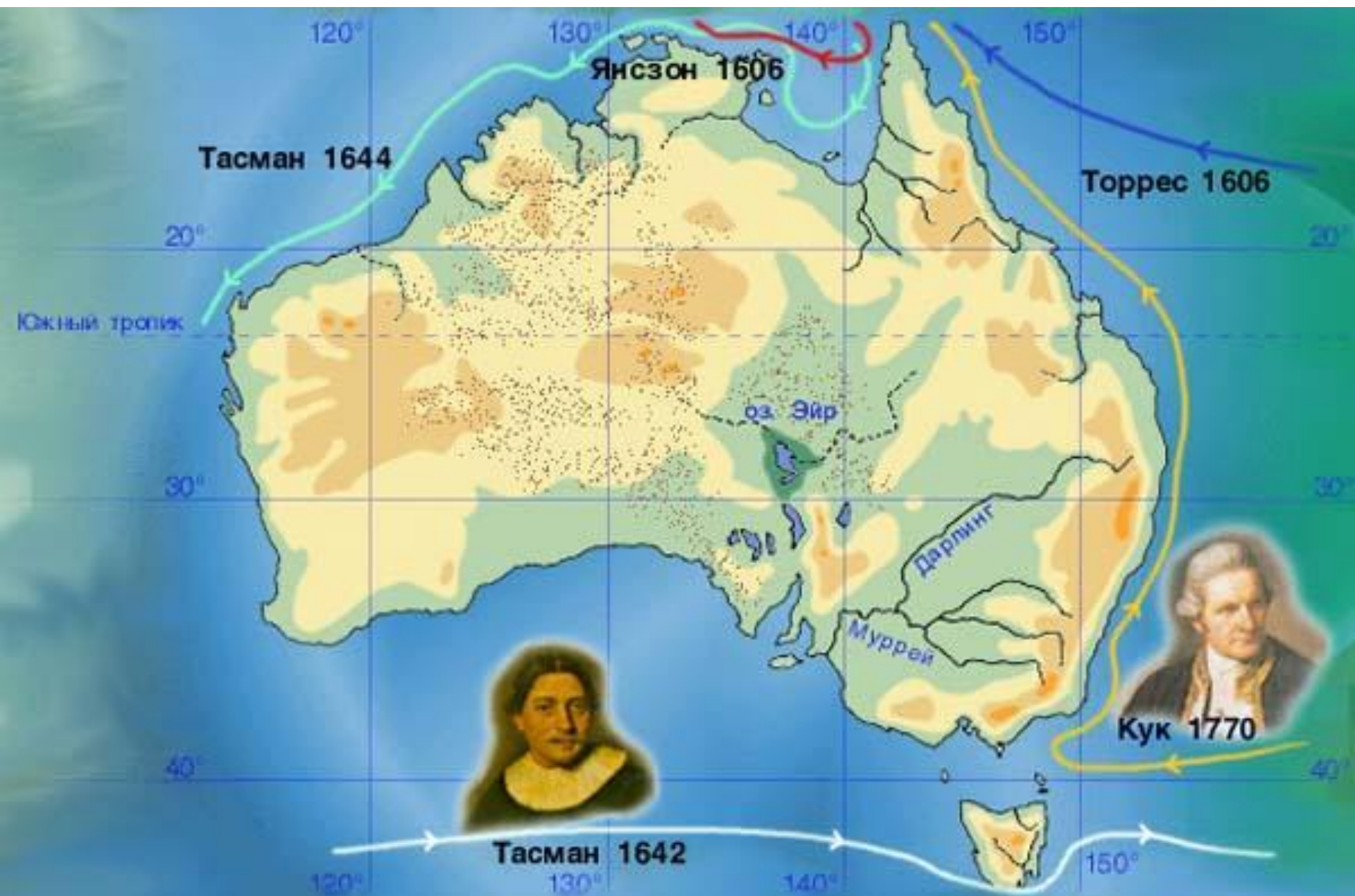


# КЛИМАТ. ВНУТРЕННИЕ ВОДЫ

**Цели:** называть и показывать климатические пояса, характерные типы погод, крупные реки и озера; определять климатические показатели по карте; объяснять различия в климате отдельных территорий материка, образование артезианских бассейнов, особенности питания и режима рек.



# Открытие Австралии



# Сравнение очертаний материков (Африка и Австралия).



## Вопросы:

- С какой частью Африки совпадает территория Австралии?
- В каких трех климатических поясах находится Австралия?
- Какой пояс занимает большую территорию?
- Опишите тропический пояс.
- Выскажите свои предположения о климате Австралии на основе уже известного о климате Земли и Южной Африки.

Равнина

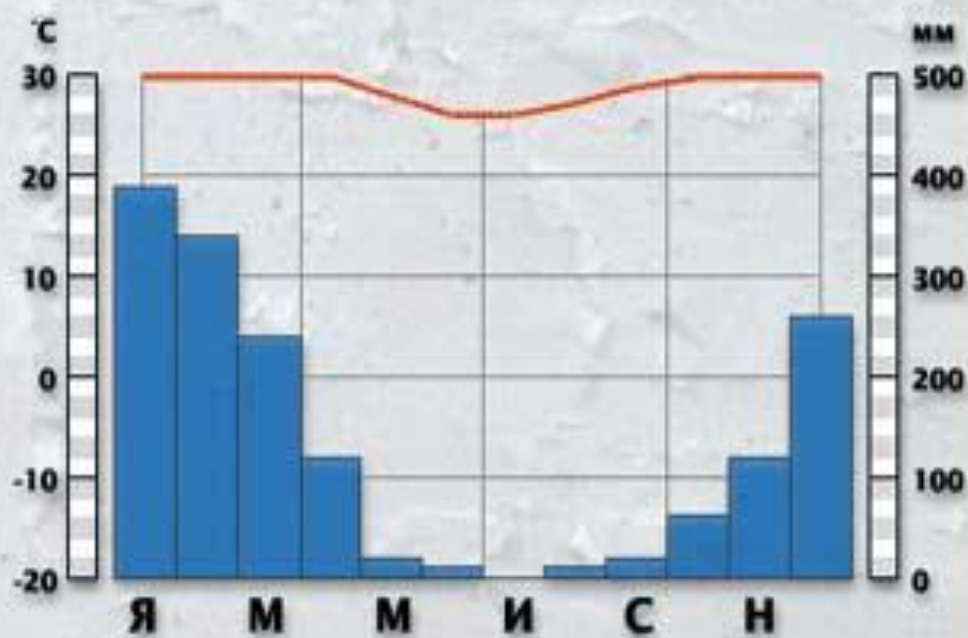


# Австралийские Альпы



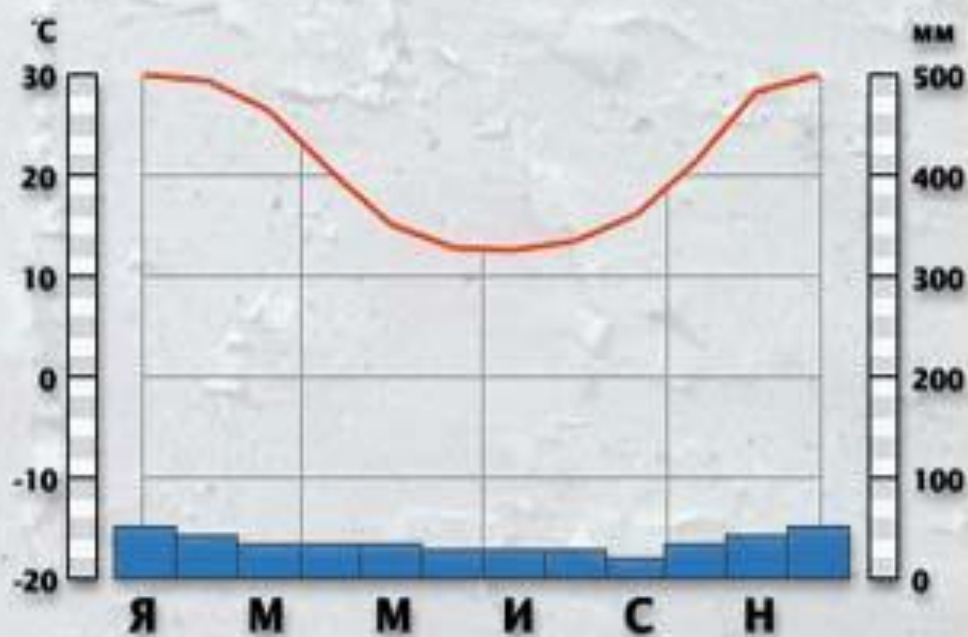


## Дарвин

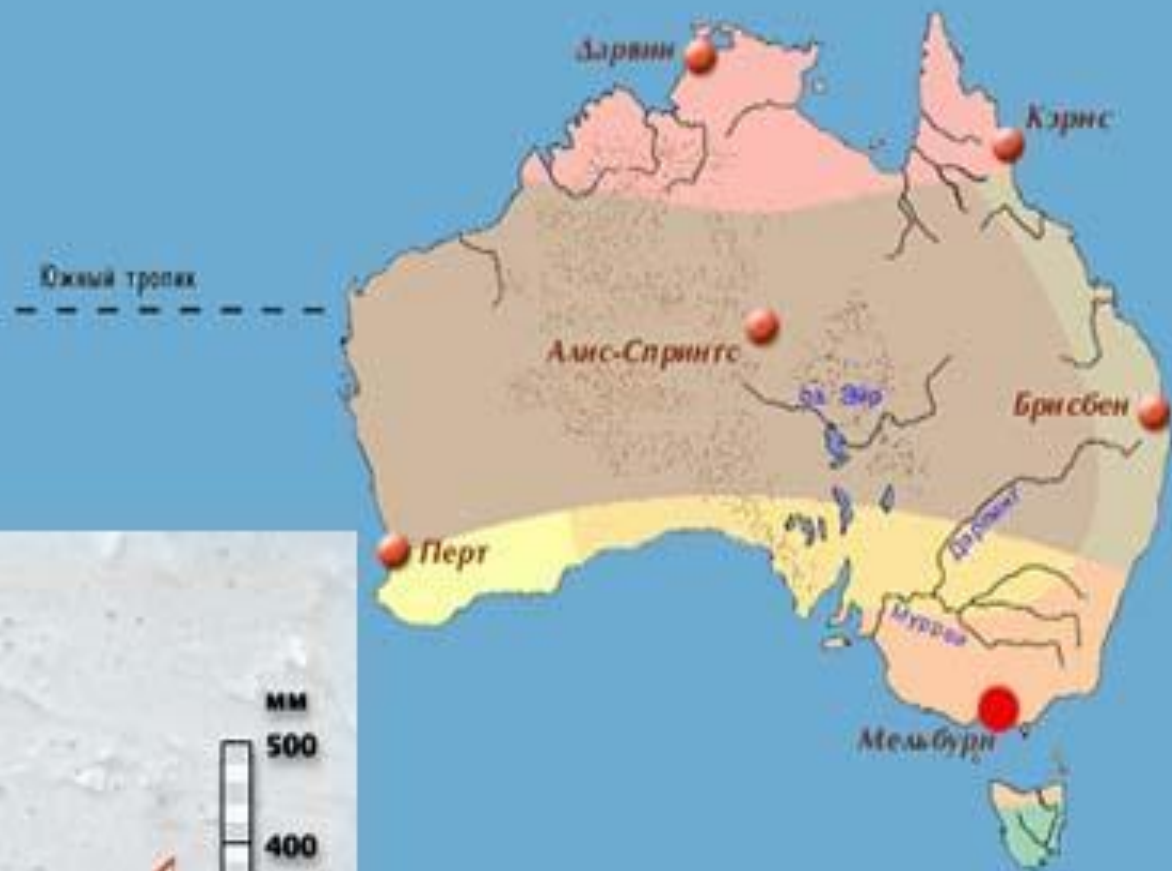




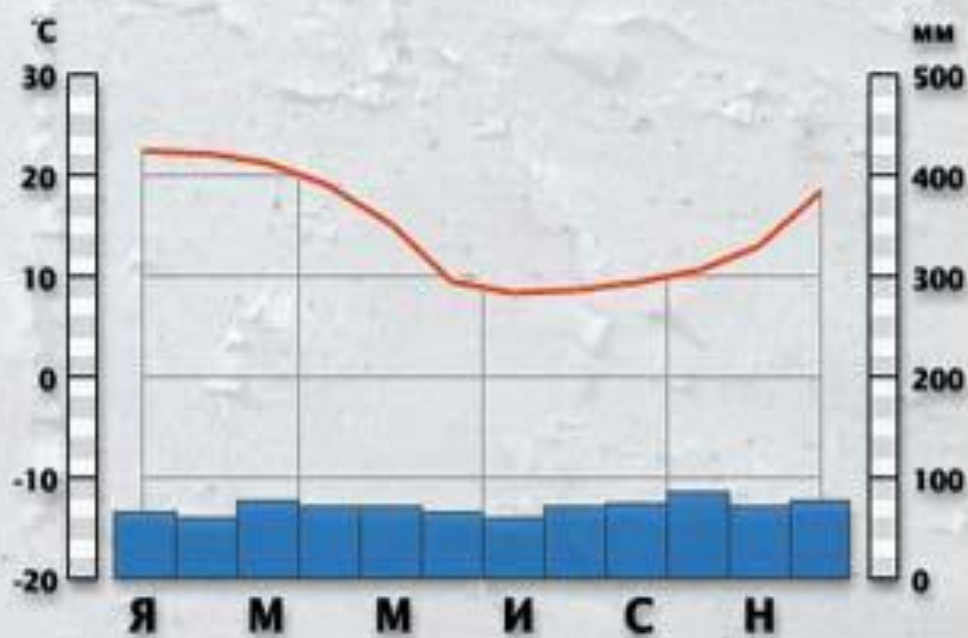
## Алис-Спрингс







## Мельбурн



# 1. Работа с учебником.

Задание. Прочитайте текст учебника о климате Австралии, определите правильность и ошибочность своих суждений. На основе анализа климатических карт определите, в какой части Австралии господствуют пассаты

## 2. Работа с контурной картой.

Задание 1. Укажите границы климатических поясов и областей. Укажите в каждом средние температуры июля и января, среднегодовые количества осадков, максимальные и минимальные температуры, для каждого пояса укажите воздушные массы.

Задание 2. Сравните данные с аналогичными данными Южной Африки. Объясните причины различий.

### 3. Работа с учебником.

Задание 1. Ответьте на вопрос после описания внутренних вод.

Работа с физической картой Австралии.

Задание 2. Укажите все реки и озера Австралии.

# Озеро Эйр



# Река Муррей









# Итог урока.

Вопросы:

- Объясните причины климатических различий западных и восточных берегов Австралии в пределах тропического и субтропического поясов.
- Сравните климатические условия пустынь Австралии и Южной Африки. Какие из них отличаются большей суровостью и почему?
- Что такое «крики»?
- Это озеро называют «мертвым сердцем» материка. Оно имеет координаты  $29^{\circ}$  ю. ш. и  $138^{\circ}$  в. д. Назовите его.

# Домашнее задание:

- § 36, в контурной карте указать внутренние воды материка; подготовить короткие сообщения об интересных представителях флоры и фауны Австралии.





Экватор

**АВСТРАЛИЯ**