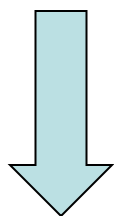


Нерегулируемые перекрёстки равнозначных дорог

- **Чем характерен перекрёсток равнозначных дорог? Здесь нет ни светофоров, ни знаков приоритета.**
- **У всех равное право на проезд!**
- А при равном праве на проезд всегда вступает в действие общий принцип помехи справа.
- Суть этого принципа заключается в том, что если только траектории движения пересекаются, уступить дорогу должен тот, к кому транспортное средство приближается справа.
- Сам по себе этот принцип прост и понятен, если все двигаются прямо.
- Чуть сложнее, когда надо повернуть или развернуться.

- **Вы должны уступить дорогу грузовому автомобилю:**
- 1. Только при движении прямо.
- 2. Только при повороте направо.
- 3. В обоих перечисленных случаях.



- **Комментарий к задаче**

- Грузовик для вас **помеха справа!** Если вы намерены двигаться прямо, надо уступать ему дорогу.

- Но если вы намерены повернуть направо, тогда траектории движения не пересекаются. Уступать дорогу никому!

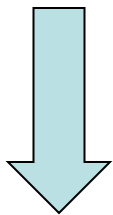
- Траектории пересекутся, если грузовик станет разворачиваться. Но в этом случае в конечной фазе разворота мы станем для грузовика помехой справа.

- **То есть в данной ситуации направо можем поворачивать смело, уступать дорогу никому!**



Вы намерены повернуть направо. Ваши действия?

- 1. Проедете перекрёсток первым.
- 2. Уступите дорогу легковому автомобилю.
- 3. Уступите дорогу обоим транспортным средствам.



- **Комментарий к задаче**
- То же самое и здесь – можете смело поворачивать направо. С мотоциклом вы не пересекаетесь, а встречный должен уступить вам дорогу (по принципу помехи справа).
- Изначально у встречного помехи справа не было, но она возникла в процессе движения через перекрёсток.



- **Как Вам следует поступить при повороте направо?**
- **1.** Проехать перекрёсток первым.
- **2.** Уступить дорогу только легковому автомобилю.
- **3.** Уступить дорогу легковому автомобилю и мотоциклу.



- **Комментарий к задаче**
- При такой расстановке Вы вообще единственный, кому разрешено движение. Только у вас нет помехи справа.

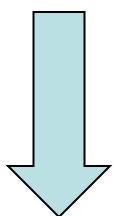


- **При повороте направо Вам следует:**
- **1. Уступить дорогу легковому автомобилю.**
- **2. Проехать перекрёсток первым.**
- **Комментарий к задаче**



- **Здесь вообще вы для него помеха справа!**
- **Обратите внимание! – он тоже может повернуть направо. А если прямо, тогда он должен уступить вам дорогу.**

- **При въезде на перекрёсток Вы:**
- **1.** Должны уступить дорогу обоим транспортным средствам.
- **2.** Должны уступить дорогу только автомобилю.
- **3.** Имеете преимущество перед обоими транспортными средствами.



- **Комментарий к задаче**
- Знаков приоритета нет, и, вроде бы, это перекрёсток равнозначных дорог. Но это перекрёсток с круговым движением! А про перекрёсток с круговым движением Правила высказались отдельно:
- **Правила. Пункт 13.11/1. При въезде на перекресток, на котором организовано круговое движение и который обозначен знаком 4.3, водитель транспортного средства обязан уступить дорогу транспортным средствам, движущимся по такому перекрестку.**
- Сейчас Ваша обязанность – уступить дорогу тем, кто на круге.



- **Вы намерены продолжить движение прямо. Ваши действия?**
- 1. Проедете перекрёсток первым.
- 2. Уступите дорогу грузовому автомобилю, так как он приближается справа.
- 3. Уступите дорогу грузовому автомобилю, так как он находится на главной дороге.



- **Комментарий к задаче**
- Никаких знаков приоритета нет, это перекрёсток равнозначных дорог. Вы намерены двигаться прямо, надо уступать дорогу грузовику, он для вас помеха справа.

- **Вы намерены продолжить движение прямо. Ваши действия?**
- 1. Проедете перекрёсток первым.
- 2. Уступите дорогу грузовому автомобилю.



- **Комментарий к задаче**
- Иногда вы здесь ошибаетесь, думая, что грузовик выезжает из прилегающей территории. Нет, это полноценный перекрёсток равнозначных дорог. Просто дорога, на которой находится грузовик, не имеет сквозного проезда.

- **Вы намерены продолжить движение прямо. Ваши действия?**
- 1. Проедете перекрёсток первым.
- 2. Уступите дорогу легковому автомобилю.
- 3. Уступите дорогу легковому автомобилю и мотоциклу.



- **Комментарий к задаче**
- Справа от нас легковой автомобиль, вот ему и уступаем. И больше никому.
- А мотоцикл должен уступить нам, мы для него помеха справа.

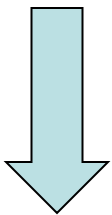
- **При движении прямо Вы:**
- 1. Имеете преимущество.
- 2. Должны уступить дорогу только мотоциклу.
- 3. Должны уступить дорогу только автомобилю.
- 4. Должны уступить дорогу обоим транспортным средствам.



- **Комментарий к задаче**
- Справа от нас мотоцикл, вот ему и уступаем. И больше никому.
- Помните, что проблесковый маячок жёлтого цвета не даёт преимущества в движении.

Вы намерены проехать перекрёсток в прямом направлении. В данной ситуации:

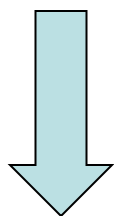
- **1.** Вы обязаны уступить дорогу легковому автомобилю.
- **2.** Вы имеете право проехать перекрёсток первым.



- **Комментарий к задаче**
- **До въезда на перекресток ни у кого помехи справа нет, и оба могут продолжать движение.**
- Но в процессе поворота налево водитель встречного автомобиля получит помеху справа, и этой помехой будет ваш автомобиль.
- И вот тут, на перекрёстке, он должен будет уступить вам дорогу.



- Как Вам следует поступить, двигаясь по перекрёстку с круговым движением?
- 1. Уступить дорогу грузовому автомобилю.
- 2. Проехать перекрёсток первым.
- 3. Действовать по взаимной договорённости с водителем грузового автомобиля.



- **Комментарий к задаче**
- Знаков приоритета нет, и, вроде бы, это перекрёсток равнозначных дорог. Но это перекрёсток с круговым движением! А про перекрёсток с круговым движением Правила высказались отдельно:
- **Правила. Пункт 13.11/1. При въезде на перекресток, на котором организовано круговое движение и который обозначен знаком 4.3, водитель транспортного средства обязан уступить дорогу транспортным средствам, движущимся по такому перекрестку.**
- В данной ситуации, двигаясь по кругу, вы имеете преимущество перед всеми, въезжающими на него.



- **Кому Вы должны уступить дорогу при повороте налево?**
- 1. Только легковому автомобилю.
- 2. Только грузовому автомобилю.



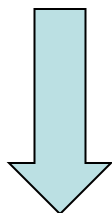
- **Комментарий к задаче**
- Они оба для вас помеха справа. Значит, обоим и надо уступать.

- **Кому Вы обязаны уступить дорогу при повороте налево?**
- 1. Только мотоциклисту.
- 2. Только легковому автомобилю.
- 3. Никому.



- **Комментарий к задаче**
- Справа от нас легковой автомобиль. Вот ему и уступаем. И больше никому.
- А для мотоциклиста мы – помеха справа. Он обязан нам уступить дорогу.

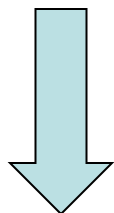
- **Вы намерены повернуть налево. Ваши действия?**
- **1.** Проедете перекрёсток первым.
- **2.** Проедете перекрёсток одновременно со встречным автомобилем до проезда мотоцикла.
- **3.** Проедете перекрёсток последним.



- **Комментарий к задаче**
- Помехи справа нет только у встречного легкового автомобиля, он первым и поедет. И если бы вы двигались прямо или направо, он должен был на перекрёстке уступить вам дорогу. Но у вас включены указатели поворота налево, траектории ваших движений не пересекаются, поэтому в данной ситуации встречный проедет перекрёсток без остановки.
- Затем проедет мотоциклист, и только после этого наступит ваша очередь начать движение.



- **Вы намерены повернуть налево. Ваши действия?**
- **1.** Проедете перекрёсток первым.
- **2.** Выедете на перекрёсток и, уступив дорогу мотоциклисту, завершите поворот.
- **3.** Уступите дорогу обоим транспортным средствам.



- **Комментарий к задаче**

- Помехи справа нет только у вас, только вы и можете въезжать на перекрёсток. Если бы вы двигались прямо или направо, то проехали бы перекрёсток без остановки.
- Но вы намерены повернуть налево и, значит, на перекрёстке надо будет остановиться, чтобы уступить дорогу мотоциклу (он движется прямо – никакие указатели поворота не включены, и траектории ваших движений пересекаются).
- Одновременно (как только вы въехали на перекрёсток) исчезла помеха справа у водителя легкового автомобиля. Он уехал, исчезла помеха справа у мотоциклиста. Он уехал, и вот только теперь вы, можете завершить свой поворот налево.
- Обратите внимание! Перекрёсток вы покинули последним, но дорогу уступали только мотоциклисту!



- **Вы намерены повернуть налево. Ваши действия?**
 - **1.** Уступите дорогу обоим грузовым автомобилям.
 - **2.** Выехав на перекрёсток, уступите дорогу встречному грузовому автомобилю и завершите поворот.
 - **3.** Проедете перекрёсток первым.
-
- **Комментарий к задаче**
 - Обе дороги с твёрдым покрытием – это перекрёсток равнозначных дорог! И, значит, первым проедет встречный грузовик (только у него нет помехи справа), затем наступит очередь грузовика с жёлтым проблесковым маячком (у него исчезнет помеха справа), и только после этого вы сможете приступить к своему повороту налево.

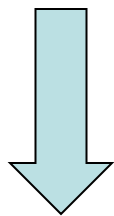


- При движении в каком направлении Вы будете иметь преимущество?
- 1. Только при повороте направо.
- 2. Только при повороте налево.
- 3. В любом направлении из перечисленных.

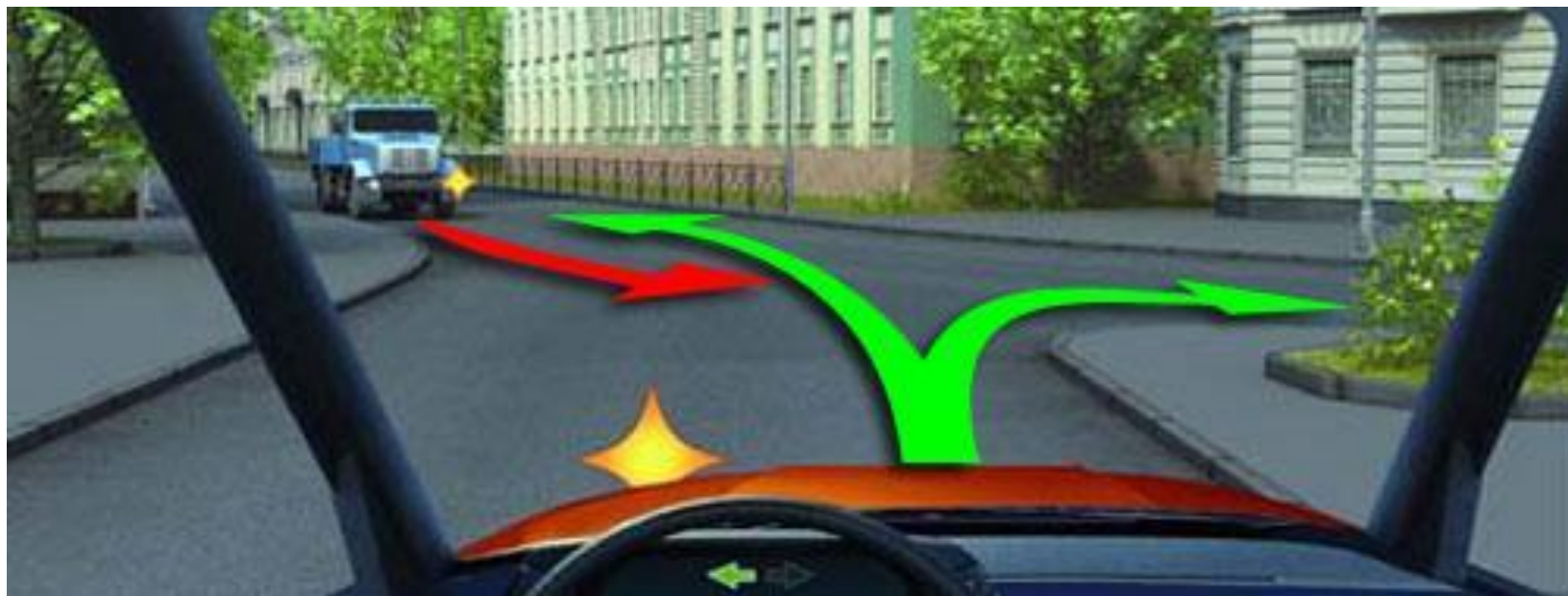


- **Комментарий к задаче**
- Вы для него помеха справа. Куда бы вы не поехали, он обязан уступать вам дорогу.

- **В каком случае Вы имеете преимущество?**
- 1. Только при повороте направо.
- 2. Только при повороте налево.
- 3. В обоих перечисленных случаях.



- **Комментарий к задаче**
- Вы для него помеха справа. Куда бы вы не поехали, он обязан уступать вам дорогу.



- **Как Вам следует поступить при повороте налево?**
- **1. Уступить дорогу легковому автомобилю.**
- **2. Проехать перекрёсток первым.**



- **Комментарий к задаче**
- Тут всё очевидно, он справа от вас. Ваша обязанность – уступить ему дорогу.
- (повернуть направо можно, но вы поворачиваете налево).

- **Вы намерены развернуться. Ваши действия?**
- 1. Развернётесь первым.
- 2. Выедете на перекрёсток и, уступите дорогу легковому автомобилю, завершите разворот.
- 3. Будете действовать по взаимной договорённости с водителем легкового автомобиля.




- **Комментарий к задаче**
- **Сейчас у вас помехи справа нет, можете приступать к развороту.**
- **Помеха справа возникнет в конечной фазе разворота и, следовательно, завершая разворот, уступаем ему дорогу.**



- **В каком случае Вы имеете право проехать перекрёсток первым?**
- **1. Только при движении прямо.**
- **2. При движении прямо и налево.**
- **3. При движении прямо и налево и в обратном направлении.**



- **Комментарий к задаче**
- Ситуация практически та же, что и в предыдущей задаче. Соответственно и действия будут такими же. Если поедем прямо или налево, имеем преимущество.
- Если станем разворачиваться, то в конечной фазе разворота должны будем уступить ему дорогу.



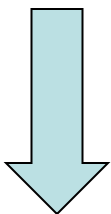
- **А сейчас вы увидите необыкновенную задачу. Задача с такой «начинкой» появилась впервые. Никогда такого не было.**
- **А появилась она 1-го сентября 2016 года.**

Вы намерены выполнить разворот. Ваши возможные действия?

- 1. Отказаться от преимущества в движении и приступить к развороту после проезда легкового автомобиля.
- 2. Выехать на перекресток первым и, уступив дорогу легковому автомобилю, закончить разворот.
- 3. Допускаются оба варианта действий.



- **Комментарий к задаче**
- **По сути ситуация та же самая, что и в предыдущей задаче. Только теперь мы не едем прямо или налево, а именно разворачиваемся.**
- **В конечной фазе разворота он станет для нас помехой справа.**
- **Поэтому въехав на перекрёсток, мы должны уступить ему дорогу.**

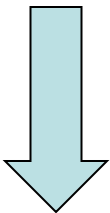


- **Но почему тогда правильный ответ – третий!?**
- Так решили авторы экзаменационного сборника. В Билетах, опубликованных на официальном сайте ГИБДД, в этой задачке правильным ответом значится третий ответ. И комментарий дан такой:
- **«Поскольку легковой автомобиль находится слева, Вы можете выехать на перекресток равнозначных дорог первым. При развороте легковой автомобиль станет для Вас «помехой справа» и его необходимо будет пропустить, после чего закончить разворот. С учетом этого Вы можете отказаться от преимущества в движении и начать разворот после проезда этого автомобиля».**
- То есть авторы этого комментария рассуждают так – раз уж всё равно, въехав на перекрёсток, придётся уступать дорогу, так не лучше ли уступить сразу. Пусть он уедет, а потом спокойно развернуться на пустом перекрёстке.



- **Запомните эту задачу, чтобы не сделать здесь ошибку.**
- Это единственная задача, в которой авторы хотят проверить, понимаете ли вы, что **сознательный отказ от преимущества, это НЕ нарушение!**
- В Правилах нигде не сказано, что водителям запрещается отказываться от преимущественного права на первоочередной проезд.
- **А что не запрещено, то разрешено.**

- **Вы намерены продолжить движение прямо при жёлтом мигающем сигнале светофора. Ваши действия?**
- **1.** Остановитесь и продолжите движение только после включения зеленого сигнала светофора.
- **2.** Уступите дорогу гужевой повозке.
- **3.** Проедете перекресток первым вместе со встречным автомобилем.



- **Комментарий к задаче**
- Жёлтый мигающий сигнал светофора информирует водителей о том, что перекрёсток стал нерегулируемым. Знаков приоритета нет и, значит, сейчас это перекрёсток равнозначных дорог, **и у всех равное право на проезд.**
- А при равном праве на проезд всегда вступает в действие общий принцип помехи справа.
- **Справа от нас гужевая повозка, вот ей и уступаем.**



- Водителям трамваев на перекрёстках равнозначных дорог Правила предоставили безоговорочное преимущество:
-
- Правила. Раздел 13. Пункт 13.11. Второй абзац.
- На таких перекрёстках трамвай **имеет преимущество перед безрельсовыми транспортными средствами независимо от направления его движения.**



- **Вы намерены проехать перекрёсток в прямом направлении. Кому вы обязаны уступить дорогу?**
- 1. Только трамваю А.
- 2. Только трамваю Б.
- 3. Обоим трамваям.



Универсальное правило:

- На перекрёстках равнозначных дорог водители безрельсовых транспортных средств разбираются между собой по общему принципу помехи справа, а трамвай имеет преимущество независимо от направления движения.

- **Вы намерены проехать перекрёсток в прямом направлении. Кому Вы обязаны уступить дорогу?**
- 1. Только трамваю.
- 2. Только грузовому автомобилю.
- 3. Обоим транспортным средствам.



- **Комментарий к задаче**
- Грузовик для нас помеха справа, наша обязанность уступить ему дорогу. Трамваю, само-собой.

- **Кому Вы должны уступить дорогу при движении в прямом направлении?**
- 1. Только трамваю.
- 2. Только легковому автомобилю.
- 3. Обоим транспортным средствам.



- **Комментарий к задаче**
- Трамваю, понятно, уступаем. А легковой автомобиль должен уступить нам, мы для него помеха справа.

- **Вы намерены проехать перекрёсток в прямом направлении. Ваши действия?**
- 1. Проедете перекрёсток вместе с трамваем, не уступая дорогу грузовому автомобилю.
- 2. Проедете перекрёсток, уступив дорогу грузовому автомобилю.



- **Комментарий к задаче**
- Конечно, правильный ответ – второй. Грузовик для вас помеха справа.

- **При движении в прямом направлении Вам следует:**
- **1.** Проехать перекрёсток первым.
- **2.** Уступить дорогу только трамваю.
- **3.** Уступить дорогу трамваю и легковому автомобилю.



- **Комментарий к задаче**
- Трамвай проедет первым, а водитель встречного автомобиля, поворачивая налево, должен уступить дорогу нам. Для безрельсовых транспортных средств принцип «помехи справа» никто не отменял.

- 3-го января 2018 года в этой теме появилась ещё одна задачка. Она без рисунка и совсем не сложная.
- Задача
- **Если невозможно определить наличие покрытия на дороге (темное время суток, грязь, снег и тому подобное), а знаков приоритета нет, то:**
- 1. Вы имеете право считать, что находитесь на главной дороге.
- 2. Вам следует считать, что находитесь на равнозначной дороге.
- 3. Вы должны считать, что находитесь на второстепенной дороге.
- **Комментарий к задаче.**
- **Вот что по этому поводу сказано в Правилах: Правила. Раздел 13. Пункт 13.13.**
- **Если водитель не может определить наличие покрытия на дороге (темное время суток, грязь, снег и тому подобное), а знаков приоритета нет, он должен считать, что находится на второстепенной дороге.**