

**УРОК – ОБОБЩЕНИЯ
ПО МАТЕМАТИКЕ
В 5 «Б» КЛАССЕ
ПО ТЕМЕ: «ЗАКОНЫ
АРИФМЕТИЧЕСКИХ
ДЕЙСТВИЙ»**


**Учитель: Хусяинова Г.Ф.,
учитель математики 1 категории.**

В школе прозвенел звонок
Начинаем наш урок.

Сядьте вы за парты тихо,
Руки – палочкой красиво,
На меня вы посмотрите,
И немного улыбнитесь!

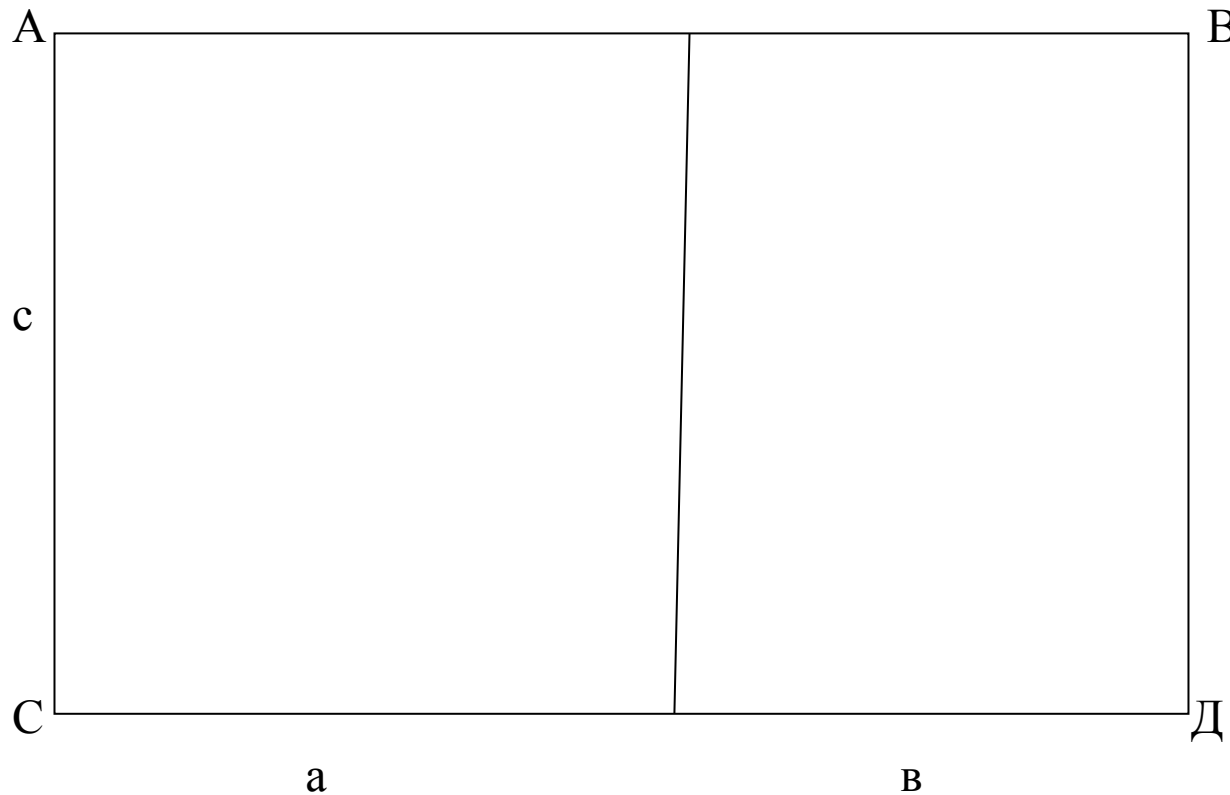






19+29	24+32	38-24
:8	:7	*4
*7	+27	+40
-14	:5	:8
:7	+42	+58
+45	-49	:7

•Найдите площадь прямоугольника ABCD разными способами

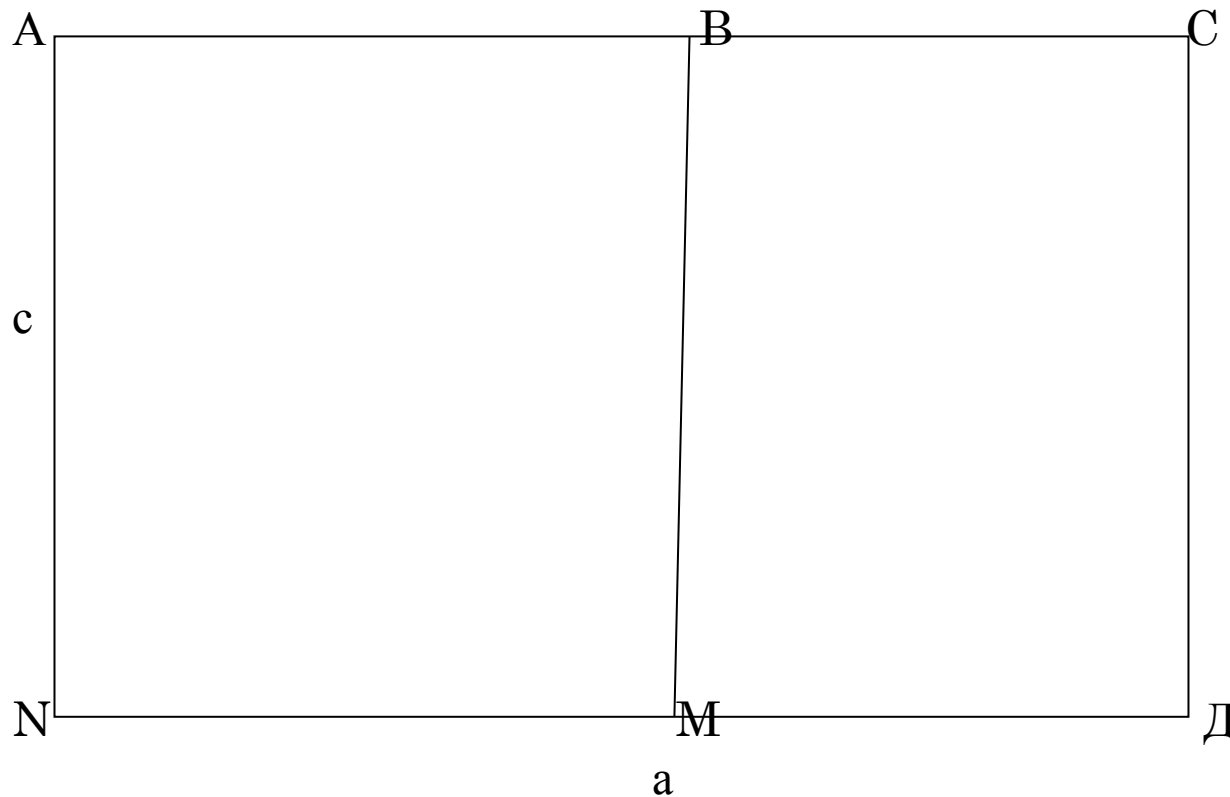


$$S = c * (a + b)$$

$$S = c * a + c * b$$



• Найдите площадь прямоугольника
АВМН




$$S = c * (a - b)$$

$$S = c * a - c * b$$



44*52	16*42	35*33
18*21	17*63	19*98
4*63+4*79	17*27+23*17	3*63+37*3
43*16+43*84	54*60+60*6	62*16+38*16
85*47+53*85	32*320+320*68	85*44+44*15
35*84-24*84	45*40-40*25	51*78-51*58





Одна сторона прямоугольника равна 9 см, а другая меньше первой в 3 раза. Найдите площадь и периметр прямоугольника




Найдите время, за которое велосипедист проедет 104 км, если его скорость 13 км/ч





Переместительный	Сочетательный
6;сочетательное	8; переместительное
40000000+8000000+30000 +7000+200+10+5	50000000+9000000+10000 0+9000+300+50+1
83004; 17410426305; 120000; 36422184000	84222;110000 6818925557; 48962654000
62809 83819	67726 95119





**СПАСИБО ЗА УРОК.
ВЫ МОЛОДЦЫ!**

