



Диаграммы

применяются в тех случаях,
когда нужно сравнивать
полученные данные.





Средняя продолжительность жизни животных.



- Индийский слон
- Крокодил
- Верблюд
- Лошадь
- Шимпанзе




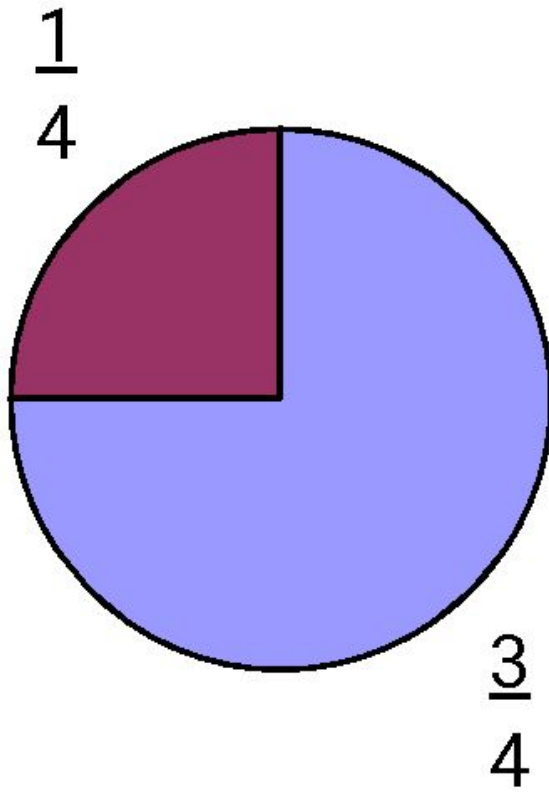
• Какие животные живут менее 40 лет?
• Какое животное имеет самую большую продолжительность жизни?
• Какие животные живут более 40 лет?





Суша $\frac{1}{4}$
Вода $\frac{3}{4}$
-







ТЕМА:

Круговая диаграмма.





Когда удобно ею
пользоваться?





Круговые диаграммы

удобно использовать в тех случаях, когда нужно представить соотношения между частями целого.





Диаграмма площадей океанов

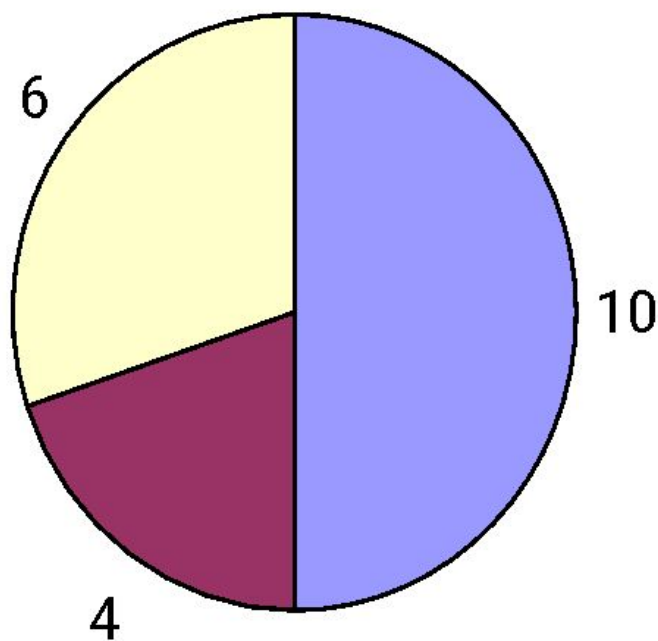
Подумайте, как обозначены на диаграмме океаны.

Название океана	S (млн. кв.км)
Северный Ледовитый	13
Индийский	75
Атлантический	93
Тихий	179



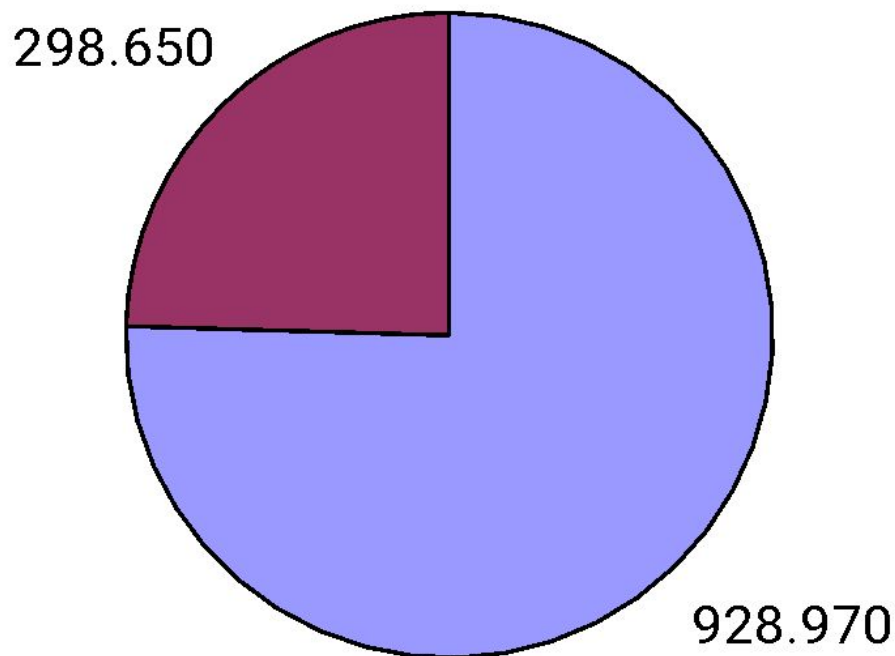


На клумбе росли 20
цветов: 10 роз, 6 гвоздик и 4
тюльпана.





Численность населения нашей области: в городах - 928.970 человек, в сельской местности – 298.650 человек. (1.227.620 чел.)





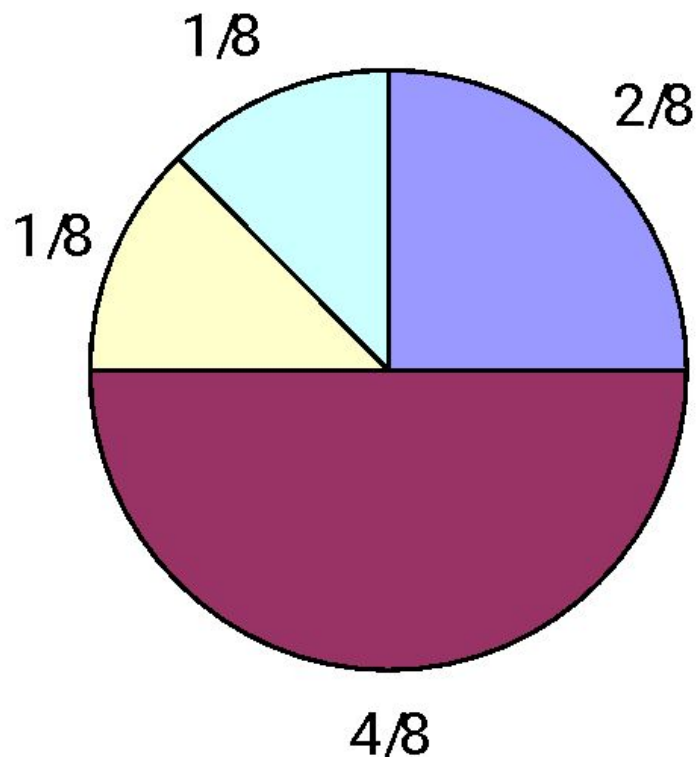
Занятия детей в свободное время:

спортом – $\frac{2}{8}$ (синим цветом)

прогулки с друзьями – $\frac{4}{8}$ (фиолетовым)

игры на компьютере – $\frac{1}{8}$ (розовым)

другое – $\frac{1}{8}$ (голубым)





Нам известно, что в 4 классе $\frac{1}{4}$ часть детей написали контрольную работу на «3», $\frac{1}{4}$ – на «4» и $\frac{1}{2}$ часть – на «5».

Попробуйте построить круговую диаграмму

