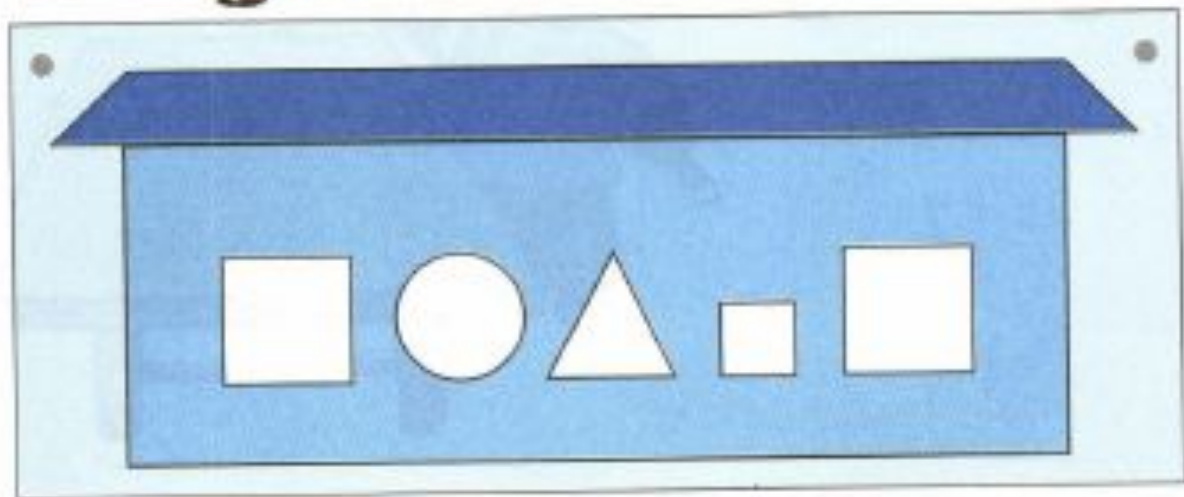
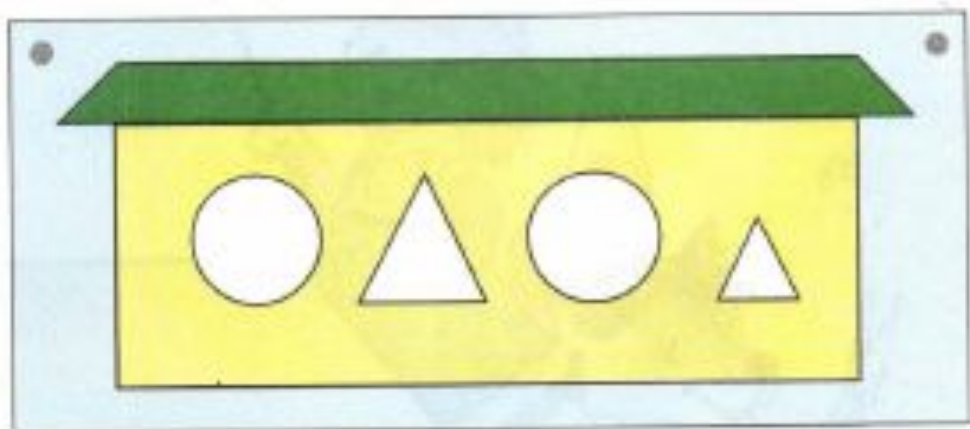


30 сентября  
2 октября


- 2 В самом большом доме раскрась окошки одинаковой формы и размера. В доме поменьше раскрась окошки одинакового размера, но разной формы, а в самом маленьком доме — окошки одинаковой формы, но разного размера.



- 1 Можешь ли ты убрать всех маленьких матрёшек в большие? Каких матрёшек больше, а каких — меньше? Найди одинаковые матрёшки.




- 2 Найди предмет, который забыли положить на нижнюю полку. Обведи его.




- 1 У Тани улетел один шар, остальные она держит за ниточки. Нарисуй их. Сколько шаров осталось у Тани? Раскрась их разными цветами.



- 2 Обведи картинку, на которых по два предмета. Какая картинка лишняя? Почему?



- 3 Раскрась два цветка перед домом и один рядом с домом. Обведи двух птичек над крышей и одну на крыше. Прибей к забору ещё две дощечки. Нарисуй около ёлки два мяча.



- 4 Накрой на стол.



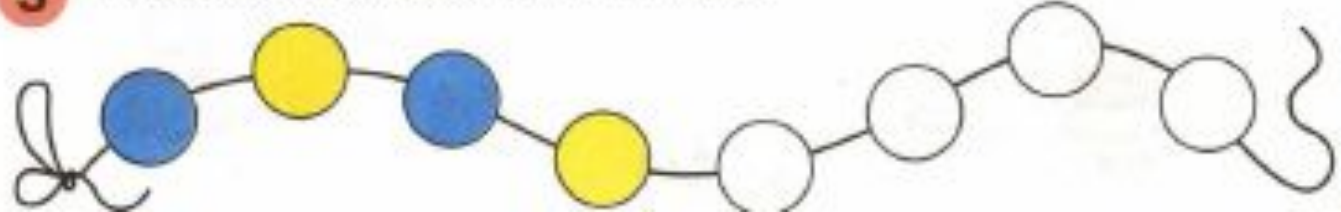
3 Чего больше — ваз или цветков? Дорисуй картинку так, чтобы цветков стало столько же, сколько ваз. Какая ваза не такая, как остальные?




4 Что было сначала, а что — потом?



5 Продолжи раскрашивать бусы.





1 В каком поезде больше вагонов? Раскрась большие вагоны в разные цвета, а маленькие вагоны раскрась одним цветом.



2 Раскрась яблоки на дереве в жёлтый цвет, а под деревом — в красный. Где яблок больше — на дереве или под деревом?



1. Рассмотрите рисунки. Сосчитайте, сколько предметов на каждом из них. Нужное число обведите, ненужное — зачеркните.




2. В синюю кастрюлю положи столько красных яблок разного размера, сколько показывает число на кастрюле. В голубую кастрюлю положи столько же больших яблок разного цвета.





3 Какая картинка лишняя? Почему? Покажи её.



4 Мальчик с двумя шариками живёт в высоком доме с одним окном. Мальчик, у которого один шар, живёт в низком доме с двумя окнами. Нарисуй дорожки. Найди один предмет и два предмета и соедини с подходящим числом.

