

Вычитание вида: $6-\square, 7-\square$.
Связь между сложением
и вычитанием.



Школа России
Математика 1 класс



Покажи ответ на числовом веере.

Мама испекла 5 пирожков с мясом, а с изюмом — на 2 пирожка меньше. Сколько пирожков с изюмом испекла мама? Сколько всего пирожков испекла мама?

3 пирожка с изюмом

8 пирожков всего

Покажи ответ на числовом веере.


С горки катались 4 девочки, а мальчиков — на 2 больше. Сколько мальчиков каталось на горке? Сколько всего детей каталось на горке?

6 мальчиков


10 всего

**Если из суммы вычесть одно слагаемое,
получится другое слагаемое.**


$$4 + 2 =$$



$$6 - 2 =$$



$$6 - 4 =$$



21 февр
аля.

3. У белой наседки



а у пёстрой — на 2 цыплёнка меньше.

Сколько цыплят у пёстрой наседки?

Сколько всего цыплят у двух наседок?

Б – 6 ц.

П – ? на 2 ц. <, чем

] ?

1) $6 - 2 = 4$ (ц.)

2) $6 + 4 = 10$ (ц.)

Ответ: 4 цыплёнка у пёстрой наседки.

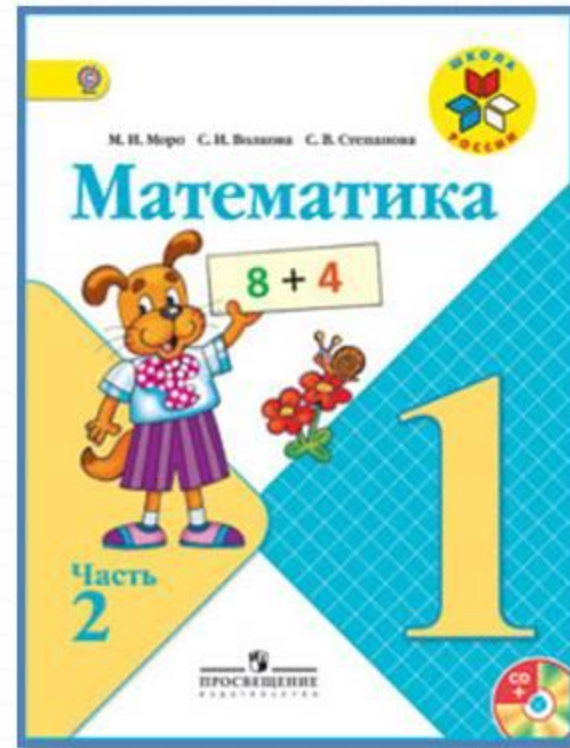

10 цыплят у двух наседок.

Физкультминутка

Воробьишка потянулся,
Распрявился, встрепенулся.
Головой кивнул три раза,
Подмигнул нам черным глазом,
Лапки в стороны развел
И по жердочке пошел.
Прогулялся и присел,
Свою песенку запел:
Чик-чирик-чирик-чирик...



Работа по учебнику



стр. 18

- 1 Утром Дима прочитал 2 страницы книги, а вечером — на 3 страницы больше. Сколько ...
Дима прочитал вечером?

$$2 + 3 = 5 \text{ (с)}$$

Ответ: 5 страниц

$$6 - 4 + 5 = 7$$

$$6 - 5 + 7 = 8$$

$$5 + 4 - 3 = 6$$

$$7 - 6 + 4 = 5$$

$$3 + 3 - 6 = 0$$

$$8 - 7 + 6 = 7$$

Рефлексия

Какие вычислительные приемы мы закрепляли сегодня на уроке?

- Задачи какого вида мы сегодня решали?



