

Тест

Задания В3 ЕГЭ 2012 по математике

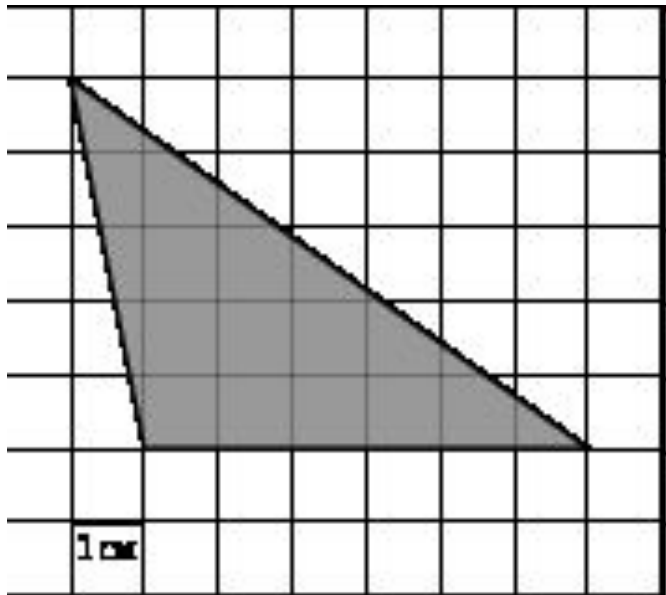


Учитель математики МОБУ СОШ№1 г.
Баймака Ильясова Фируза
Мужавировна

Задание В3 (№ 5085)

1

Найдите площадь треугольника, изображенного на клетчатой бумаге с размером клетки 1 см 1 см. Ответ дайте в квадратных сантиметрах.



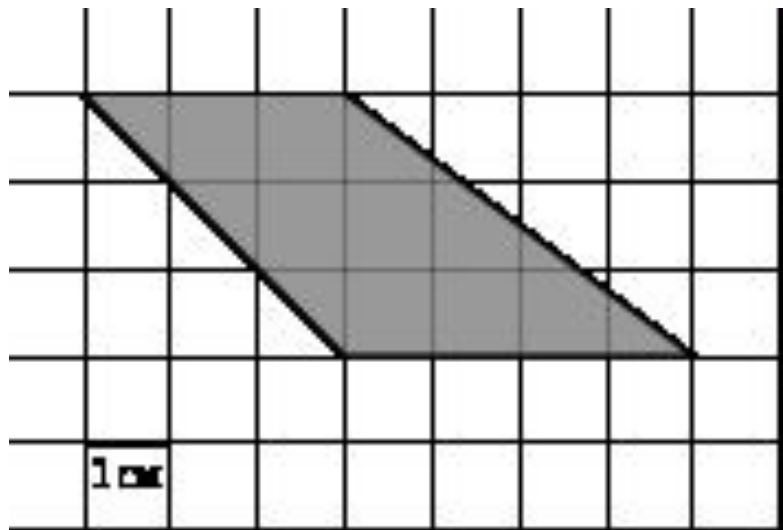
Ответ:



Задание В3 (№ 5193)

2

Найдите площадь трапеции, изображенной на клетчатой бумаге с размером клетки 1 см 1 см (см. рис.). Ответ дайте в квадратных сантиметрах.



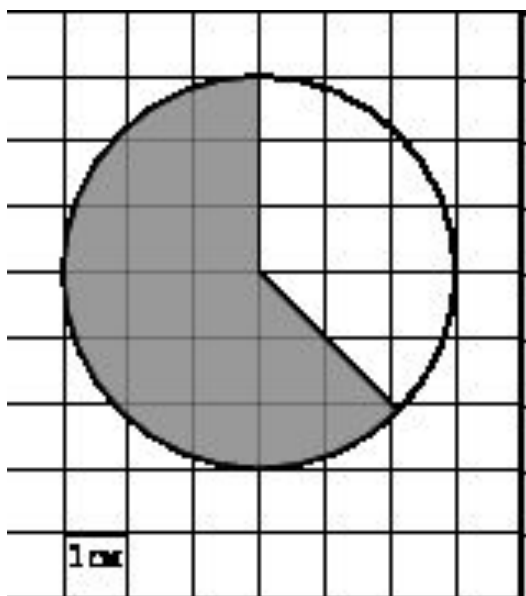
Ответ:



Задание В3 (№ 5303)

3

Найдите (в см²) площадь фигуры, изображенной на клетчатой бумаге с размером клетки 1 см 1 см (см. рис.). В ответе запишите



Ответ:

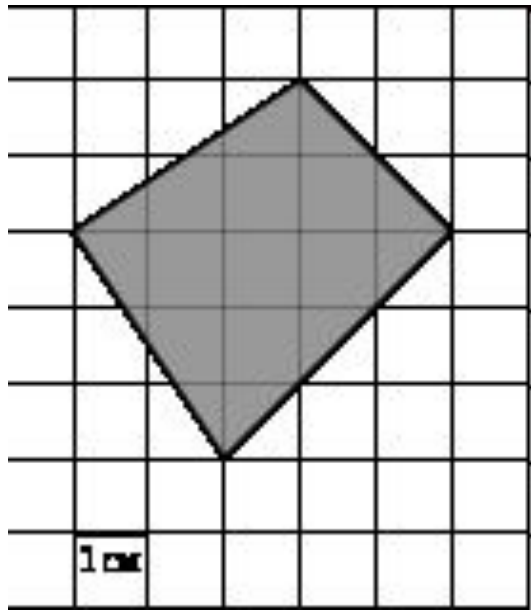


Задание В3 (№ 5309)

ЕГЭ

4

Найдите площадь четырехугольника, изображенного на клетчатой бумаге с размером клетки 1 см 1 см (см. рис.).
Ответ дайте в квадратных сантиметрах



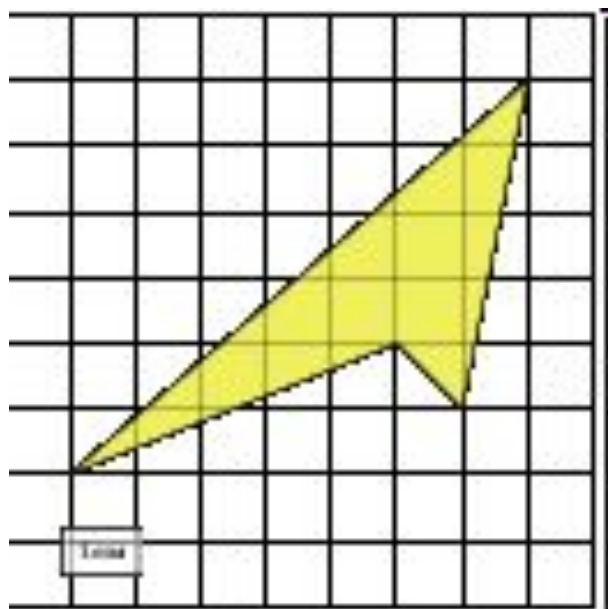
Ответ:



Задание В3 (№ 263405)

5

Найдите площадь четырехугольника, изображенного на клетчатой бумаге с размером клетки 1 см 1 см (см. рис.). Ответ дайте в квадратных сантиметрах.



Ответ:

Результаты тестирования

Оценка

Правильных ответов

Набранных баллов

Ошибки в выборе ответов на задания:

Всего заданий бал.

Снова

Выход

Затрачено времени