

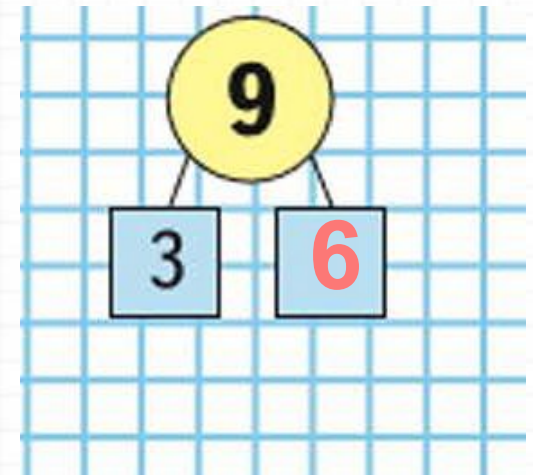
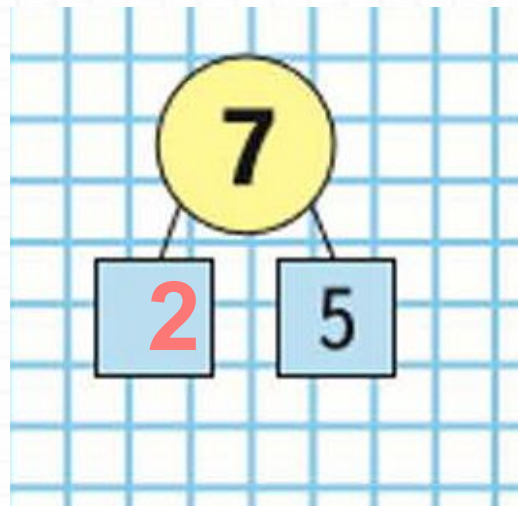
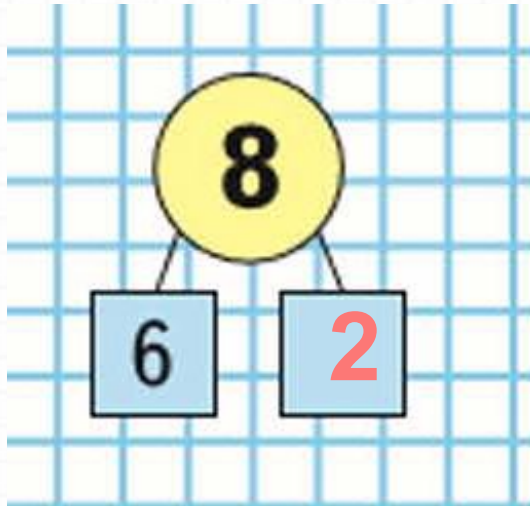
Вычитание из чисел 8,9.
Решение задач".



Школа России
Математика 1 класс



Покажи на числовом веере.



Как называются числа при сложении

$$4 + 5 = 9$$

1

слагаемое

2

слагаемое

значени
е суммы

сумма



Как называются числа при вычитании?

$$9 - 4 = 5$$

уменьшаем
ое

вычитаем
ое

разност
ь

разнос
ть



24 февр
аля.

1.



1) На вешалке было 10 пальто. Дети надели 2 пальто. Сколько пальто осталось на вешалке? $10 - 2 = 8$ (п)

2) На вешалке 8 пальто. Дети повесили ещё 2 пальто. Сколько пальто стало на вешалке? $8 + 2 = 10$ (п)

Учебник с.33 № 2

2. Люся мыла 8 чашек. Вдруг 1 чашка разбилась.

Поставь вопрос и реши задачу.

$$8 - 1 = 7 \text{ (ч)}$$

3. На столе стояло 6 глубоких тарелок и 8 мелких. На сколько больше было мелких тарелок, чем глубоких?

Задача 3

$$8 - 6 = 2 \text{ (ч)}$$

Ответ: на 2 больше

Физкультминутка

Воробьишка потянулся,
Распрямился, встрепенулся.
Головой кивнул три раза,
Подмигнул нам черным глазом,
Лапки в стороны развел
И по жердочке пошел.
Прогулялся и присел,
Свою песенку запел:
Чик-чирик-чирик-чирик...



5. Сколько отрезков на чертеже? 3

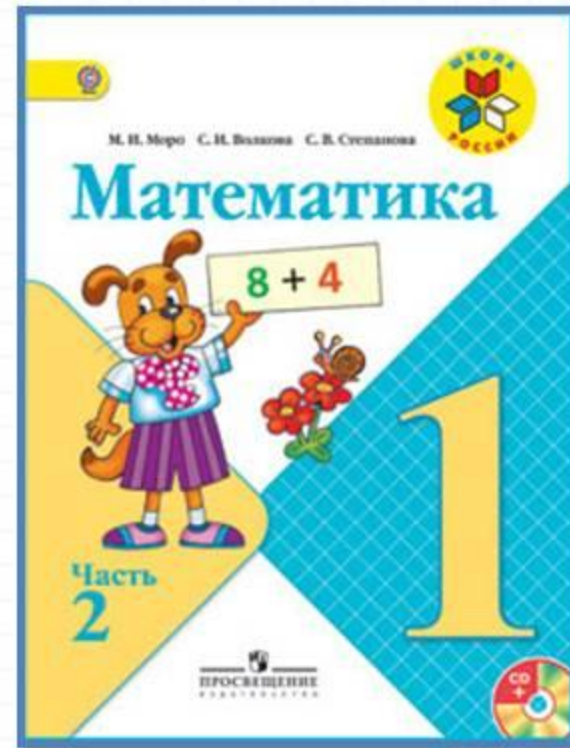


Выполни чертёж в тетради.

Поставь на этом отрезке ещё одну точку.

Сколько всего отрезков получилось? 6

Работа по учебнику



стр. 19

ТНО с.19

- 1 На пруду плавали 4 утки и 8 гусей. На берег вышли 3 утки и столько же гусей. Сколько уток и сколько гусей осталось в воде?

$$4 - 3 = 1 \text{ (у)} \quad \text{Ответ: } 1 \text{ утка.}$$

$$8 - 3 = 5 \text{ (г)} \quad \text{Ответ: } 5 \text{ гусей.}$$

Рефлексия

- Состав каких чисел мы закрепляли сегодня на уроке?
- Какую задачу мы сегодня решали коллективно?



