

«В гостях у Лунтика»

занятие по ФЭМП для детей 6 -7 лет



**Здравствуйте,
ребята! Я
приглашаю вас
познакомиться с
моими друзьями!**




**А вот на этом дереве
– мой дом! Там меня
ждут мои любимые
бабуля и дедуля!**



$$7 + 4 = 11$$


Баба Капа испекла вкусные пирожки! 7 из них с картошкой, а 4 – с капустой. Сколько всего пирожков испекла баба Капа? (для проверки ответа нужно кликнуть мышкой).





$$8 + 6 = 14$$

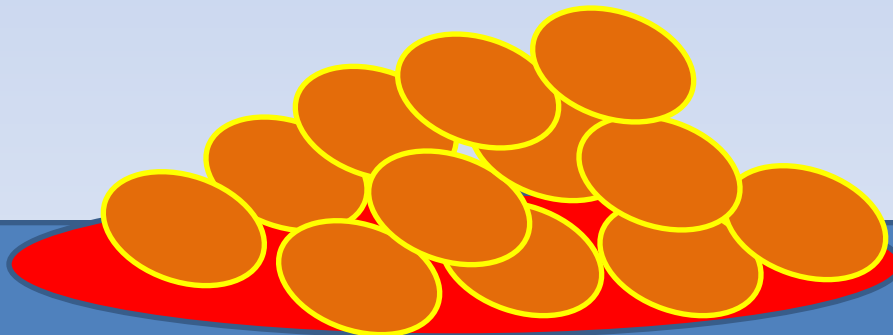
Баба Капа испекла вкусные пирожки! 8 из них с яблоками, а 6 – с грибами. Сколько всего пирожков испекла баба Капа? (для проверки ответа нужно кликнуть мышкой).






$$6 + 6 = 12$$

Баба Капа испекла
вкусные пирожки! 6 из них
с малиной, а 6 – с вишней.
Сколько всего пирожков
испекла баба Капа? (для
проверки ответа нужно
кликнуть мышкой).



Деда Шер решил расставить книги на верхнюю полку в порядке убывания по толщине. Помоги ему расставить книги. Называй цвет книги и щелкай мышкой для проверки.



Деда Шер решил расставить банки с вареньем на среднюю полку в порядке возрастания по размеру. Помоги ему расставить банки. Называй цвет кружка и щелкай мышкой для проверки.



1 2 3 4 5



**Лунтик
прощается и
спешит
дальше!**



Кого увидел Лунтик вдалеке? Почему они такие маленькие? (потому что далеко).






**Вупсень и Пупсень подошли к Лунтику. Теперь они большие.
Почему? (так как близко). Гусеницы не умеют считать предметы.
Поможем им?**

?



Сосчитайте сколько свеклы? (кликните мышкой для проверки). Сколько помидор? Сколько картофелин?



6

7

8

8

9


10

10

11

12

Сосчитайте животных и проверьте ответы.



4

5

mamadelki.ru

7

8

mamadelki.ru

9

10

mamadelki.ru

СПАСИБО, ЛУНТИК!



10

>

9




Сосчитайте, сколько мух поймал паук Шнюк? Сколько комаров? Сравните их количество. Для проверки кликните мышкой.



8

=




8



7

<

13





















Лунтик встретил своего друга Пчеленка., который нес два ведра . В одном были камни, а в другом – перья. Скажите, что легче, что тяжелее?












Пчелен забыл последовательность цветов радуги. Что нужно исправить? Нажмите 4 раза и цвета поменяются.





**А теперь вспомним названия дней недели по порядку.
ПН, ВТ, СР, ЧТ, ПТ, СБ, ВС. (называйте день недели и
нажимайте на мышку, так будет выделяться нужный
кружочек).**





Покорми Жабу Клаву



6

+

4

=


10







15 рублей



20 рублей

Что дороже, а что дешевле?
Почему?

Помоги выбрать платье

Ббочке


Не синее и не
большого размера.
Кликнуть мышкой 2
раза.



Посчитай камни на дорожке. Кликай мышкой и делай проверку!



Какое число загадала Мила?
После семерки, перед
девяткой?



Какое число загадала Мила?
После 11, но перед 13?



12

Какое число загадала Мила?
Перед 20, но после 18?




19

Обратный счет от 10 до 1.



Кузя считает облак



$$10 + 3 = 13$$

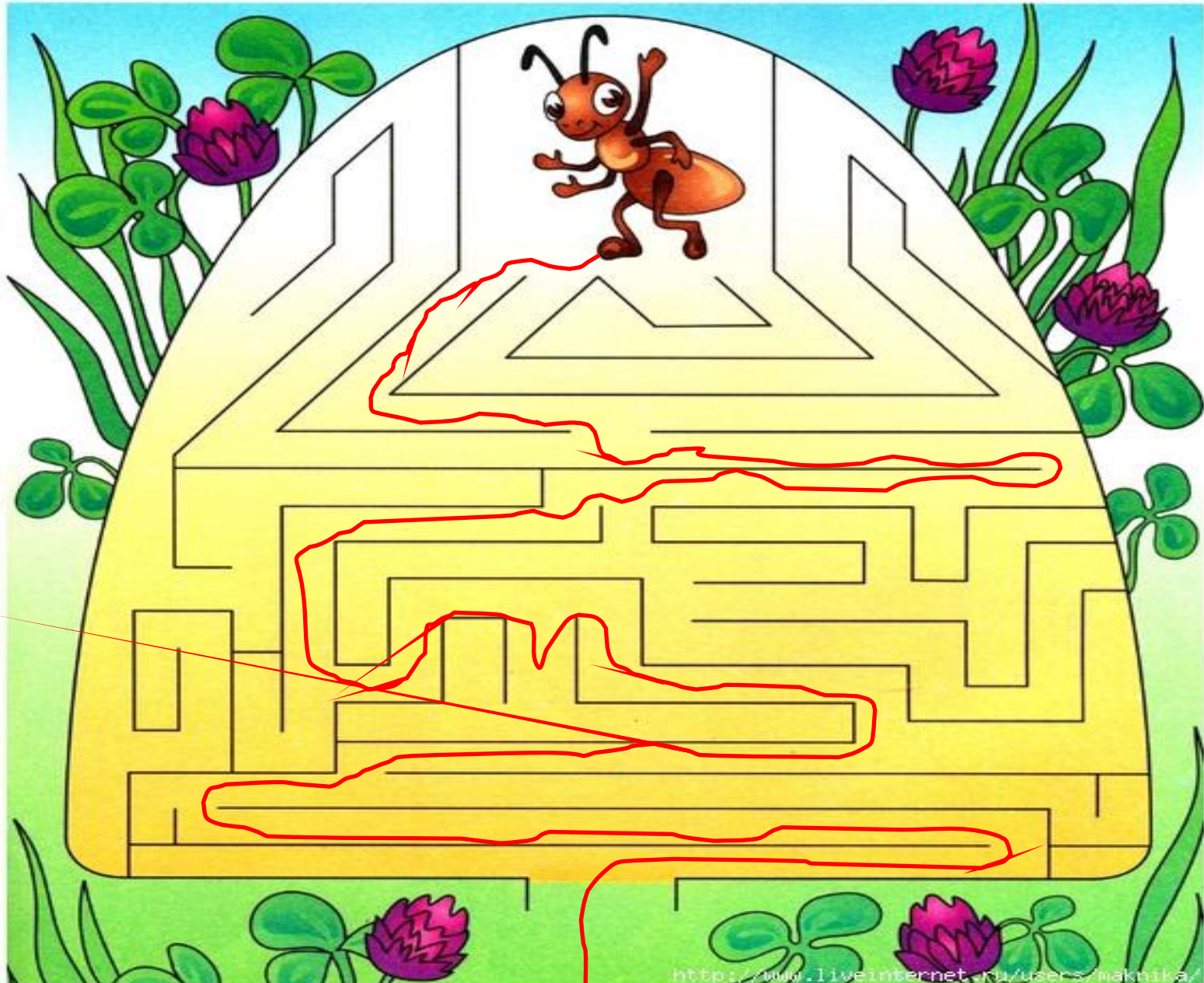
Посчитайте, сколько больших облаков? Сколько маленьких? Сколько всего?



**А это муравейник. А
главный в нем –
муравей – командир. Его
зовут 114-ый (сто
четырнадцатый)!**



Помоги муравью выйти
из муравейника.




Порядковый счет

1 2 3 4 5 6 7 8





Проверь, всем ли муравьям хватит по два ведра?



Назови, кто смотрит влево, а кто вправо?

До
свидани
я,
ребята!

