


Конкурс «Интерактивная мозаика»

Автор: Островская Раиса Валерьевна.

**МБОУ «Средняя общеобразовательная школа №30» г.
Череповца**

Учитель начальных классов (1 категория).



ТЕМА: СРАВНЕНИЕ.

ПРЕДМЕТ: МАТЕМАТИКА.

1 КЛАСС.



Которое яблоко больше?



Правильно!


Новый вопрос




**Будь внимательнее!
Подумай ещё раз!**



Где меньше яблок?



Здесь



Здесь



Молодец!

Новый вопрос



**Будь внимательнее!
Подумай ещё раз!**



Где меньше зелёных яблок?



Здесь



Здесь



Верно!


Новый вопрос



**Будь внимательнее!
Подумай ещё раз!**



Где больше яблок?



Здесь



Здесь



Ты прав!

Новый вопрос



**Будь внимательнее!
Подумай ещё раз!**



Вставь нужный знак.

9...7



Верный выбор!

Новый вопрос



Будь внимательнее!
Подумай ещё раз!



Вставь нужный знак.

5...8



Правильно!

Новый вопрос



Будь внимательнее!
Подумай ещё раз!



Вставь нужный знак.

$$4+5 \dots 1+8$$



Молодец!

Последний вопрос



Будь внимательнее!
Подумай ещё раз!



У кого из этих героев самое короткое имя?

Мальвина

Тортилла

Буратино

Артемон

Пьеро



Поздравляю!
Все задания
успешно
выполнены!



Будь внимательнее!
Подумай ещё раз!



СПИСОК ИСТОЧНИКОВ ИЛЛЮСТРАЦИЙ:

1. <http://english-topics.ucoz.ru/index/0-614>
2. <http://nowa.cc/showthread.php?s=fd1e0886982eb8bfbcea1abb0b833b28&t=352227&page=34>
3. <http://1778.com.ua/index.php?name=news&op=view&id=4216>
4. http://el-bru.ya.ru/replies.xml?item_no=1219

