

Что узнали. Чему научились

6 апреля

$12 : 2 = 6$

и

$16 : 2 = 8$

т

$2 \cdot 5 = 10$

а

$2 \cdot 7 = 14$

у

$18 : 9 = 2$

о

$8 : 2 = 4$

н

$2 \cdot 8 = 16$

б

$2 \cdot 6 = 12$

р

16, 14, 12, 10, 8, 6, 4, 2.

Б у р а т и н о





Умножение - сложение одинаковых слагаемых.



$$2 \cdot 9 =$$

18

2 - множитель

9 - множитель

2 · - произведение

9



$$2 \cdot 2$$





2 · 5





$$4 \cdot 2$$





7 • 2





2 · 3





2 • 6





8 · 2





2 · 9





6 : 2





10 : 2





$$16 : 2$$





18 : 9





8 : 2





4 : 2





12 : 2





Спасите! Помогите решить задачу!


Лиса Алиса запрятала от кота Базилио деньги. Она закопала их в 2 ямки. В каждую ямку она положила по 8 сольдо. Сколько всего сольдо запрятала Лиса?



Проверка

$$8 \cdot 2 = 16 \text{ (с.)}$$

Ответ: Лиса запрятала 16 сольдо.



**- Спасибо,
вы помогли мне!**





Найдите периметр комнаты Карабаса Барабаса

Комната имела форму квадрата.

Длина комнаты 2 метра.

$$2 + 2 + 2 + 2 = 8 \text{ (м.)}$$


$$2 \cdot 4 = 8 \text{ (м.)}$$



**- Спасибо,
вы помогли мне!**



На поляне было 38 колокольчиков.
Пьеро составил для Мальвины 2 букета
по 7 колокольчиков в каждом. Сколько
колокольчиков сорвал Пьеро?



На поляне было 38 колокольчиков.
Пьеро составил для Мальвины 2 букета
по 7 колокольчиков в каждом. Сколько
колокольчиков сорвал Пьеро?



Решение:

$$7 \cdot 2 = 14 \text{ (к.)}$$

Ответ: 14 колокольчиков сорвал
Пьеро.



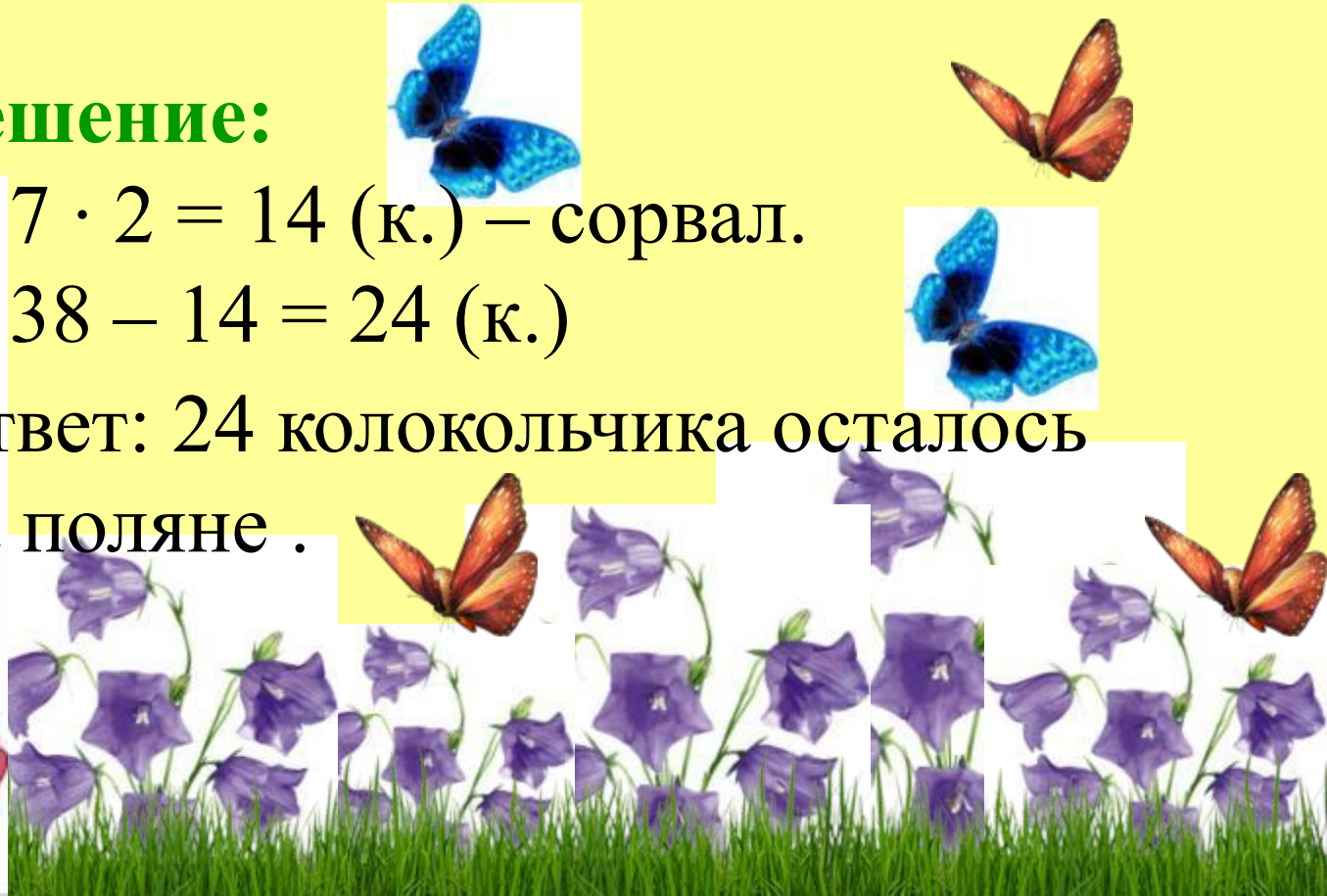
На поляне было 38 колокольчиков.
Пьеро составил для Мальвины 2 букета
по 7 колокольчиков в каждом. **Сколько
колокольчиков осталось на поляне?**

Решение:

1) $7 \cdot 2 = 14$ (к.) – сорвал.

2) $38 - 14 = 24$ (к.)

Ответ: 24 колокольчика осталось
на поляне .





$$9 + 9 + 9 + 9 \quad \text{🍀} \quad 9 \cdot 3$$

$$5 \cdot 4 \quad \text{🍀} \quad 5 + 5 + 5$$

$$8 + 8 + 8 + 8 \quad \text{🍀} \quad 8 \cdot 3 + 8$$

$$3 + 3 + 3 \quad \text{🍀} \quad 3 \cdot 3$$

$$6 \cdot 2 \quad \text{🍀} \quad 6 + 6 + 6$$

$$9 \cdot 5 \quad \text{🍀} \quad 9 \cdot 7 - 9$$

**- Спасибо,
вы помогли мне!**



Реши задачи и отправь решения учителю!

1. Мама купила 3 пакета картофеля по 2 кг в каждом. Сколько килограммов картофеля купила мама?
2. Сколько дней в 5 неделях?
3. Папа купил 4 газеты, по 3 рубля каждая. Сколько всего денег заплатил папа?
4. Барсук весит 10 кг. Сколько весят 3 барсука?