



Единицы массы. Грамм.

Математика

3 класс

Ребусы



2, 1, 3

М

килограмм

К = М



М

грамм


Ч = М



**Урок начнём с соревнования,
Проверим ваши знания.
Беритесь, ребята, скорей за работу,
Считайте, решайте, не сбейтесь со счёту.**



«Кто быстрее?»



$$72 : 8$$


$$+ 51$$

$$: 15$$

$$\cdot 9$$

$$+ 14$$

50



$$56 : 7$$

$$\cdot 5$$

$$- 13$$

$$: 9$$

$$+ 17$$

20

Сравните выражения



$$25 + 26 > 73 - 50$$

51 23

$$37 + 28 < 100 - 21$$

65 79

$$8 \cdot 8 < 100 - 15$$

64 85

$$42 : 7 < 9 \cdot 3$$

6 27

Расставьте числа в порядке возрастания

854, 249, 385, 704, 970, 608

249, 385, 608, 704, 854, 970

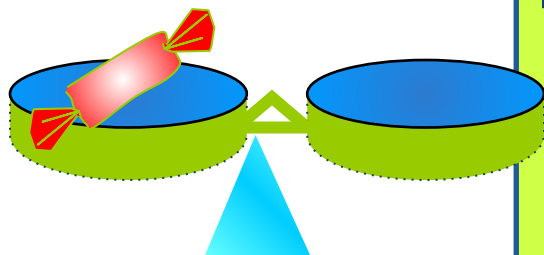
458, 294, 583, 407, 790, 806

294, 407, 458, 583, 790, 806

Найдите значение выражения

a	26	24	9	82
b	3	4	7	1
a · b	78	96	63	82

c	12	6	37	22
k	4	10	1	2
c · k	48	60	37	44

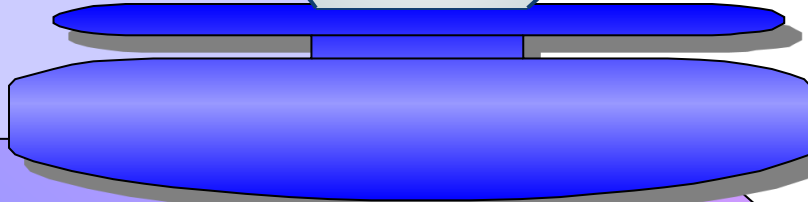
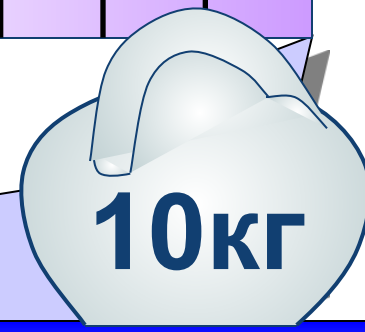
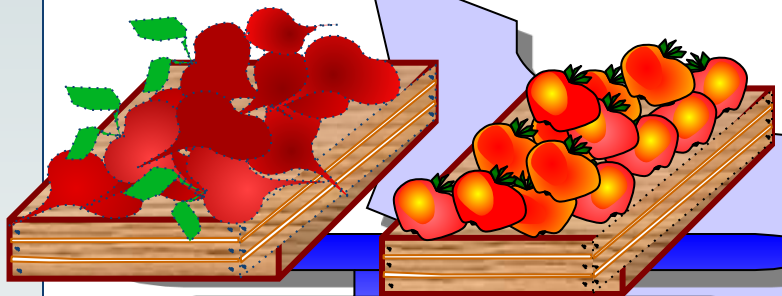
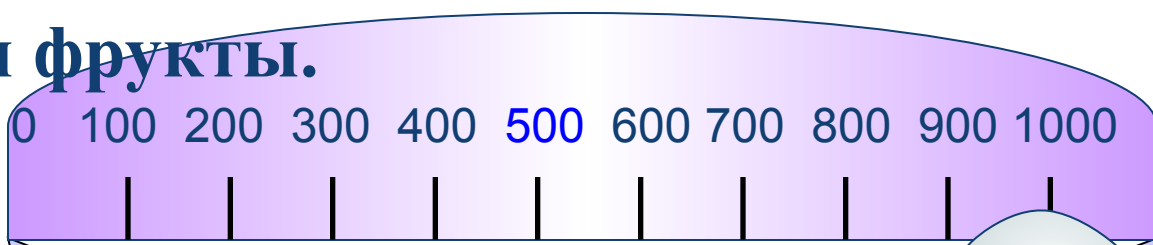


Сегодня к нам на урок
Пришёл Знайка-педагог.
Он принёс весы и гирьки.
Показать он хочет нам
Маленькую единицу
массы
И её название –

ГРАММ




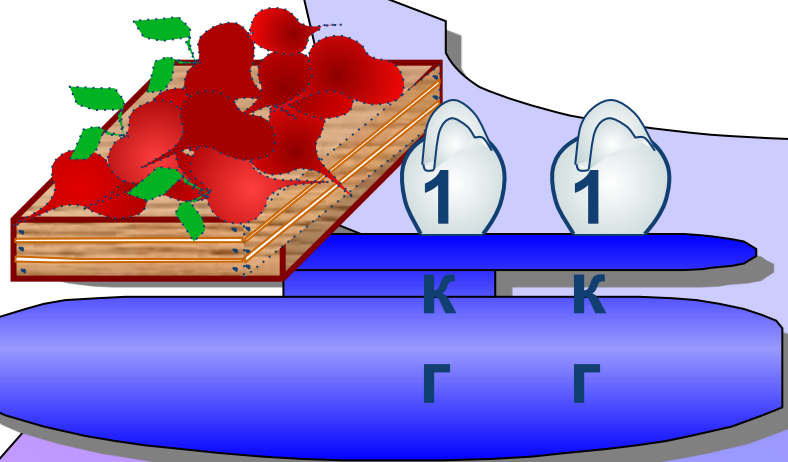
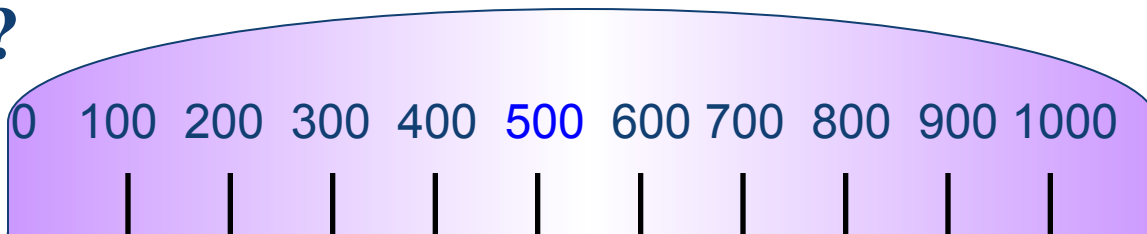
**Открываем магазин,
Продаём продукты,
Вот на чашках весов
Овощи и фрукты.**

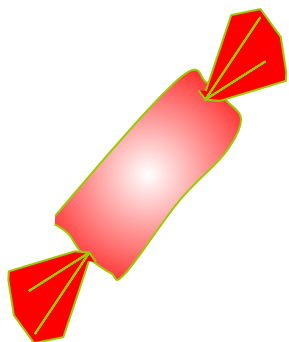
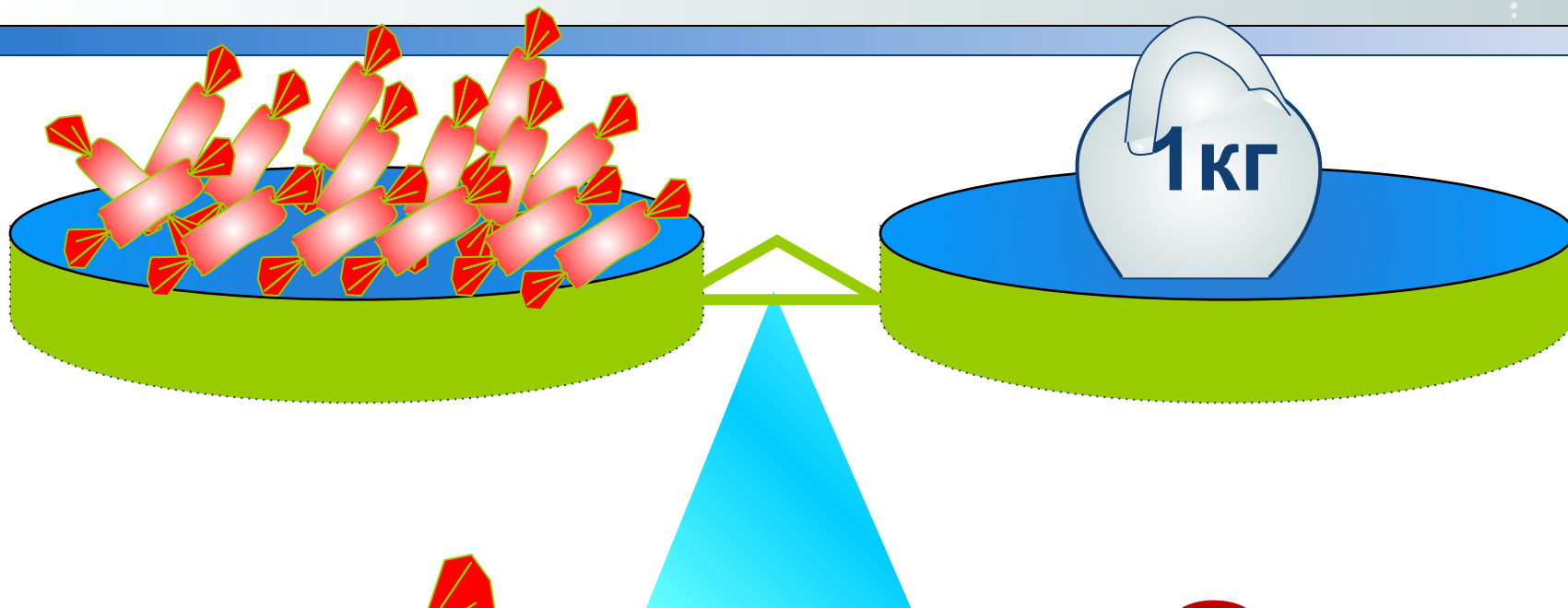




Что можно сказать о массе ящика с яблоками?

Сколько весит ящик с яблоками и ящик со свёклой?





1 кг = 1000 г

Гири



Аптекарские весы



Электронные весы



Старая русская система мер массы

Берковец = 10 пудов = 163,8 килограммов

Пуд = 16,38 килограммов

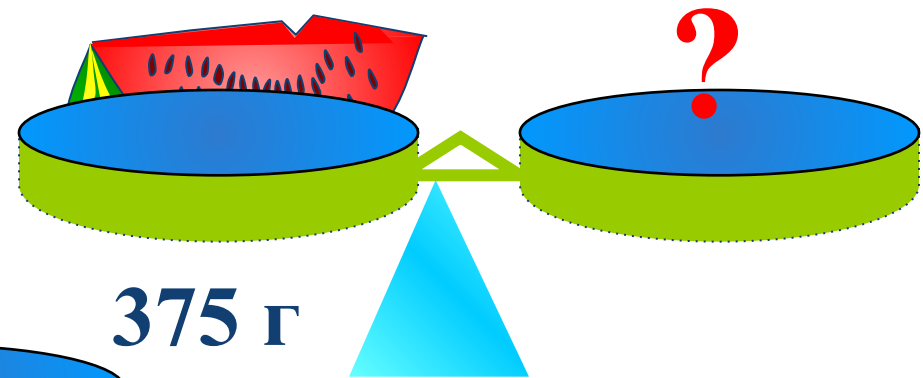
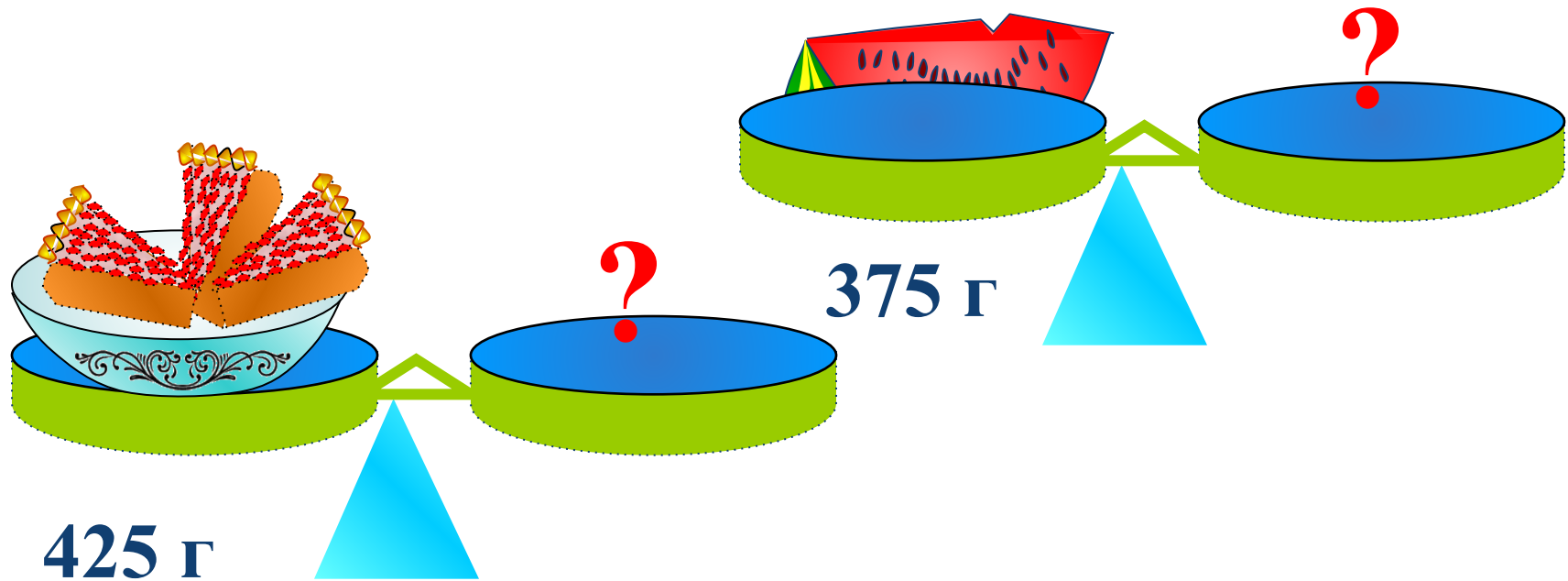
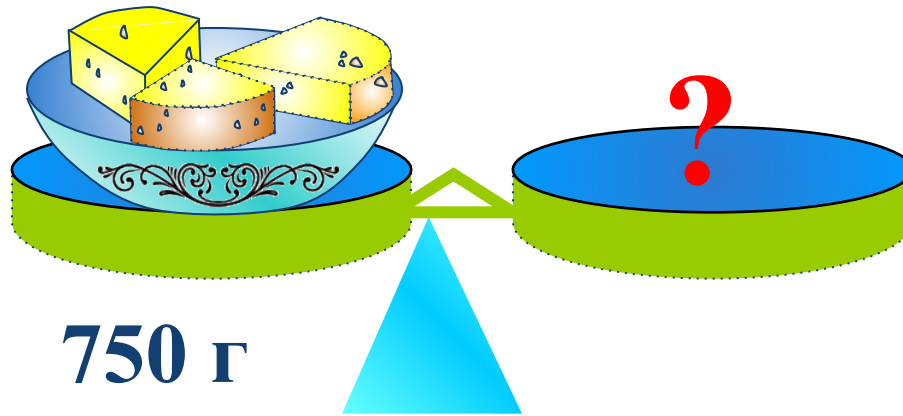
Фунт = 409,5 граммов


Лот = 12,8 граммов

Золотник = 4,26 граммов

Доля = 0,044 граммов

Какие гири потребуются?




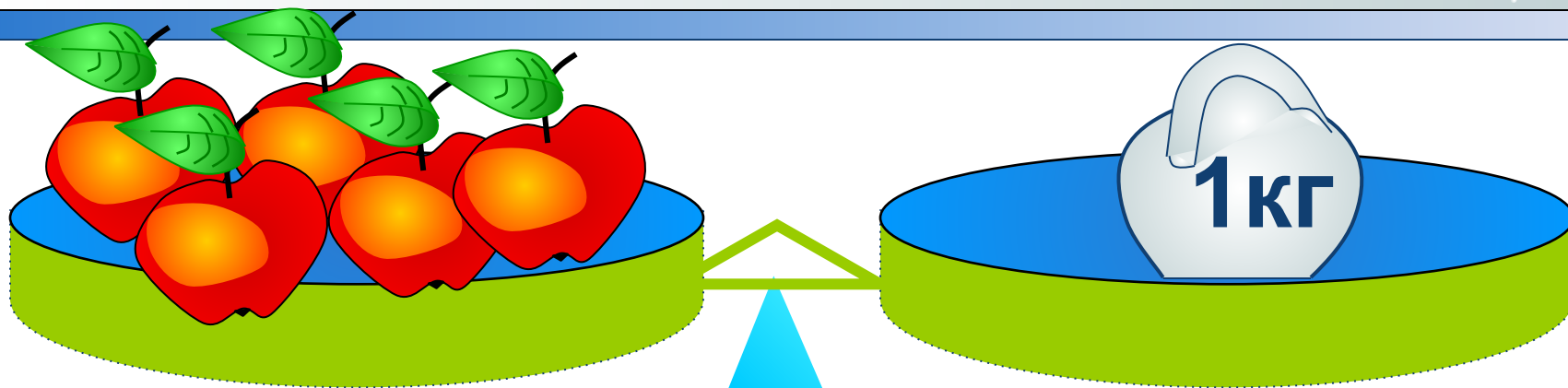


$$100 : 5 = 20$$



$$100 : 4 = 25$$

Составьте и решите задачу



—

?



	Масса 1 пачки	Кол-во пачек	Общая масса
Печенье	200 г	2	? }] на ?
Чай	50 г	2	? }] больше

I – вариант $200 \cdot 2 + 50 \cdot 2 = 500$ (г)

II – вариант $200 \cdot 2 - 50 \cdot 2 = 300$ (г)



МОЛОДЦЫ!