

# Доли. Обыкновенные дроби

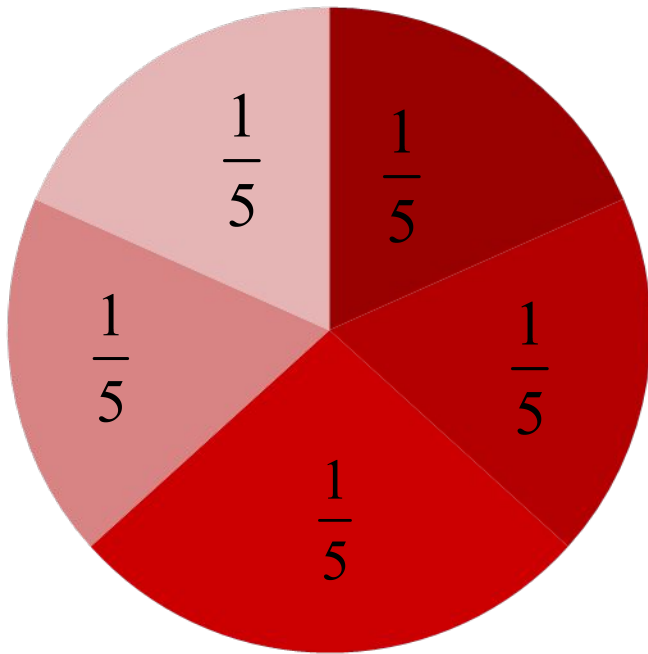
---

Демонстрационный материал

5 класс

# Доли

---



Круг разделен на 5 равных частей.


Эти равные части называют **долями.**

Каждая часть – это  $\frac{1}{5}$  часть круга.

ДОЛ

И

---




---

**Какую долю круга составляет  
выделенная часть?**


# Доли

---



# Какую долю квадрата составляет выделенная часть?


---



$$\frac{1}{16}$$

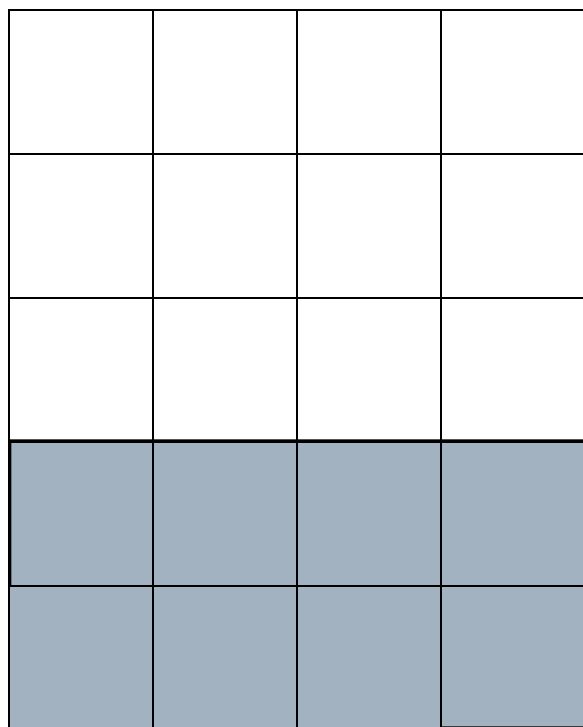


$$\frac{1}{8}$$



$$\frac{1}{8}$$

# Обыкновенные дроби



Прямоугольник разделен на 20 равных частей

Закрашено:  $\frac{8}{20}$

$$\frac{1}{20} \quad \frac{6}{20} \quad \frac{8}{20}$$

- обыкновенные дроби

Раскраска квадрата

# Обыкновенные дроби

---

**5**  
—  
**9**

**числитель**

**знаменатель**

**ПОКАЗЫВАЕТ  
СКОЛЬКО ДОЛЕЙ ВЗЯТО**

**ПОКАЗЫВАЕТ  
НА СКОЛЬКО ДОЛЕЙ ДЕЛЯТ**

---

# Координатный луч

---

Дроби можно изображать на координатном луче

