

Объединение
«Предшкольная пора»
группа № 1
27.01.2017

Педагог ДО: Бушуева Екатерина Владимировна

Окружающий мир

39

Занятие 12

Волшебница вода

Вода в природе творит чудеса.

Посмотри на эти явления природы. Прочитай их названия.



ОБЛАКА



ЛЕДОХОД



ИНЕЙ



ВОЛНЫ



СНЕГОПАД



НАВОДНЕНИЕ

40

Изучаю мир вокруг



РАДУГА



ДОЖДЬ



Проведём интересные опыты.

1-й опыт. Возьми два стакана. В один налей молока, а во второй — воду. Опусть в них ложки. Сравни оба стакана и скажи — в каком стакане ложка видна, а в каком нет.



Неживая природа

41



ЗАПОМНИ!

Вода — это прозрачная, бесцветная жидкость.



2-й опыт. Понохай духи и воду в стакане. Сделай вывод.

ЗАПОМНИ!

Вода не имеет запаха.



3-й опыт. Сравни на вкус чистую воду и подсоленную.

ЗАПОМНИ!

Чистая вода не имеет вкуса.



4-й опыт. Возьми чашку, наполни её водой и заморозь в холодильнике. Во что превратилась вода?

ЗАПОМНИ!

Вода может быть в твёрдом состоянии.

42

Изучаю мир вокруг

5-й опыт. Обрати внимание на пар, который виден при кипении воды в чайнике.



ЗАПОМНИ!

Вода может превращаться в пар.

Отгадай загадки и узнаешь, во что может превратиться вода. Подпиши отгадки.

В огне не горит и в воде не тонет.

(лёд)

Самовар как закипает,
он из-под крышки вылезает.

(пар)

Неживая природа

43



ЗАПОМНИ!

Вода в природе находится в трёх состояниях: жидком, твёрдом и газообразном.



Рассмотри рисунки. Кому необходима вода? Напиши ответ.



Математика



Занятие 4

Счёт предметов.
Примеры вида +1 и -1



Посчитай от 3 до 10, от 6 до 10, от 1 до 8.



Сравни числа, используя слова больше и меньше.

1...2

3...2

1...4

4...1



Ответь быстро:

Сколько у тебя рук?

Сколько у тебя ног?

Сколько голов?

Сколько туловищ?



Придумай задачу, используя рисунок. Запиши решение.



$$\square - \square = \square$$

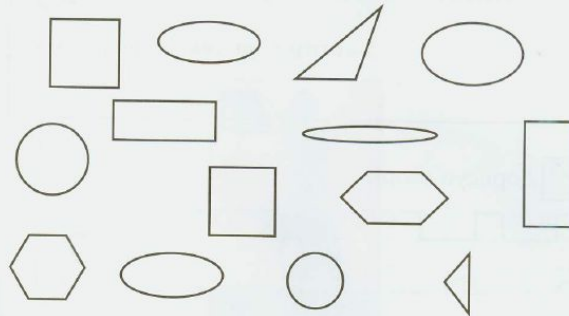


Занятие 4

13



Вспомни, как называется эта фигура. Найди её и раскрась.



2+2

Вспомни правила сложения и вычитания единицы.

Реши примеры, пользуясь числовой прямой.

$$3 + 1 = \square \quad 18 - 1 = \square \quad 12 + 1 = \square$$

$$8 - 1 = \square \quad 13 + 1 = \square \quad 10 - 1 = \square$$

$$4 + 1 = \square \quad 20 - 1 = \square \quad 8 + 1 = \square$$

$$2 - 1 = \square \quad 18 + 1 = \square \quad 16 - 1 = \square$$



14

Занимаюсь математикой





Нарисуй два круга. В одном круге нарисуй квадрат, в другом — треугольник.



Дорисуй узоры.





Напиши цифры.




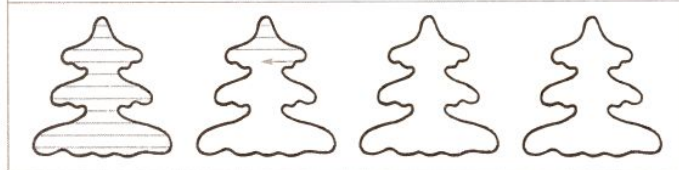
Обучение грамоте

Повторение ранее изученных букв (находим в тексте гласные и согласные буквы)

 Раскрась игрушки на елке в соответствии с их формой.



★ красным
◇ желтым
☆ синим
○ оранжевым



Б

Текст № 26

брат	лист	крыло	ружьё
братья	листья	крылья	ружья
стул	перо	дерево	платье
стулья	перья	деревья	платья

Наша семья

У нас большая семья. У меня есть братья Илья, Андрей и сестра Мария. Я, Илья и Андрей ходим в школу. Маша ходит в детский сад. Наша мама — врач. Она лечит детей. Папа работает на заводе. Он инженер. У нас дружная семья.

Рассказ

Ель и сосна — хвойные деревья. У них вместо листьев иголки — хвоя. А у дуба и берёзы не хвоя, а листья. Это лиственные деревья. Хвойные деревья круглый год зелёные. А у лиственных деревьев листья к зиме опадают, и они стоят до весны голыми. Расскажи, что ты узнал о деревьях.


Загадки

Весной вырастают, а осенью опадают. Что это?
На каких листочках растут слова да строчки?
О чём это?

Графомоторные навыки



Дорисуй вторые половинки картинок.



Ъ

Текст № 27

А Б В Г Д Е Ё Ж З И Й К Л М Н
О П Р С Т У Ф Х Ц Ч Ш Щ Э Ю Я

ел	ехал	въехал	объехал
сел	съехал	въезд	подъём
съел	объехал	отъехал	подъезд

Шутка

Мы ехали, ехали, к речке подъехали, мост переехали, дальше поехали. Ехали, ехали, к горке подъехали, въехали, съехали, дальше поехали. Ехали, ехали, к яме подъехали, яму объехали, дальше поехали. Ехали мы, ехали и домой приехали!

Неделя

В неделе семь дней: понедельник, вторник, среда, четверг, пятница, суббота, воскресенье.

Когда мы так говорим?

Пожалуйста. Спасибо.

Счастливого пути. Спокойной ночи.

Загадка

Поверчу волшебный круг, и меня услышит друг.