

II этап республиканской олимпиады  
по учебному предмету «География»  
2018 год

## **МУЛЬТИМЕДИЙНЫЙ ТЕСТ**

9 КЛАСС

# Уважаемый олимпиадник!

На выполнение заданий мультимедийного теста олимпиадной работы отводится 1 час (60 минут).

Вы имеете право воспользоваться интерактивными возможностями пакета PowerPoint (уменьшать и увеличивать рисунки и фотографии; просматривать слайды в произвольном порядке и в свободном ритме и т.п.).

Ответы на задания мультимедийного теста необходимо вписать в предлагаемый бланк ответов.

По результатам мультимедийного тестирования Вы можете получить максимум 50 баллов.

**ЖЕЛАЕМ ВАМ УДАЧИ!**

**Вопрос 1:** Кому принадлежит гипотеза дрейфа материков?

**Варианты ответа:** А) А. Вегенеру; Б) Б. Варениусу; В) В. Гумбольдту;  
Г) А. Гумбольдту.

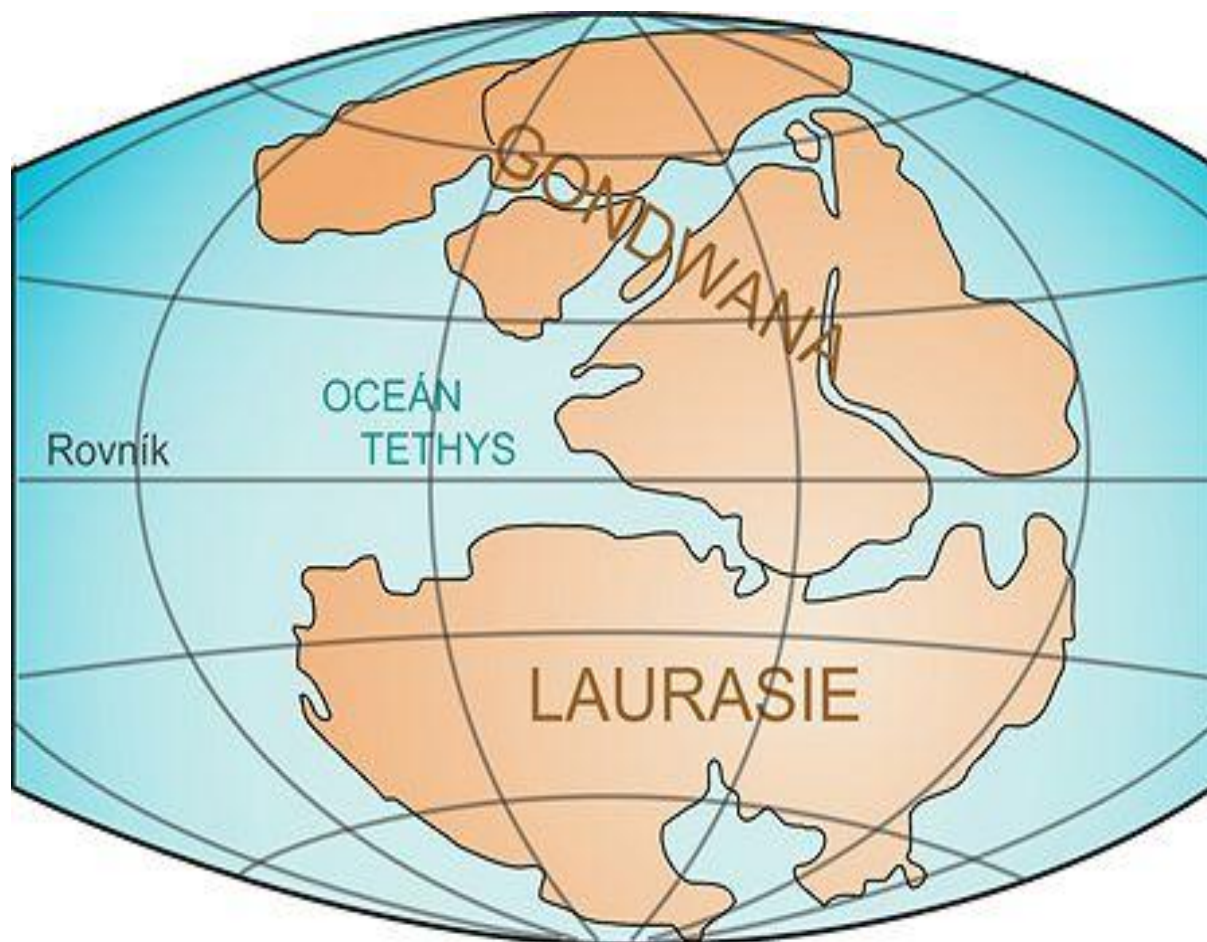
*(За правильный ответ – 2 балла)*



**Вопрос 2:** Какие материки входили в состав Гондваны?

**Варианты ответа:** А) Евразия без полуостровов Индостан и Аравийского;  
Б) Африка, Северная и Южная Америки; В) Антарктида, Австралия,  
Африка; Г) Берингия и Балтика.

*(За правильный ответ – 1 балл)*



**Вопрос 3:** Какой русский ученый является основоположником районного направления в экономической географии?

**Варианты ответа:** А) В.В. Докучаев; Б) К.И. Арсеньев; В) П.А. Кропоткин; Г) Н.М. Пржевальский


*(За правильный ответ – 1 балл)*



**А)**



**Б)**



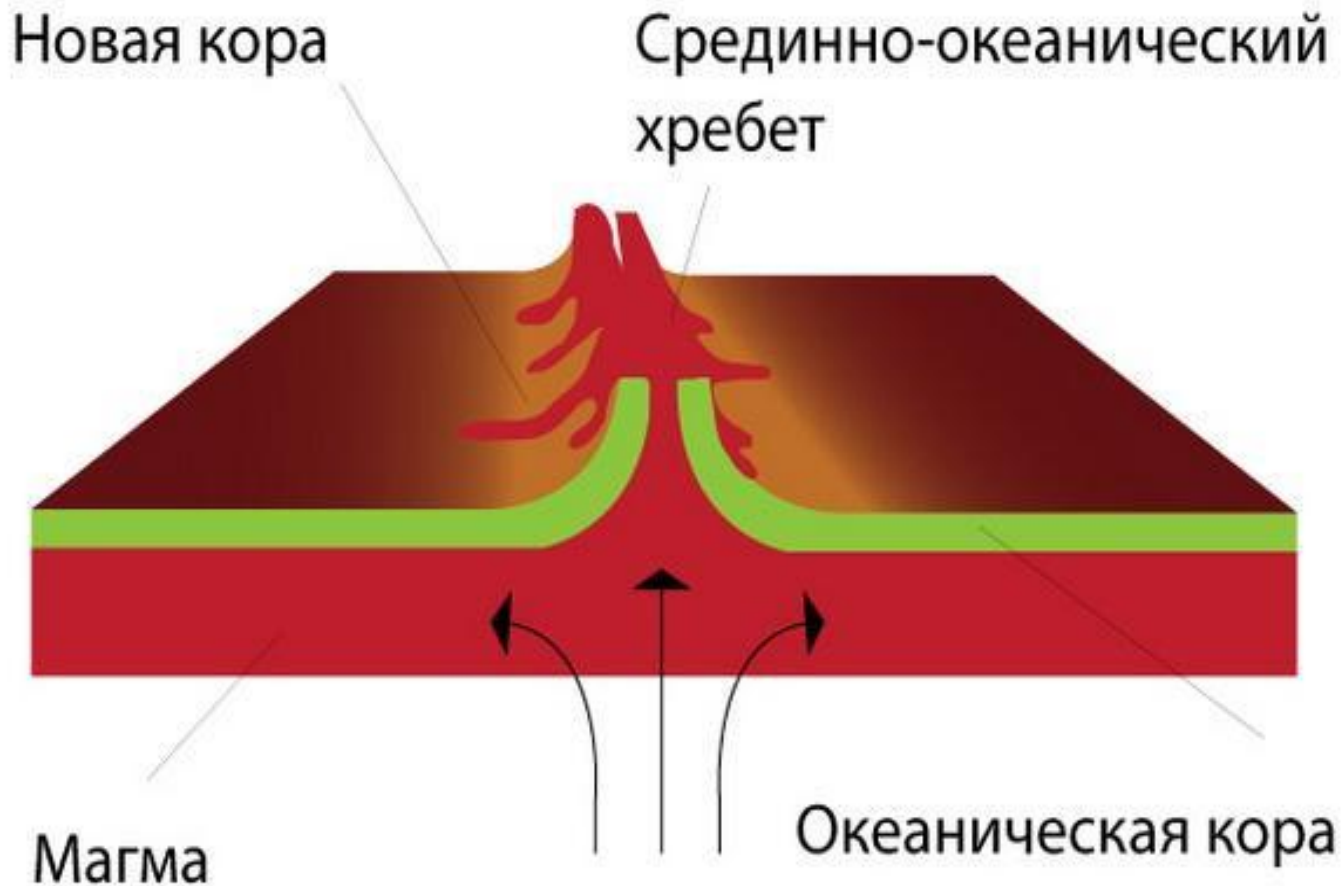
**В)**



**Г)**

**Вопрос 4:** Как называется область раздвижения литосферных плит?  
**Варианты ответа:** А) трансформный разлом; Б) спрединг; В) субдукция; Г) коллизия.

*(За правильный ответ – 1 балл)*



**Вопрос 5:** Назовите крупнейший из известных трансформных разломов на тектонической карте мира?  
(За правильный ответ – 2 балла)



**Вопрос 6:** Посмотрев на данные изображения, назовите город и реку на которой он стоит?  
(За правильный ответ – 2 балла)





**Вопрос 7:** Место самого высокого прилива на Земном шаре?

**Варианты ответа:** А) острова Фиджи; Б) Охотское море; В) залив Мэн; Г) залив Фанди.

*(За правильный ответ – 1 балл)*



**Вопрос 8:** Сколько климатических поясов выделяется по классификации Б.П. Алисова?

**Варианты ответа:** А) 6 основных и 7 переходных,      Б) 7 основных и 6 переходных, В) 5 основных и 6 переходных, Г) 6 основных и 5 переходных.

*(За правильный ответ – 1 балл)*



**Вопрос 9:** Как называется выделенный голубым цветом район США?

**Варианты ответа:** А) «кукурузный пояс», Б) «пшеничный пояс»,  
В) «баптистский центр», Г) «аллея торнадо».

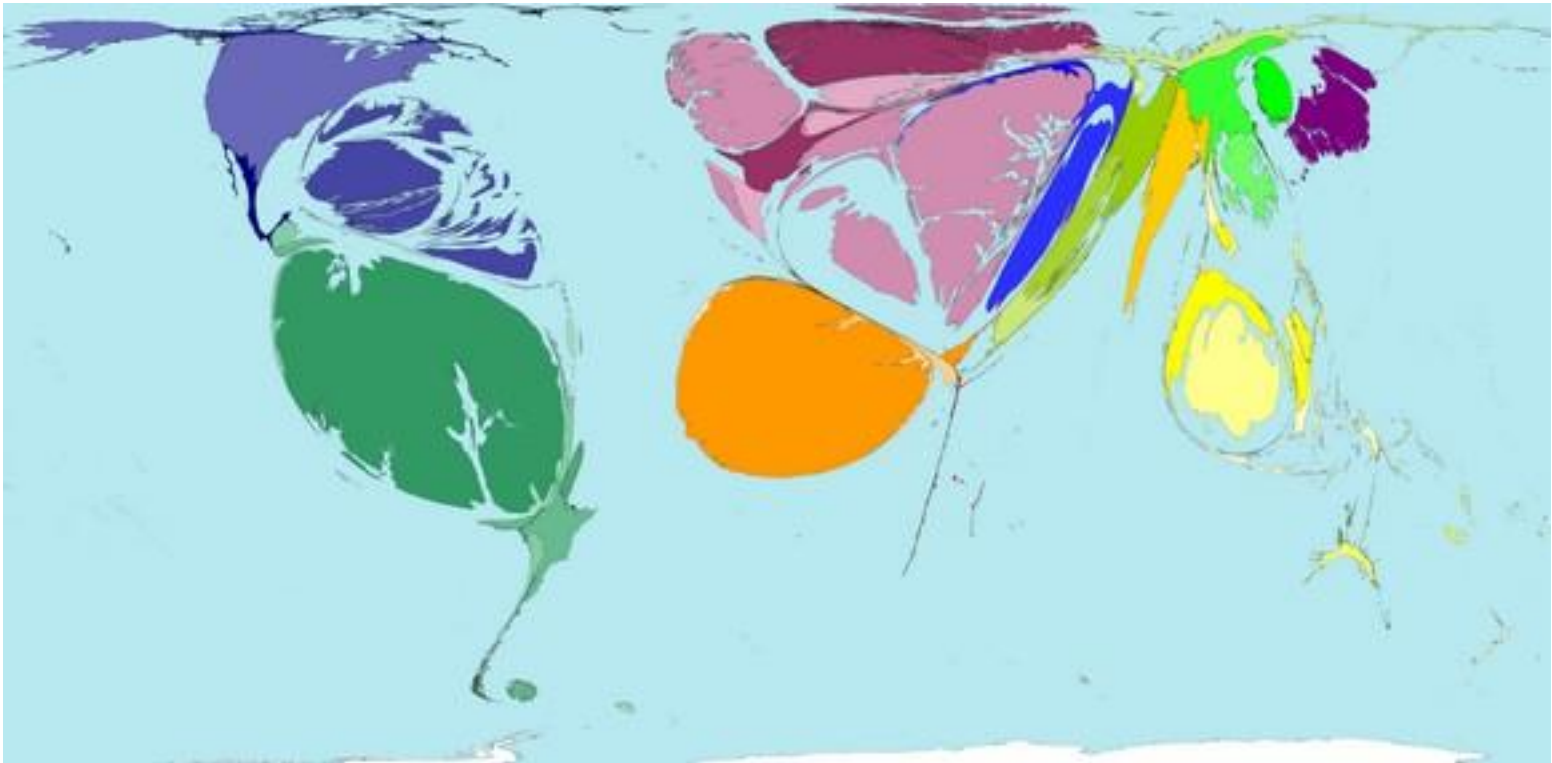
*(За правильный ответ – 1 балл)*



**Вопрос 10:** Определите, какой показатель отображен на карте-анаморфозе?

**Варианты ответа:** А) Количество населения, исповедующего ислам;  
Б) грузооборот нефтяных танкеров; В) Количество врачей на душу населения;  
Г) Доля авиатранспорта в пассажирообороте.

*(За правильный ответ – 1 балл)*



**Вопрос 11:** Этот период начался около 360 миллионов лет назад и закончился 285 млн. лет назад. В начале периода преобладал влажный теплый климат близкий к тропическому. Широкое распространение получили леса. Благодаря им содержание кислорода в атмосфере достигло современного уровня. Влажные девственные леса были идеальны для насекомых и ранних земноводных. Особенно были многочисленны паукообразные (пауки, скорпионы, сольпуги), появляются разнообразные насекомые. Этот период был временем расцвета древних земноводных - стегоцефалов. В середине периода появляются первые пресмыкающиеся. Назовите этот период?

*(За правильный ответ – 2 балла)*



**Вопрос 12:** Определите вымершее живое существо?

**Варианты ответа:** А) Плиогиппус; Б) Гиппарион;

В) Бронтозавр; Г) Индрикотерий

*(За правильный ответ – 1 балл)*



**Вопрос 13:** Визитной карточкой какого города является это произведение современной архитектуры?

**Варианты ответа:** А) Сидней; Б) Монреаль; В) Оттава; Г) Берн.

*(За правильный ответ – 1 балл)*



**Вопрос 14:** Назовите известного русского путешественника?

**Варианты ответа:** А) Марко Поло; Б) П.П. Семенов;

В) А. Никитин; Г) А. Григорьев.

*(За правильный ответ – 1 балл)*





**Вопрос 15:** Это третий по размеру в мире и самый крупный в Новом свете представитель семейства кошачьих. Ареал вида простирается от Мексики на юг до Парагвая и севера Аргентины:

**Варианты ответа:** А) южноамериканский тигр; Б) леопард; В) гепард; Г) ягуар.

*(За правильный ответ – 1 балл)*



**Вопрос 16:** Млекопитающие в озере Байкал представлены единственным эндемичным видом, который изображен на фото. Это животное - реликт фауны палеогена. Время его отделения от общего ствола предков - около 20 тыс. лет. Происхождение животного в Байкале остается по сей день нерешенным вопросом. Большинство исследователей придерживается точки зрения нашего земляка И.Д. Черского о том, что этот зверь проник в Байкал из Северного Ледовитого океана через систему рек Енисей-Ангара в ледниковую эпоху одновременно с байкальским омулем. Назовите это животное.

*(За правильный ответ – 2 балла)*



**Вопрос 17: Соотнесите крайние точки Африки.**

*(За правильный ответ – 4 балла)*

1) северная      А) Рас-Хафун

2) южная        Б) Бен-Секка

3) западная     В) Альмади

4) восточная   Г) Игольный



**Вопрос 18:** Эти человечки символизируют флаг одной арабской страны.  
Назовите ее.

*(За правильный ответ – 1 балл)*



**Вопрос 19:** Назовите город с самой высокой плотностью населения в Беларуси? В какой области он расположен:  
(За правильный ответ – 2 балла)



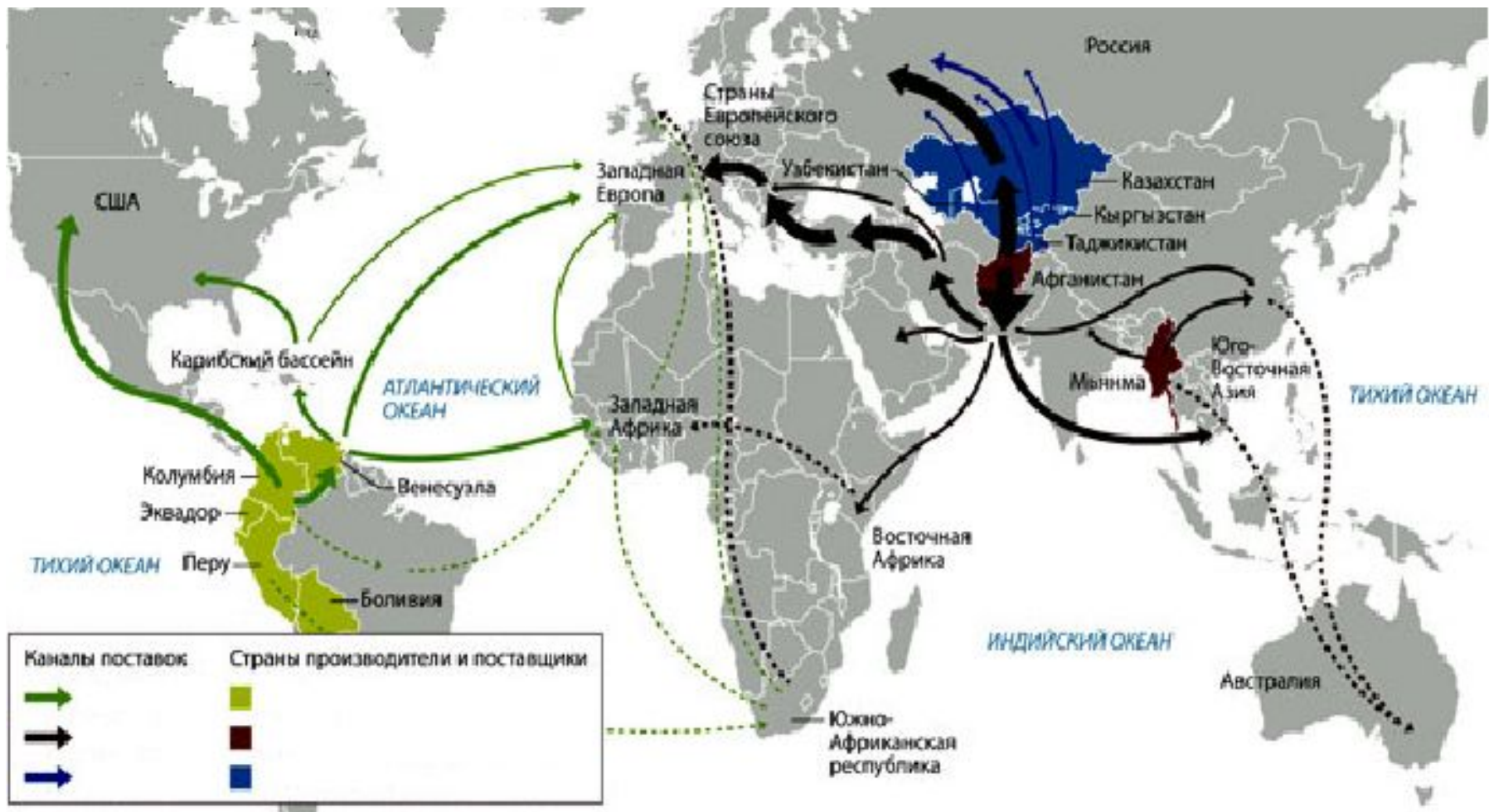
**Вопрос 20:** Определите природное явление?  
(За правильный ответ – 2 балла)



**Вопрос 21:** Перед вами знаменитый объект, расположенный на территории штата Аризона в США. Что это такое?  
(За правильный ответ – 1 балл)



**Вопрос 22:** Укажите, товарооборот чего отражает карта?  
(За правильный ответ – 2 балл)





**Вопрос 23:** Поставьте в соответствие полудрагоценные камни и места их добычи:

**Места добычи:** А) Уральские горы; Б) Афганистан; В) Якутия; Г) Хибины.

**Полудрагоценные камни:** 1) Чароит; 2) Малахит; 3) Бирюза; 4) Аметист.

*За правильный ответ – 4 балла)*

1



2



3



4



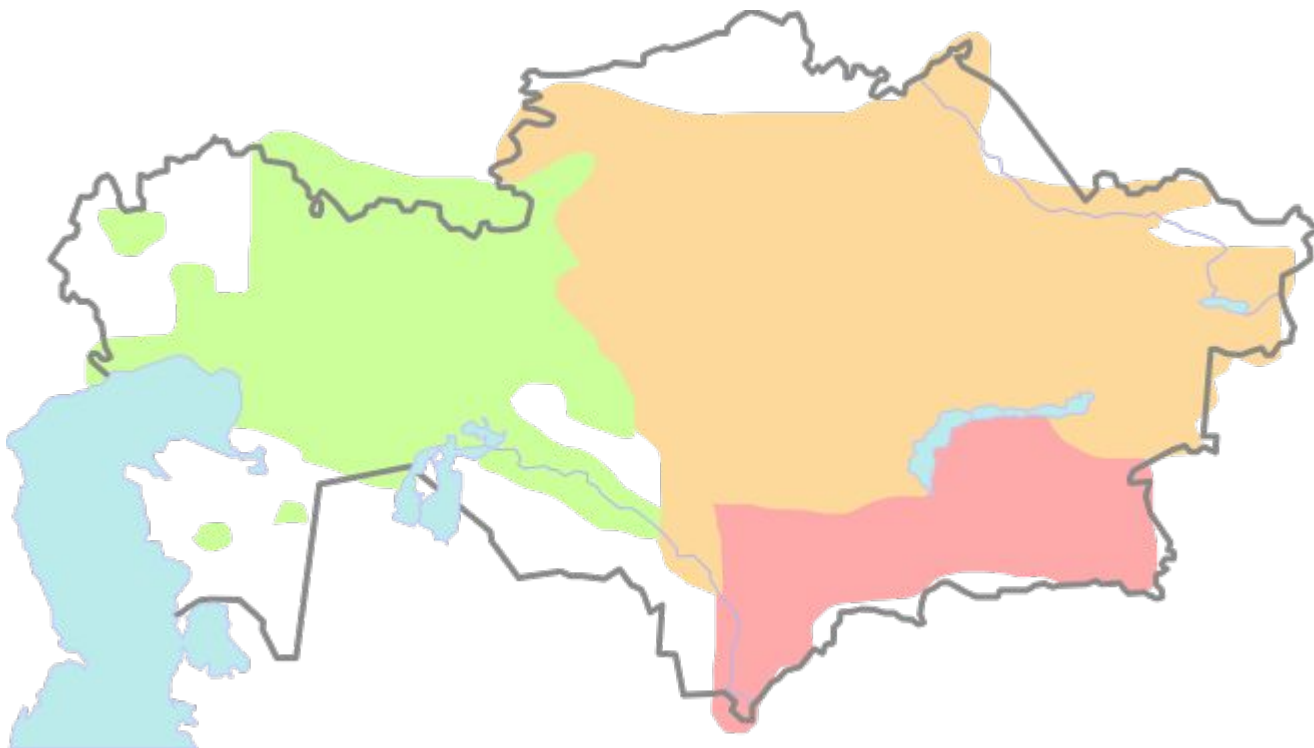
**Вопрос 24:** Какое название имеют исторически сложившиеся объединения казахов?

**Варианты ответа:**

**А) вилоят          В) веляят**

**Б) аймак          Г) жус**


*(За правильный ответ – 2 балла)*



**Вопрос 25:** В каком городе расположен данный объект архитектуры?  
(За правильный ответ – 2 балла)



**Вопрос 26:** Назовите первый штат по плотности населения в США. Вся территория штата относится к городским агломерациям Нью-Йорка и Филадельфии. Столица штата – город Трентон, крупнейший город – Ньюарк. Официальное прозвище – «Штат садов» (Garden State)?  
(За правильный ответ – 2 балла)



**Вопрос 27:** Определите штат США, который известен как «Штат Северной звезды».


*(За правильный ответ – 2 балла)*



**Вопрос 28:** Какой город изображен на плане?  
(За правильный ответ – 2 балла)



**Вопрос 29:** Герб какого города изображен на рисунке?  
(За правильный ответ – 1 балл)



**Вопрос 30:** Какой термин наиболее полно отражает изображенное на рисунке?

**Варианты ответа:**

**А) Урбанизация**

**Б) Джентрификация**

*(За правильный ответ – 2 балла)*

**В) Регионализация**

**Г) Пассаж**

