

Предписывающие знаки

ПРЕДПИСЫВАЮЩИЕ ЗНАКИ



4.1.1
Движение прямо



4.1.2
Движение направо



4.1.3
Движение налево



4.1.4
Движение прямо
или направо



4.1.5
Движение прямо
или налево



4.1.6
Движение направо
или налево



4.2.1
Объезд препятствия
справа



4.2.2
Объезд препятствия
слева



4.2.3
Объезд препятствия
справа или слева



4.3
Круговое движение



4.4
Велосипедная дорожка



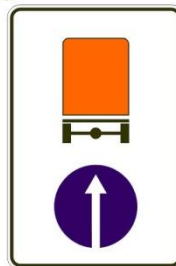
4.5
Пешеходная дорожка



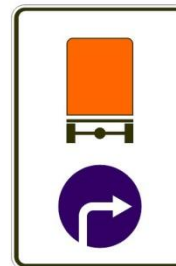
4.6
Ограничение
минимальной
скорости



4.7
Конец ограничения
минимальной
скорости



4.8.1



4.8.2



4.8.3

Направление движения транспортных средств с опасными грузами



В каких направлениях Вам разрешено продолжить движение?

- 1. Только Б**
- 2. Только А или Б**
- 3. В любых**

Правильный ответ: 2

Знак 4.1.4 «Движение прямо или направо» распространяет свое действие на первое пересечение проезжих частей перед которыми он установлен. От действия знака могут отступать маршрутные транспортные средства. Поэтому для Вас разметка 1.7 (прерывистая линия) значения не имеет. (Есть она или нет, к примеру, занесена снегом). Развернуться по траектории



В чем особенность скоростного режима на этом участке дороги?

- 1. Минимальная допустимая скорость движения на этой дороге — 50 км/ч**
- 2. Рекомендуемая скорость движения на этой дороге — 50 км/ч**
- 3. Минимальная допустимая скорость движения по левой полосе — 50 км/ч**

Правильный ответ: 3

Табличка 8.14 «Полоса движения» указывает, что действие знака 4.6 «Ограничение минимальной скорости» распространяется только на ту полосу движения, над которой находится знак.



А



Б



В

Какой из знаков обозначает пешеходную дорожку?

- 1. Только Б**
- 2. Только Б и В**
- 3. Все знаки**

Правильный ответ: 1

Знак «Б» - 4.5.1 «Пешеходная дорожка». («Дорожные знаки»).




Как следует поступить, если Вам необходимо развернуться?

- 1. Развернуться на этом перекрестке при отсутствии на нем других транспортных средств**
- 2. Проехать прямо и развернуться за перекрестком**
- 3. Проехать прямо и развернуться только на следующем перекрестке**

Правильный ответ: 2

Действие знака [4.1.1](#) «Движение прямо», установленного перед пересечением проезжих частей, распространяется на первое пересечение за знаком. В данном случае действует на весь перекрёсток



В каких направлениях Вам разрешено продолжить движение на перекрестке?

- 1. Только Б**
- 2. Б или В**
- 3. А или Б**

Правильный ответ: 3

Разделительная полоса делит дорогу на проезжие части.

Действие знака 4.1.1 «Движение прямо», установленного перед перекрестком, распространяется только на первое пересечение проезжих частей за знаком. Движение по траектории «В» запрещено. Вы можете двигаться по траектории «А» или «Б».



В какой из дворов Вы можете въехать в данной ситуации?

- 1. Только во двор налево**
- 2. Только во двор направо**
- 3. В любой**
- 4. Повороты во дворы запрещены**

Правильный ответ: 2

Знак 4.1.1 «Движение прямо» установлен за пересечением проезжих частей, т. е. в начале участка дороги. Действие его в этом случае распространяется до следующего перекрестка, при этом не запрещается поворот направо во дворы и на прилегающие территории.

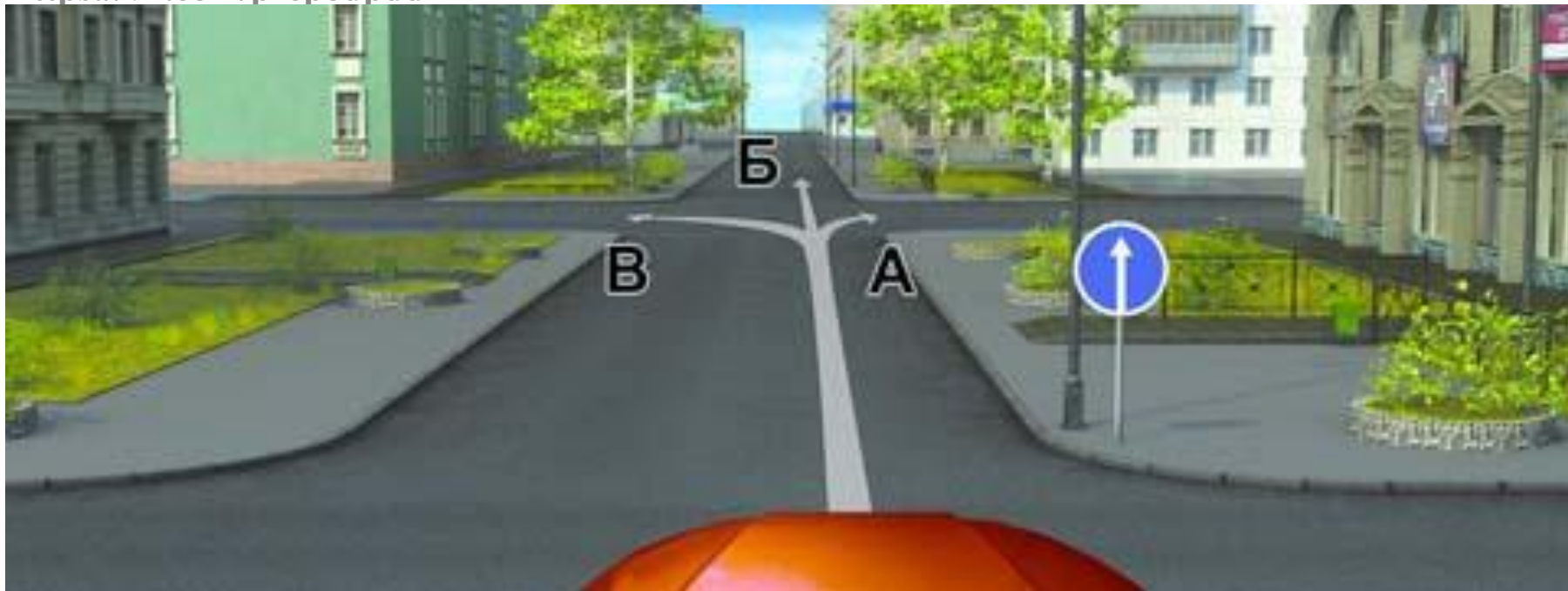


Разрешено ли Вам за перекрестком въехать во двор?

- 1.Да**
- 2.Нет**
- 3.Да, только если Вы проживаете в этом доме**

Правильный ответ: 1

Действие знака 4.1.1 «Движение прямо» в случае его установки перед пересечением проезжих частей (перекрёстком) распространяется только на первое пересечение за знаком. Поворот налево совершается вне зоны действия знака. Ничего противоречащего его выполнению нет. Въезжаете во двор по указанной траектории. («Дорожные знаки»).



В каких из указанных направлений Вы можете продолжить движение на следующем перекрестке?

- 1. Только Б**
- 2. А или Б**
- 3. Во всех**

Правильный ответ: 3

В данном случае знак 4.1.1 «Движение прямо» установлен за пересечением проезжих частей, т. е. в начале участка дороги. Действие знака в такой ситуации распространяется до ближайшего перекрестка. Поэтому Вы можете продолжать движение во всех указанных направлениях. («Дорожные знаки»).



В каких направлениях Вам разрешено продолжить движение на перекрестке?

- 1. Только прямо**
- 2. Прямо или налево**
- 3. Прямо или в обратном направлении**

Правильный ответ: 1

В случае установки знака 4.1.1»»Движение прямо»» непосредственно перед пересечением проезжих частей движение разрешается только прямо. («Дорожные знаки»»).



По какой траектории Вы можете выполнить разворот?

1. Только по А
2. Только по Б
3. По любой

Правильный ответ: 2

Действие знака 4.1.1 «Движение прямо» в случае установки его перед пересечением проезжих частей, распространяется только на первое пересечение за знаком. Вы можете выполнить разворот по траектории «Б». («Дорожные знаки»).



В каких направлениях Вам разрешено продолжить движение на легковом автомобиле?

- 1. Только прямо**
- 2. Только налево или направо**
- 3. В любых**

Правильный ответ: 3

Табличка 8.4.1 «Вид транспортного средства» распространяет действие знака, с которым она применена, на грузовые автомобили, в том числе с прицепом, с р. м.м. более 3,5 т. Вы управляете легковым автомобилем, действие знака на Вас не распространяется. Можете продолжать движение в любом



В каких направлениях Вам разрешено продолжить движение на грузовом автомобиле с разрешенной максимальной массой 3 т?

- 1. Только прямо**
- 2. Только налево или направо**
- 3. В любых**

Правильный ответ: 3

Табличка под знаком 8.4.1 «Вид транспортного средства» распространяет действие знака 4.1.1 «Движение прямо» на грузовые автомобили, в том числе с прицепом, с разрешенной максимальной массой (далее р. м.м.) более 3,5 т.



А



Б



В

Какие знаки обязывают водителя грузового автомобиля с разрешенной максимальной массой до 3,5 т повернуть направо?

1. Только А
2. Только Б
3. А и Б
4. Б и В

Правильный ответ: 2

Только требования предписывающего знака «Б» - [4.1.2](#) «Движение направо» - из обозначенных обязательны для всех транспортных средств. От его действий могут отступить маршрутные транспортные средства: трамвай, троллейбус, автобус.



По какой траектории Вы можете продолжить движение?

1. Только по А
2. Только по Б
3. По любой

Правильный ответ: 1

Разделительные полосы делят дорогу на смежные проезжие части. Действие знака 4.1.2 «Движение направо», установленного перед пересечением проезжих частей, распространяется на первое пересечение. Можете продолжить движение только по траектории «А». (Пункт 1.2 термин «Разделительная полоса», «Дорожные знаки»).



А



Б



В

Какие знаки разрешают движение со скоростью 60 км/ч?

1. Только Б

2. Б и В

3. Ни один из знаков

Правильный ответ: 2

Знаки: «Б» - 4.6 «Ограничение минимальной скорости», «В» - 6.2 «Рекомендуемая скорость». («Дорожные знаки»).



Разрешен ли Вам разворот в указанном месте?

- 1. Разрешен**
- 2. Не разрешен**

Правильный ответ: 2

Движение на перекрестке, обозначенном знаком 4.3 «Круговое движение», организовано по кругу в направлении стрелок. Указанная траектория проходит во встречном направлении, что недопустимо. Для разворота следует выехать на перекресток и совершить «круг почета». («Дорожные знаки»).



А



Б



В

Какие знаки разрешают разворот?

- 1. Все, кроме В**
- 2. Все**
- 3. Только А**

Правильный ответ: 2

Предписывающие знаки, к которым относится знак А - 4.1.3 «Движение налево», разрешающие поворот налево, разрешают и разворот. Знак В - 5.7.1 «Въезд на дорогу с односторонним движением» запрещает поворот налево, но не запрещает производить разворот. Чаще всего и водители, и сотрудники ГИБДД или забывают, или не знают, что знак Б

**Предписывающие
знаки
Ваши вопросы по
теме?**