


Реттік санау

Бұл сабақта сен:



□ Заттарды ретімен санауды және олардың реттік нөмірін анықтауды үйренесің.

Қайталау

Суреттерді сандармен сәйкестендір:



2


5

7



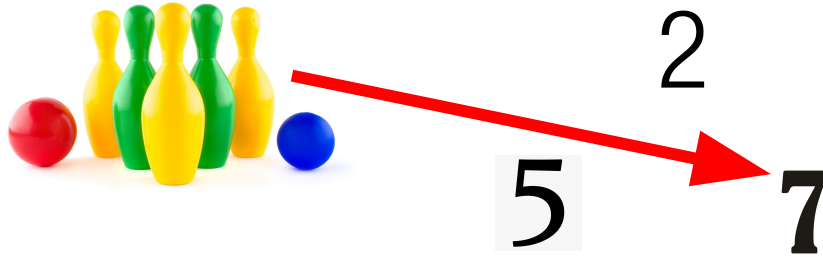
8

3



Қайталау

Суреттерді сандармен сәйкестендір:



8

3



Қайталау

Суреттерді сандармен сәйкестендір:



2



5

7

8



3



Қайталау

Суреттерді сандармен сәйкестендір:



8

5

2

7

3



Қайталау

Суреттерді сандармен сәйкестендір:



2
5 → 7



8

3



Қайталау

Суреттерді сандармен сәйкестендір:



2



5

7



8

3



Жарайсыздар, енді бірге тексерейік!

7



5



2



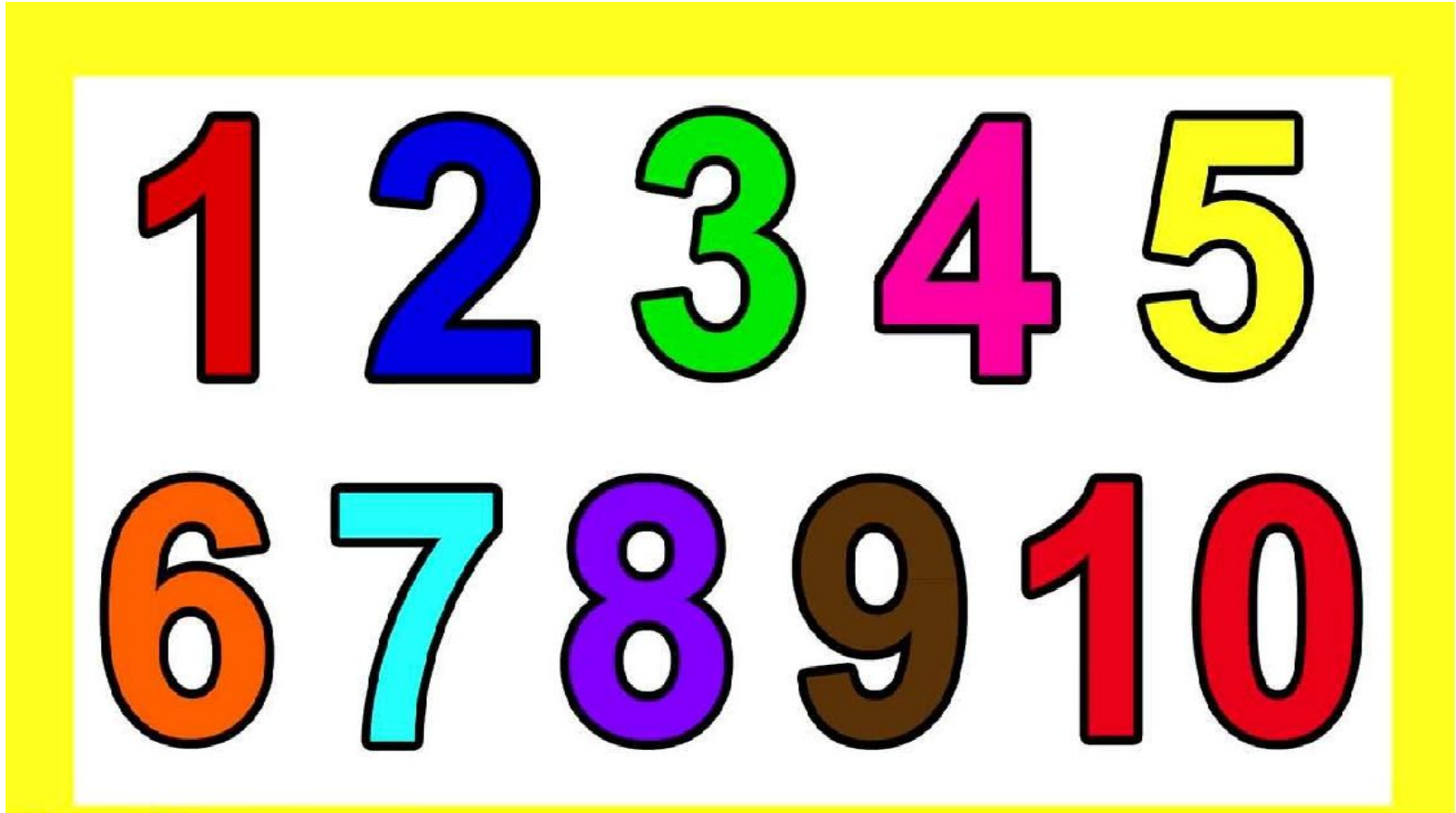
3



8



10 көлемінде тура және кері санауды қайталайық.



Жаңа сабақ



Суретте берілген үйлерді нөмірлеп көрейік. Бірінші, екінші, үшінші, төртінші, бесінші, алтыншы, жетінші, сегізінші, тоғызыншы, оныншы.



2-тапсырма Ойыншықтар дүкенінде



1



2



3






4




5

Бекіту. Шаршыларды бірге ретімен санап шығайық:



Сұрақтарға жауап бер:



- 1. Солдан оңға қарай санағанда жасыл түс нешінші тұр?*
- 2. Оңнан солға қарай санағанда жасыл нешінші тұр?*
- 3. Солдан оңға қарай санағанда қара шаршы нешінші тұр?*
- 4. Оңнан солға қарай санағанда қара шаршы нешінші тұр?*

Кері байланыс

Бүгінгі сабақта не білдік:

- ✓ *заттарды ретімен санауды және олардың реттік нөмірін анықтауды білдік;*
- ✓ *реттік нөмері бойынша тура және кері санай алдық.*

Жарайсыздар!

Келесі сабақта кездескенше!

