

Случаи сложения

вида  $+ 8$ ,  $+ 9$

стр. 71

Урок № 104



*Школа России*  
*Математика 1 класс*





*Устный счёт*

Сосчитай круговые примеры, запиши их в тетрадь.

$$14 - 5$$

$$12 + 2 =$$



$$11 - 4 =$$

$$9 + 7 =$$

$$7 + 5 =$$

$$16 - 5 =$$

$$14 - 5 = 9$$

$$11 - 4 = 7$$

$$9 + 7 = 16$$

$$7 + 5 = 12$$

$$16 - 5 = 11$$

$$12 + 2 = 14$$

В автобусе было **16** пассажиров. На остановке вышло **6** человек и вошло **3**. Сколько пассажиров едет в автобусе?



?

$$16 - 6 + 3 =$$



У Даши было **18** рублей. Она купила рогалик за **8** рублей и булочку за **9** рублей. Сколько денег осталось у Даши?

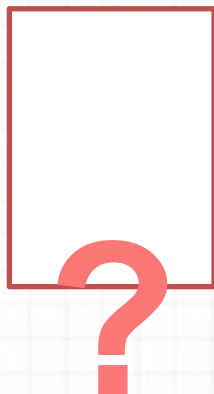


?

$$18 - 8 - 9 =$$



После того как съели **6** пряников, их осталось **10**.  
Сколько было пряников первоначально?


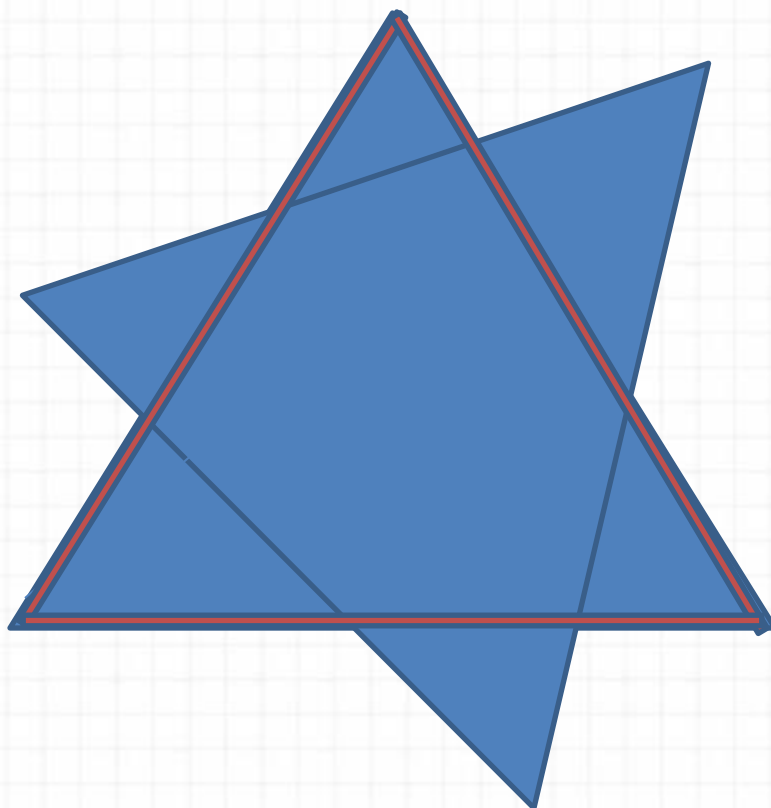


$$6 + 10$$





Сколько треугольников в данной фигуре?



Расскажи, как удобнее прибавить 2 слагаемое.



$$7 + 7 = 7 + \underline{\quad} +$$


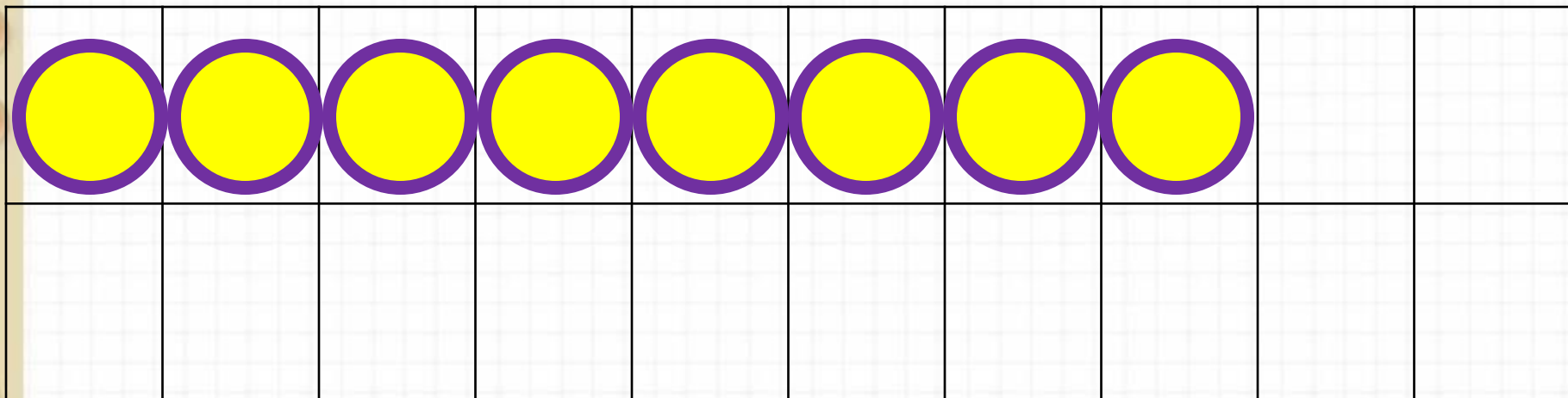
$$\underline{\quad} 9 + 6 = 9 + \underline{\quad}$$

$$+ \underline{\quad} 8 + 5 = 8 + \underline{\quad} +$$




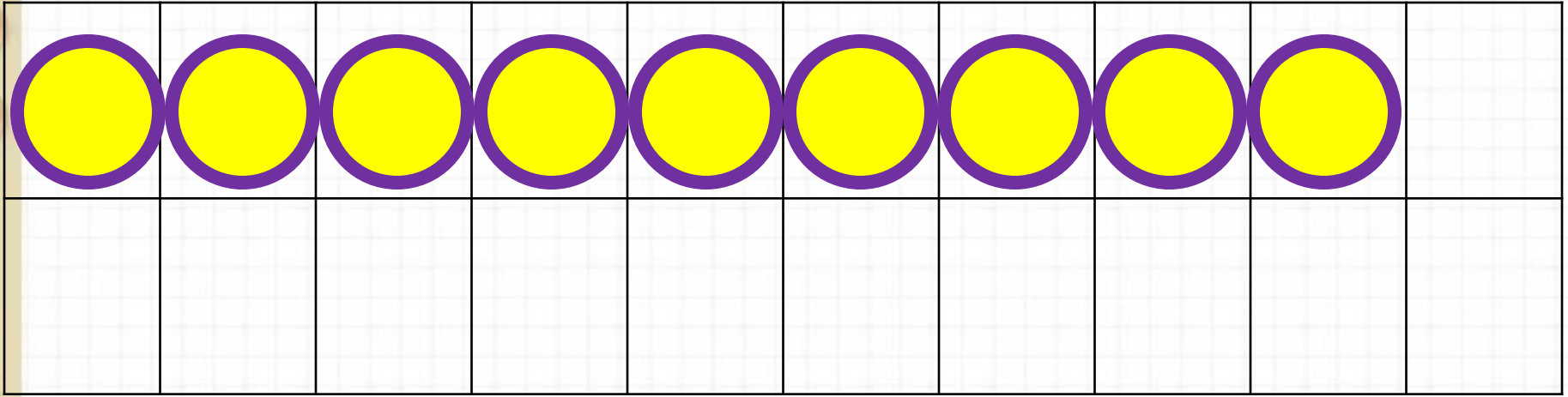
# Новый материал






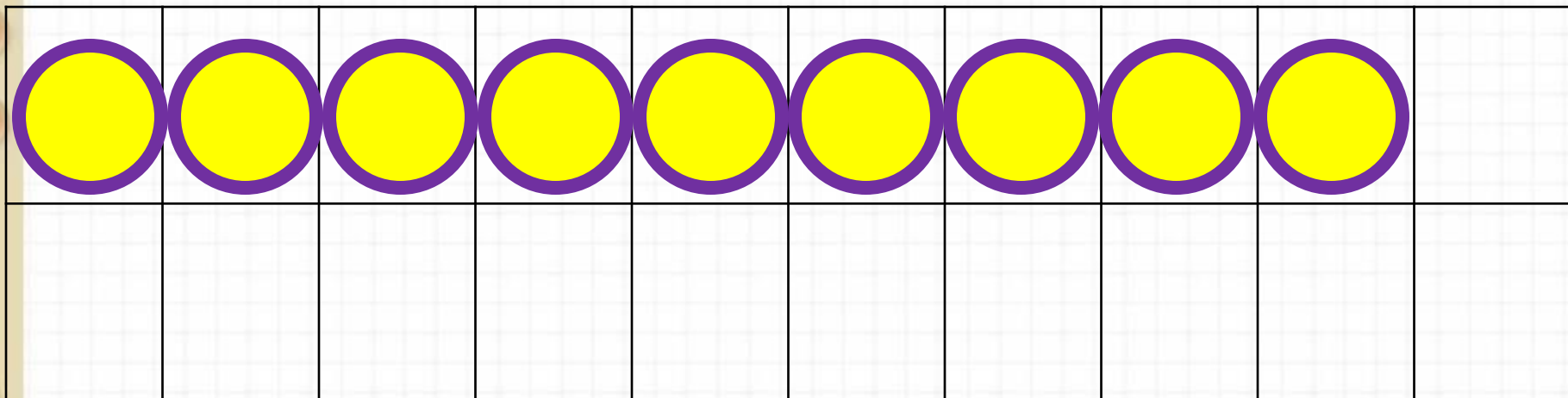
$$8 +$$

$$8 + 2 +$$



$$9 +$$

$$9 + 1 +$$



$$9 +$$

$$9 + 1 +$$

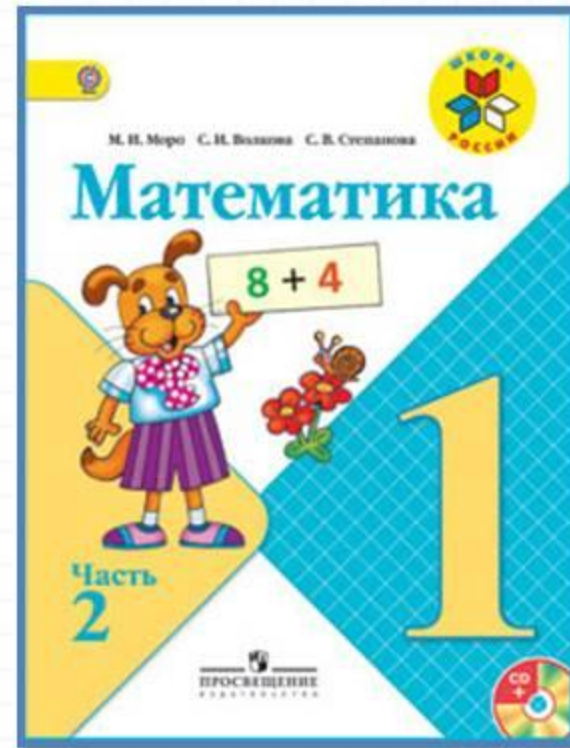
# Запомни!

$$8 + 8 = 16$$

$$9 + 8 = 17$$

$$9 + 9 = 18$$

# Работа по учебнику



стр. 71

# Выучи наизусть

Объясни, как к числу прибавить 8; как к числу прибавить 9.

$$\begin{array}{r} 8 + 8 \\ \hline 8 + \square + \square \end{array}$$

$$\begin{array}{r} 9 + 8 \\ \hline 9 + \square + \square \end{array}$$

$$\begin{array}{r} 9 + 9 \\ \hline 9 + \square + \square \end{array}$$

**Запомни!**

$$8 + 8 = 16$$

$$9 + 8 = 17$$

$$9 + 9 = 18$$

# Выполни устно упр.1,4

1.  $5 + 5$  |  $6 + 6$  |  $7 + 7$  |  $5 + 9$  |  $4 + 7$   
 $5 + 6$  |  $6 + 7$  |  $7 + 8$  |  $9 + 5$  |  $7 + 4$

2. В баке машины было 9 л бензина. При заправке в бак залили ещё 10 л бензина. На поездку в город израсходовано 10 л бензина. Сколько литров бензина осталось в баке?
3. Тыкву массой 6 кг нарезали на куски. Одна покупательница взяла 2 кг тыквы, другая — 1 кг. Сколько килограммов тыквы ещё не продано?
4. Маше 7 лет, а её брат Юра на 10 лет старше. Сколько лет Юре? Сколько лет будет Маше и Юре через 1 год?



# Выполни упр.5 и ? - устно

5.

Слагаемое	1	2	3	4	5	6
Слагаемое	2	2	2	2	2	2
Сумма						

Как изменялось каждое слагаемое? сумма?

6. Разбей все фигуры на две группы разными способами. Каждую из выделенных групп снова разбей на две группы.

$$8 + \square = 10$$

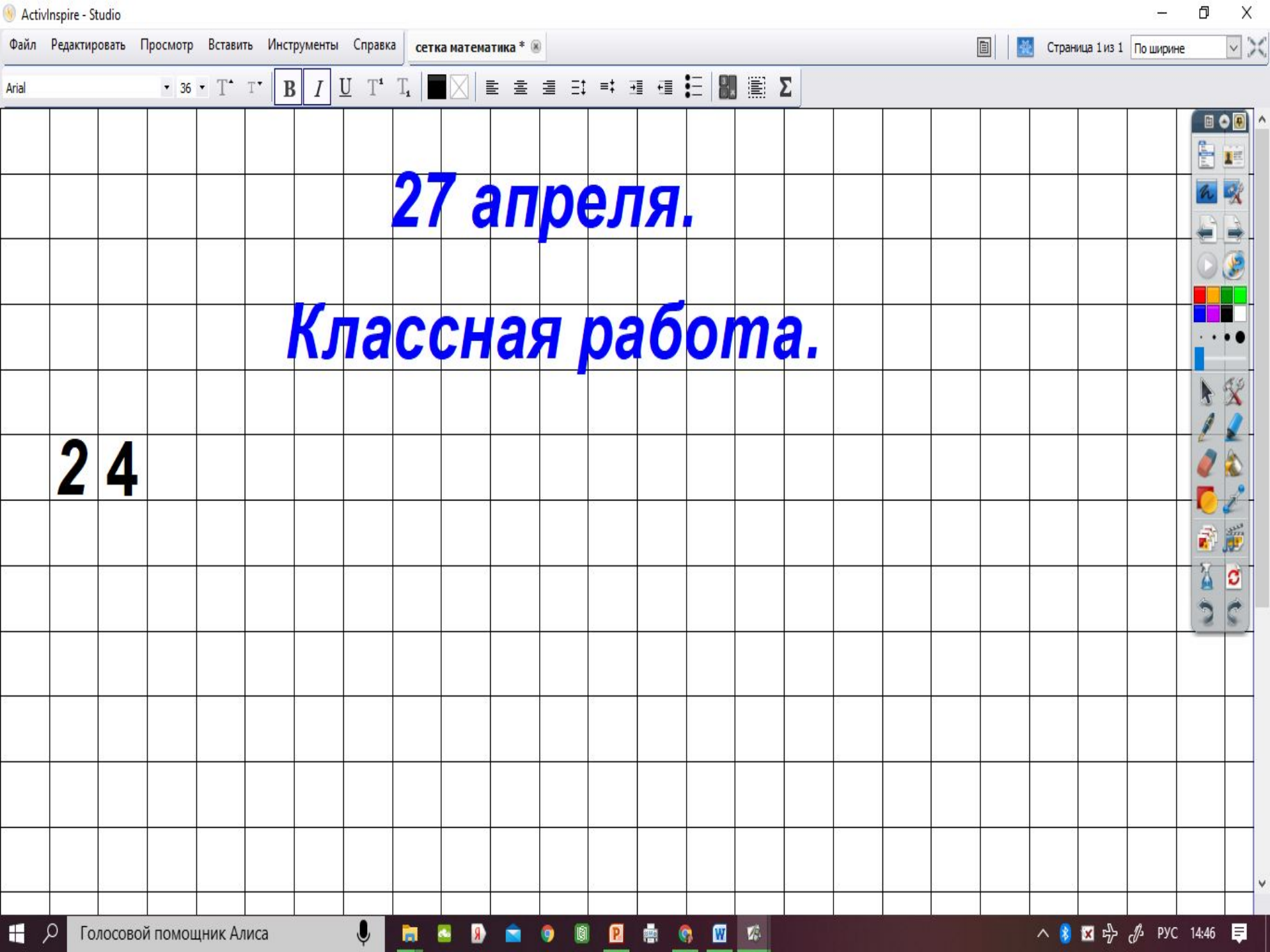
$$7 + \square = 10$$

$$9 = 4 + \square$$

$$6 + \square = 10$$

$$9 + \square = 10$$

$$8 = 2 + \square$$



**27 апреля.**

**Классная работа.**

**24**

27 апреля.

Классная работа.

24

Было - 9 л

Залили- 10 л

Израсходовано - 10 л

Осталось - ?

$$9 + \dots - \dots = (\text{л})$$

Ответ:..... л бензина осталось в баке.

Осущ...

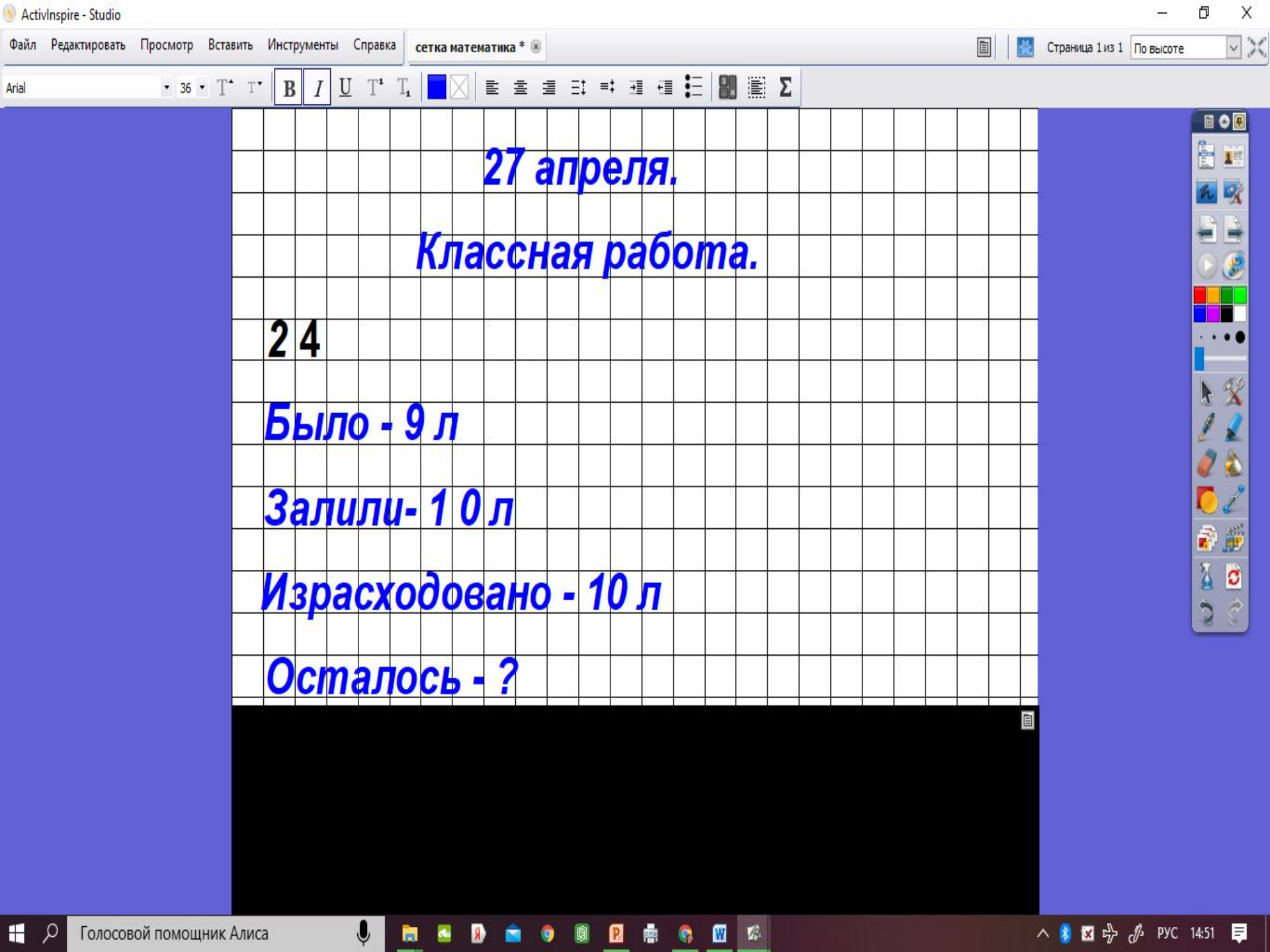


# Прочитай упр.2

## и запиши решение в тетрадь

1.  $5 + 5$  |  $6 + 6$  |  $7 + 7$  |  $5 + 9$  |  $4 + 7$   
 $5 + 6$  |  $6 + 7$  |  $7 + 8$  |  $9 + 5$  |  $7 + 4$

2. В баке машины было 9 л бензина. При заправке в бак залили ещё 10 л бензина. На поездку в город израсходовано 10 л бензина. Сколько литров бензина осталось в баке?
3. Тыкву массой 6 кг нарезали на куски. Одна покупательница взяла 2 кг тыквы, другая — 1 кг. Сколько килограммов тыквы ещё не продано?
4. Маше 7 лет, а её брат Юра на 10 лет старше. Сколько лет Юре? Сколько лет будет Маше и Юре через 1 год?



27 апреля.

Классная работа.

24

Было - 9 л

Залили- 1 0 л

Израсходовано - 10 л

Осталось - ?

# Работа в тетради

стр. 37



$\square + 8$

$\square + 9$

1

12	
<input type="checkbox"/>	3
6	<input type="checkbox"/>
<input type="checkbox"/>	4
5	<input type="checkbox"/>

$12 - \square = 8$   
 $12 - \square = 3$   
 $12 - \square = 6$   
 $12 - \square = 7$

13	
4	<input type="checkbox"/>
<input type="checkbox"/>	7
8	<input type="checkbox"/>
<input type="checkbox"/>	6

$13 - \square = 8$   
 $13 - \square = 6$   
 $13 - \square = 4$   
 $13 - \square = 5$

2 На одном подоконнике было 4 цветка, а на другом — 5 цветков. Таня полила 7 цветков. Сколько цветков осталось полить Тане? Закрась карточку с решением задачи.

$4 + 7 - 5 = 6$

$4 + 5 - 7 = 2$

$5 + 7 - 4 = 8$

1 Красным цветом закрась карточки, на которых записаны примеры с ответом 14, а синим — с ответом 13.

$8 + 6$

$9 + 4$

$6 + 4 + 3$

$7 + 7$

$9 + 5$

2 Начерти 2 отрезка: один на 2 см длиннее данного, а другой на 2 см короче данного.




На сколько второй из начерченных отрезков короче первого?





*Задания  
( в печатной  
тетрадке на стр.37)  
сфотографируй и  
вышли в группу фото  
в WHATSAPP*



# Рефлексия

**Чему научил вас урок?**

**Что особенно запомнилось?**

**Что бы еще хотели выполнить на уроке?**

**Что бы сделали по-другому?**

**Оцените свою работу на уроке.**



**Оцените себя**

**Зелёный цвет-** всё  
понял, могу идти  
дальше.

**Жёлтый цвет-** ещё  
ошибаюсь.

**Красный цвет-** стоп!  
Мне нужна помощь!

