

Практикум по исторической географии. Темы 6-10:

Тема 6. Эпоха Ивана III и Василия III. Период 1462-1533 гг.

Тема 7. Эпоха Ивана IV Грозного. Россия перед Смутой. Период 1533-1598 годов.

Тема 8. Россия в период Смутного времени (1598-1613 гг.)

Тема 9. Внутренняя политика первых Романовых (1613-1676 гг.)

Тема 10. Внешняя политика первых Романовых (1613-1676 гг.)

Автор разработки: Маховиков Д.В. https://vk.com/d_makhovikov

Сообщество для подготовки к ЕГЭ по истории: <https://vk.com/clubege2019history>



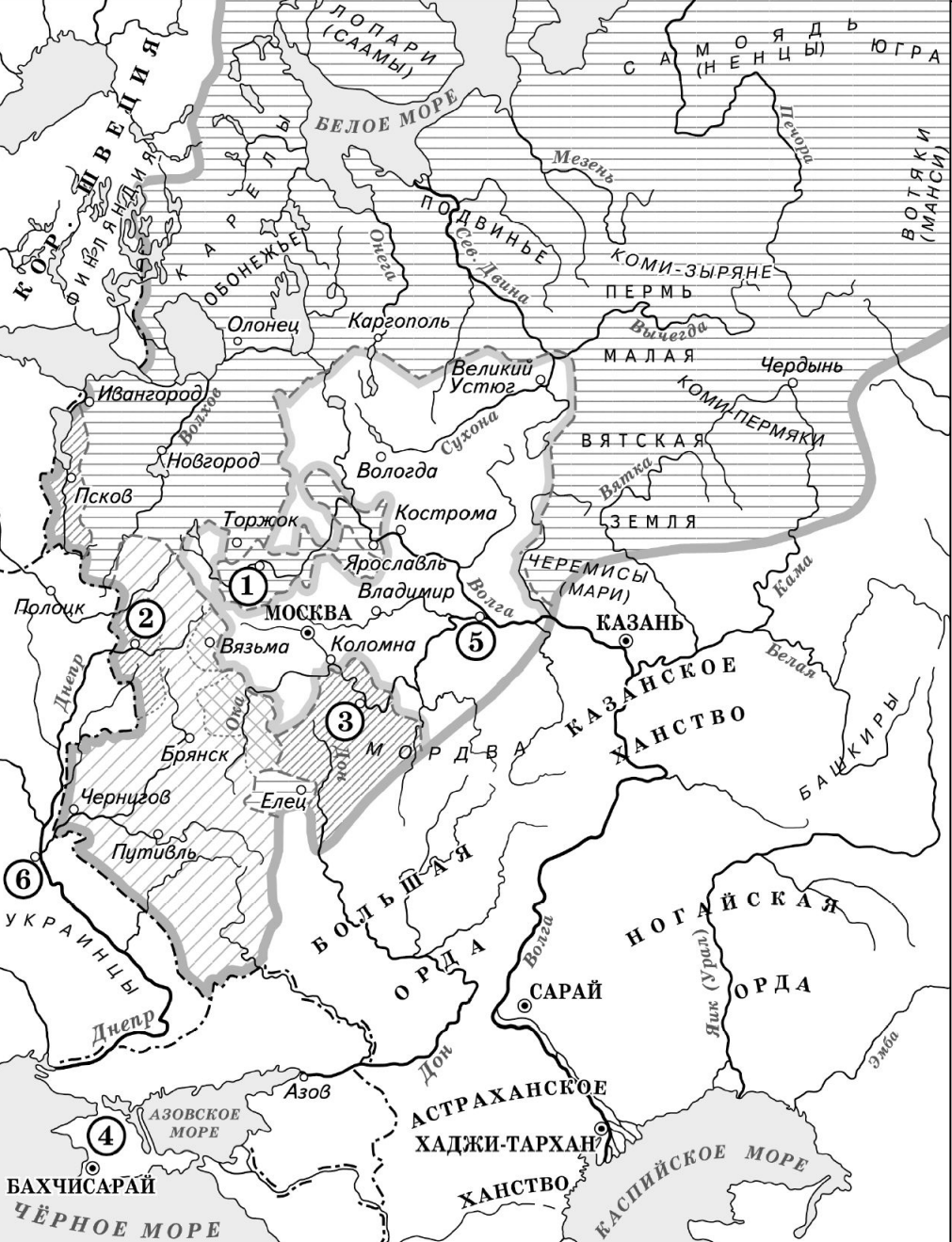
№ 13. Назовите князя, в годы правления которого в состав единого Русского государства вошли города, обозначенные на схеме цифрами «1» и «2».

№ 14. Укажите век, когда в состав единого Русского государства вошли города, обозначенные на схеме цифрами «3», «4» и «5» (ответ напишите словом).

№ 15. Назовите князя, при котором Русское государство достигло границ, обозначенных на схеме жирной чертой.

№ 16. Какие суждения, относящиеся к данной схеме, являются верными? Выберите три суждения из шести предложенных.

- 1) В городах, обозначенных цифрами «2» и «3», до вхождения в состав единого Русского государства существовала республиканская форма правления.
- 2) Следствием провала похода, обозначенного чёрными стрелками, стало освобождение Русского государства от ордынского ига.
- 3) Город, обозначенный цифрой «1», вошёл в состав единого Русского государства в 1478 г.
- 4) Ордынское войско в походе, обозначенном чёрными стрелками, возглавлял Мамай.
- 5) Город, обозначенный цифрой «2», вошёл в состав единого Русского государства в 1485 г.
- 6) Города, обозначенные цифрами «4» и «5», были отвоёваны Русским государством у Великого княжества Литовского.



№ 13. Укажите век, когда к Российской империи впервые была присоединена территория, обозначенная на схеме цифрой «4».

№ 14. Заполните пропуск в предложении: «Вхождение в состав Российского государства города, обозначенного на схеме цифрой "6", было окончательно закреплено условиями «_____ мира» с Речью Посполитой».

№ 15. Назовите имя короля Речи Посполитой, под командованием которого в период Смуты в России после долгой осады был взят город, обозначенный на схеме цифрой «2».

№ 16. Какие суждения, относящиеся к схеме, являются верными? Выберите три суждения из шести предложенных.

- 1) Цифрой «1» на схеме обозначен город, бывший одним из основных противников Москвы в борьбе за великое княжество владимирское в первой половине XIV в.
- 2) Цифрой «5» на схеме обозначен город, где в период Смуты было сформировано народное ополчение, освободившее Москву от польско-литовских интервентов.
- 3) Цифрой «3» на схеме обозначен город, в котором до присоединения к Московскому государству существовала республиканская форма правления.
- 4) Территории, обозначенные в легенде схемы цифрами «8» и «9», вошли в состав Московского государства в течение одного столетия.
- 5) Цифрой «7» в легенде схемы обозначены территории, присоединённые к Московскому государству в период правления князя, под командованием которого русские войска одержали победу в Куликовской битве.
- 6) Территории, обозначенные в легенде схемы цифрой «9», были присоединены к Московскому государству монархом, созвавшим первый Земский собор.

— Граница Российского государства в 1533 г.
 - - - Границы русских княжеств и земель

▬ (7) ▨ (8)
 ▩ (9)



№ 13. Укажите век, когда происходили события, обозначенные на схеме.

№ 14. Напишите имя полководца, поход войск которого обозначен на схеме черными стрелками.

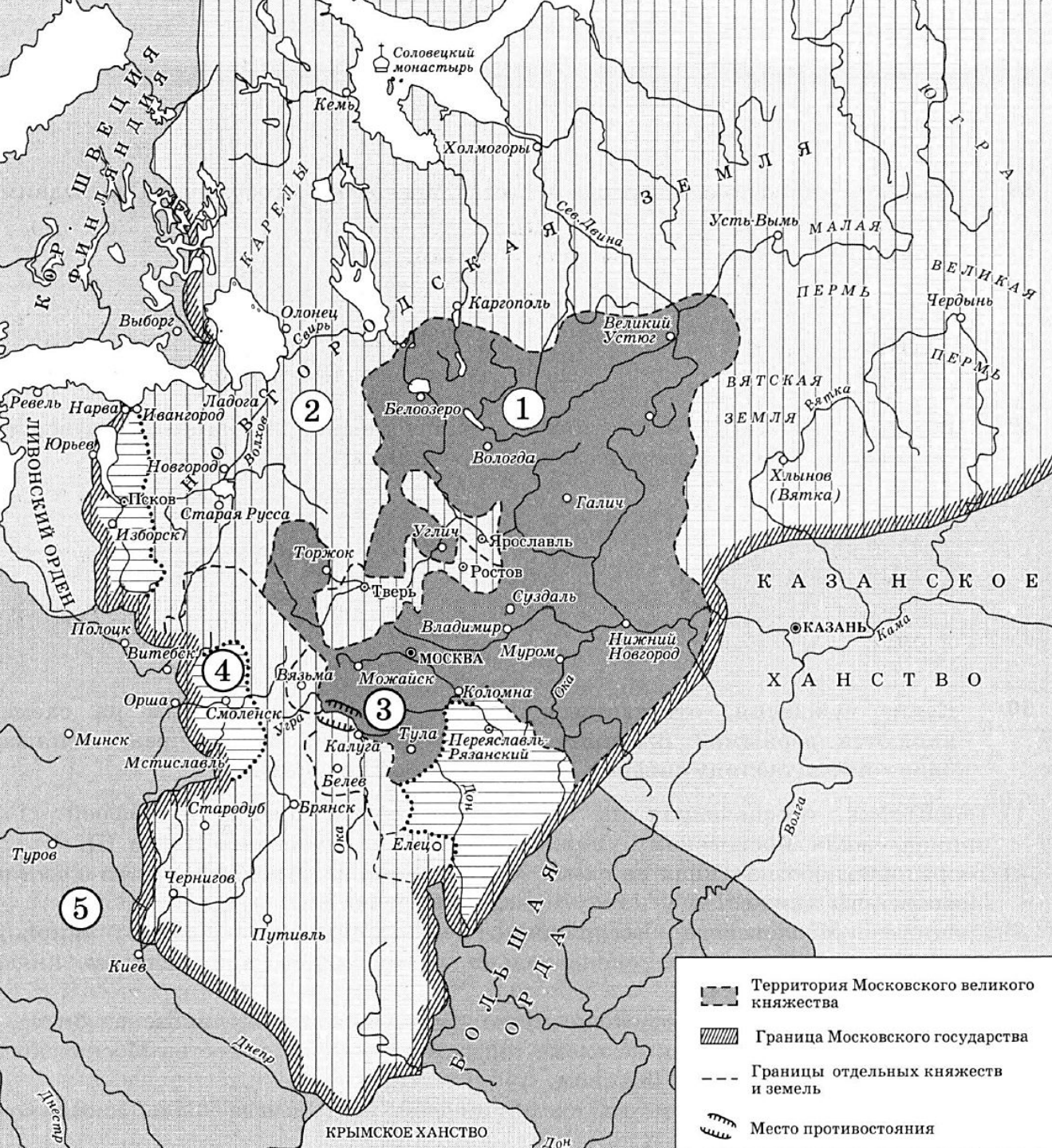
№ 15. Напишите название государства, территория которого обозначена на схеме цифрой «1».

№ 16. Какие суждения, относящиеся к данной схеме, являются верными? Выберите три суждения из шести предложенных.

- 1) В годы правления князя, действия войск которого обозначены на схеме светлыми стрелками, произошло создание единого Русского государства.
- 2) Отраженные на карте события связаны с уничтожением зависимости русских земель от Орды.
- 3) Современником отраженных на карте событий был Сергей Радонежский.
- 4) События, отраженное на схеме и обозначенное цифрой «2», вошло в историю как «стояние на Угре».
- 5) В год отраженных на схеме событий в Москве продолжалось возведение белокаменных стен Кремля.
- 6) По итогам события, отраженного на схеме, московский князь получил прозвище Донской.

→ Походы войск московского князя

→ Поход ордынского хана



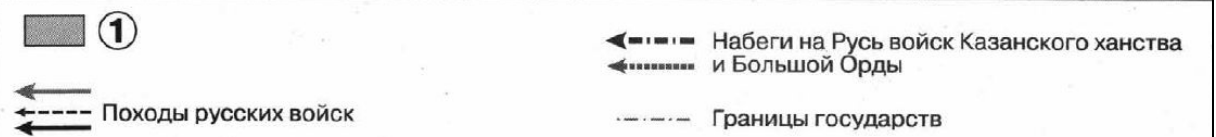
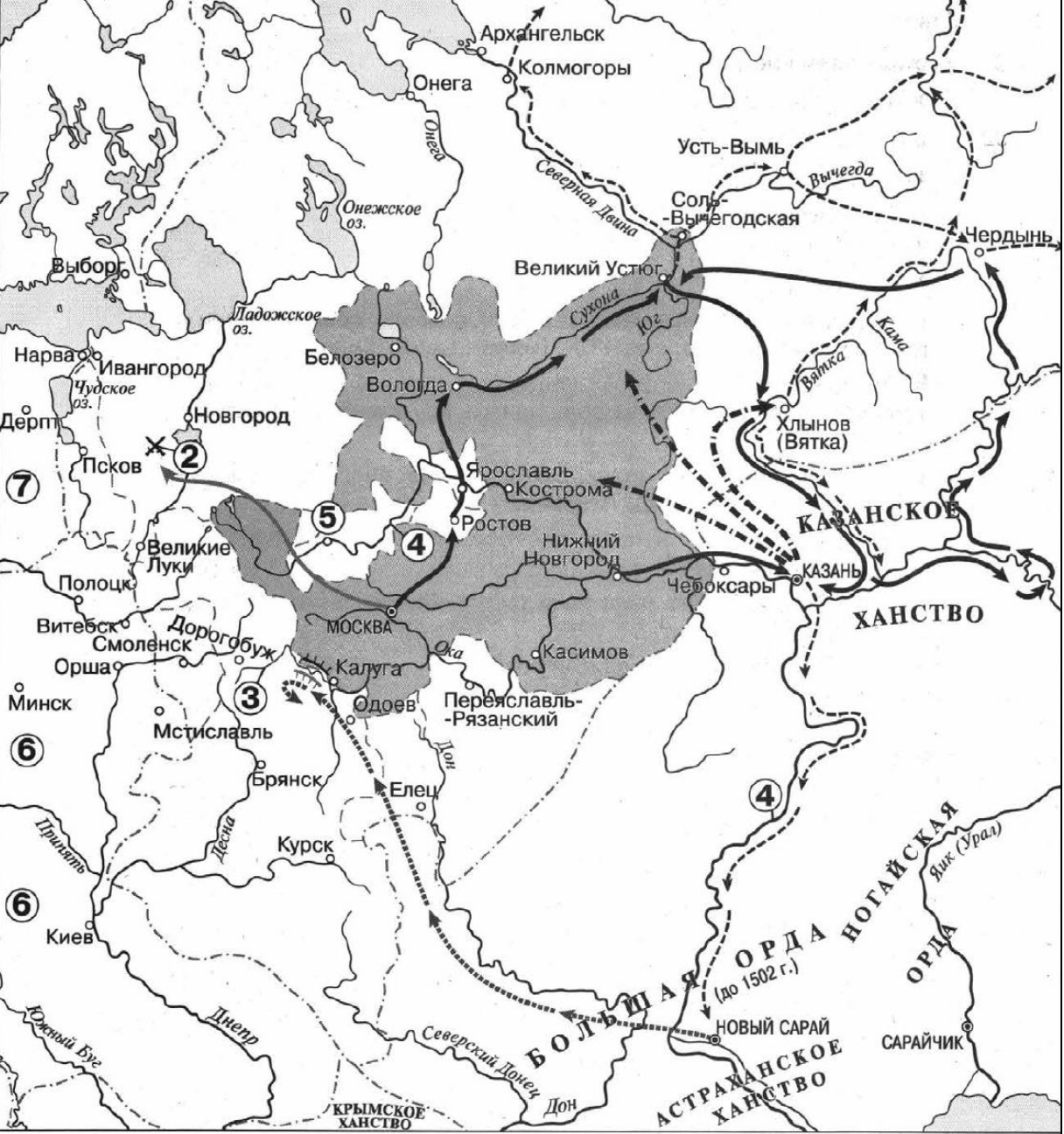
№ 13. Укажите век, в котором Московское государство достигло границ, обозначенных на схеме жирной заштрихованной линией.

№ 14. Назовите княжество, вошедшее в состав Московского государства последним.

№ 15. Назовите правителя, при котором в состав московского государства вошли территории, обозначенные на схеме горизонтальной штриховкой.

№ 16. Какие суждения, относящиеся к событиям, обозначенным на схеме, являются верными? Выберите три суждения из шести предложенных.

- 1) Территория, обозначенная на схеме тёмно-серым цветом и цифрой «1», принадлежала Московскому княжеству к началу правления Ивана III.
- 2) Территория, обозначенная на схеме вертикальной штриховкой, вошла в состав Московского княжества к концу правления Ивана III.
- 3) Границы Московского государства, показанные на схеме жирной заштрихованной линией, окончательно установились при великом князе Василии III.
- 4) На схеме цифрой «3» обозначено место, где произошла Куликовская битва.
- 5) Территория, обозначенная на схеме цифрой «4», вошла в состав Московского княжества при Дмитрии Донском.
- 6) Государство, обозначенное на схеме цифрой «5», всегда было союзником Московского княжества.



№ 13. Заполните пропуск в предложении: «Цифрой «1» в легенде схемы обозначена территория Московского княжества на момент восшествия на московский престол князя _____».

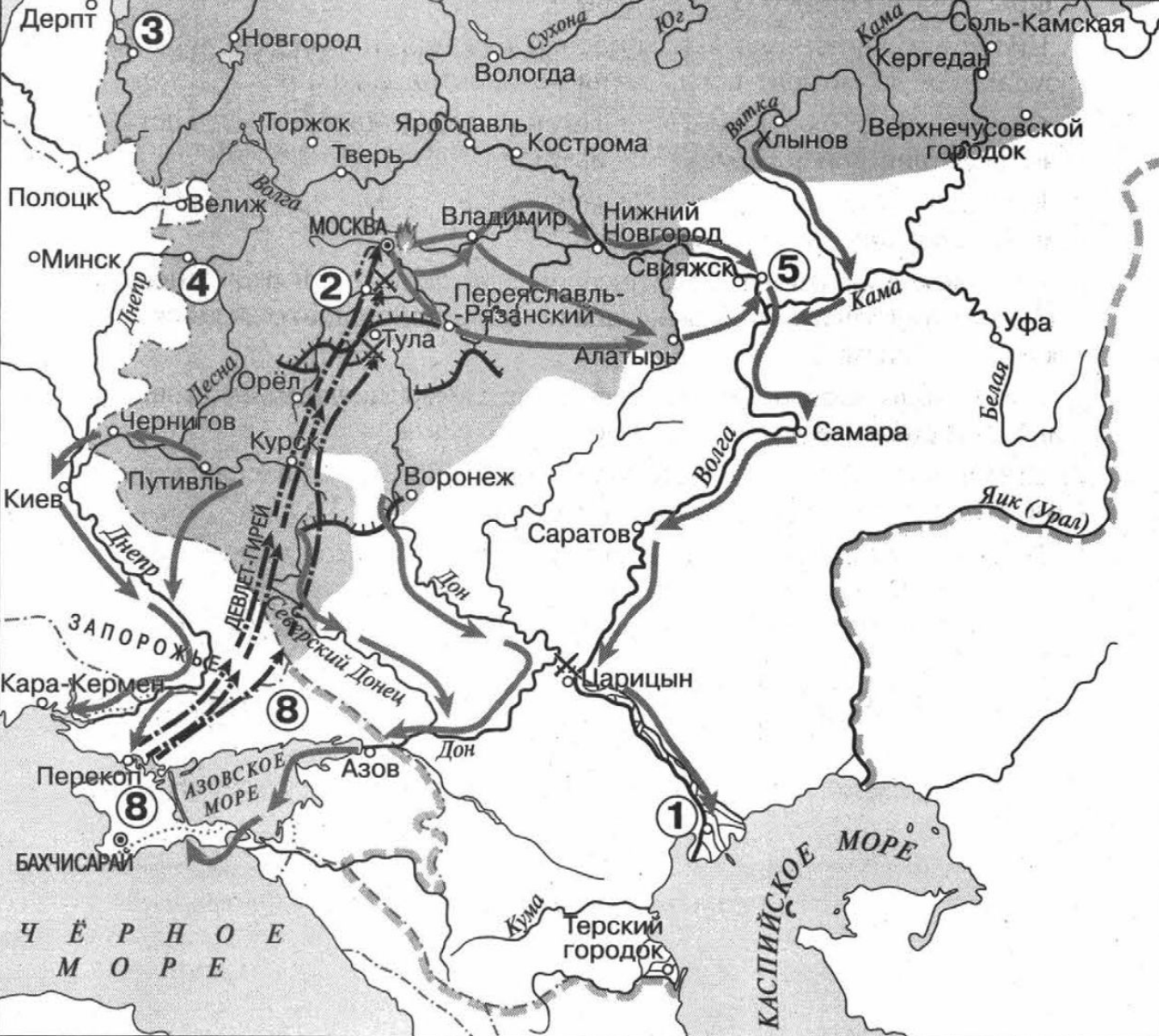
№ 14_1. Укажите название реки, обозначенной на схеме цифрой «3».

№ 14_2. Укажите название города, обозначенного на схеме цифрой «5».

№ 15. Укажите название государственного образования, обозначенного на схеме цифрой «7».

№ 16. Какие суждения, относящиеся к схеме, являются верными? Выберите пять суждений из семи предложенных.

- 1) Цифрой «2» на схеме обозначено сражение, вошедшее в историю как Ледовое побоище.
- 2) Войско, продвижение которого обозначено на схеме точечной стрелкой, возглавлял хан Тохтамыш.
- 3) Дважды цифрой «4» на схеме обозначена река Волга.
- 4) На схеме отображено изменение в названии водного географического объекта, ставшее одним из следствий восстания под предводительством Емельяна Пугачева.
- 5) На схеме обозначен и подписан город, основанный в 1010 г. сыном киевского князя Владимира Святославича.
- 6) Дважды цифрой «6» на схеме обозначено Великое княжество Литовское.
- 7) На схеме подписано название государственного образования, прекратившего свое существование в 1783 г.



№ 13. Заполните пропуск в предложении: «Цифрой «7» в легенде схемы обозначена граница территорий, присоединенных к Российскому государству к концу _____ века.






№ 14. Укажите название города, обозначенного на схеме цифрой «5».

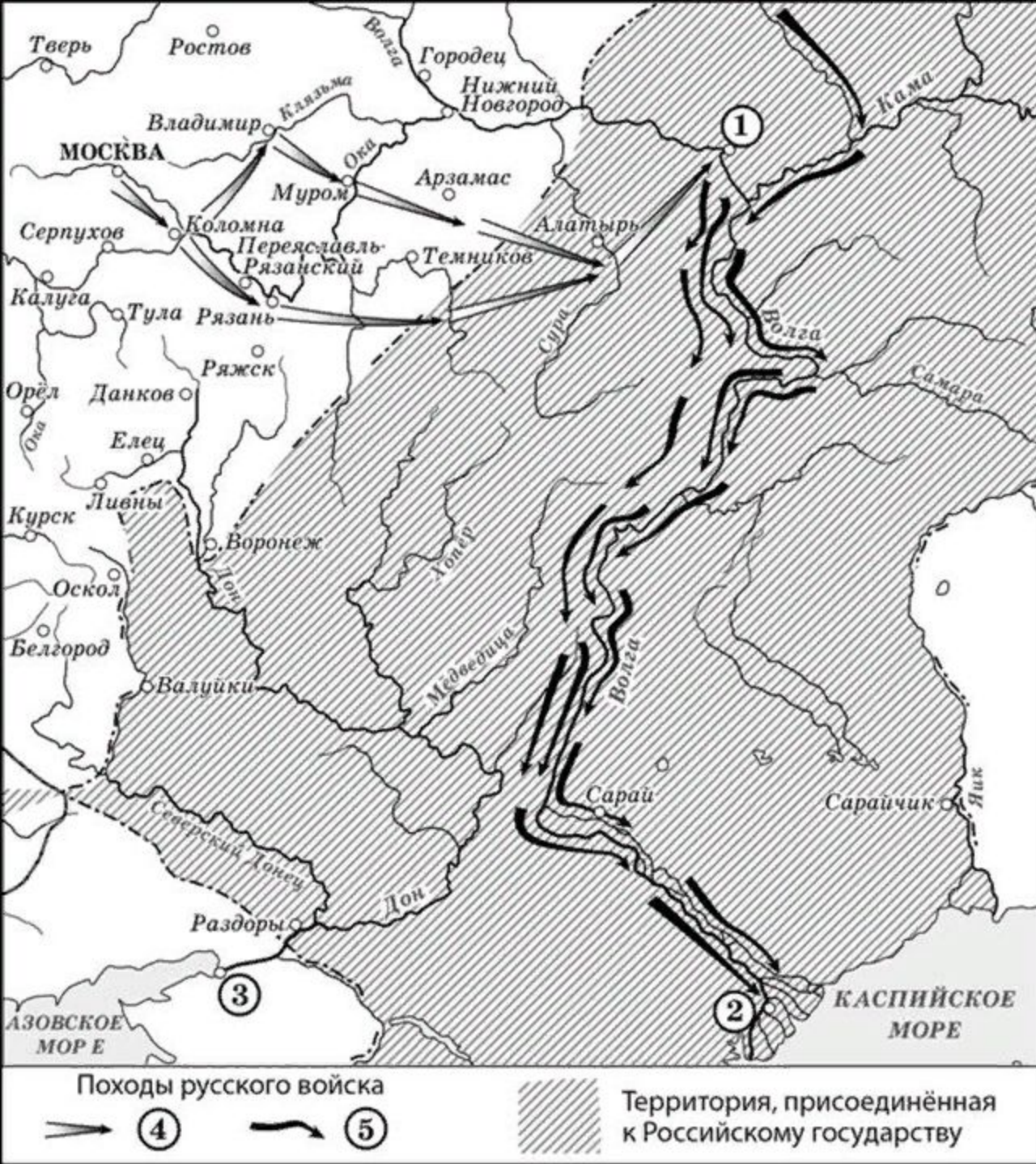
№ 15_1. Назовите монарха, в годы правления которого в состав Российского государства вошли города, обозначенные на схеме цифрами «3» и «4».

№ 15_2. Укажите название государственного образования, обозначенного на схеме цифрой «8».

№ 16. Какие суждения,, относящиеся к схеме, являются верными? Выберите три суждения из семи предложенных.

- 1) Цифрой «6» в легенде схемы обозначена территории Российского государства на момент восшествия на престол Ивана III.
- 2) Стрелками, обозначенными в легенде схемы цифрой «9», показаны действия войск Османской империи.
- 3) В походах русских войск, обозначенных на схеме, принимали участие стрелецкие полки.
- 4) На схеме обозначена и подписана река, по которой в древности проходил торговый путь, связывавший Русь со странами Арабского Востока и Персией.
- 5) Все походы, обозначенные в легенде схемы цифрой «9», завершились поражением участвовавших в них войск.
- 6) Цифрой «1» на схеме обозначен город, который был сдан жителями восставшим под предводительством Степана Разина.
- 7) Первый русский флот был построен в конце XVII в. в городе, обозначенном на схеме цифрой «2».

	6		Походы русских войск		Границы государств
	7		9		



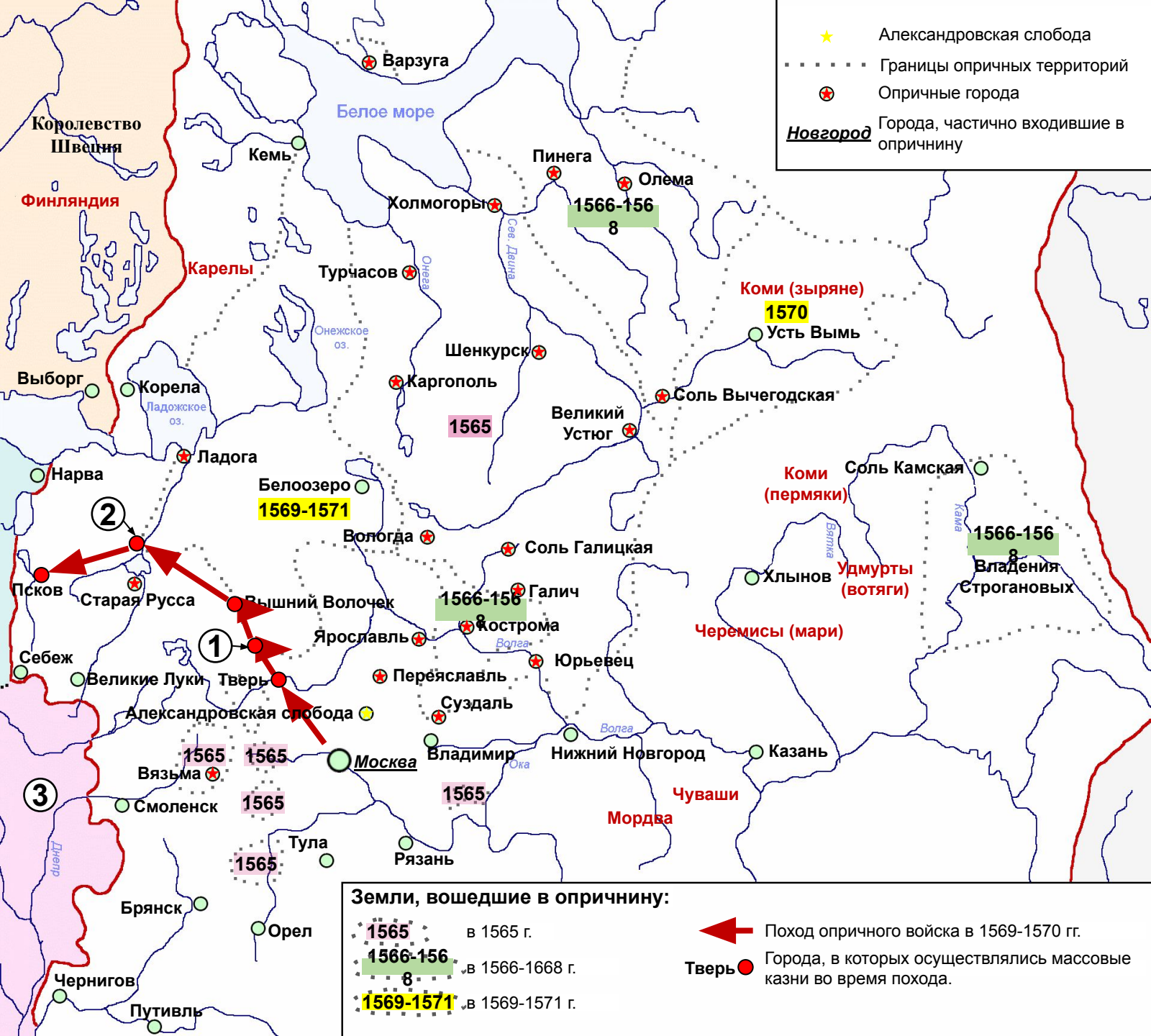
№ 13. Назовите город, обозначенный на схеме цифрой «1».

№ 14. На схеме обозначена и подписана река, название которой было изменено в результате народного восстания 1773–1775 гг. Укажите современное название реки.

№ 15. Заполните пропуск в предложении: «Территория, обозначенная на схеме штриховкой, вошла в состав Российского государства в середине _____ в.» Ответ запишите словом.

№ 16. Какие суждения, относящиеся к исторической ситуации, обозначенной на схеме, являются верными? Выберите три суждения из шести предложенных.

- 1) Город, обозначенный на схеме цифрой «2», был основан российскими землепроходцами.
- 2) Поход по маршруту, обозначенному в легенде схемы цифрой «5», возглавлял Ермак Тимофеевич.
- 3) Покровский собор что на Рву (храм Василия Блаженного) был возведён в Москве в честь успешного завершения похода, маршрут которого обозначен в легенде схемы цифрой «4».
- 4) Город, обозначенный на схеме цифрой «3», был присоединён к Российскому государству в период правления того же монарха, при котором произошли походы, обозначенные на схеме стрелками.
- 5) На схеме обозначена и подписана река, по которой в древности проходил торговый путь, связывавший Русь со странами арабского Востока.
- 6) На схеме обозначен город, явившийся отправной точкой путешествия, описанного в «Хождении за три моря».



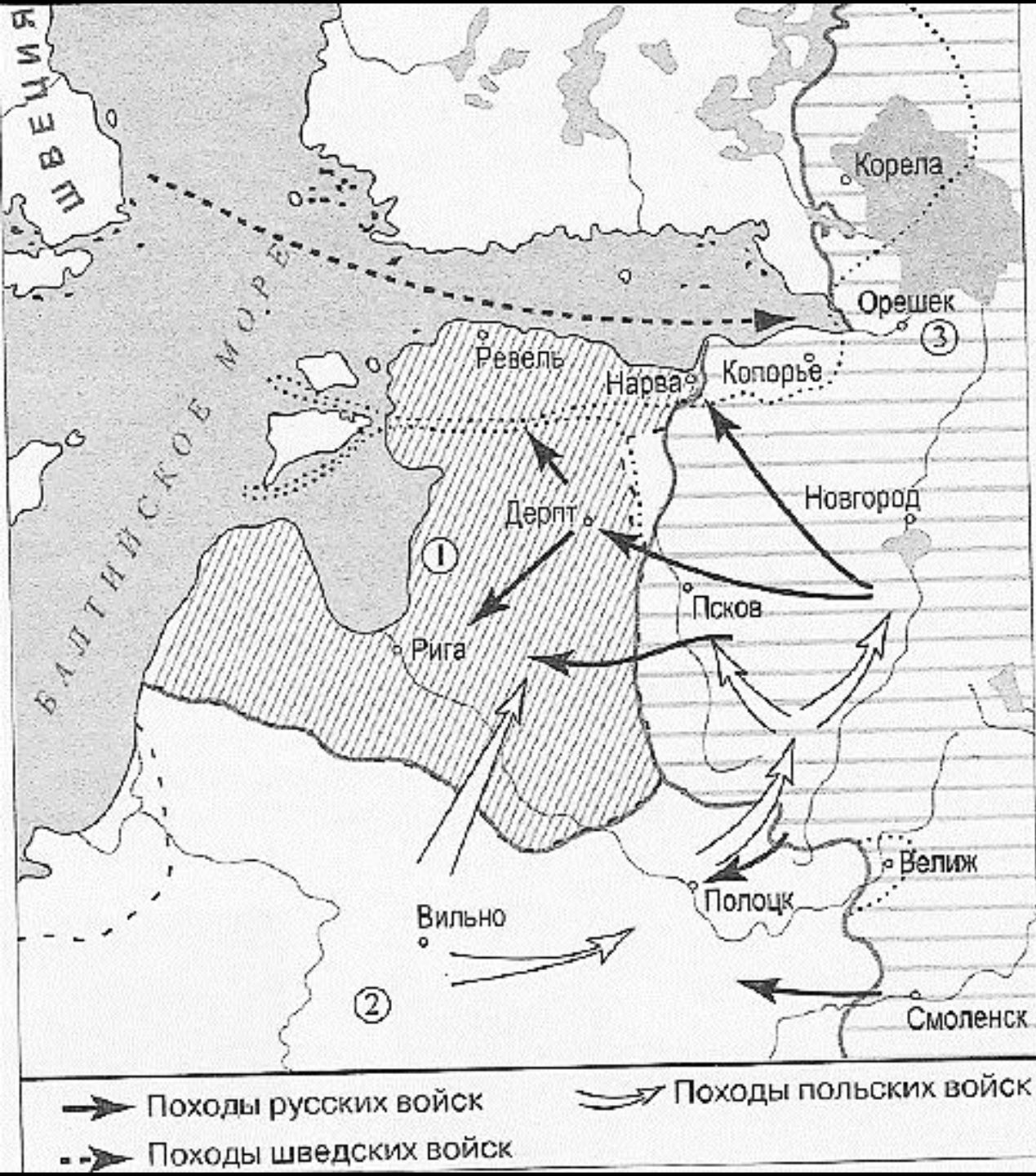
№ 13. Назовите имя русского монарха, в период правления которого осуществлялась реформа, отраженная на карте.

№ 14. Напишите название города, обозначенного на схеме цифрой «1».

№ 15. Напишите название города, обозначенного на карте цифрой «2».

№ 16. Какие суждения, относящиеся к исторической ситуации, обозначенной на схеме, являются верными? Выберите три суждения из шести предложенных.

- 1) В ходе похода, отраженного на карте стрелками, был убит митрополит Филипп Колычев.
- 2) В ходе осуществления отраженной на карте реформы монархом отмеченного под цифрой «3» иностранного государства являлся Стефан Баторий.
- 3) В ходе осуществления отраженной на карте реформы отмеченное цифрой «3» государство подписало Флорентийскую унию.
- 4) На карте отмечены владения купцов, организовавших сибирский поход казаков под предводительством Ермака в 1580-е гг.
- 5) В городе под цифрой «2» в период событий, отраженных на карте, существовал вечевой республиканский строй.
- 6) Современником событий, отраженных на карте, являлся крымский хан Девлет-Гирей I.



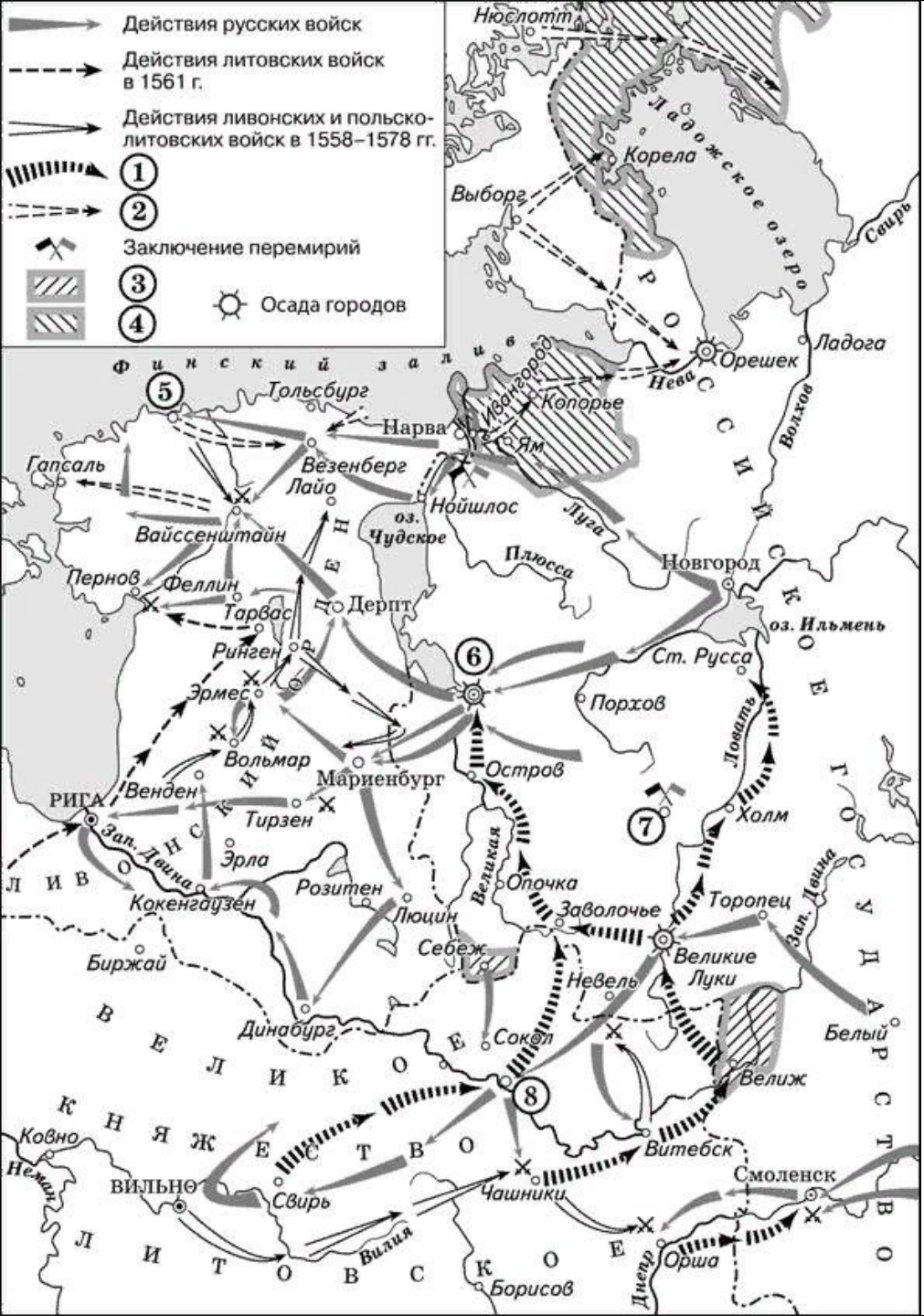
№ 13. Напишите название войны, ход которой изображен на схеме.

№ 14. Назовите короля, чьи походы обозначены на схеме светлыми стрелками.

№ 15. Напишите название государства под цифрой «1», ликвидированного в ходе войны, отраженной на карте.

№ 16. Какие суждения, относящиеся к исторической ситуации, обозначенной на схеме, являются верными? Выберите три суждения из шести предложенных.

- 1) На схеме представлены события войны, длившейся 25 лет и закончившейся поражением России.
- 2) Во время войны, показанной на схеме, в Русском государстве была введена и затем отменена опричнина.
- 3) Современником событий, обозначенных на схеме, был Сергей Радонежский.
- 4) Цифрой «2» на схеме обозначена территория государства, образованного после подписания Люблинской унии.
- 5) Итогом войны, представленной на схеме, стал выход России к Балтийскому морю.
- 6) В ходе войны, отраженной на карте, в России проводились рекрутские наборы.



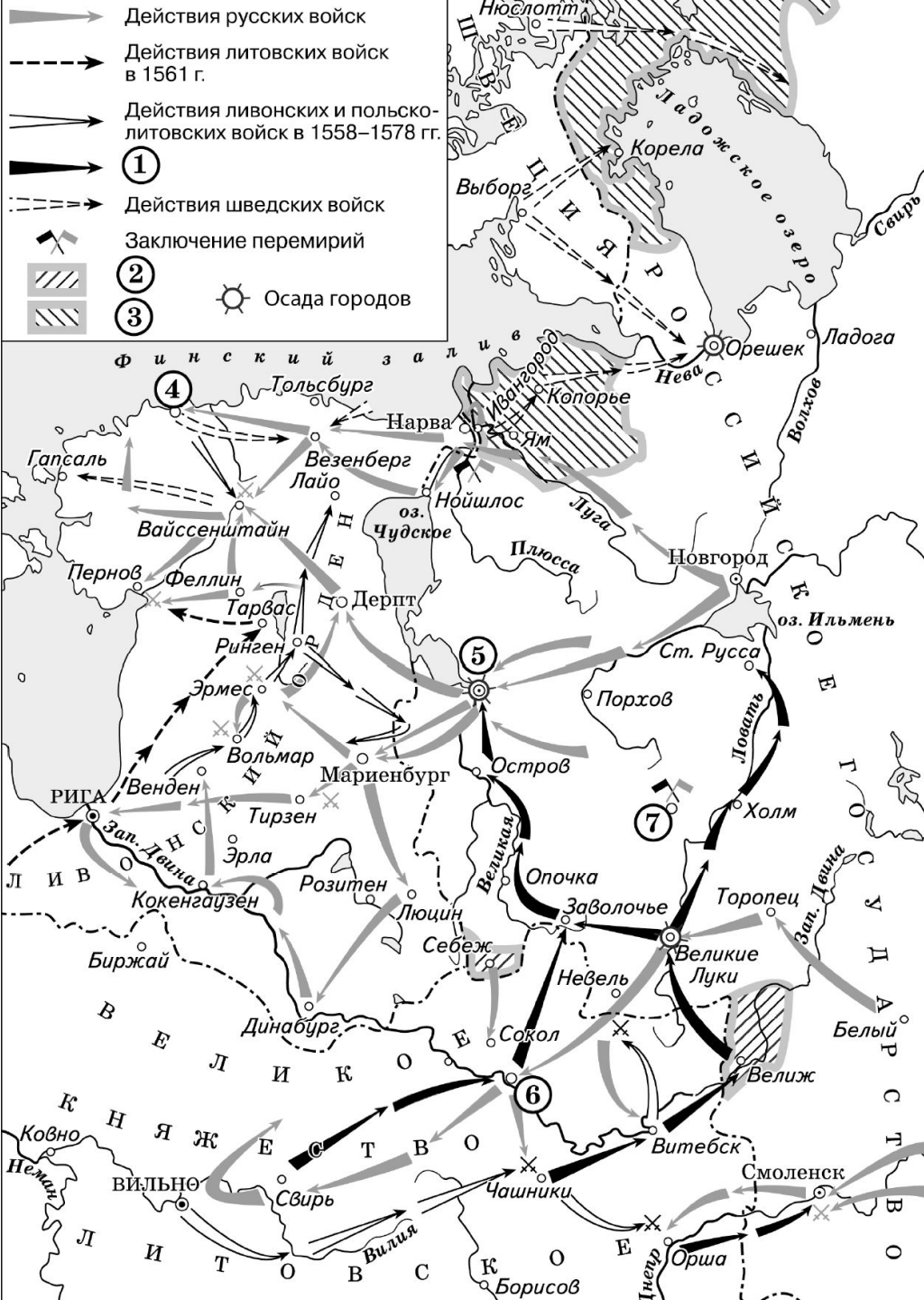
№ 13. Назовите российского монарха, в чье правление велась война, события которой обозначены на схеме.

№ 14. Укажите название государства, действия войск которого обозначены в легенде схемы цифрой «2».

№ 15. Укажите город, обозначенный на схеме цифрой «6».

№ 16. Какие суждения, относящиеся к схеме, являются верными? Выберите три суждения из шести предложенных.

- 1) Цифрой «1» в легенде схемы обозначены действия войск под командованием Сигизмунда II Августа.
- 2) Территории, обозначенные в легенде схемы цифрами «3» и «4», были утрачены Российским государством по итогам войны, которой посвящена схема.
- 3) Цифрой «7» на схеме обозначено место подписания Столбовского мира со Швецией.
- 4) На схеме обозначено государство, прекратившее свое существование в результате войны, которой посвящена схема.
- 5) Город, обозначенный на схеме цифрой «5», является столицей современного государства – члена СНГ.
- 6) Цифрой «8» на схеме обозначен город, не входивший в состав Российского государства на момент начала войны, которой посвящена схема.



- № 13.** Назовите российского монарха, в период правления которого произошли события, обозначенные на схеме стрелками.
- № 14.** Укажите название государства, в состав которого в результате военных действий, обозначенных на схеме стрелками, вошла территория, обозначенная в легенде схемы цифрой «3».
- № 15.** Назовите российского монарха, в период правления которого в состав России вошёл город, обозначенный на схеме цифрой «4».
- № 16.** Какие суждения, относящиеся к схеме, являются верными? Выберите три суждения из шести предложенных.
- 1) Цифрой «7» на схеме обозначен г. Ништадт.
 - 2) В результате военных действий, которые отражены на схеме, Российское государство утратило территории, обозначенные в легенде схемы цифрой «2».
 - 3) Цифрой «5» на схеме обозначен город, взятый после длительной осады войсками, направления действий которых обозначены в легенде схемы цифрой «1».
 - 4) На схеме обозначен город, являвшийся центром формирования Второго земского ополчения в период Смуты.
 - 5) В ходе боевых действий, отражённых на схеме, русскими войсками был взят город, обозначенный на схеме цифрой «6».
 - 6) На схеме указано государственное образование, прекратившее своё существование в результате обозначенных на схеме событий.



№ 13. Заполните пропуск в предложении: «Стрелками на схеме обозначены события, которые произошли в период правления в России царя _____»

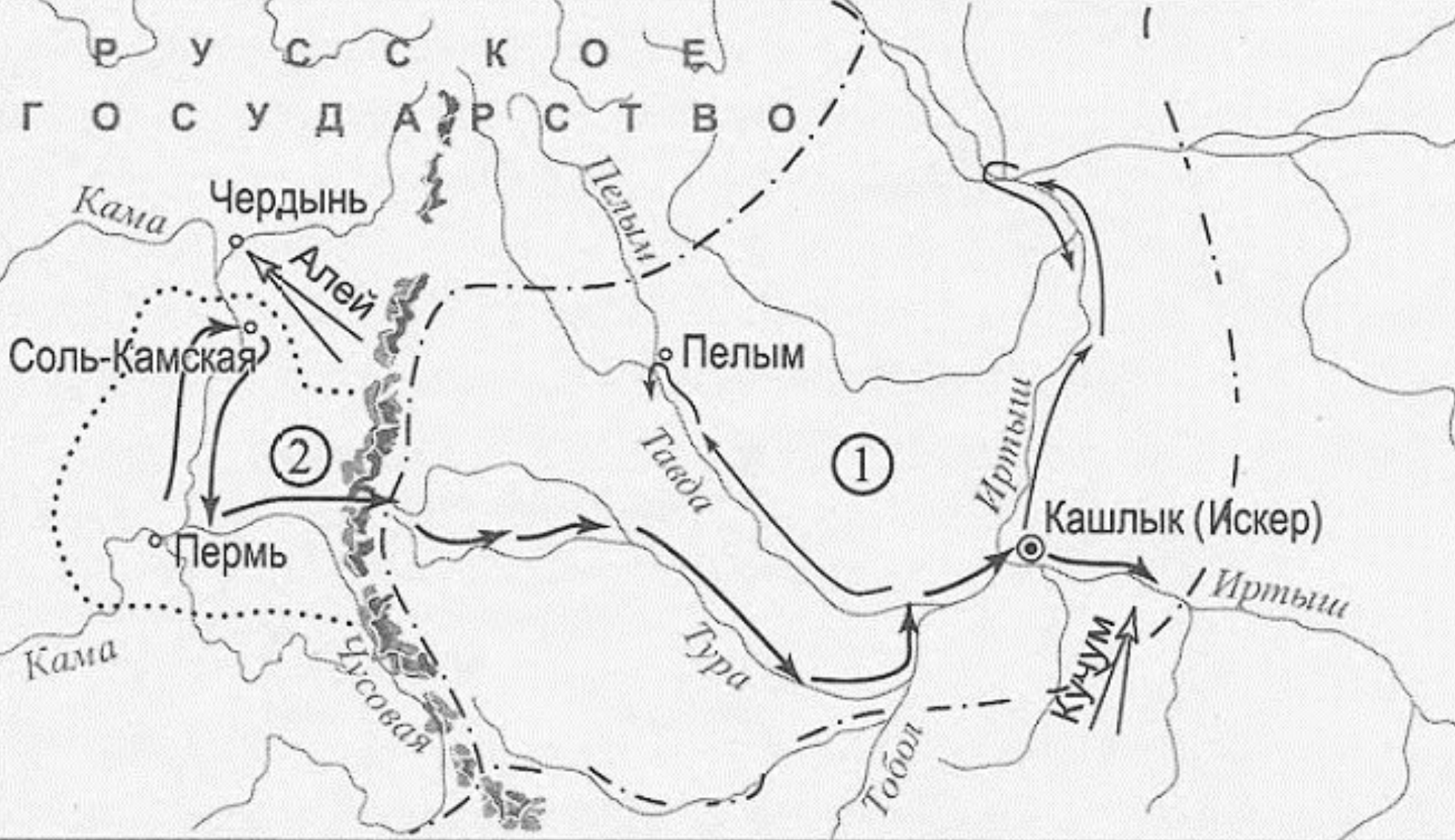
№ 14. Заполните пропуск в предложении (укажите название государства).
«Цифрой «5» в легенде схемы обозначена территория, перешедшая к _____ в результате войны, которой посвящена схема».

№ 15_1. Укажите название города, обозначенного на схеме цифрой «7».

№ 15_2. Укажите фамилию полководца, командовавшего войсками, совершившими поход, обозначенный в легенде схемы цифрой «4».

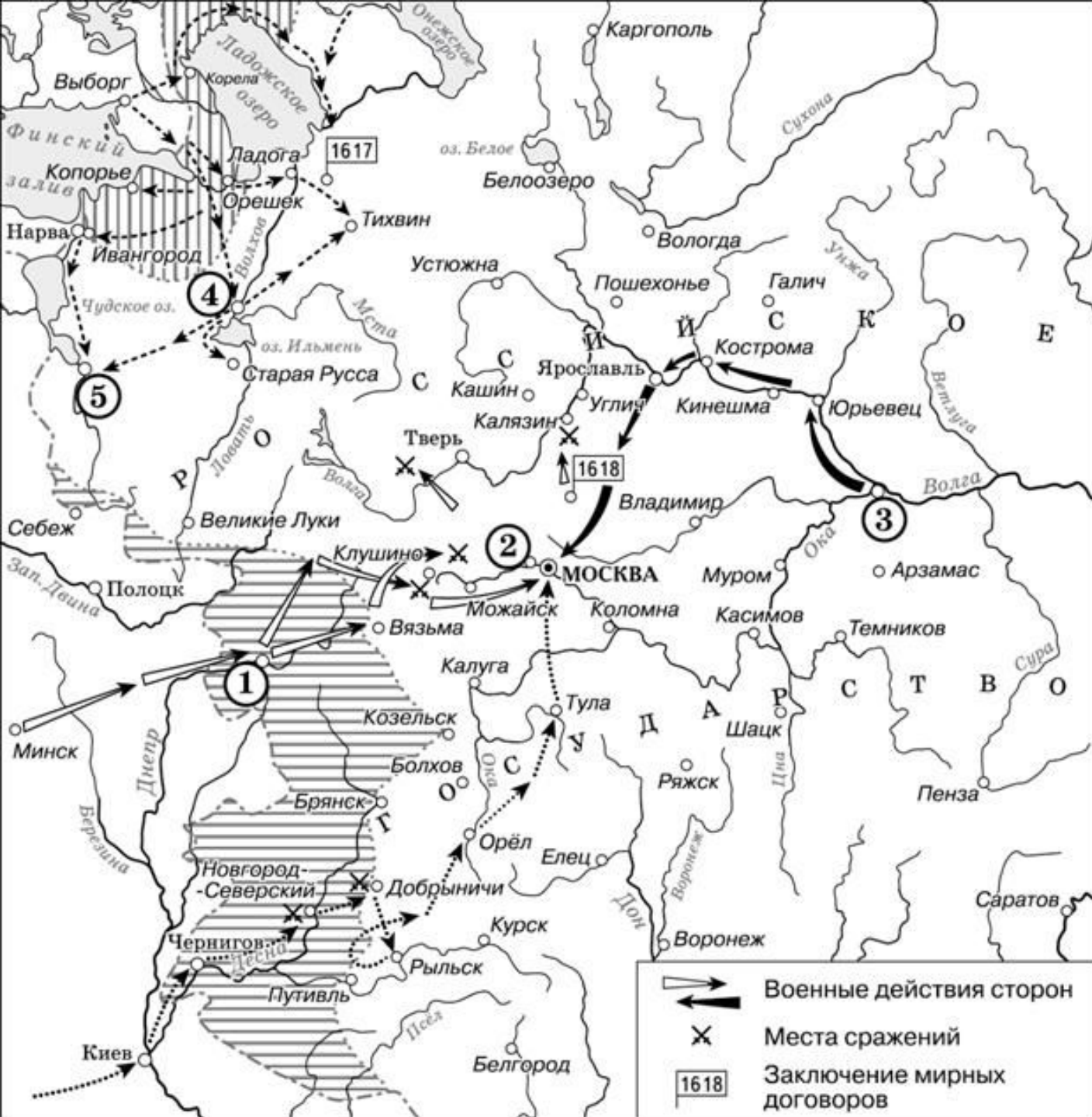
№ 16. Какие суждения, относящиеся к схеме, являются верными? Выберите пять суждений из девяти предложенных.

- 1) Цифрой «1» на схеме обозначен город Псков.
- 2) На схеме обозначена и подписана река, на которой в 1240 г. русские войска под командованием Александра Ярославича одержали победу над шведским войском.
- 3) Цифрой «6» в легенде схемы обозначена территория, вошедшая в состав России в результате войны, к которой относятся показанные на схеме события.
- 4) Цифрой «2» на схеме обозначен город, вошедший в состав Российского государства в результате победы в Северной войне.
- 5) На схеме обозначено и подписано государственное образование, прекратившее свое существование в ходе войны, которой посвящена схема.
- 6) Город Ништадт обозначен на схеме цифрой «3».
- 7) На схеме обозначен и подписан город – племенной центр полян.
- 8) В ходе боевых действий, обозначенных на схеме, русские войска взяли Дерпт.
- 9) В ходе боевых действий, обозначенных на схеме, русские войска взяли Ковно.



- ⊙ Столица ханства
- ⚔ Каменный пояс (другое название гор)
- · - · - Граница ханства

- № 13. Назовите имя предводителя, поход которого обозначен на схеме.
- № 14. Напишите название ханства, обозначенного на схеме цифрой «1».
- № 15. Напишите название гор, обозначенных на карте цифрой «2».
- № 16. Какие суждения, относящиеся к исторической ситуации, обозначенной на схеме, являются верными? Выберите три суждения из шести предложенных. На схеме обозначены события, послужившие началом присоединения Сибири к Московскому царству.
- 2) В походе, отраженном на схеме, участвовали «полки нового строя» и иностранные наемники.
 - 3) Отраженные на схеме события относятся ко времени царствования Бориса Годунова.
 - 4) Данный поход был организован по приказу царя Ивана III.
 - 5) Последствием похода, обозначенного на схеме, стало освоение новых территорий торговыми и служилыми людьми.
 - 6) Исходной точкой похода были владения купцов Строгановых.



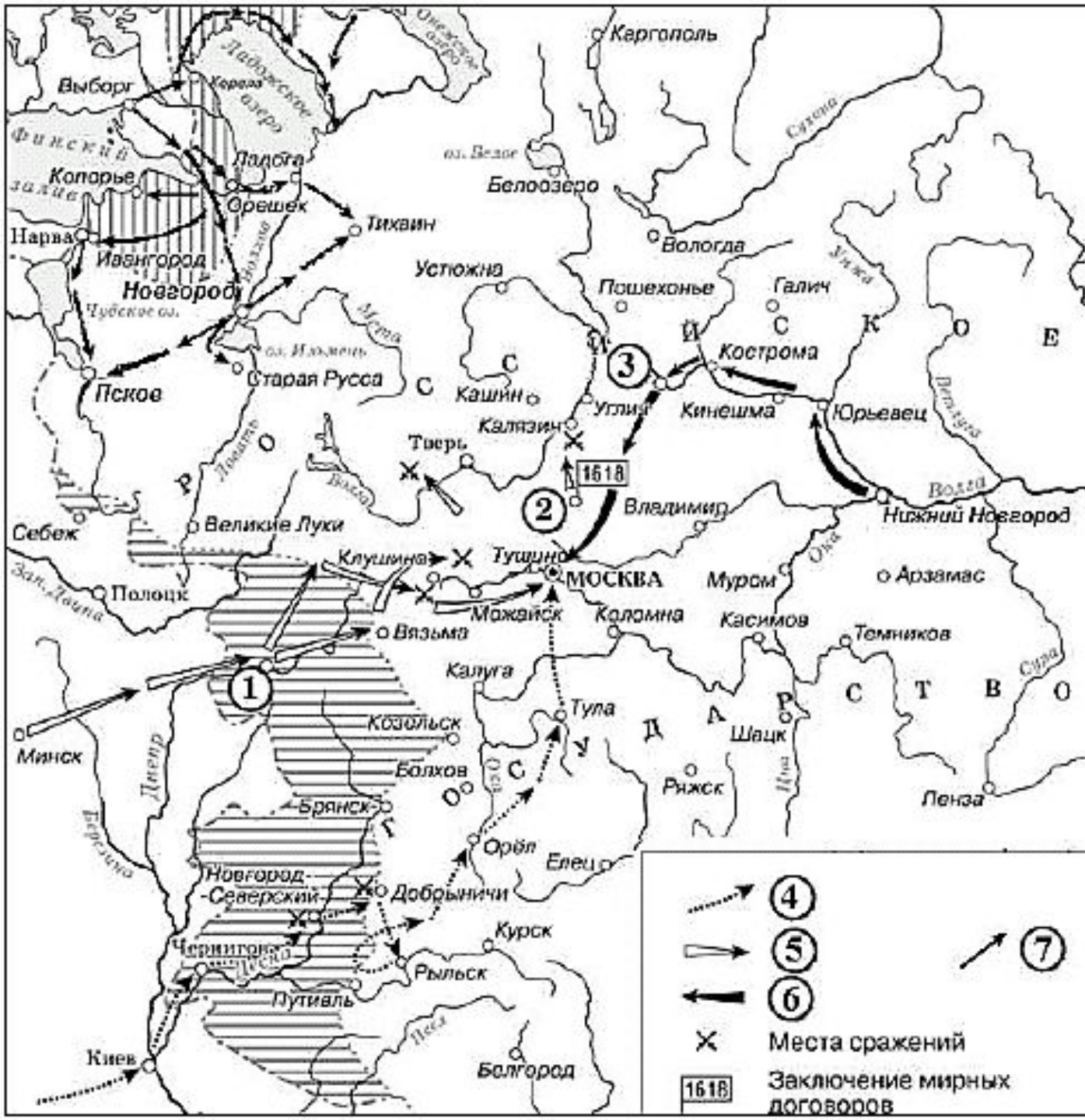
№ 13. Напишите название периода русской истории, события которого изображены на схеме.

№ 14. Назовите русского царя, в правление которого разразился страшный голод, ставший одной из причин событий, изображённых на схеме.

№ 15. Напишите прозвище самозванца, которое он получил из-за того, что расположил свой лагерь в подмосковном селе, обозначенном цифрой «2».

№ 16. Какие суждения, относящиеся к исторической ситуации, обозначенной на схеме, являются верными? Выберите три суждения из шести предложенных.

- 1) Участниками событий, изображённых на схеме, были К. Булавин и протопоп Аввакум.
- 2) Поход на Москву, обозначенный на схеме точечными стрелками, возглавлял самозванец, известный как Григорий Отрепьев.
- 3) Староста посада обратился с призывом к сбору средств на борьбу с интервентами в городе, обозначенном на схеме цифрой «4».
- 4) Следствием событий, изображённых на схеме, стала утрата Россией заштрихованных на схеме территорий.
- 5) Одной из причин событий, изображённых на схеме, стало пресечение царствующей династии Рюриковичей.
- 6) Древний русский город, обозначенный на схеме цифрой «1», отбил все попытки интервентов захватить его.»



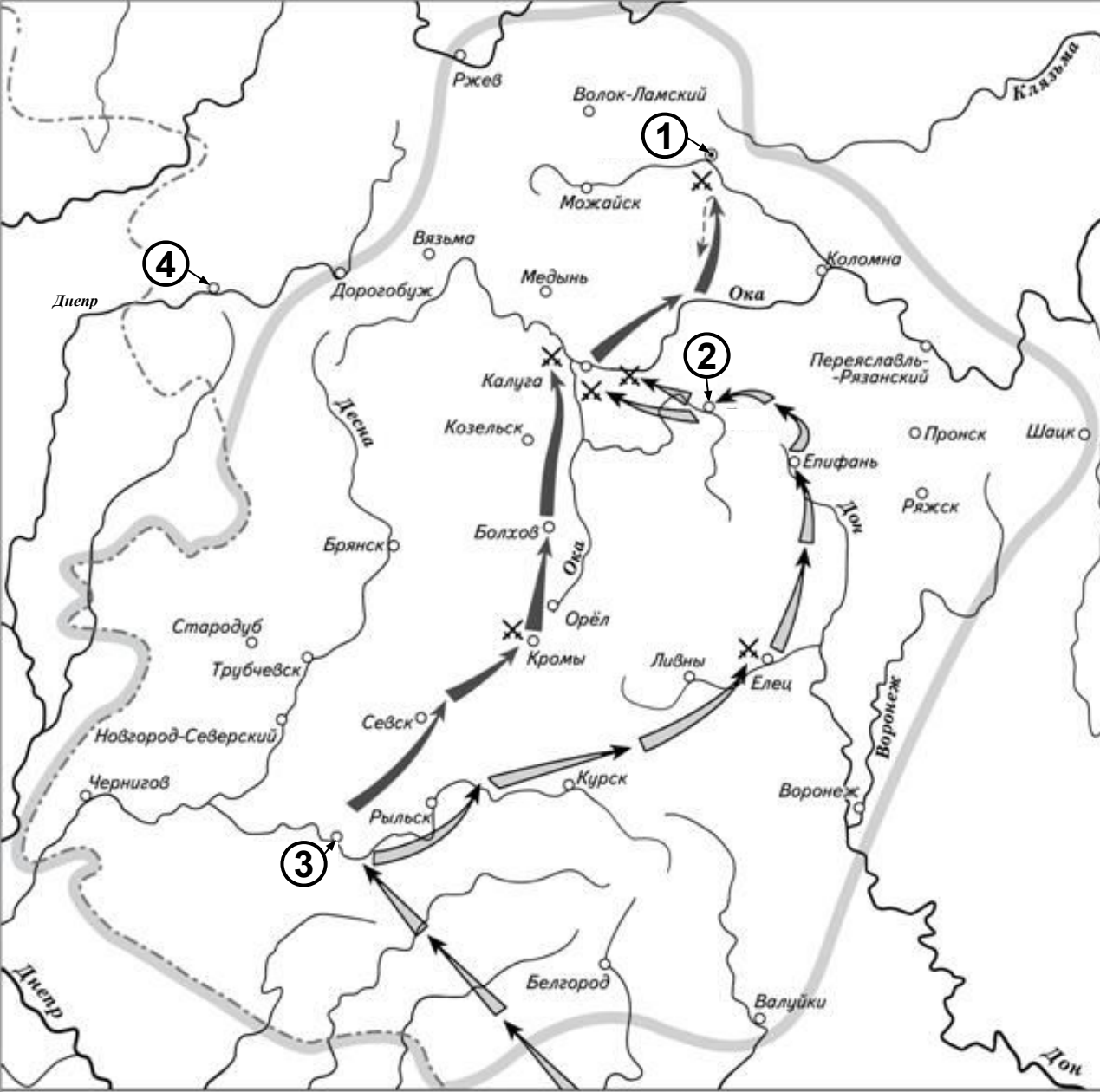
№ 13. Укажите название периода истории России, когда происходили события, обозначенные на схеме стрелками.

№ 14. Укажите название города, обозначенного на схеме цифрой «3».

№ 15. Назовите короля иностранного государства, действия войск которого обозначены стрелками, подписанными в легенде схемы цифрой «5».

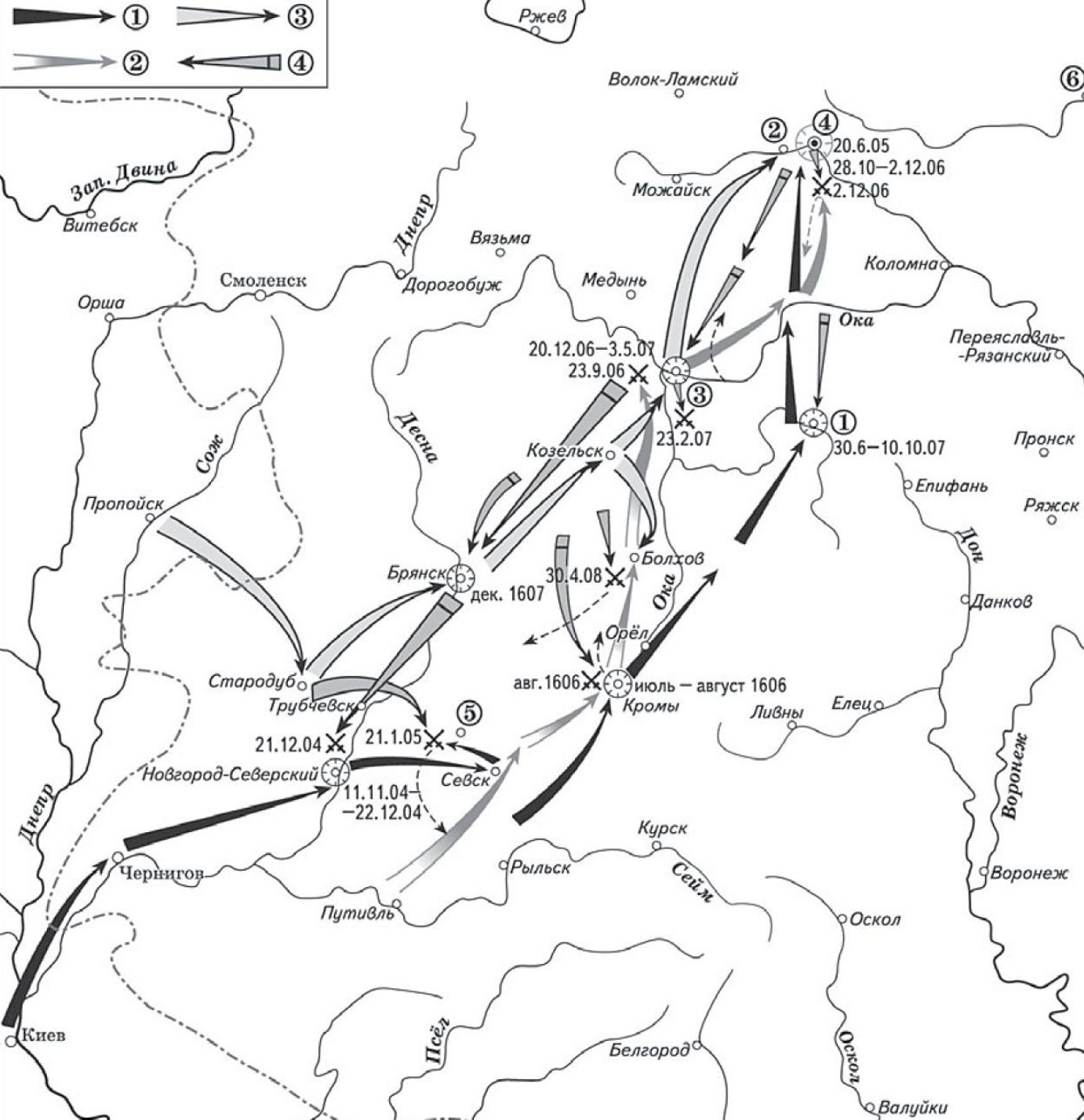
№ 16. Какие суждения, относящиеся к данной схеме, являются верными? Выберите три суждения из шести предложенных.

- 1) Самозванец, действия войск которого обозначены стрелками, подписанными в легенде схемы цифрой «4», получил прозвище «Тушинский вор».
- 2) Город, обозначенный на схеме цифрой «1», в ходе событий, которым посвящена схема, был захвачен неприятелем после более чем 20-месячной осады.
- 3) Цифрой «2» на схеме обозначено село Деулино.
- 4) Действиями войск, обозначенных стрелками, подписанными в легенде схемы цифрой «7», в период, которому посвящена схема, командовал Карл XII.
- 5) Одним из руководителей похода, обозначенного стрелками, подписанными в легенде схемы цифрой «6», был М. В. Скопин-Шуйский.
- 6) Территории, заштрихованные на схеме, были потеряны Россией в результате обозначенных событий, но полностью возвращены в течение следующих полутора столетий.



- Походы основных сил восставших на Москву и их отход к Калуге и Туле
- Поход казаков во главе с самозванцем «царевичем Петром» на помощь главным силам восставших
- Граница основного района восстания

- № 13. Укажите фамилию руководителя народного восстания, ход которого представлен на карте.**
- № 14. Укажите название города под цифрой «2», где был пленен руководитель восстания.**
- № 15. Укажите название города под цифрой «3», где началось восстание.**
- № 16. Какие суждения, относящиеся к данной схеме, являются верными? Выберите три суждения из шести предложенных.**
- 1) Под цифрой «1» на карте спрятан Смоленск
 - 2) Город под цифрой «4» был осажден польскими войсками спустя менее чем пять лет после событий, отраженных на карте.
 - 3) Руководитель восстания выдавал себя за воеводу царя Дмитрия.
 - 4) В восстании, представленном на карте, активное участие принимал Прокопий Ляпунов
 - 5) Русским царем в ходе событий, отраженных на карте, являлся Борис Годунов.
 - 6) Под цифрой «4» на карте спрятана Москва.



№ 13. Напишите название населённого пункта, обозначенного цифрой на схеме, в котором находился лагерь Лжедмитрия II.

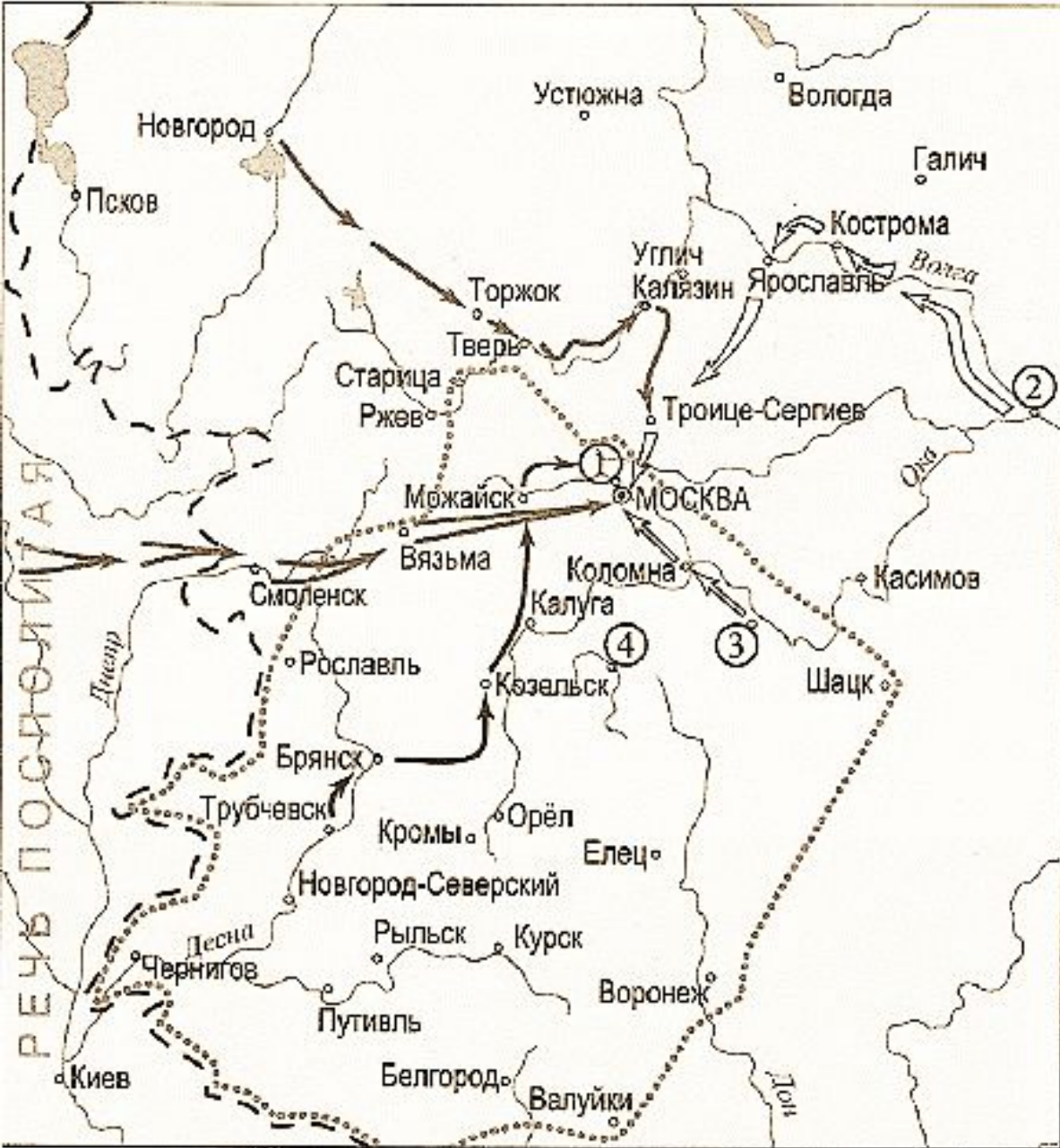
№ 14. Напишите, кто был царём в тот момент, когда войска Лжедмитрия I вступили на территорию России.




№ 15. Напишите название города, обозначенного цифрой на схеме, в котором потерпели окончательное поражение войска Ивана Болотникова.

№ 16 Какие суждения, относящиеся к событиям, обозначенным на схеме, являются верными?

Выберите три суждения из шести предложенных.

- 1) Возле города, обозначенного на схеме цифрой «5», царские войска нанесли поражение Лжедмитрию I.
- 2) Цифрой «4» в легенде показан поход войска Лжедмитрия II.
- 3) В городе, обозначенном на схеме цифрой «4», был избран на царство Василий Шуйский.
- 4) Конечной целью похода Лжедмитрия I был захват Новгорода.
- 5) В городе, обозначенном на схеме цифрой «6», погиб в результате боярского заговора Лжедмитрий I.
- 6) Цифрой «2» в легенде показан поход войска Ивана Болотникова.



-  Походы поляков на Москву
-  Граница Российского государства к нач. XVII в.
-  Движение войск народного ополчения

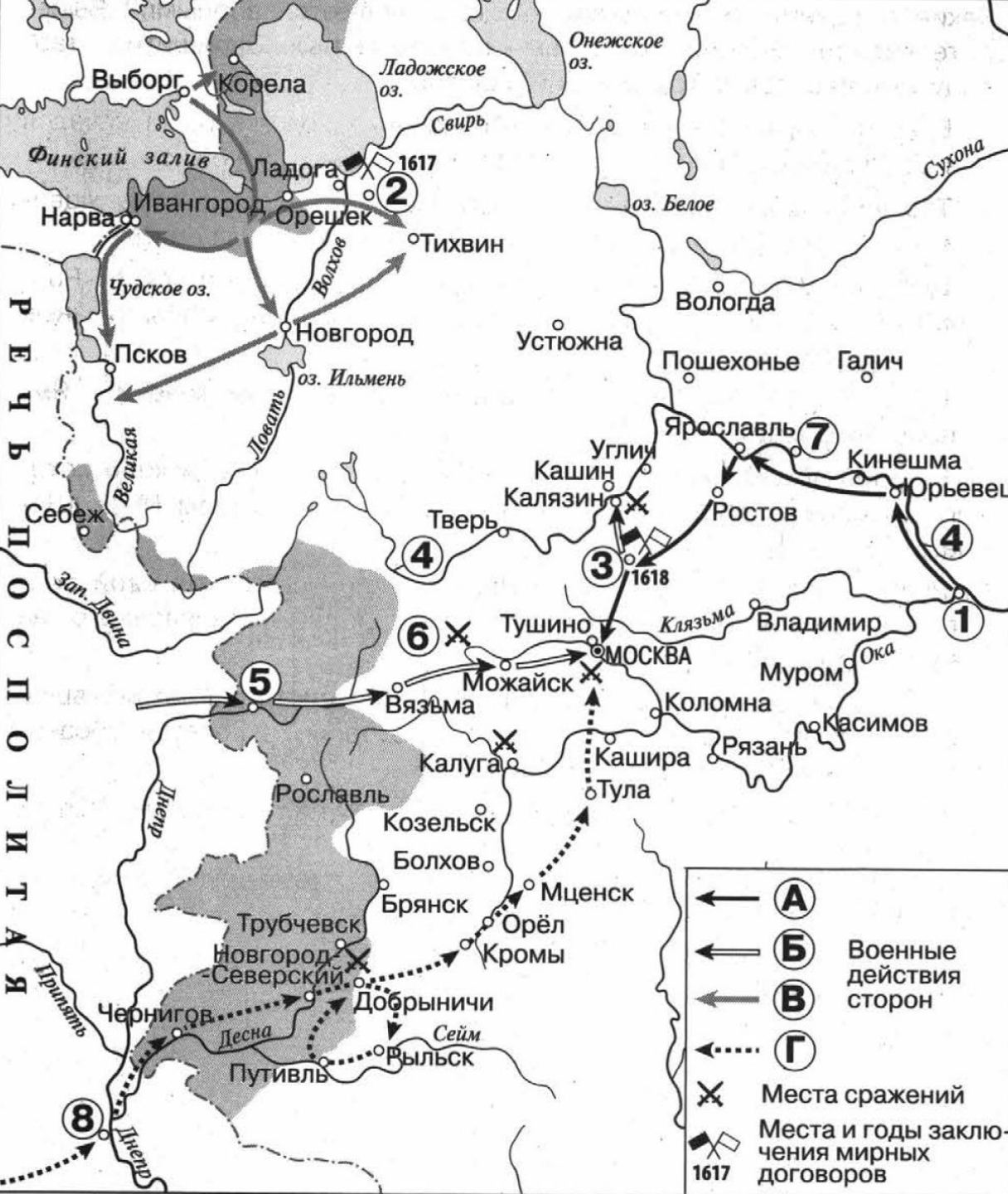
№ 13. Напишите название подмосковного села – места лагеря самозванца, – отмеченного на карте цифрой «1»

№ 14. Напишите фамилию предводителя восстания, территория которого обозначена на карте пунктирной линией.

№ 15. Напишите название города, обозначенного на схеме цифрой «3»

№ 16. Какие суждения, относящиеся к данной схеме, являются верными? Выберите три суждения из шести предложенных.

- 1) Отмеченные на схеме события происходили в период, известный как Смута.
- 2) Причиной отраженных на схеме событий было вторжение турецких и шведских захватчиков.
- 3) Участники событий, отраженных на схеме пунктирной линией, боролись против власти царя Михаила Романова.
- 4) Город, отмеченный на схеме цифрой «4», прославился длительной обороной против польских войск.
- 5) Одним из руководителей ополчения, созданного в городе, отмеченном на схеме цифрой «2», был князь Дмитрий Пожарский.
- 6) Одним из последствий отраженных на схеме событий стало возведение на русский престол новой династии.



№ 13. Заполните пропуск в предложении: «Буквой «Г» в легенде схемы обозначен поход, начавшийся в период правления в России царя _____».

№ 14_1. Заполните пропуск в предложении: «Цифрой «2» на схеме обозначено место заключения мирного договора между Россией и _____».

№ 14_2. Укажите название города, обозначенного на схеме цифрой «1».

№ 15_1. Укажите название реки, дважды обозначенной на схеме цифрой «4».

№ 15_2. Укажите название города, обозначенного на схеме цифрой «5».

№ 16. Какие суждения, относящиеся к схеме, являются верными? Выберите четыре суждения из восьми предложенных.

- 1) Буквой «Б» в легенде схемы обозначен поход, который начался раньше похода, обозначенного в легенде схемы буквой «А».
- 2) Территориальные изменения, обозначенные на схеме серым цветом, привели к расширению границ Российского государства.
- 3) Цифрой «8» на схеме обозначен город, вошедший в состав Российского государства в том же веке, когда произошли обозначенные на схеме события.
- 4) Цифрой «3» на схеме обозначено место заключения Ям-Запольского мира.
- 5) Цифрой «6» на схеме обозначено место сражения, в ходе которого русские войска сражались под предводительством Михаила Шеина.
- 6) Русский национальный герой Иван Сусанин совершил свой подвиг в непосредственной близости от города, обозначенного на схеме цифрой «7».
- 7) На схеме обозначено и подписано государство, прекратившее свое существование в том же веке, к которому относятся обозначенные на схеме стрелками события.
- 8) Завоеватели, поход которых обозначен на схеме, захватили Вязьму.



№ 13. Закончите предложение: «Границы Европейской части России обозначены на схеме на конец _____ в.». Ответ запишите словом.

№ 14. Укажите название города-порта, обозначенного на схеме цифрой «2».

№ 15. Назовите государя, в период правления которого в состав Российского государства вошёл город, обозначенный на схеме цифрой «3».

№ 16. Какие суждения, относящиеся к исторической ситуации, обозначенной на схеме, являются верными? Выберите три суждения из шести предложенных.

1) Цифрой «1» на схеме обозначен город, в непосредственной близости от которого были построены первые в России железоделательные заводы.

2) На схеме заштрихованы районы, специализировавшиеся на производстве хлеба.

3) На схеме указан монастырь, где произошло крупнейшее восстание против церковной реформы, длившееся около восьми лет.

4) Одна из крупнейших ярмарок России – Макарьевская – обозначена на схеме цифрой «4».

5) Первая железная дорога была построена в России в том же веке, к которому относится историческая ситуация, обозначенная на схеме.

6) Развитию хозяйства России в столетии, к которому относится историческая ситуация, обозначенная на схеме, способствовала отмена внутренних таможенных пошлин.



№ 13. Назовите монарха, в период правления которого в состав Российского государства вошёл город, обозначенный на схеме цифрой «3».

№ 14. Заполните пропуск в предложении: «Одна из крупнейших ярмарок России в XVII–XVIII вв. – _____ – обозначена на схеме цифрой "4"».

№ 15. Заполните пропуск в предложении: «Цифрой "1" на схеме обозначен город _____, в непосредственной близости от которого были построены первые в России железодельные заводы».

№ 16. Какие суждения, относящиеся к данной схеме, являются верными? Выберите три суждения из шести предложенных.

- 1) Крупными центрами кожевенного производства согласно схеме были Тверь, Калуга, Смоленск.
- 2) Горизонтальной штриховкой на схеме обозначены районы, специализировавшиеся на пушном промысле.
- 3) Точечным узором на схеме обозначен основной район производства льна и пеньки.
- 4) Цифрой «6» на схеме обозначена река, название которой было изменено в результате крупного народного восстания, произошедшего в том же веке, в котором установились границы Европейской части России, обозначенные на схеме.
- 5) Цифрой «5» на схеме обозначен город, вошедший в состав Российского государства в период правления Ивана IV.
- 6) Цифрой «2» на схеме обозначен Архангельск.



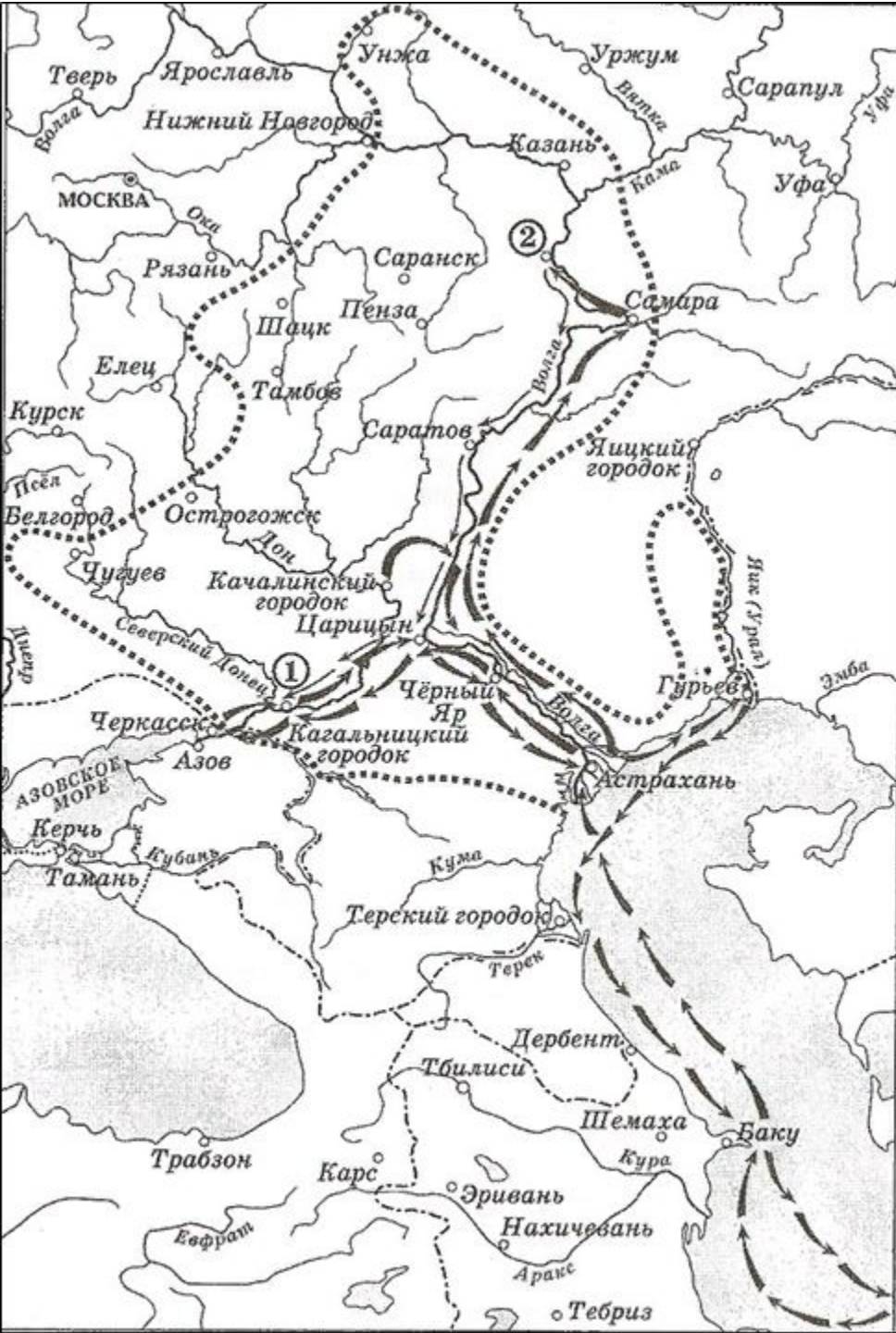
№ 13. Назовите царя, к годам правления которого относятся события, обозначенные на схеме.

№ 14. Напишите фамилию предводителя похода, обозначенного на схеме черными длинными (не объемными) стрелками.

№ 15. Напишите название города, обозначенного на схеме цифрой «1».

№ 16. Какие суждения, относящиеся к данной схеме, являются верными? Выберите три суждения из шести предложенных.

- 1) На схеме обозначены события, относящиеся к Смутному времени.
- 2) Одним из участников событий, отраженных на карте, был Василий Ус.
- 3) Одной из причин событий, обозначенных на схеме, было утверждение в России крепостного права.
- 4) На схеме обозначен район восстания в 1670–1671 гг.
- 5) Для подавления восстания, отраженного на схеме, правительству пришлось ускорить заключение мирного договора с Турцией.
- 6) Во главе восстания, район которого обозначен на схеме, был самозванец, выдававший себя за «истинного царя».



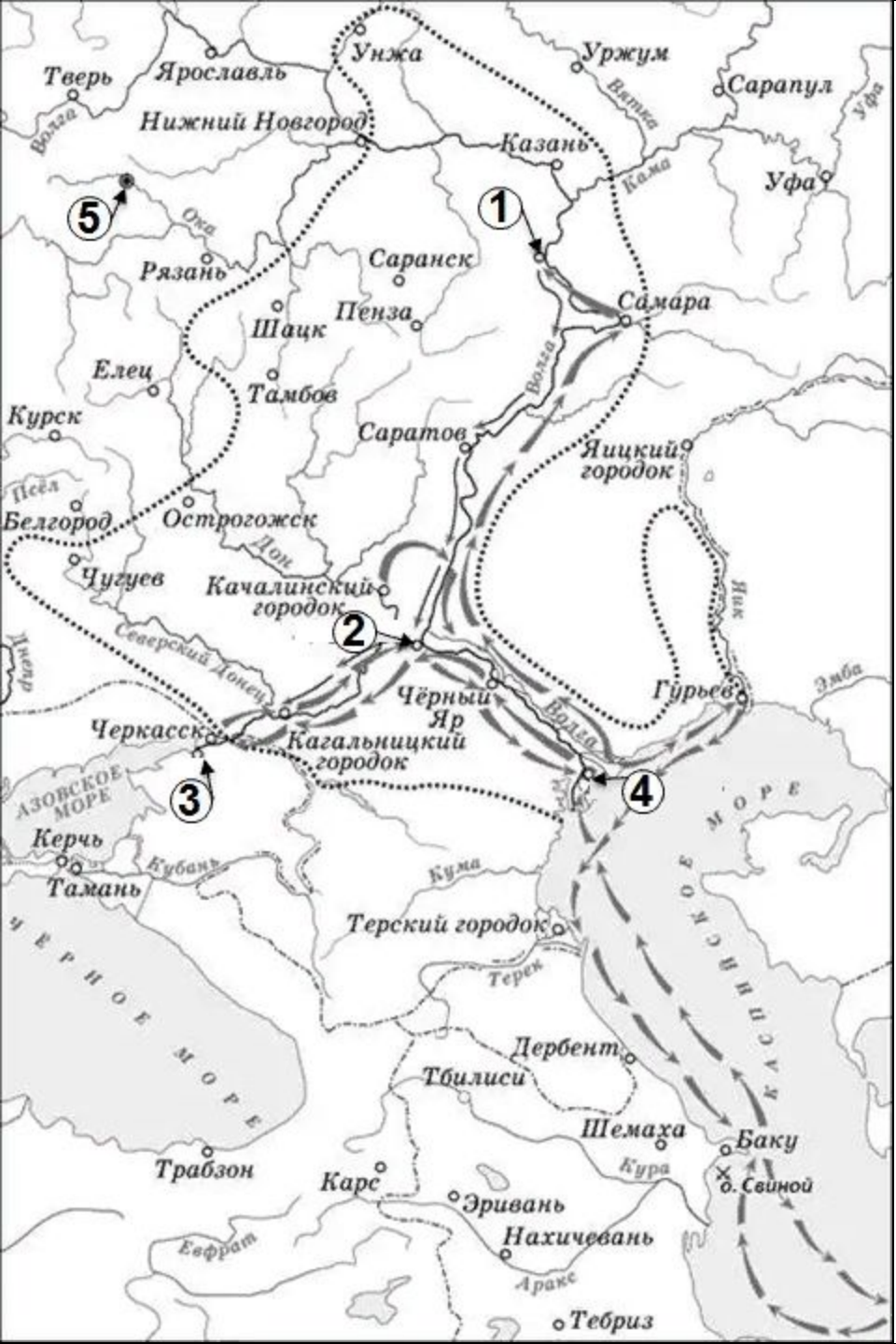
№ 13. События, обозначенные на схеме стрелками, начались в _____ веке.

№ 14. Укажите фамилию предводителя движения, обозначенного на схеме.

№ 15. Укажите название города, обозначенного цифрой «2», который не смогли взять восставшие.

№ 16. Какие суждения, относящиеся к данной схеме, являются верными? Выберите три суждения из шести предложенных.

- 1) Цифрой «1» на схеме обозначен район проживания донских казаков.
- 2) В движении, обозначенном на схеме стрелками, участвовали только крестьяне.
- 3) Предводитель восстания был казнен в Москве.
- 4) Город Царицын был взят восставшими.
- 5) Руководитель движения выдавал себя за «чудом спасшегося императора».
- 6) Восставшие требовали увеличения казачьего реестра.



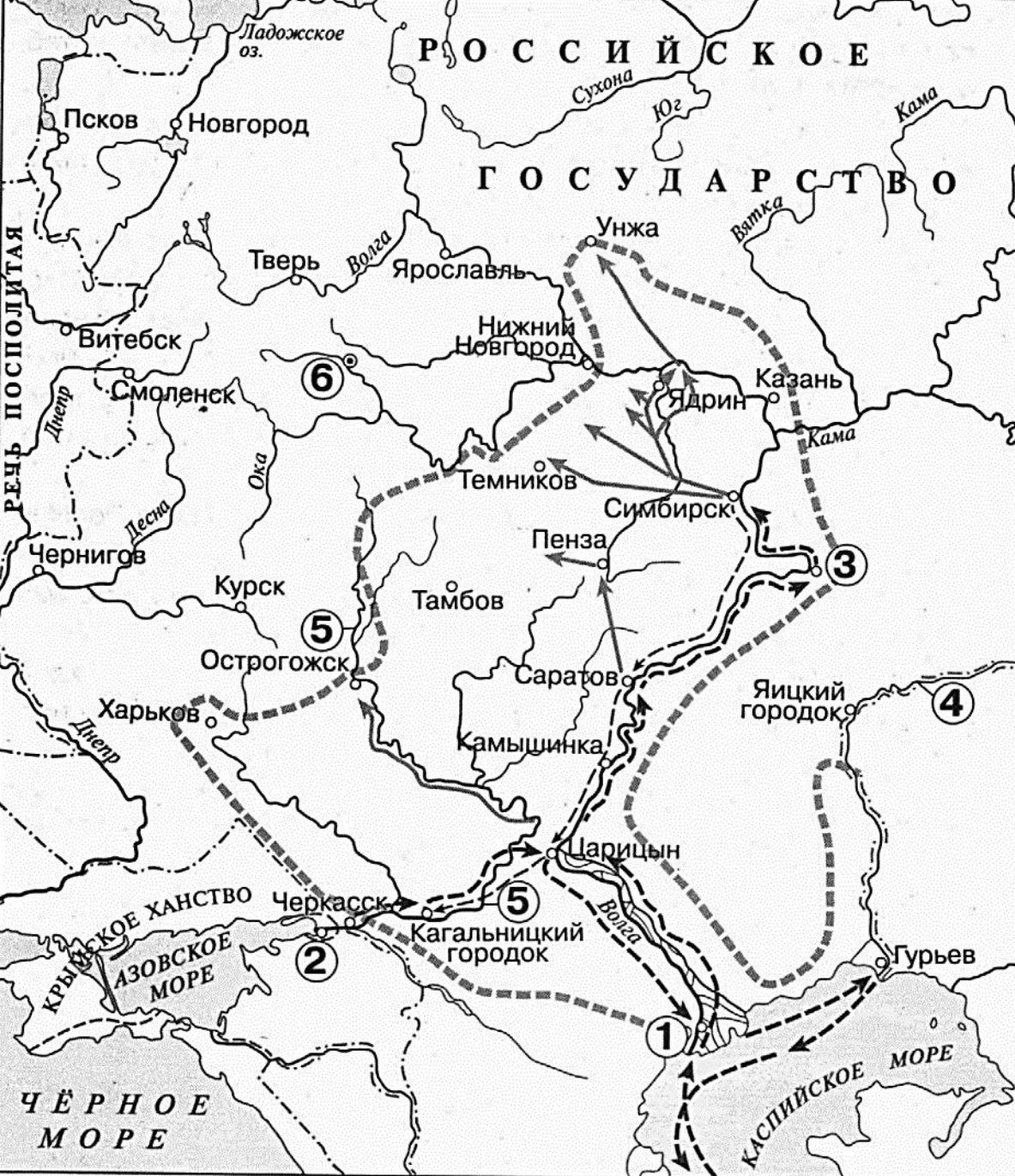
№ 13. Укажите российского монарха, в период правления которого произошли события, обозначенные на карте.

№ 14. Укажите название города, обозначенного на схеме цифрой «1».

№ 15. Укажите название города, обозначенного на схеме цифрой «2».

№ 16. Какие суждения, относящиеся к данной схеме, являются верными? Выберите три суждения из шести предложенных.

- 1) Крепость, указанная на карте цифрой «3», находилась под контролем донских казаков на момент начала событий, обозначенных на карте стрелками.
- 2) После событий, обозначенных на карте, река Яик была переименована в реку Урал.
- 3) Вождь восстания, события которой отражены на схеме, был казнен в городе, указанном на карте цифрой «5».
- 4) Цифрой «4» на схеме обозначен город, вошедший в состав России в XVI веке.
- 5) Вождь восстания, события которого отражены на карте, выдавал себя за русского монарха.
- 6) Город, обозначенный на карте цифрой «2», был взят восставшими в ходе бунта, обозначенного на карте.



№ 13. Заполните пропуск в предложении: «Обозначенные на схеме события произошли в период правления в России царя _____».

№ 14_1. Заполните пропуск в предложении: «Цифрой «1» на схеме обозначен город, вошедший в состав Российского государства в середине _____ века».

№ 14_2. Укажите название города, обозначенного на схеме цифрой «3».

№ 15. Укажите название реки, дважды обозначенной на схеме цифрой «5».

№ 16. Какие суждения, относящиеся к схеме, являются верными? Выберите четыре суждения из восьми предложенных.

- 1) Тяжелое положение работных людей на мануфактурах явилось одной из важнейших причин начала народного восстания, район которого обозначен на схеме пунктиром.
- 2) Участники восстания, которому посвящена схема, стремились к свержению правящей династии в Российском государстве.
- 3) Цифрой «6» на схеме обозначен город, где был казнен предводитель восстания, район которого обозначен на схеме пунктиром.
- 4) Цифрой «2» на схеме обозначен город, впервые вошедший в состав Российского государства в том же веке, когда произошли обозначенные на схеме стрелками события.
- 5) Обозначенные на схеме события привели к введению в Российском государстве бессрочного сыска беглых крестьян.
- 6) Предводитель восстания, которому посвящена схема, являлся представителем казачества.
- 7) Цифрой «4» на схеме обозначена река, на берегу которой в XIII в. произошло первое столкновение русских войск с монгольскими полчищами.
- 8) В районе восстания, обозначенном на схеме, находился город Саратов.



№ 13. Укажите российского монарха, в период правления которого произошли события, обозначенные на схеме стрелками.

№ 14. Укажите название города, обозначенного на схеме цифрой «2».

№ 15. Укажите название города, обозначенного на схеме цифрой «3».

№ 16. Какие суждения, относящиеся к данной схеме, являются верными? Выберите три суждения из шести предложенных.

- 1) Цифрой «1» на схеме обозначен г. Смоленск.
- 2) Походы запорожских казаков, обозначенные на схеме стрелками, возглавлял Богдан Хмельницкий.
- 3) Цифрой «4» на схеме обозначена территория Астраханского ханства.
- 4) Цифрой «5» на схеме обозначен город, вошедший в состав России в том же веке, к которому относятся события, обозначенные на схеме.
- 5) В том же веке, в котором произошли события, обозначенные на схеме стрелками, Россия создала Черноморский флот.
- 6) На схеме обозначено место подписания перемирия, по которому к России перешли города, обозначенные на схеме цифрами «2» и «3».



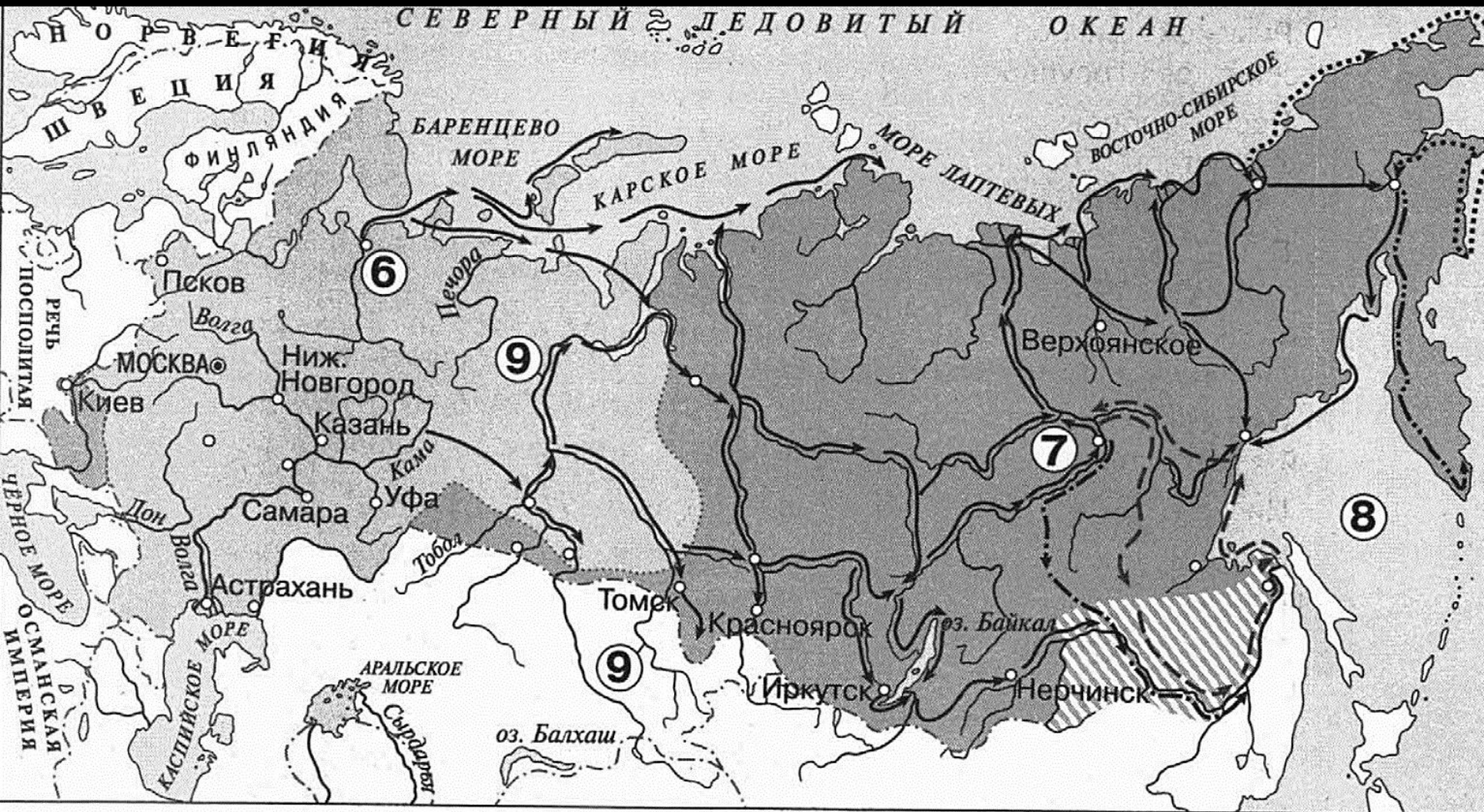
№ 13. Укажите фамилию первопроходца, которой назван мыс, отмеченный на карте цифрой «3»

№ 14. Укажите название реки, отмеченной на карте цифрой «2»

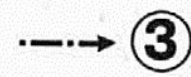


№ 15. Укажите имя монарха, в период правления которого произошла экспедиция, маршрут которой отмечен на карте.

№ 16. Какие суждения, относящиеся к событиям, обозначенным на схеме, являются верными?

- 1) Одним из участников экспедиции, маршрут которой указан на карте, был Федот Попов.
- 2) Современником экспедиции, отраженной на карте, был боярин Борис Морозов.
- 3) Пролив между Евразией и Америкой, открытый в процессе этой экспедиции, также носит имя ее руководителя.
- 4) Под цифрой «1» обозначена река Колыма.
- 5) Участником экспедиции, маршрут которой указан на карте, был Иван Москвитин.
- 6) Участником экспедиции, маршрут которой указан на карте, был Ерофей Хабаров.



Важнейшие пути русских землепроходцев



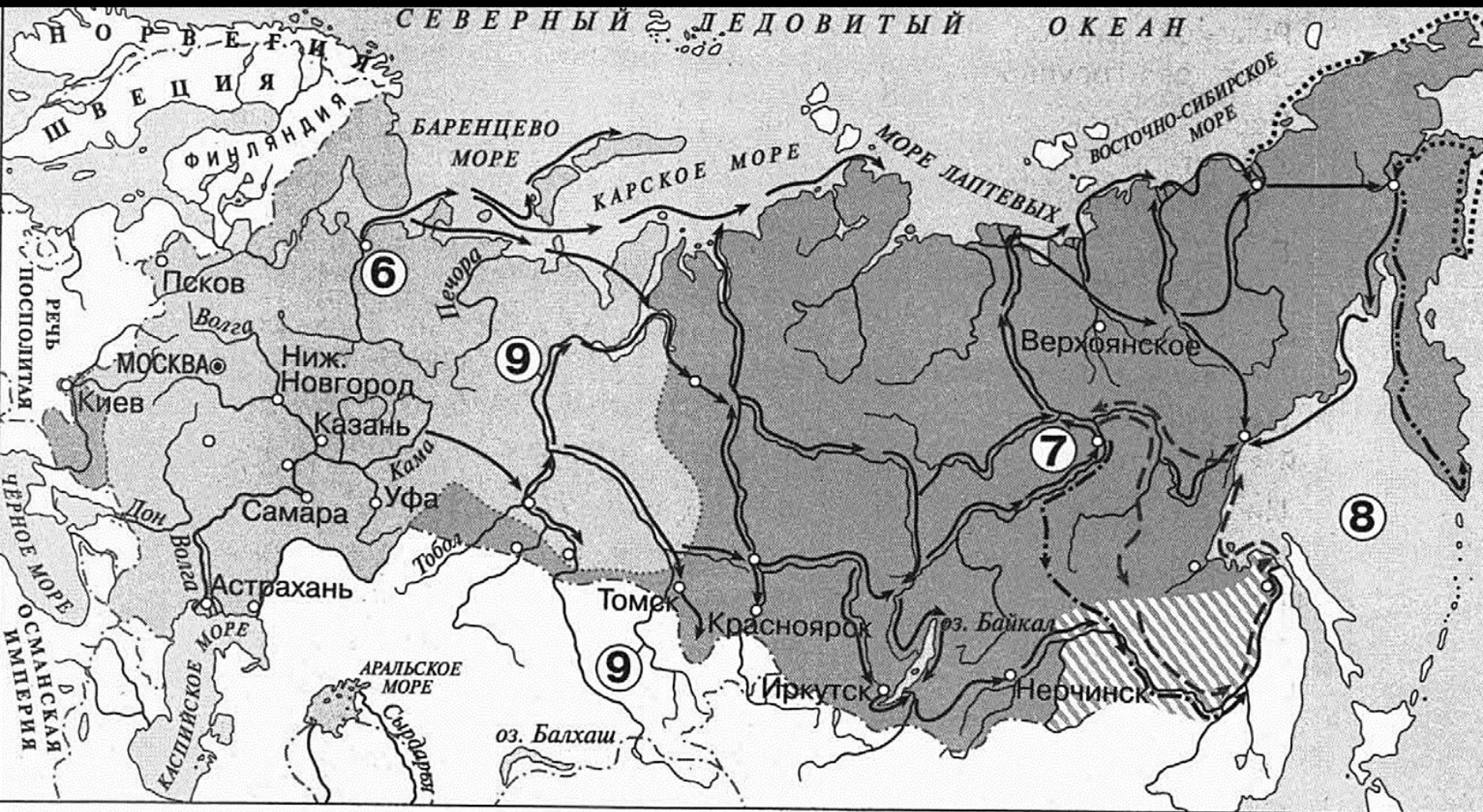
№ 13. Заполните пропуск в предложении (укажите имя и фамилию): «В руководстве экспедиции, маршрут которой обозначен в легенде схемы цифрой «2», принимали участие Федот Попов, Герасим Анкудинов и получивший наибольшую известность _____».

№ 14_1. Заполните пропуск в предложении. «Римской цифрой «II» в легенде схемы обозначена территория, вошедшая в состав Российского государства к концу _____ века.


№ 14_2. Укажите название города, обозначенного на схеме цифрой «6».

№ 15_1. Укажите название реки, дважды обозначенной на схеме цифрой «9».

№ 15_2. Заполните пропуск в предложении: «Римской цифрой «III» в легенде схемы обозначена территория, переданная под юрисдикцию китайской династии Цин в период, когда российский престол занимал представитель династии _____».



Важнейшие пути русских землепроходцев



№ 16. Какие суждения, относящиеся к схеме, являются верными? Выберите четыре суждения из восьми предложенных.

- 1) Римской цифрой «I» в легенде схемы обозначена территория Российского государства в начале XVI в.
- 2) После победы над войском хана Кучума казачьим отрядом под руководством Ермака Тимофеевича был взят город, обозначенный на схеме цифрой «7».
- 3) В настоящее время административным центром Дальневосточного федерального округа России и Хабаровского края является город, названный в честь руководителя экспедиции, маршрут которой обозначен в легенде схемы цифрой «3».
- 4) Экспедицией, маршрут которой обозначен в легенде схемы цифрой «1», руководил Владимир Атласов.
- 5) Цифрой «8» на схеме обозначено Балтийское море.
- 6) В экспедициях, маршруты которых обозначены в легенде схемы цифрой «5», принимали участие казаки.
- 7) Мирный договор между Русским царством и Китаем, впервые определивший отношения и границу между двумя государствами, был заключен в городе, обозначенном на схеме.
- 8) Экспедицией, маршрут которой обозначен в легенде схемы цифрой «4», руководил Степан Крашенинников.