

Зарубежная Европа

1. Бельгия
2. Нидерланды
3. Люксембург
4. Швейцария
5. Лихтенштейн
6. Австрия
7. Чехия
8. Словакия
9. Венгрия
10. Словения
11. Хорватия
12. Босния и Герцеговина
13. Сербия
14. Сан-Марино
15. Албания
16. Македония
17. Молдавия
18. Белорусия
19. Россия (Калининградская область)
20. Литва
21. Латвия
22. Эстония

ГП и природно - ресурсный потенциал Зарубежной Европы



Европа... Это географическое имя о чем нам говорит?

- Зарубежная Европа — один из очагов мировой цивилизации, родина Великих географических открытий, промышленных переворотов, городских агломераций, международной экономической интеграции.
- Этот регион и в наши дни занимает очень важное место в мировой политике и экономике. Это географический регион на западе Евразии, площадью 10 млн. км², в том числе 5,1 млн. км² приходится на зарубежную (по отношению к СНГ) Европу, что составляет около 4% всей обитаемой суши. Территория зарубежной Европы протягивается с Севера на Юг от Шпицбергена до Крита на 5 тыс. км, с Запада на Восток от атлантического побережья Португалии до черноморского побережья Румынии на 3100 км.

Европа... Это географическое имя напоминает и о древнегреческом мифе про дочь финикийского царя Агенора, правителя Сидона, Европу. Согласно мифу, Европа была похищена Зевсом, принявшим облик быка. На спине этого быка она проплыла по Средиземному морю от Финикии до Крита, где и стала его женой.



В. Серов

Похищение
Европы

Проанализируйте форзац учебника и «Политическую карту Европы» и ответьте на вопросы:

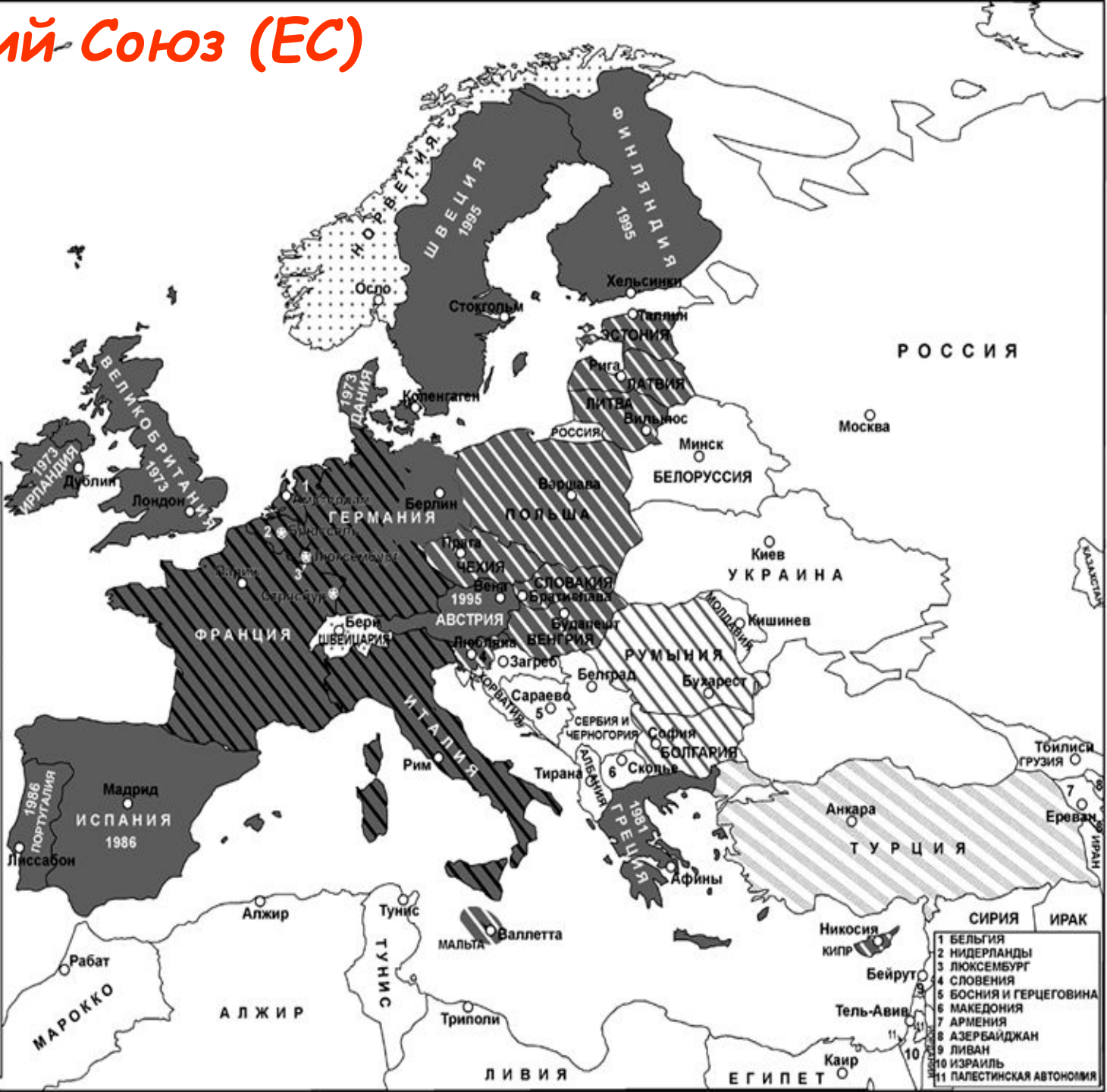
- 1. Какая страна самая большая по площади территории?**
- 2. Назовите микросоударства Европы.**
- 3. Приведите примеры стран расположенных на:**
 - островах**
 - полуостровах**
- 4. Приведите примеры стран:**
 - внутриконтинентальных**
 - с приморским положением**
- 5. Назовите страны с монархической формой правления. Какой вид монархии им характерен?**
- 6. Назовите федеративные государства?**
- 7. Как различаются страны по экономическому уровню развития? Назовите страны входящие в «большую семёрку».**



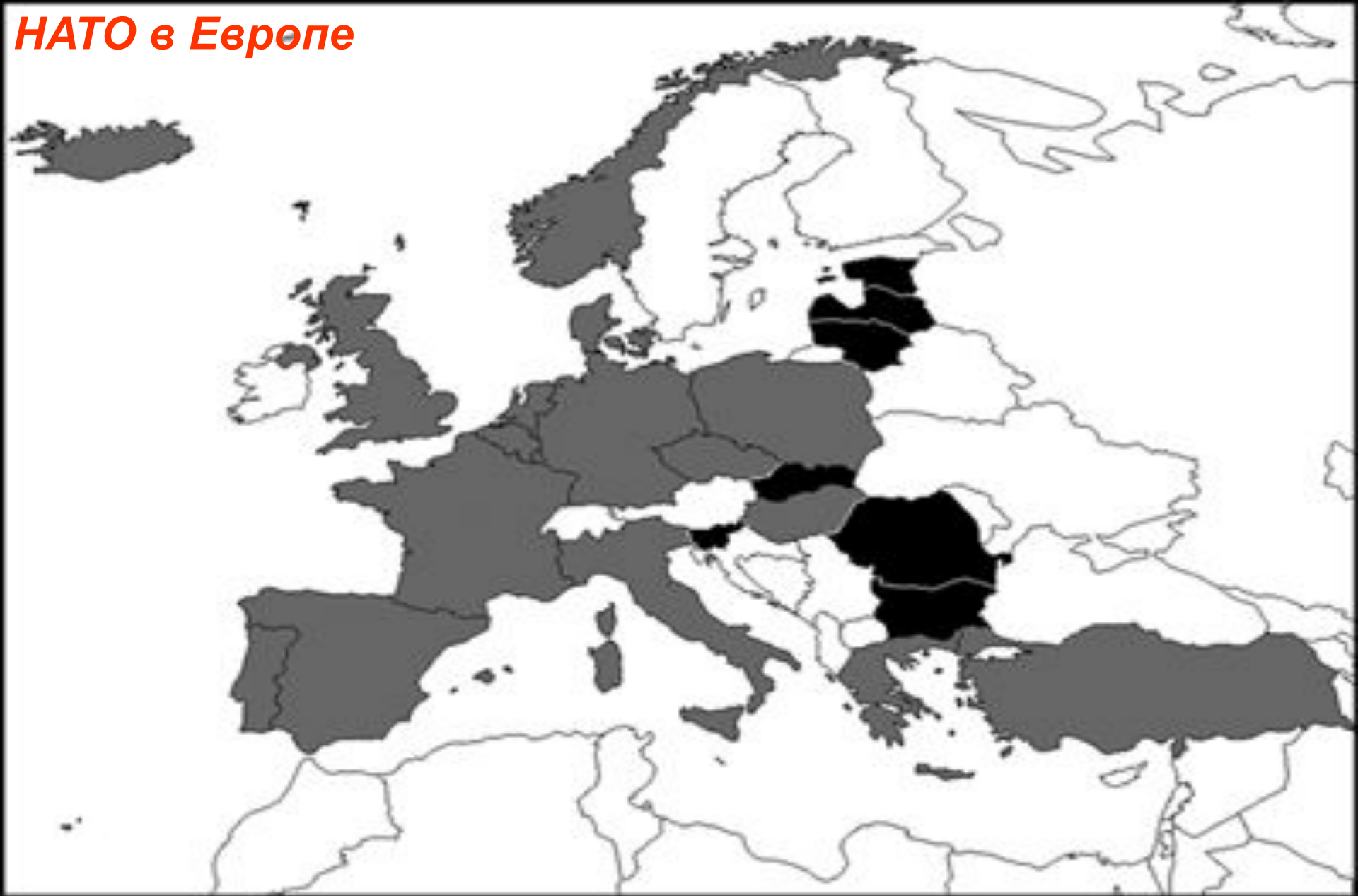
Политическая карта региона на протяжении XIX в. претерпевала большие изменения трижды: после первой и второй мировых войн и в последние годы (объединение Германии, приобретение независимости странами Балтии, распад Югославии, Чехословакии, изменение общественного строя в странах Восточной Европы). Политической консолидации региона способствует деятельность Организации по безопасности и сотрудничеству в Европе (ОБСЕ), в состав которой входят 53 страны (она включает также США, Канаду, страны СНГ). Все большую роль начинает играть и Совет Европы. Наряду с этим сохраняется и даже возрастает влияние блока НАТО.

Европейский Союз (ЕС)

-  Европейский Союз на 1 января 2004 г.
-  Территория Европейского Экономического Сообщества в момент подписания Римского договора 1957 г.
-  Страны, присоединяющиеся к Европейскому Союзу с 1 мая 2004 г.
-  Страны, присоединяющиеся к Европейскому Союзу с 2008 г. (проект)
-  Турция — возможный в недалеком будущем член Европейского Союза
-  Страны, не являющиеся членами ЕС, входящие в Европейское экономическое пространство
-  Год вхождения в Европейский Союз
-  Места расположения органов Европейского Союза



НАТО в Европе



Члены НАТО на 1 января 2004 г.



Страны вступающие в НАТО 2 апреля 2004 г.

Какими чертами характеризуются особенности ЭГП региона?

- Т. 6 § 1 п. 1

1.

.....

2.

.....

Природно-ресурсный потенциал

Природные предпосылки для промышленности зарубежной Европы сложились под большим влиянием размещения **полезных ископаемых**.



В северной части распространены как рудные полезные ископаемые связанные с Балтийским щитом и зоной герцинской складчатости, так и топливные, «привязанные» прежде всего к осадочному чехлу платформы и ее краевым прогибам.



В южной части преобладают рудные месторождения как магматического, так и осадочного (бокситы) происхождения, но запасы топливных ресурсов здесь значительно меньше. Таким тектоническим строением территории в значительной мере объясняется «некомплектность» набора полезных ископаемых в отдельных странах.

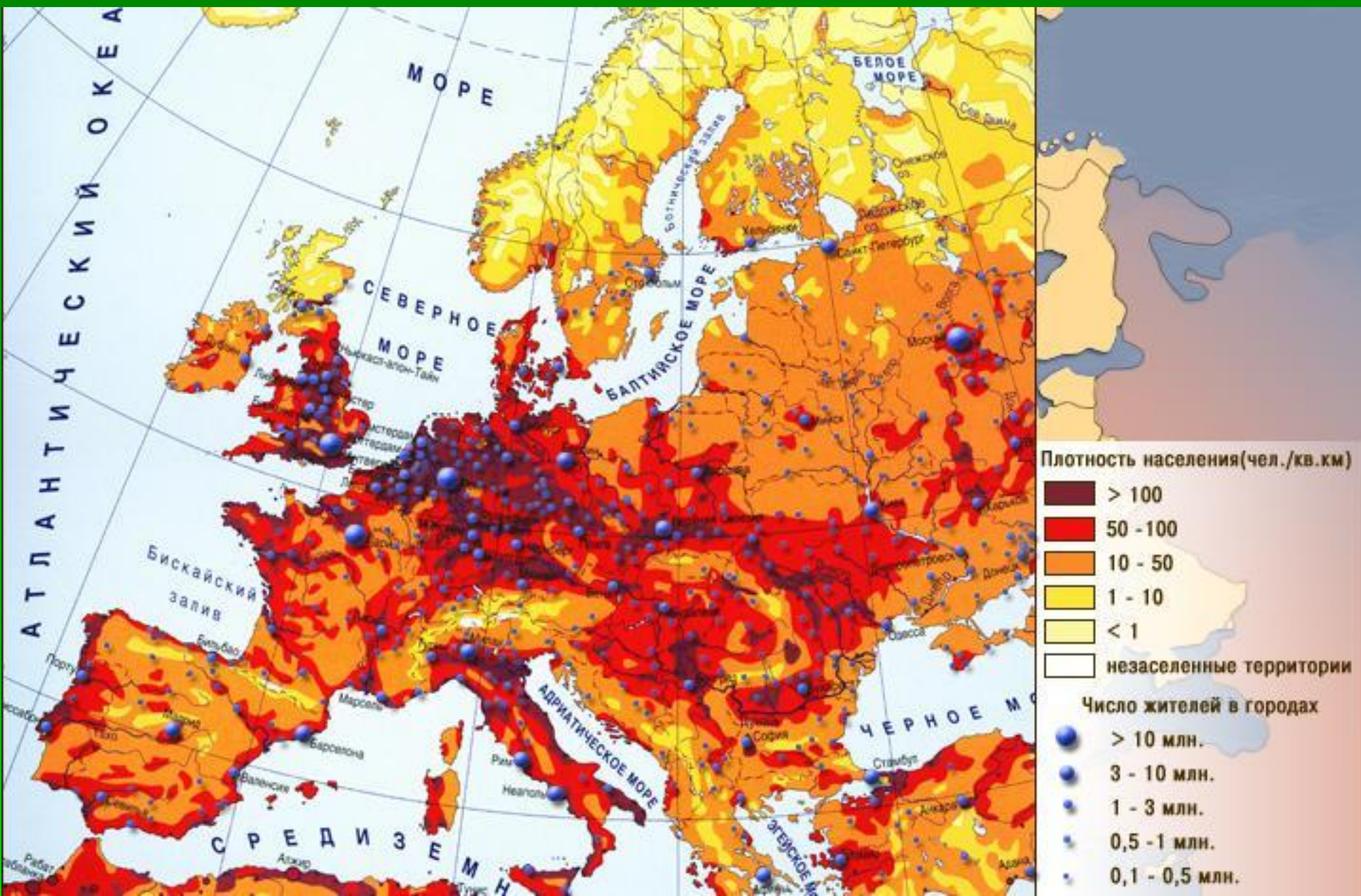
Природно-ресурсный потенциал

- Гидроэнергетические ресурсы зарубежной Европы довольно велики, но приходится в основном на районы Альп, Скандинавских и Динарских гор. Во многих странах они уже полностью использованы.
- Природные предпосылки для сельского хозяйства региона относительно благоприятны и широко используются уже в течение многих столетий. В результате резервы для расширения обрабатываемых земель практически уже исчерпаны, а «нагрузка» на них возрастает. Поэтому небольшие приморские страны, и прежде всего Нидерланды, продолжают наступление на прибрежные участки морей.
- Агроклиматические ресурсы региона определяются его положением в умеренном, а на юге — в субтропическом поясах. В Средиземноморье устойчивое земледелие нуждается в искусственном орошении. Больше всего орошаемых земель в Италии и Испании.
- Наибольшими природными предпосылками для ведения лесного хозяйства обладают Швеция и Финляндия, где преобладают типичные лесные ландшафты: леса покрывают низменности и возвышенности, берега рек и озер, подступают к населенным пунктам. Недаром в народе говорят: «Финляндия без леса, что медведь без шерсти».
- Зарубежная Европа обладает также большими и разнообразными природно-рекреационными ресурсами.

Население

- В последнее время население зарубежной Европы стало возрастать очень медленно. Это объясняется тем, что для воспроизводства населения региона характерна сложная демографическая ситуация.
- В некоторых странах происходит убыль населения, депопуляция, которую не могут предотвратить и меры демографической политики. Такая депопуляция находит отражение на возрастно-половых пирамидах, имеющих «суженное» основание. Одновременно меняется и возрастной состав населения, растет доля пожилых людей. Все это привело к резкому изменению доли региона в мировой системе внешних миграций населения.
- Бывшая со времени Великих географических открытий главным очагом эмиграции, зарубежная Европа превратилась в главный мировой очаг трудовой иммиграции. Теперь здесь насчитывается 12—13 млн иностранных рабочих и членов их семей, значительная часть которых находится в положении не граждан, а временных гостей-рабочих (по-немецки «гастарбайтеров»). Для стран, принимающих большое число трудовых мигрантов (а также беженцев), подобный приток людей создает много сложных проблем. Он влияет на численность населения, на его воспроизводство, возрастно-половую структуру, размещение и в особенности на качество населения.

Зарубежная Европа — один из наиболее густонаселенных регионов мира со средней плотностью населения свыше **100 человек на **1 км²**.**



- При этом размещение населения в нем прежде всего определяется географией городов. Уровень урбанизации здесь один из самых высоких в мире: в среднем в городах живет 74 %, а в некоторых странах более 80% и даже 90% всего населения. Общее число городов измеряется многими тысячами, а сеть их очень густая. Постепенно, на протяжении тысячелетий, сложился западно-европейский тип города, корни которого восходят к временам Римской империи и средневековья.
- Долгое время характерной чертой урбанизации зарубежной Европы служила очень высокая концентрация населения в больших городах и городских агломерациях, которых здесь больше, чем в США и Японии, вместе взятых. Самые крупные из них — Лондонская, Парижская и Нижнерейнско-Рурская. Однако в 70-е гг. после периода бурного роста городов и агломераций начался отток населения из их центров сначала в ближние и дальние пригороды, а затем и в более отдаленные мелкие города и в сельскую местность («зеленая волна»). В результате число жителей в центральных районах Лондона, Парижа, Гамбурга, Вены, Милана и других городов либо стабилизировалось, либо даже стало сокращаться. Этот процесс получил наименование субурбанизации. В то же время субурбанизация приводит к «растеканию» городского населения и формированию обширных урбанизированных районов и зон.

По национальному составу население зарубежной Европы относительно однородно: подавляющее большинство из 62 народов региона относится к индоевропейской языковой семье.



Этническая карта региона, складывавшаяся на протяжении тысячелетий, не так проста. Наряду с однонациональными, здесь немало государств со сложным национальным составом, в которых в последнее время наблюдается обострение межнациональных отношений.



В зарубежной Европе господствующая религия — христианство. В Южной Европе резко преобладают католицизм, в Северной — протестантство, а в Средней они находятся в равных соотношениях. В Риме расположен мировой центр католицизма — Ватикан.



Практическая работа.

Изучение проблемы природных и трудовых ресурсов в процессе интеграции стран Зарубежной Европы

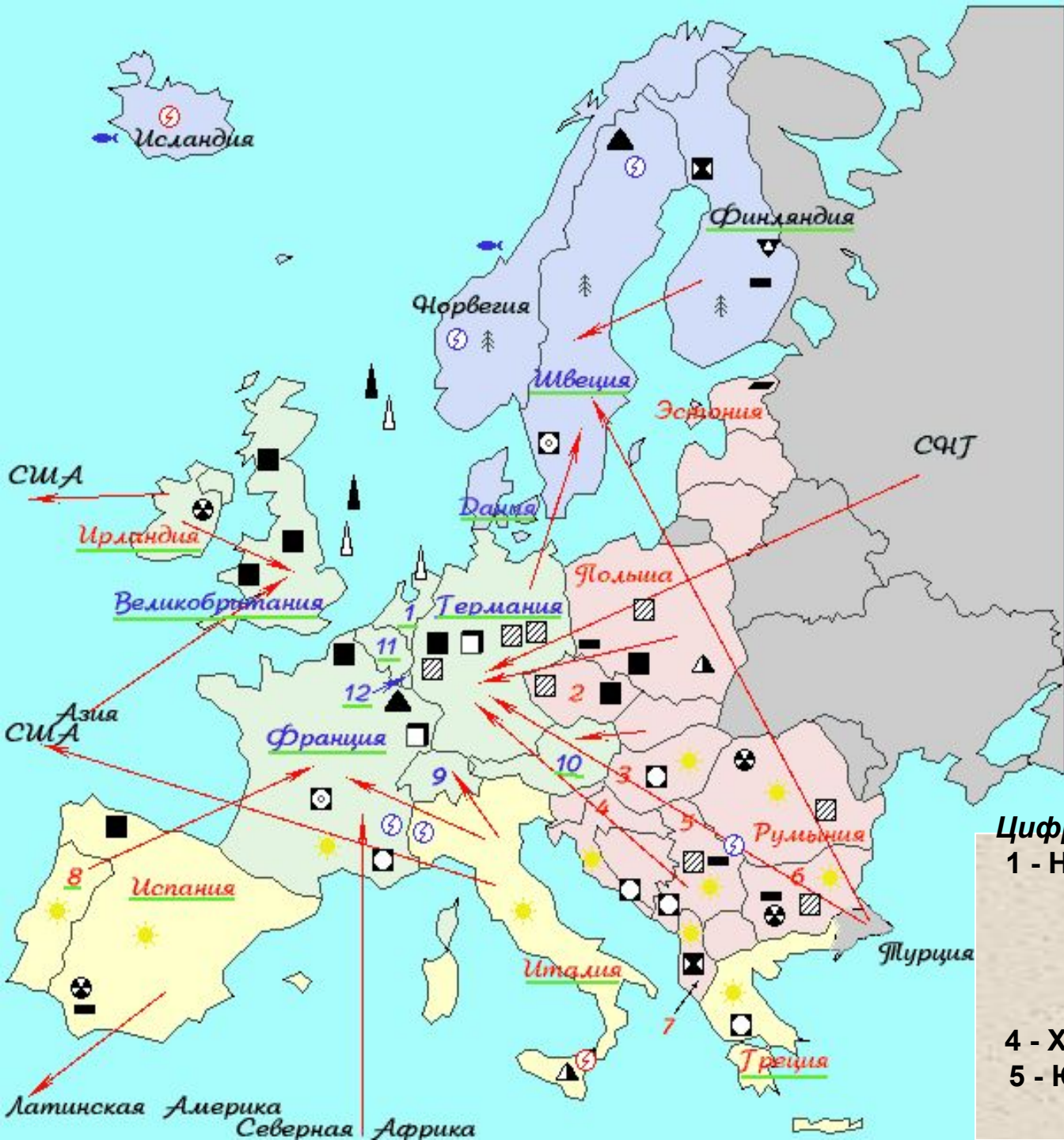
1. На контурную карту Европы нанесите важнейшие месторождения полезных ископаемых Зарубежной Европы.
2. Условными знаками обозначьте на карте основные регионы размещения неминеральных ресурсов: лесных, рыбных, агроклиматических, гидроэнергетических, геотермальных.
3. На отдельном листочке, вложенном в карту, выпишите наиболее и наименее обеспеченные природными ресурсами страны Зарубежной Европы.
4. Назовите основных поставщиков и укажите наиболее предпочтительные для европейских стран пути перемещения основных видов сырья: нефти и газа, угля, руд чёрных и цветных металлов.

Практическая работа.

Изучение проблемы природных и трудовых ресурсов в процессе интеграции стран Зарубежной Европы

5. Подпишите на карте красным цветом страны с преобладание эмиграции, а синим - иммиграции.
6. Стрелками покажите главные пути перемещения мигрантов по территории Зарубежной Европы.
7. Различными цветами заштрихуйте территорию стран Северной, Средней, Южной и Восточной Европы
8. Зелёным цветом подчеркните на карте страны-члены Европейского Союза.
9. Укажите положительные и отрицательные стороны свободного перемещения труда, ресурсов и капитала в условиях "Объединённой" Европы.

Условные обозначения



Цифрами на карте обозначены:

- | | |
|----------------|----------------|
| 1 - Нидерланды | 7 - Албания |
| 2 - Чехия | 8 - Португалия |
| 3 - Венгрия | 9 - Швейцария |
| 4 - Хорватия | 10 - Австрия |
| 5 - Югославия | 11 - Бельгия |
| 6 - Болгария | 12 - |

Реши задачи

№ 1. Через какие страны протекают реки:

Дунай
Днепр
Западная Двина
Рейн

№ 2. Какие пары верны:

а) страны – соседи:

Болгария – Румыния
ФРГ – Словакия
Италия – Лихтенштейн
Бельгия – Люксембург
Норвегия – Финляндия
Исландия – Дания
Испания – Андорра
Монако – Франция
Хорватия – Румыния
Греция – Венгрия

б) страны – столицы:

Белоруссия – Киев
Швеция – Осло
Исландия – Рейкьявик
Португалия – Рим
Латвия – Рига
Польша – Варшава
Албания – Тирана
Словакия – Любляна
Австрия – Копенгаген
Швейцария – Берн

№ 3. Какие страны располагаются:

а) на полуостровах:

Скандинавский
Пиренейский
Аппенинский
Балканский
Пелопоннес
Ютландия

б) на островах:

Кипр
Сицилия
Корсика
Зеландия
Гренландия
Лесбос
Родос

в) на островных архипелагах:

Нормандские
Балеарские
Канарские
Шетландские
Шпицберген
Фарерские
Ионические
Киклады

Д/З

- Т. 6 § 1
- Р.Т. К учебнику