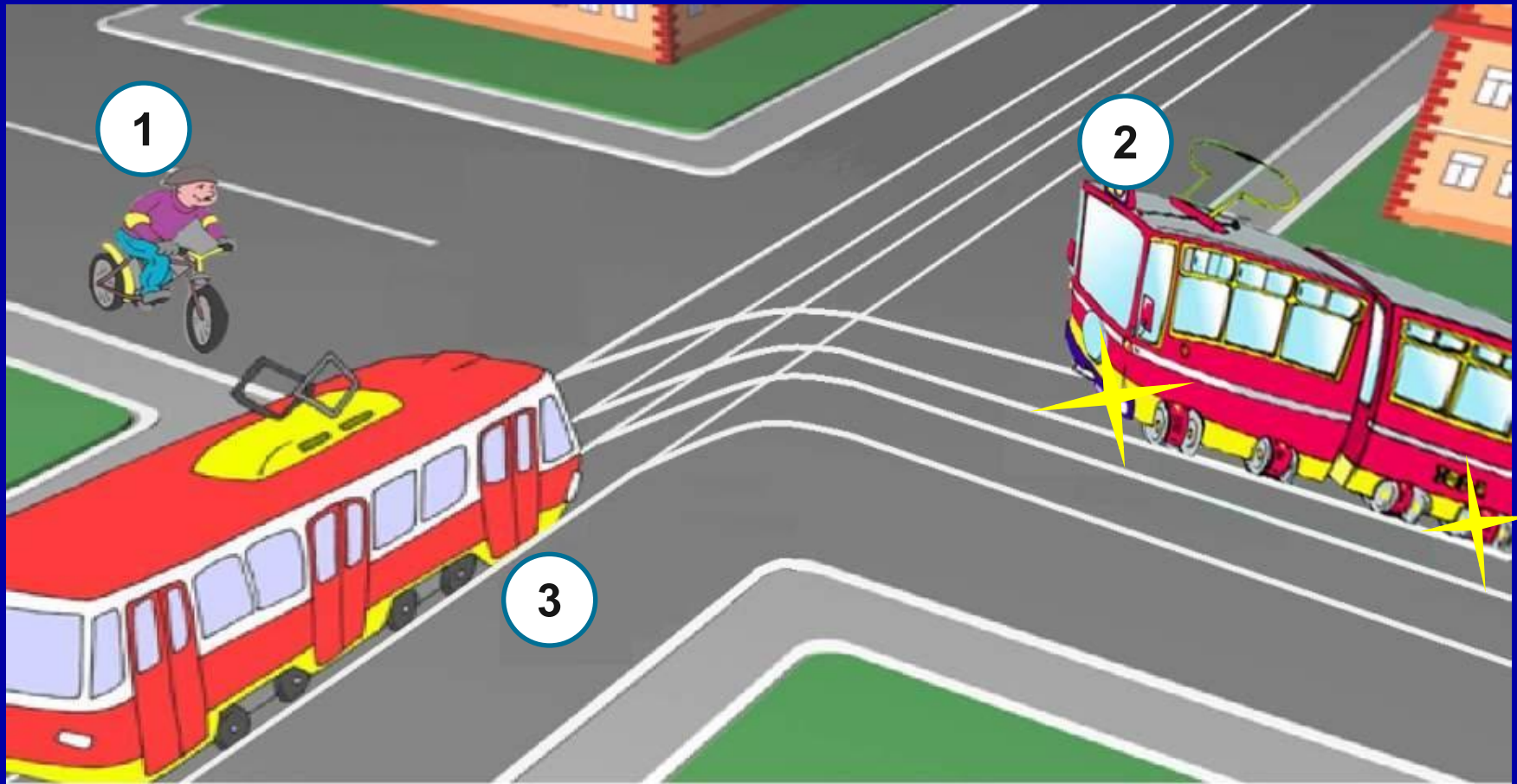


# Безопасное колесо 2016

Знатоки правил дорожного движения

# Вопрос № 1 .

Определите порядок проезда перекрестка



Варианты ответа :

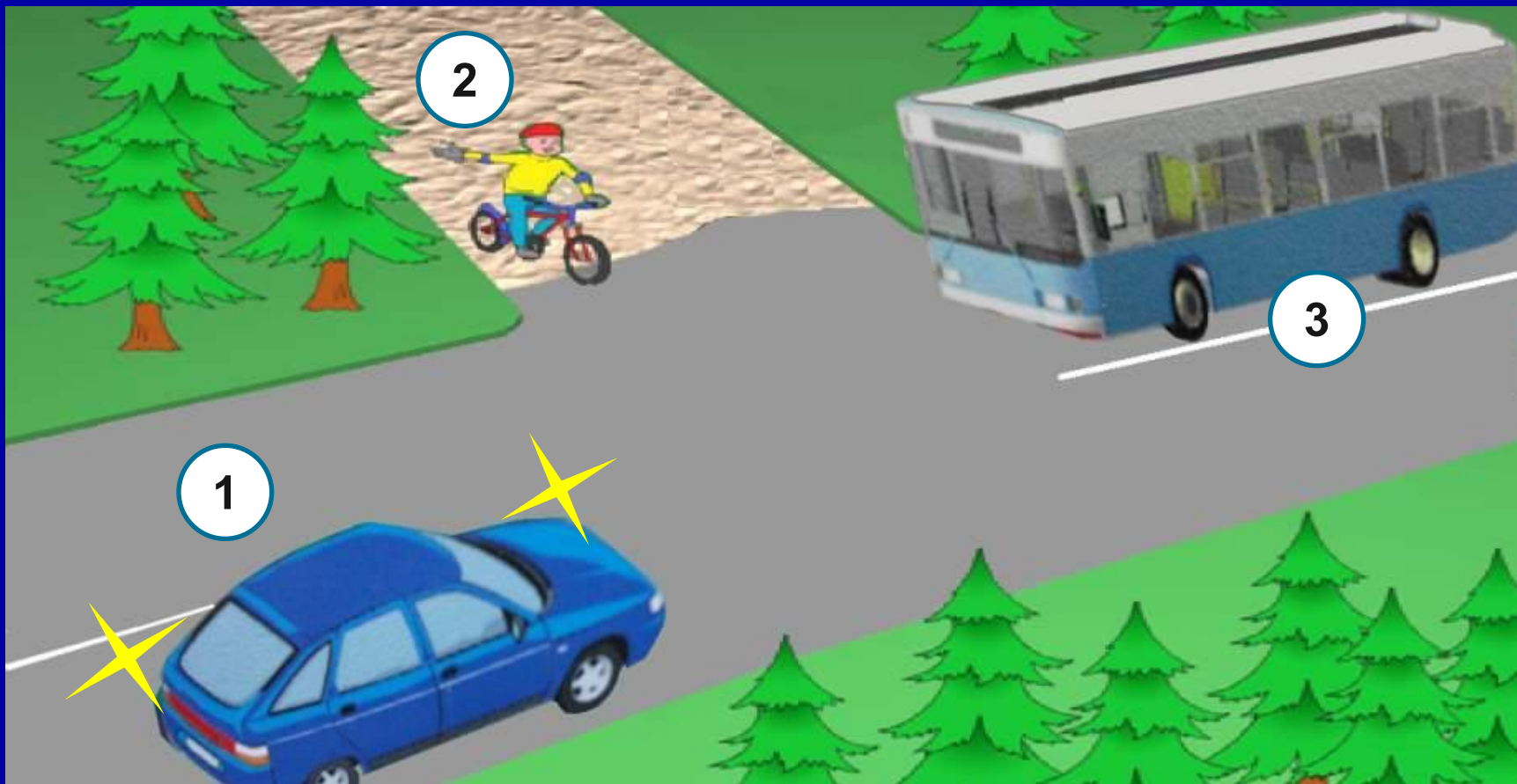
1). 1, 2, 3

2). 2, 3, 1

3). 3, 2, 1

## Вопрос № 2 .

Кто проедет перекресток вторым?



Варианты ответа :

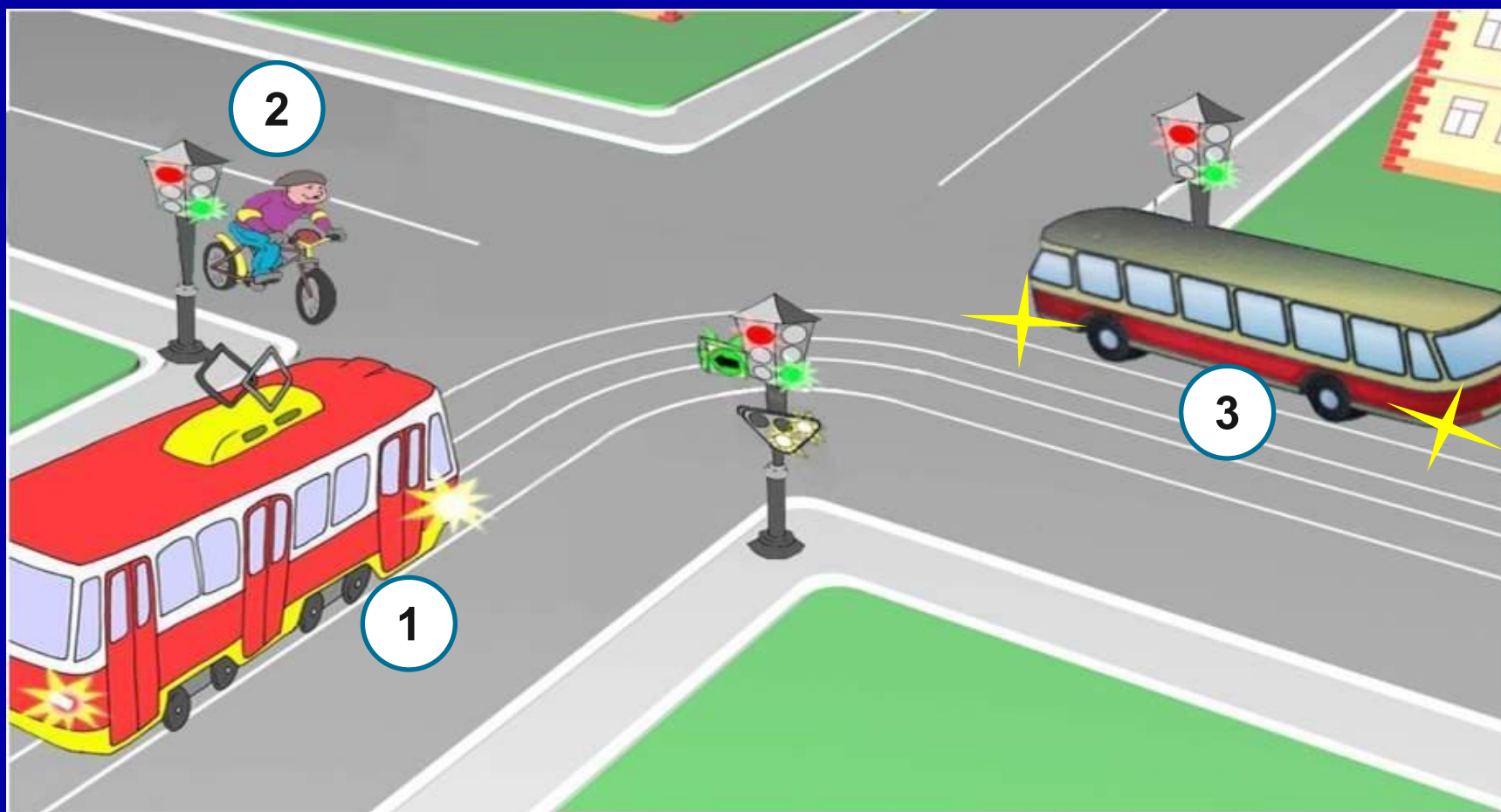
1). 1

2). 2

3). 3

# Вопрос № 3 .

## Кто проедет перекресток третьим?



Варианты ответа :

1). 1

2). 2

3). 3

# Вопрос № 4 .

Кто проедет перекресток первым?



Варианты ответа :

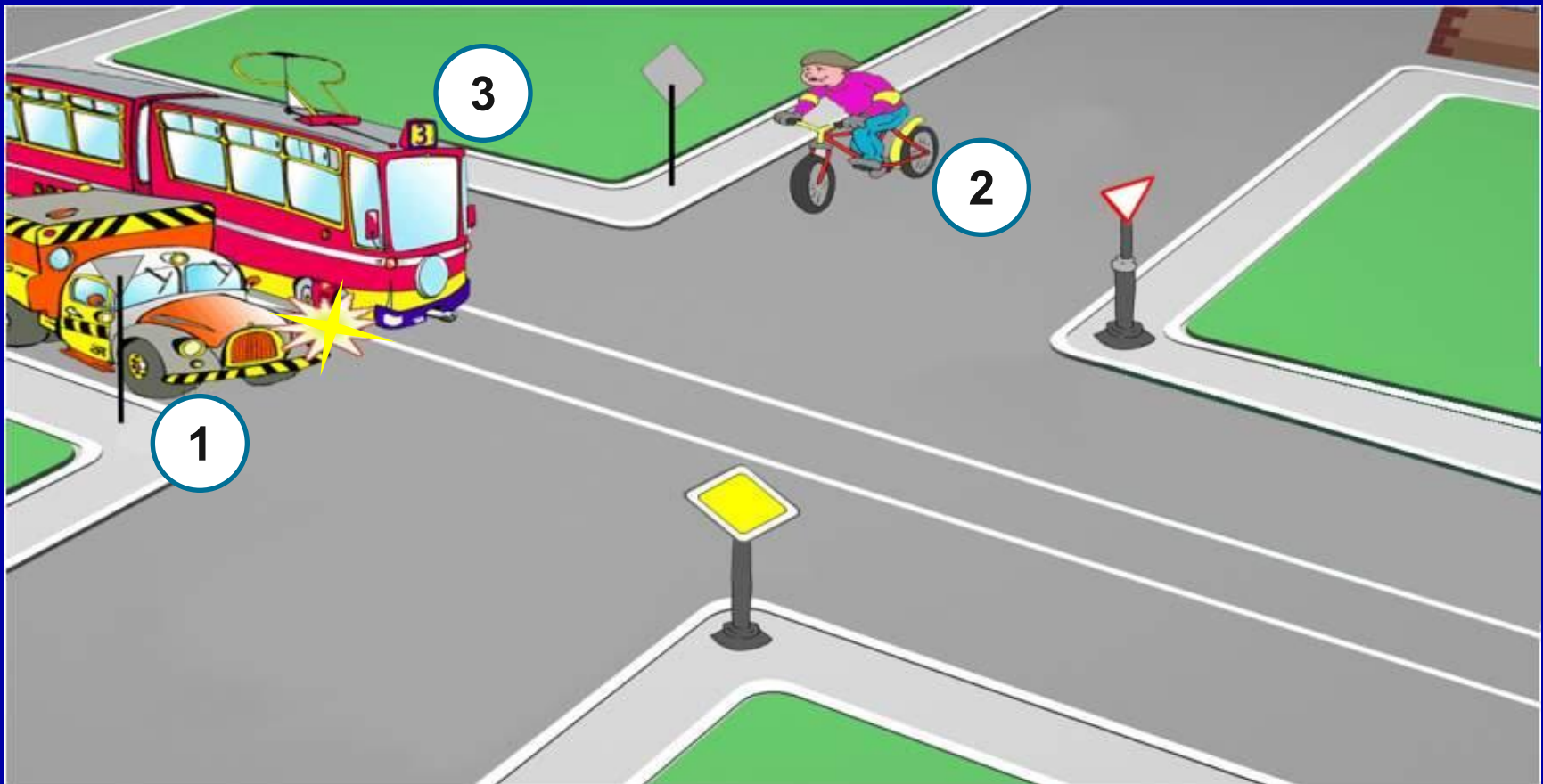
1). 1

2). 2

3). 3

# Вопрос № 5 .

Определите порядок проезда перекрестка



Варианты ответа :

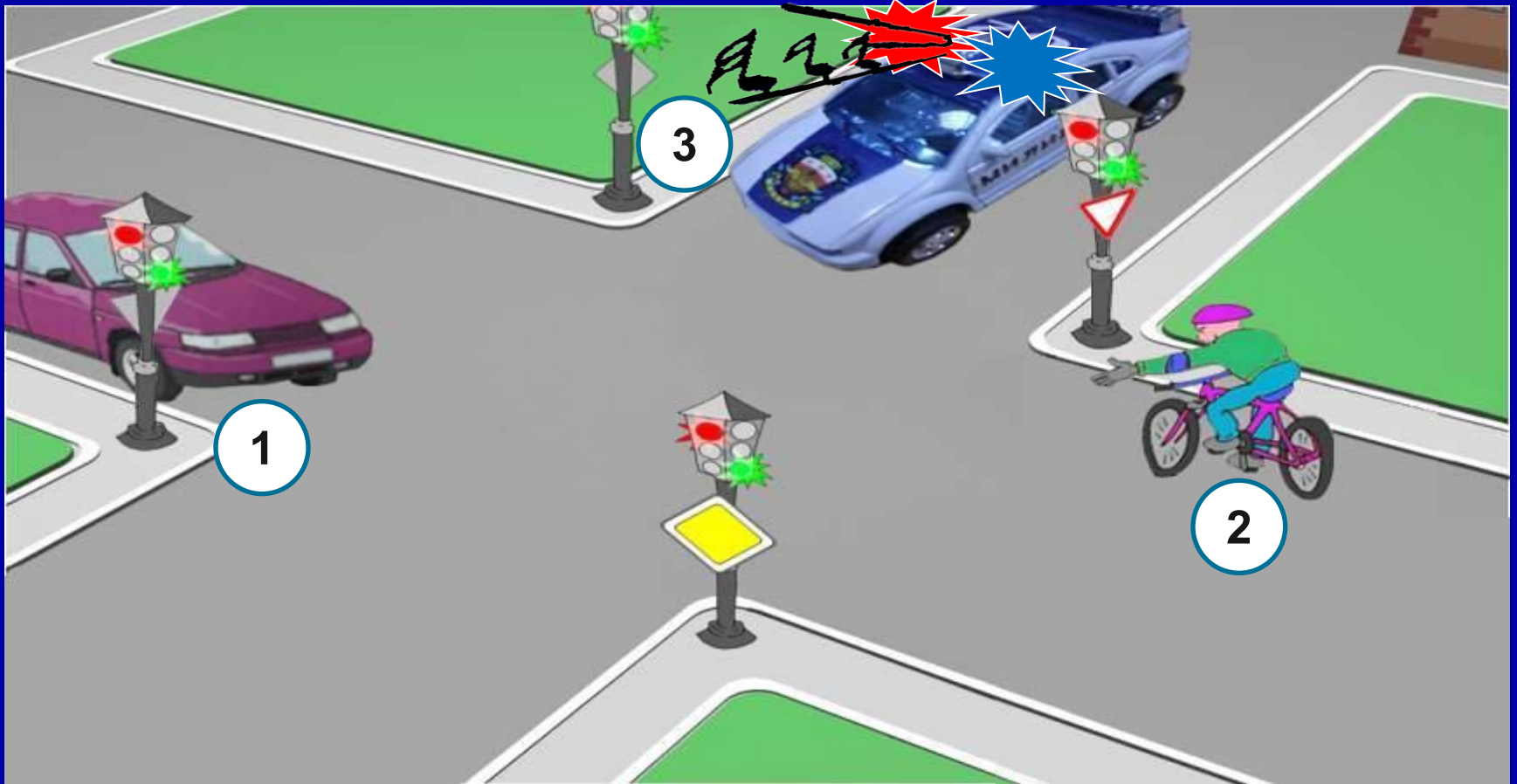
1). 2, 3, 1

2). 3, 2, 1

3). 3, 1, 2

# Вопрос № 6 .

Кто проедет перекресток последним?



Варианты ответа :

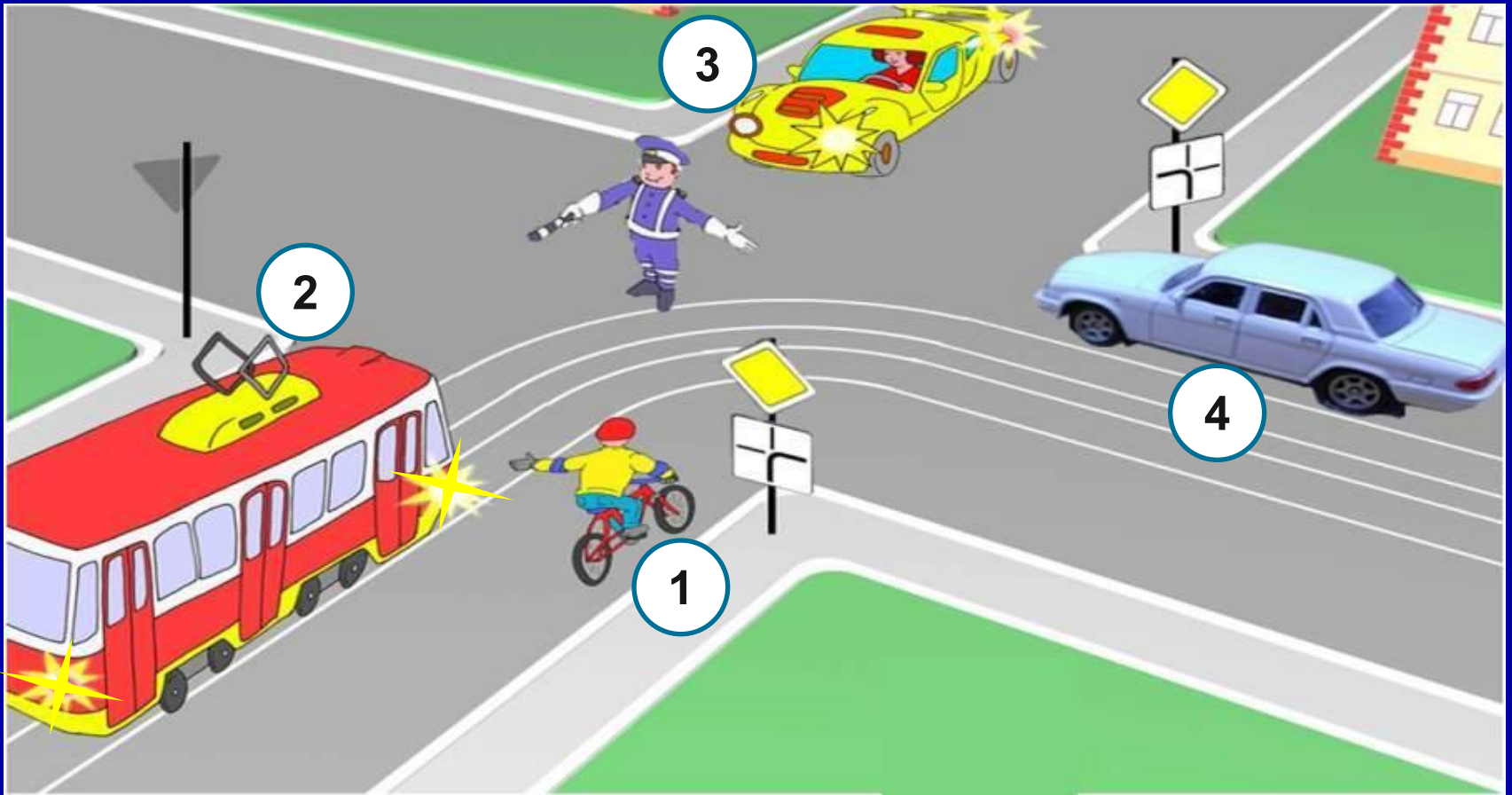
1). 3

2). 1

3). 2

# Вопрос № 7 .

Определите кому движение запрещено?



Варианты ответа :

1). 1, 3

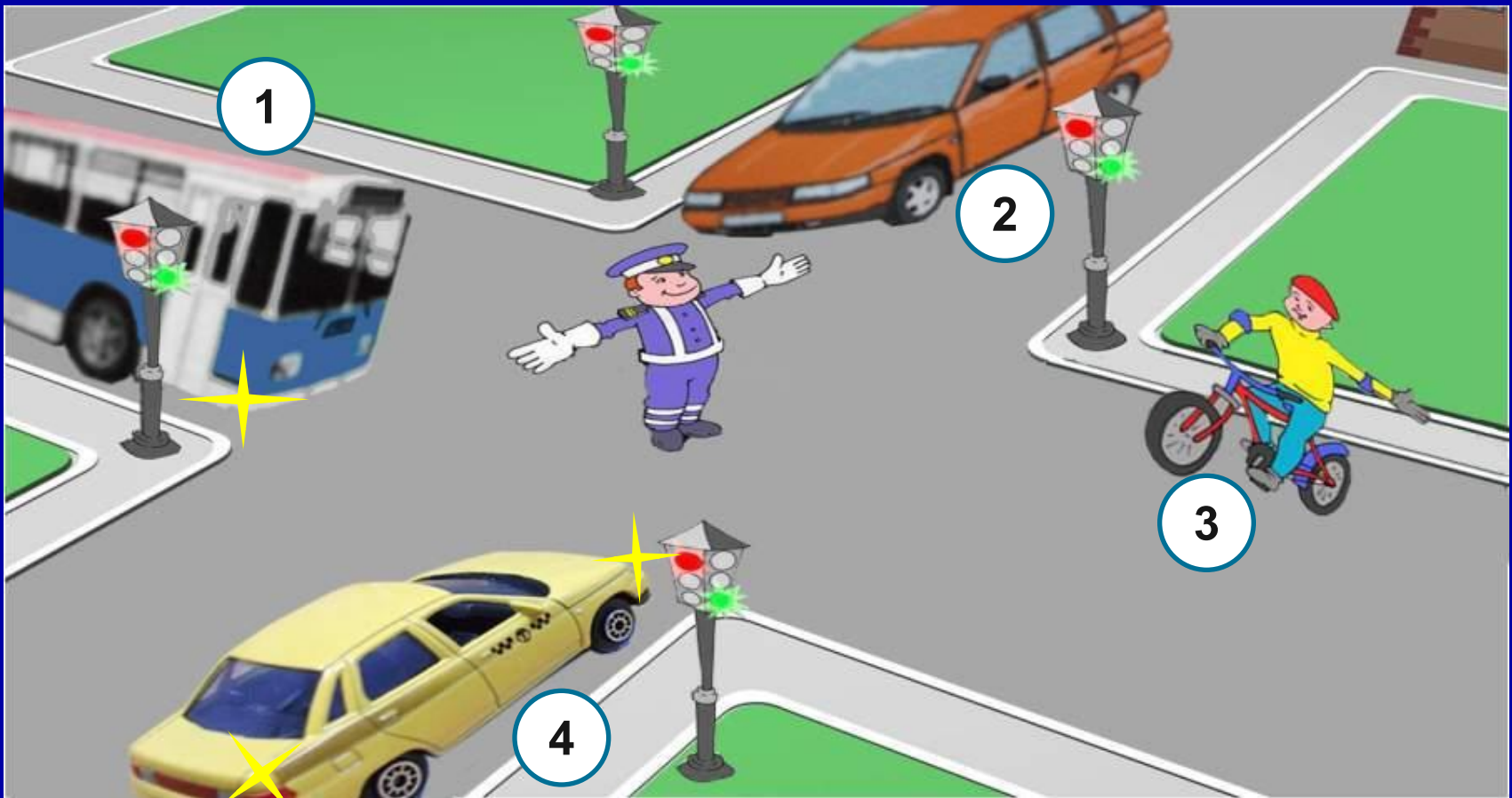
2). 2, 4

3). 1, 2, 4



# Вопрос № 8 .

Определите кому движение разрешено?



Варианты ответа :

1). 1, 3

2). 3

3). 2, 4

# Вопрос № 9 .

Внимательно посмотрите на фотографию и запомните ее.



# Вопрос № 9 .

Выберите 2 фотофрагмента не относящихся к фотографии.



**А**



**Б**



**В**



**Г**

**Варианты ответа :**

1). А, Б

2). Б, Г

3). В, Г

4). А, В

# Вопрос № 10 .

Внимательно посмотрите на фотографию и запомните ее.



# Вопрос № 10 .

Выберите 2 фотофрагмента относящихся к фотографии.



**А**



**Б**



**В**



**Г**

**Варианты ответа :**

1). А, В

2). Б, Г

3). В, Г

3). А, Б

# Вопрос № 11 .

Определите ,какие из предложенных предметов не относятся к велосипеду ?



1



2



3



4



5



6

Варианты ответа :

1). 1, 2, 6

2). 6

3). 4, 6

4). 3, 4, 6

## Вопрос № 12 .

Определите ,какая деталь названа неправильно?



1 покрывка



2 ручной тормоз



3 отражатель



4 седло



5 каретка



6 колесо

Варианты ответа :

1). 1, 3, 6

2). 2, 4

3). 1, 5

4). 3, 5

# Вопрос № 13 .

Определите ,кто из велосипедистов и пешеходов соблюдает ПДД при движении вне населенного пункта?



1



2



3



4



5



6

Варианты ответа :

1). 1, 3, 5

2). 2, 4, 6

3). 2, 3, 5



# Вопрос № 14 .

Определите ,кто из велосипедистов не соблюдает ПДД при движении вне населенного пункта?



1



2



3



4



5



6

Варианты ответа :

1). 2, 3, 6

2). 3, 4, 6

3). 1, 4, 5

# Вопрос № 15 .

Определите, кто из пешеходов не соблюдает правила поведения в жилой зоне?



1




2



3



4



5



6

Варианты ответа :

1). 2, 4, 6

2). 1, 3, 6

3). 1, 3, 5

# Вопрос № 16 .

Определите ,кто из пешеходов и велосипедистов соблюдает правила поведения в жилой зоне ?



1



2



3



4



5



6

Варианты ответа :




1). 1, 2, 6

2). 3, 4, 5

3). 2, 4, 5

# Вопрос № 17 .

Определите ,каким пешеходам запрещено переходить проезжую часть ?



Варианты ответа :


1). 1, 3, 4

2). 1, 2

3). 3, 4

4). 1, 4

**Вопрос № 18 .**  
**Определите ,кто должен уступить?**



Варианты ответа :

- 1). Водитель автомобиля    2). Пешеход

# Вопрос № 19 .

Укажите дорожные знаки, у которых группы принадлежности обозначены неверно?

1




**Информационные  
знаки**

2



**Запрещающие  
знаки**

3



**Знаки особых  
предписаний**

4



**Предписыва  
ющие знаки**

5



**Знаки  
приоритета**

6



**Предупрежда  
ющие знаки**

7



**Знаки  
дополнительной  
информации**

8



**Знаки  
сервиса**

Варианты ответа :

1). 1, 3, 8

2). 2, 4, 6

3). 1, 5, 7

4). 3, 5, 6, 8

# Вопрос № 20 .

Выберите те дорожные знаки, которые относятся к информационным знакам ?



1



2



3



4



6



7



8



5

Варианты ответа :

1). 1, 3, 6, 7

2). 2, 4, 5, 8

3). 1, 2, 7, 8

4). 2, 3, 4, 6

Конец задания



# ОТВЕТЫ

1. 2

2. 1

3. 3

4. 2

5. 1

6. 2

7. 1

8. 3

9. 3

10. 2

11. 3

12. 4

13. 2

14. 1

15. 3

16. 2

17. 4

18. 1

19. 3

20. 2