

Приглашаем всех жителей и гостей
Эренделла на
математическую ярмарку

#лицей369

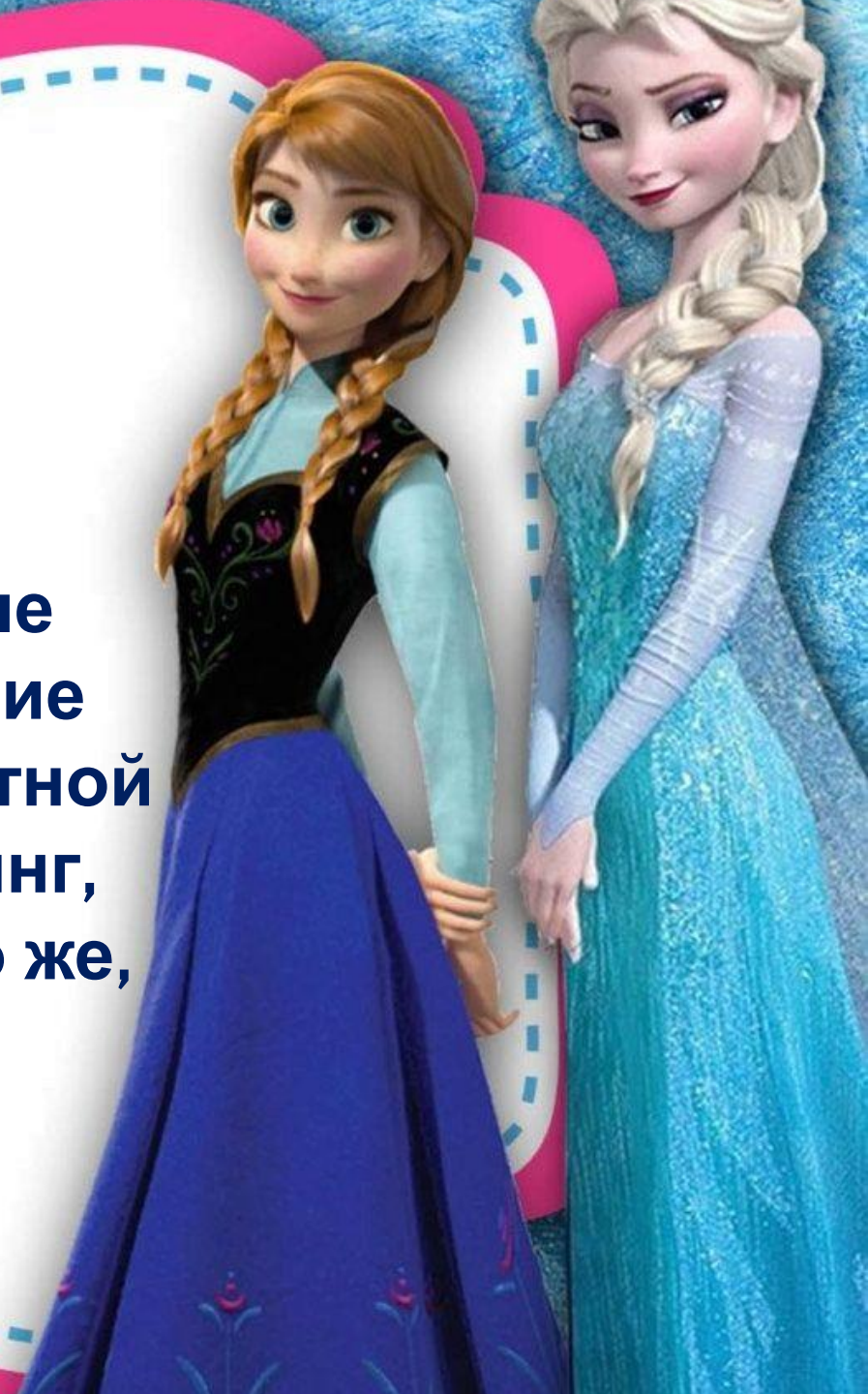
#учимсядома

#холодноесердце

#серия4

Добро пожаловать!

**Сегодня Вас ждут
увлекательные шоу,
занимательные и весёлые
викторины, захватывающие
гонки, уютное кафе с ароматной
выпечкой, улётный шоппинг,
меткая стрельба и, конечно же,
волшебство!**




АФИША

Кафе «Чай с Анной» **логика?»**



**ВЫСТАВКА
ЛЕДОВЫХ
СКУЛЬПТУР**

**ТОРГОВАЯ
ЛАВКА
БРОДЯГИ
ОКЕНА**



**Впервые в
Эренделле!
Гонки!!!**

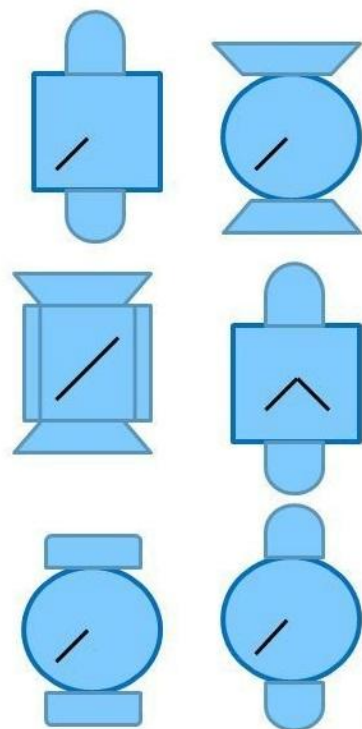
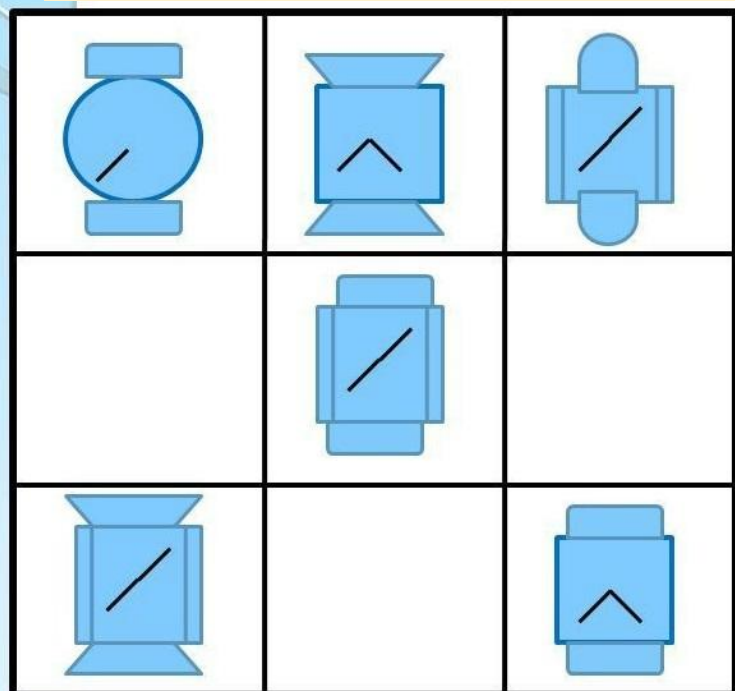


Комната смеха



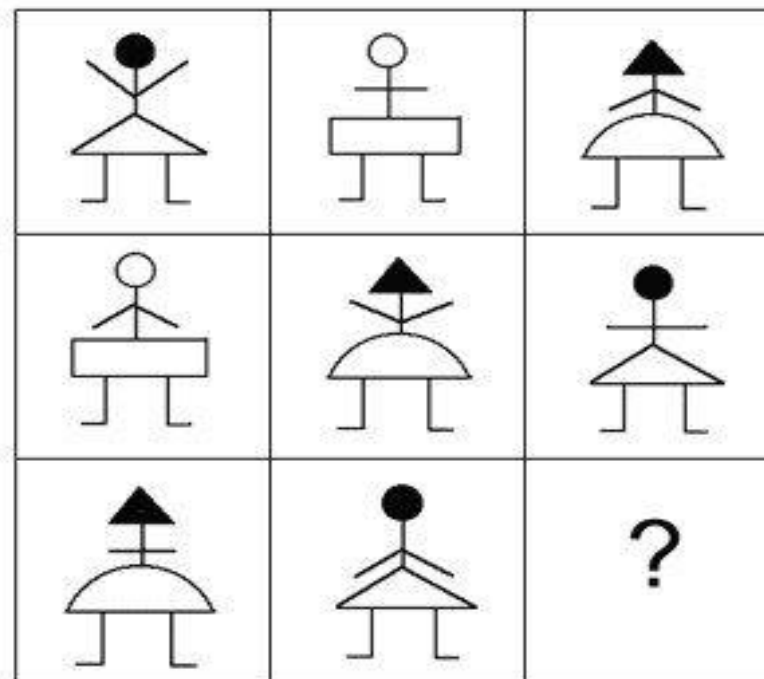
Шоу «Где логика?»

Выбери и вставь
нужные фигуры.



Подумай, какой рисунок
должен быть в пустой клетке.

На



афиша

Комната смеха



1. Петух, стоя на одной ноге, весит 3 кг. Сколько он весит, стоя на двух ногах?
2. В комнате 4 угла. В каждом углу сидит кошка. Напротив каждой кошки сидят по 3 кошки. Сколько всего кошек в комнате?
3. На столе лежит 2 яблока. Одно разделили на 4 части. Сколько яблок на столе стало?
4. Одно яйцо нужно варить 5 минут. Сколько времени потребуется, чтобы сварить 3 таких яйца?
5. У отца 5 дочек, у каждой дочки по одному брату. Сколько детей в семье?
6. Как с помощью только одной палочки образовать на столе треугольник?



афиша

ДОБРО ПОЖАЛОВАТЬ!

В торговой лавке бродяги Окена можно купить всё что угодно!

Только будьте осторожны, внимательно считайте, чтобы не переплатить.

Отдел летних товаров:

Самокат стоит 13 эрелов. У вас есть монеты по 2 эрела и по 5 эрелов. Как оплатить самокат?




Отдел зимних товаров:

У вас есть несколько монет по 20 эрелов. У продавца Окена есть только монеты по 30 эрелов. Как расплатиться за лыжи ценой 30 эрелов?



3. Разрежь пирог на 4
одинаковые части, чт
в каждой части была
ровно одна ягодка.



2. Батон разрезали на 3
части. Сколько сделали
разрезов?

1. Бублик разделили на
3 части. Сколько
сделали разрезов?

афи
ша






ВЫСТАВКА ЛЕДОВЫХ СКУЛЬПТУР

Эльза заморозила различные предметы!

А знаешь ли ты названия получившихся
геометрических тел.

Найди у себя в квартире как можно больше
предметов, похожих на эти геометры

а.



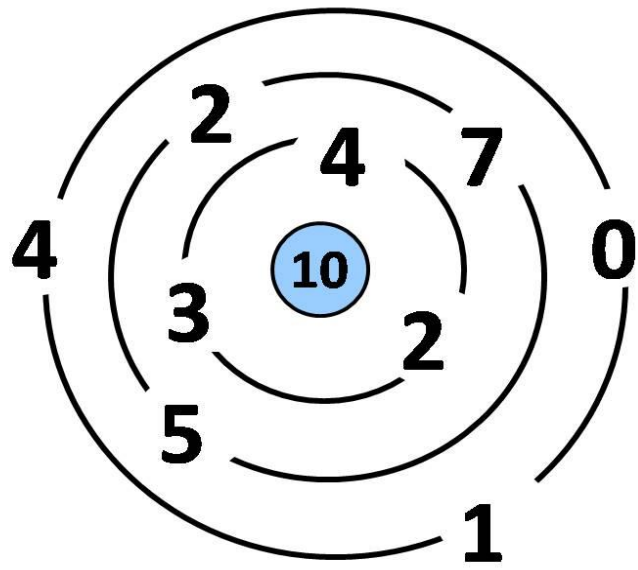
На старт! Внимание! Марш!



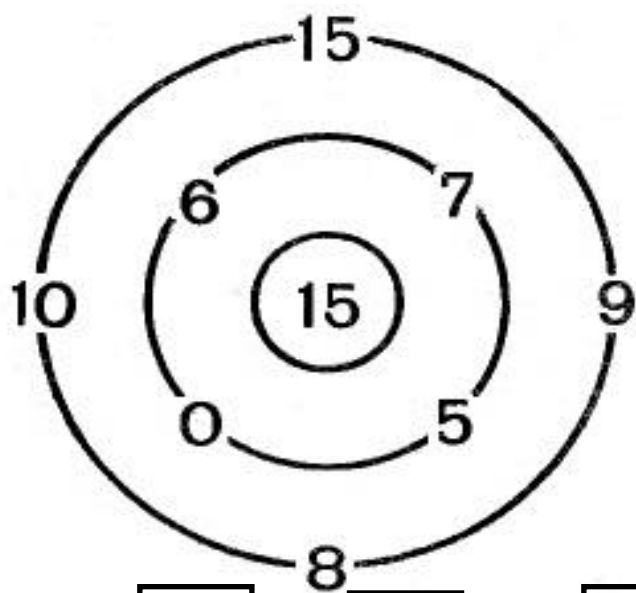
Гонку выиграют три оленёнка, у которых в сумме получится 15. Найдите этих трёх оленят-победителей.

афри
ша

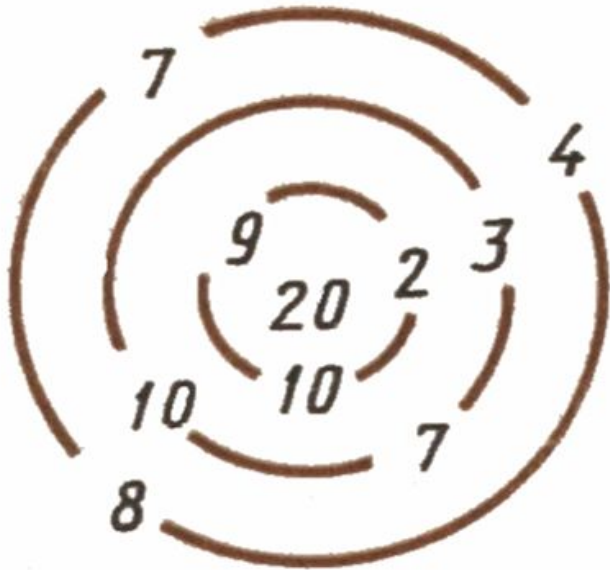




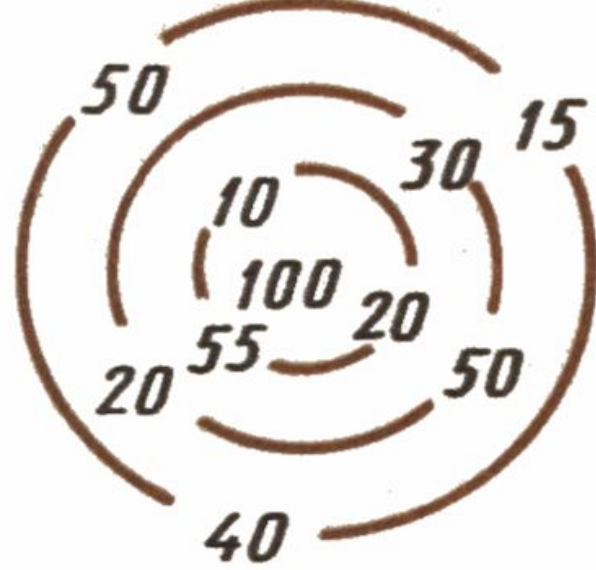
$$\square + \square + \square = 10$$



$$\square + \square = 15$$



$$\square + \square + \square = 20$$



$$\square + \square + \square = 100$$

Игра «Меткий стрелок»
 Ты попадёшь в цель,
 если сумма очков,
 совпадёт с числом в
 центре мишени.



афиша