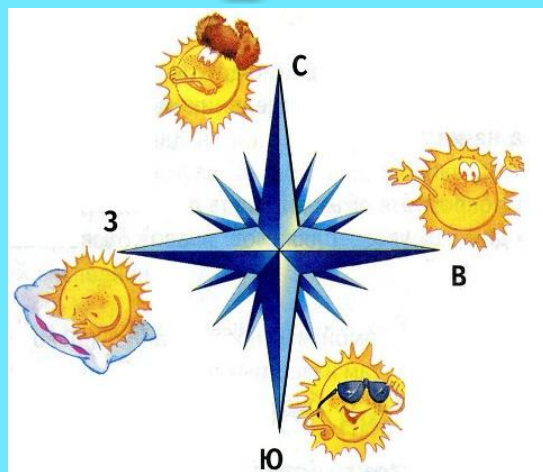





Презентация к уроку окружающего мира  
для 2 класса УМК «Школа России»  
«Посмотри вокруг»



Мы с вами живём на планете Земля. ➡

Вспомните, что вы знаете о нашей  
планете.





**Рассмотрите рисунки и расскажите, как в древности люди представляли себе нашу Землю. Правы ли они были?**




# Работа по учебнику.



1. Откройте учебник на стр. 72-73.
2. Рассмотрите рисунки .
3. Прочитайте «Как выглядит Земля?»»





**В том, что Земля имеет форму шара, люди убедились тогда, когда научились строить парусные корабли и стали плавать по морю.**





Люди заметили одну интересную особенность: когда мореплаватели встречали другой корабль, то вначале далеко в море появлялась мачта корабля. Затем появлялись паруса. Лишь при его приближении становился виден весь корабль.



Прошло много времени, и люди поняли, что такое может быть только на Земле, которая по форме напоминает шар.



Отправляясь в путешествия, люди узнавали всё больше и больше нового о нашей планете. Земную поверхность, которую они видели вокруг себя, люди стали называть горизонтом.





**Горизонт** – земная поверхность,  
которую мы видим вокруг себя.




Граница горизонта, где небо как бы  
сходится с земной поверхностью,  
называется линией горизонта.



# Стороны горизонта.



Отправляясь в далёкие путешествия, люди ориентируются по сторонам горизонта. То направление, где Солнце поднимается выше всего и сильнее греет - **ЮГ**.




**Ю**



Противоположное направление, где  
Солнце никогда не появляется, и  
откуда дуют холодные ветры,  
назвали **СЕВЕРОМ**.



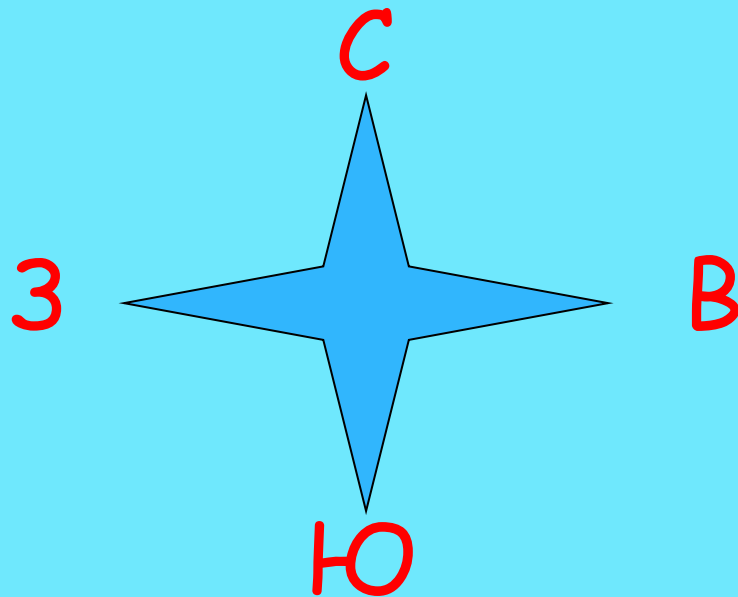
С



Ю



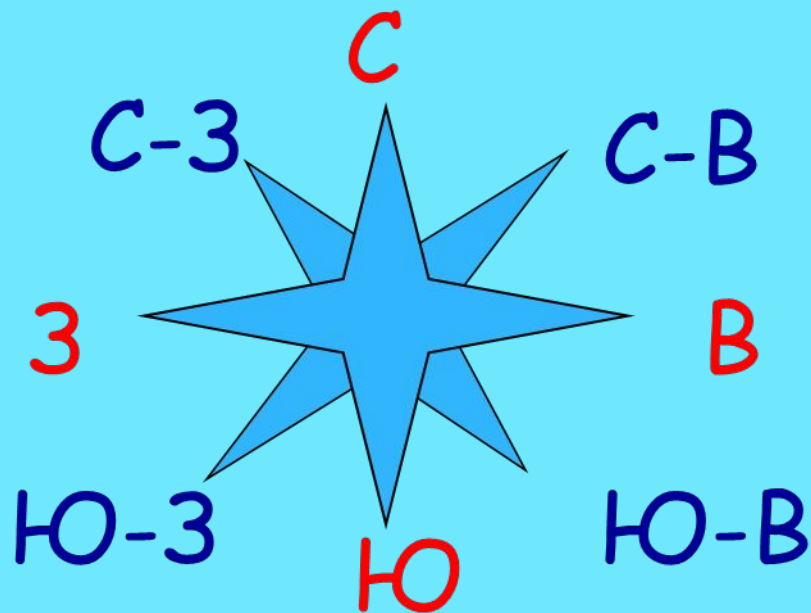
На **ВОСТОКЕ** Солнце всходит,  
А на **ЗАПАДЕ** садится.



На схемах и картах север всегда  
обозначают вверху, юг - внизу, запад  
слева, восток - справа.



Кроме основных сторон горизонта есть ещё и промежуточные: **северо-восток, северо-запад, юго-восток, юго-запад.**





Записывают название сторон горизонта сокращённо. Основные – одной буквой, промежуточные – двумя.



# Обозначьте стороны горизонта.



Клик мышкой  
на квадратики



# Работа по учебнику.



1. Откройте учебник на стр. 71.
2. Рассмотрите схемы .
3. Какие стороны горизонта на них не обозначены?





Клик на слова

# Вставьте пропущенные слова.



Если встать лицом к северу, сзади будет... **юг**  
слева-... **запад** справа-... **восток**

Если встать лицом к югу, сзади будет... **север**  
слева-... **восток** справа-... **запад**

Если встать лицом к западу, сзади будет... **восток**  
слева-... **юг** справа-... **север**

Если встать лицом к востоку, сзади  
будет... **запад** слева-... **север**  
справа-... **юг**





Спасибо за урок !

