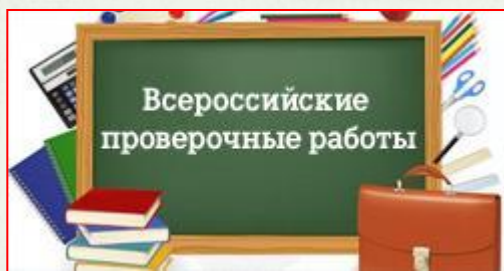


Готовимся к Всероссийской проверочной
работе

Окружающий мир **4** класс

Тренировочные задания

«Человек и природа»



1. Выберите объекты, созданные природой



А.

Б.

В.

Г.

2. Выберите объекты живой природы



А.

Б.

В.

Г.

3. Выберите объекты, созданные людьми



А.

Б.

В.

Г.

4. Причиной смены дня и ночи является



...

А. Неравномерное освещение Солнцем Северного и Южного полушарий

Б. Вращение Луны вокруг Земли

В. Вращение Земли вокруг своей оси

Г. Огромное расстояние от Солнца до Земли

5. Солнце – космическое тело в Солнечной системе, которое излучает огромное количество света и тепла. Ночью мы видим Луну также светящейся. Почему?



А. Луна является звездой.

Б. Луна - самый крупный объект Солнечной системы.

В. Луна расположена ближе к Земле, чем к Солнцу

Г. Луна отражает солнечный свет.

6. Прочтите описание животного:

Серая жаба - крупное земноводное, большую часть времени проводящее на суше. Её можно встретить на лугу, в поле, в огороде, в лесу. Весной она ненадолго переселяется в водоёмы, чтобы отложить икру.

С заходом солнца жабы активно охотятся, а днём зарываются в рыхлую почву или прячутся под камнями и в других укрытиях. У них короткие задние ноги, сухая, местами ороговевшая кожа с многочисленными бородавками.

На какой картинке изображена серая жаба?



А.



Б.



В.



Г.


7. Какое полезное ископаемое человек использует при производстве кирпичей?

А. МРАМОР

Б. ИЗВЕСТНЯК

В. ГЛИНА

Г. УГОЛЬ





8. Ученики получили задание: разделить на царства представителей живой природы. Кто выполнил задание верно?

А. СЕРЁЖА: царство растений, царство животных

Б. НАДЯ: царство растений, царство грибов, царство животных

В. ЮЛЯ: царство растений, царство грибов, царство животных, царство насекомых

Г. НАДЯ: царство растений, царство деревьев, царство грибов, царство животных



8. Ребята получили задание: изобразить с помощью схемы связь, представленную на фотографии. У кого верная схема?



А. ВИТЯ

НЕЖИВОЕ



ЖИВОЕ

Б. ДАША

РАСТЕНИЯ



ЖИВОТНЫЕ

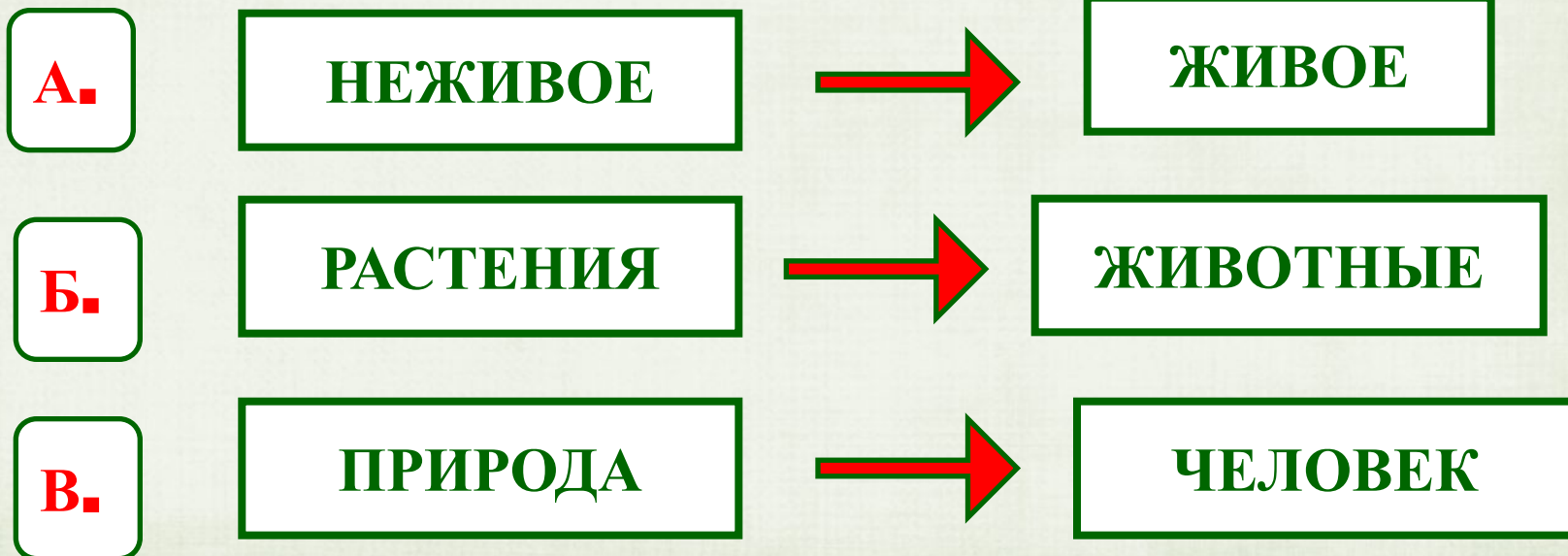

В. ДЕНИС

ПРИРОДА




ЧЕЛОВЕК

9. Ребята смастерили кормушки и стали подкармливать птиц. Очень красивые птицы прилетали к кормушке! Ребята любовались ими. Какая схема правильно отражает эти связи?



10. Детям предложили выбрать правильную модель цепи питания. Какой выбор надо сделать?



11. Детям нужно разделить карточки по группам животных. Кто выполнил задание верно?

А. СЕРЁЖА

1, 2 – птицы

3, 4 -

пресмыкающиеся

5, 6 - звери

Б. САША

1, 2 – птицы

3, 4 -

земноводные

5, 6 - животные

В. СВЕТА

1, 2 – птицы

3, 4 -

земноводные

5, 6 - звери

1.
1.



1.
3.



1.
5.



1.
2.



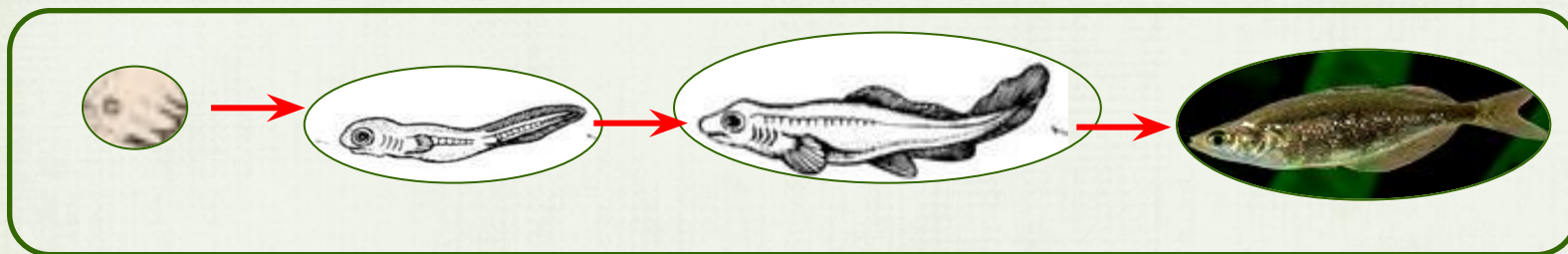
1.
4.



1.
6.



12. О чём можно узнать с помощью этих иллюстраций?



А. о способах питания животных

Б. о развитии животных

В. о цепях питания

Г. о классификации животных

13. Какие из этих животных занесены в Красную книгу России?

А. СКВОРЕЦ


Б. ФЛАМИНГО

В. КРАПИВНИЦА

Г. ЖУК - КРАСОТЕЛ

Д. ОСЬМИНОГ

Е. МОРЖ



14. Прочти описание животного:

Монгольский дзерен – живущая в степи некрупная антилопа со стройными ногами и лировидно изогнутыми рогами у самцов. Второе название антилопа получила за то, что у самцов сильно развита гортань, которая делает низ шеи выпуклым. При виде опасности животное может скакать со скоростью **75–80** км в час, взлетая при **4–6-метровых** прыжках до **2** м в высоту. Так антилопа может бежать час и более.

На какой картинке изображён монгольский дзерен?



А.



Б.



В.



Г.

15. Благодаря какому природному явлению на Земле постоянно пополняются запасы воды в озере?

А. ВЕТРУ

Б. СМЕНЕ ДНЯ И НОЧИ

В. КРУГОВОРОТУ ВОДЫ

Г. ПРИЛИВАМ И ОТЛИВАМ



16. На интернет - сайтах погоды можно встретить подобные таблицы. Внимательно изучите прогноз погоды на трое суток. Выберите верное утверждение о погоде.

	Пятница, 29 января				Суббота, 30 января				Воскресенье, 31 января			
	Ночь	Утро	День	Вечер	Ночь	Утро	День	Вечер	Ночь	Утро	День	Вечер
Облачность и атмосферные осадки												
Температура, °С	-23	-3 2	-25	-27	-24	-19	-17	-20	-22	-22	-17	-16
Ветер	ЮВ	В	В	ЮВ	ЮВ	ЮВ	ЮВ	ЮВ	ЮВ	В	З	З
Влажность воздуха, %	51	62	40	53	56	51	52	57	64	62	58	55

А. Температура воздуха не поднимется выше - **26 °**.

Б. В течение суток в воскресенье влажность будет снижаться.

В. В пятницу днём ожидается очень морозная облачная погода.

Г. Ветер за трое суток не меняет направления.

17. На уроке учитель предложил школьникам самостоятельно размножить комнатное растение. Дома у Марии был колеус Блюме (крапивка пестролистная), на котором школьница решила провести свой опыт.

Расставьте по порядку действия, которые Мария должна осуществить для размножения комнатного растения.

2.

А. Сделать в почве углубление

1.

Б. Осторожно срезать стеблевой черенок с **3 - 4** листьями

3.

В. Поместить черенок в почву так, чтобы нижний узел был скрыт почвой

4.

Г. Присыпать черенок землёй, аккуратно полить и накрыть черенок стаканом



18. Рядом с твоим домом установили три бака для раздельного сбора бытового мусора. Какие предметы ты положишь в бак «бумага»?



А. коробка из - под обуви

Б. ботва моркови

В. использованный альбом для рисования

Г. негодная зубная щётка

19. Николай решил посадить дерево. Расставьте по порядку действия, которые он должен осуществить.

2.

А. Пролить ямку водой

1.

Б. Выкопать ямку

4.

В. Засыпать ямку землёй

3.

Г. Поместить дерево в ямку

5.

Д. Полить посаженное дерево



20. Какое свойство глины использует изображённый за работой гончар?

А. ПРОЗРАЧНОСТЬ

Б. ПРОЧНОСТЬ

В. ПЛАСТИЧНОСТЬ

Г. ГОРЮЧЕСТЬ



21. В каком из приведённых случаев вода из стакана испарится быстрее?

А. Если стакан с водой накрыть блюдцем

Б. Если воду в стакане размешать

В. Если стакан с водой поставить в холодильник

Г. Если нагреть воду в стакане



22. Какое явление, происходящее в неживой природе, характерно для осени в средней полосе России?

А. ПОЛОВОДЬЕ

Б. ПРОЛИВНЫЕ ДОЖДИ

В. СОЗРЕВАНИЕ ПЛОДОВ
ЛУГОВЫХ РАСТЕНИЙ

Г. МАССОВОЕ ЦВЕТЕНИЕ



23. Плавунец - хищное насекомое. Даже если вам не встречался плавунец, предположите, какими двумя признаками должно обладать это животное.



А. Тело покрыто чешуёй.

Б. Имеет **6** ног (три пары).

В. Впадает в спячку в засушливые периоды.

Г. Питается другими животными.

Д. Тело чёрное, посередине жёлтая полоса.

24. Закончи высказывание:

Вселенная – это

А. Все планеты, обращающиеся вокруг Солнца.

Б. Земля и её спутник - Луна.

В. Необъятное пространство со звёздами, планетами и другими небесными телами.

Г. Звёзды и планеты, которые наблюдают астрономы.



25. Какое явление природы можно наблюдать в любое время года?

А. ЛИСТОПАД



Б. ПОЛНОЛУНИЕ



В. ПОЛОВОДЬЕ



Г. ПРОТАЛИНЫ



26. Выберите из списка то, что относится к явлениям природы.

А. Тушение пожара

Б. Извержение вулкана

В. Асфальтирование дороги

Г. Землетрясение

Д. Подножие холма

Е. Выпадение дождя



27. Определите, какому дереву принадлежат листья и плоды на рисунке.

А. КЛЁН

Б. ЯСЕНЬ

В. ДУБ

Г. ОСИНА



28. Естественный водоём со стоячей водой постепенно зарастает. Отмершие остатки растений откладываются на дне, где впоследствии из них может образоваться торф. Как называется такой водоём?




29. Утром Катя посмотрела на термометр, висящий за окном. Какому из советов должна последовать Катя на основании показаний термометра?

А. На улице тепло, **22** градуса выше нуля. Можно собираться на речку купаться.

Б. На улице солнечно, но судя по прогнозам, погода может измениться.

В. Погода солнечная, но прохладно. Температура чуть выше нуля.

Г. Термометр предупреждает, что погода в течение дня может испортиться и сильно похолодает.



30. Весной по берегам прудов и болот можно часто увидеть яркие желтые цветы калужницы болотной. Ниже приведен перечень свойств этого растения. Выберите из них те, которые относятся к внешнему виду калужницы.

А. Цветки растения яркого жёлтого цвета.

Б. Цветёт калужница обычно в мае.

В. Калужницы ядовиты для домашних животных.

Г. Листья калужницы по форме напоминают сердечко.



31. Заповедником называют участок земли, где:

А. сажают редкие деревья и кустарники, нуждающиеся в охране

Б. не только охраняются животные и растения, но и проводятся экскурсии

В. охраняются некоторые виды растений и животных, постепенно исчезающие с лица земли

Г. вся природа, живая и неживая, находится под строгой охраной

32. Выберите экологические знаки, которые учат охранять растения



А.



Б.



В.



Г.



Д.



Е.

Использованная литература

Демидова М. Ю. Готовимся к Всероссийской проверочной работе. Окружающий мир. Рабочая тетрадь. 4 класс. М.: Просвещение, **2016.**

Интернет ресурсы

- kk.convdocs.org
- likeforyou2.ru
- ru.encydia.com
- imgplusdb.com
- www.ice-style.com
- www.ezhvashkola27.ru
- altaypost.ru
- www.pics-zone.ru
- on-fun-side.com
- aall-pix.com
- alenagileva.mypage.ru

Источник шаблона

Ранько Елена Алексеевна
учитель начальных классов
МАОУ лицей №21
г. Иваново

Сайт: <http://pedsovet.su/>