



Устный счёт

Прочитай примеры разными способами.




$$11 - 3 = 8$$

$$8 + 4 = 12$$

Проверь себя!

Разные способы чтения примеров




Примеры можно читать по-разному.

$$11 - 3 = 8$$

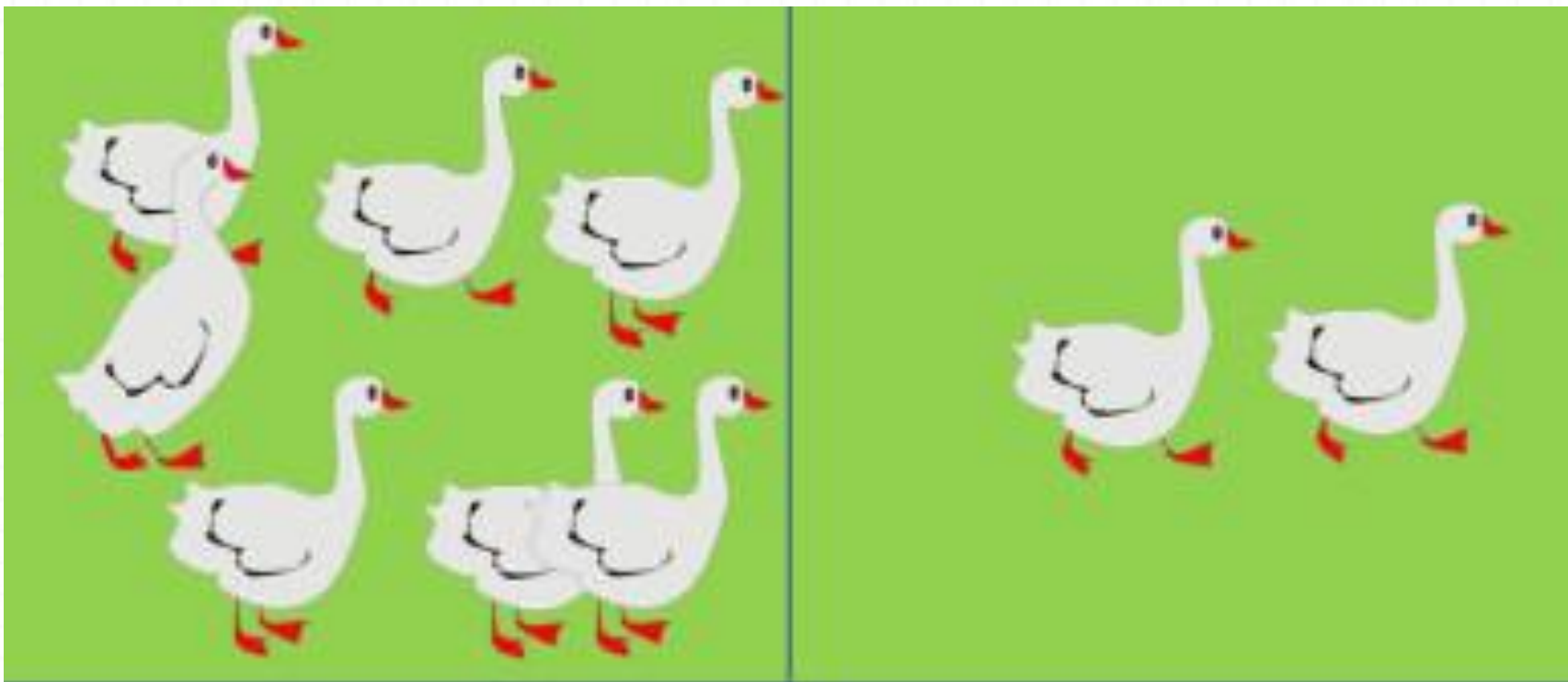
- из 11 вычесть 3 будет 8
- 11 уменьшить на 3 равно 8
- разность чисел 11 и 3 равна 8
- уменьшаемое – 11, вычитаемое – 3, разность - 8.

$$8 + 4 = 12$$

- к 8 прибавить 4 будет 12 ;
- 8 увеличить на 4 равно 12 ;
- сумма чисел 8 и 4 равна 12
- первое слагаемое - 8, второе - 4, сумма - 12



Составь задачи по решению.



$$9 - 2 = 7$$

$$7 - 2 = 5$$


$$7 + 2 = 9$$

Для детского сада купили 4 мишки, 5 собачек и 3 утёнка. Сколько всего игрушек купили для детского сада?



12

$$4 + 5 + 3 = 12$$





Математический диктант
по теме

«Сложение и вычитание.

Числа от 11 до 20»

Часть 1



Запиши только ответы

Автор шаблона: Ранько Елена Алексеевна

**Найди сумму
чисел 9 и 2.**



Вопрос 1

**К числу 9
прибавьте 3.**



Вопрос 2

**Первое слагаемое
равно 3, сумма
равна 10. Чему
равно второе
слагаемое?**



Вопрос 3

**Число 6
увеличьте на 4.**



Вопрос 4

**Первое слагаемое
8, второе слагаемое
3. Чему равна
сумма?**



Вопрос 5

**Найдите сумму
чисел 10 и 4.**



Вопрос 6

**Найдите разность
чисел 18 и 10.**



Вопрос 7

**Запишите число,
которое на 1
меньше, чем
число 20.**



Вопрос 8

Что больше:
9 см или 1 дм?



Вопрос 9

**Длина одного
отрезка 1 дм,
а другого – 7 см.
На сколько см
длина первого
отрезка больше
длины второго?**



Вопрос 10

Проверьте себя

1. 11

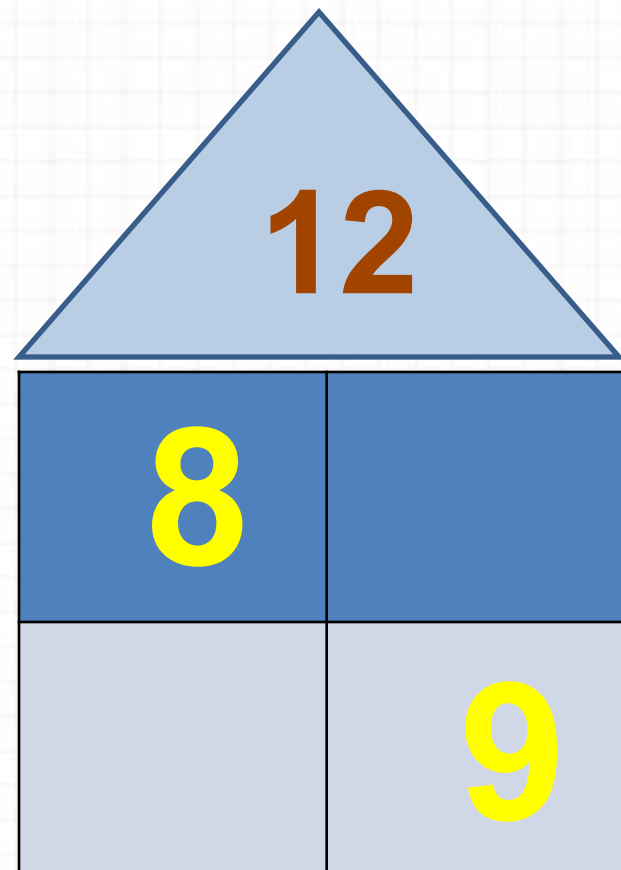
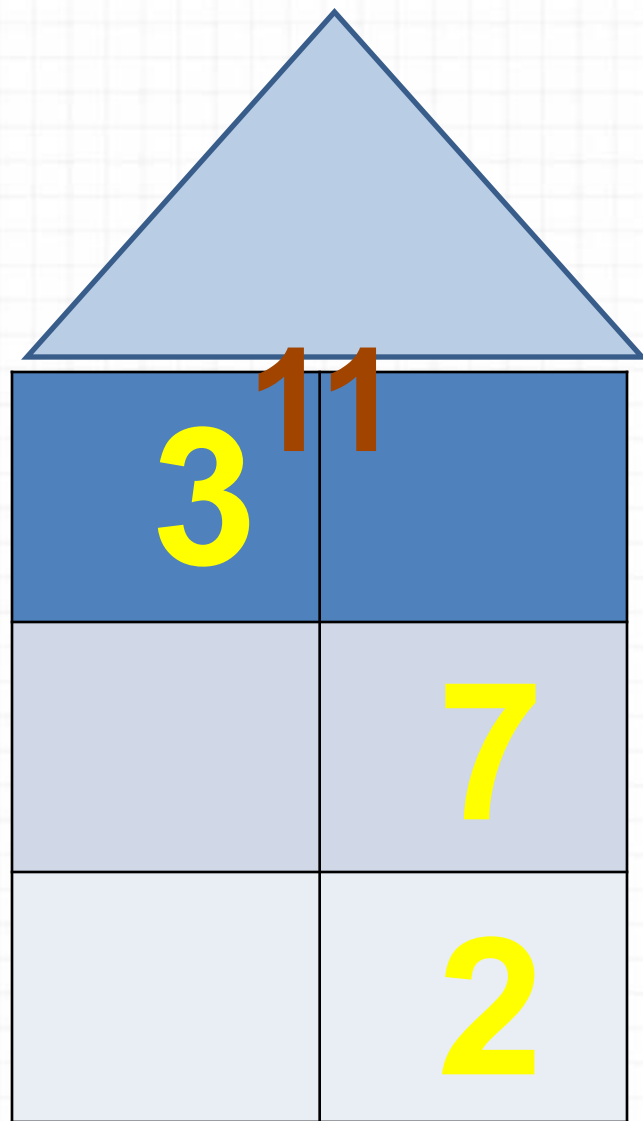
2. 12

3. 7

4. 10


5. 11

Засели домики.



Где у тебя возникли трудности?
Как ты думаешь, почему?

Новый материал



Случаи сложения:


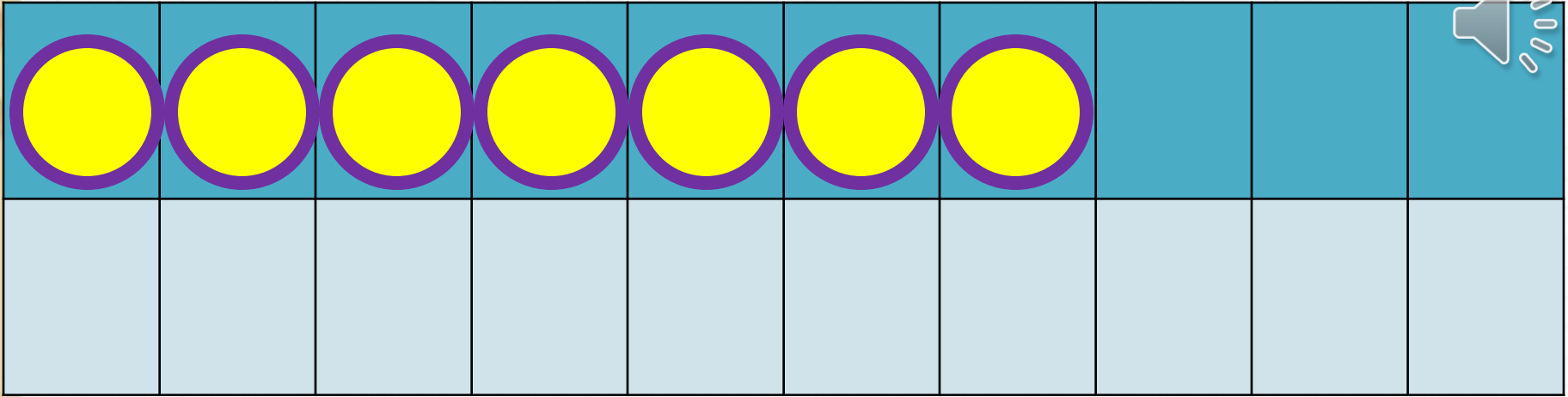
$$\square + 4.$$

Урок № 107



Школа России
Математика 1 класс





$$7 + 4$$

$$7 + 3 + 1$$



Научимся вычислять
(нажми на пробел)


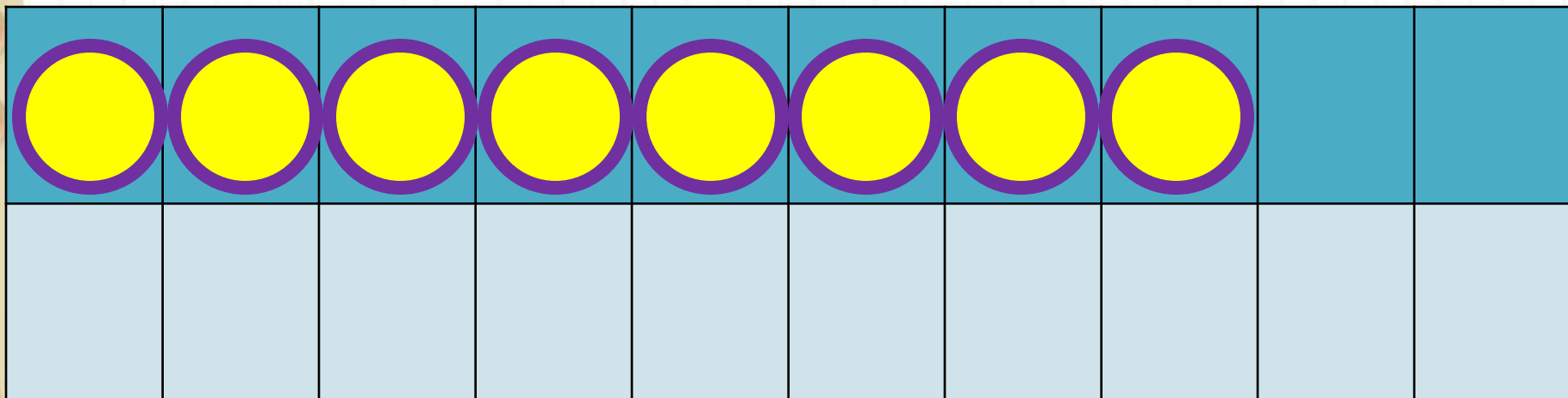
№1.

$$7 + 4 = 10 + 1 = 11$$

Diagram illustrating the decomposition of the number 4 into 3 and 1. A blue line connects the 7 and the 3, and another blue line connects the 1 and the 10. Black arrows point from the 4 to the 3 and the 1.

Письменн
о





$$8 + 4$$

$$8 + 2 + 2$$



Научимся вычислять


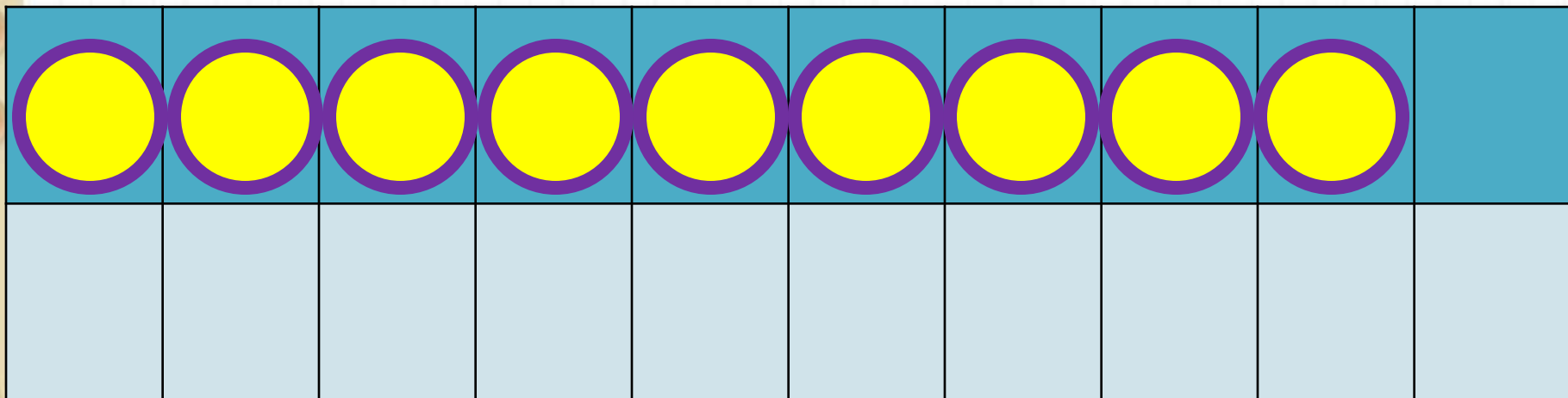
(нажми на пробел)

$$8 + 4 = 10 + 2 = 12$$

Diagram illustrating the decomposition of 4 into 2 and 2 to facilitate the addition of 8 + 4. A blue line connects the 8 to the first 2, and another blue line connects the second 2 to the 10. Two black arrows point from the 4 to the two 2s.

Письменн
о





$$9 + 4$$

$$9 + 1 + 3$$

Научимся вычислять



(нажми на пробел)

$$9 + 4 = 10 + 3 = 13$$

Diagram illustrating the decomposition of the number 4 into 1 and 3. A blue line connects the 9 to the 1, and another blue line connects the 3 to the 10. Two black arrows point from the 4 to the 1 and 3.

Письменн
о



Запомни!

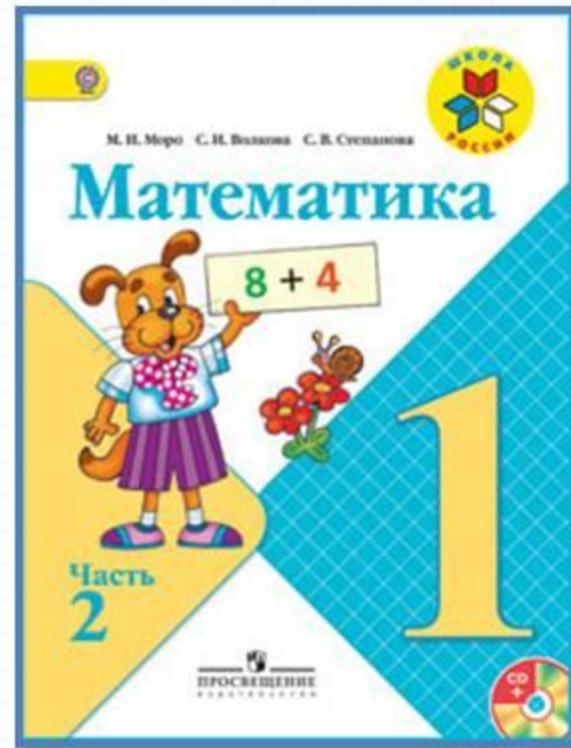
$$7 + 4 = 11$$

$$8 + 4 = 12$$

$$9 + 4 = 13$$

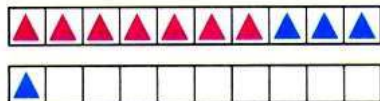
Какое число учимся сегодня прибавлять?

Работа по учебнику



стр. 67

Объясни, как к числу 7 прибавить 4.



$$\begin{array}{r} 7 + 4 \\ 7 + 3 + 1 \end{array}$$

Рассуждая так же, вычисли.

$$\begin{array}{r} 8 + 4 \\ 8 + 2 + \square \end{array}$$

$$\begin{array}{r} 9 + 4 \\ 9 + \square + \square \end{array}$$

Запомни!

$7 + 4 = 11$

$8 + 4 = 12$

$9 + 4 = 13$

1. $7 + 3 + 2$
 $8 + 2 + 3$

$6 + 4 + 3$
 $5 + 5 + 1$

$9 + 1 + 6$
 $9 + 1 + 7$

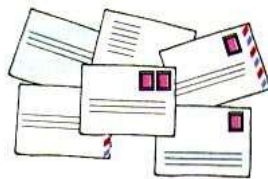
2. Составь задачи и реши их.

Было



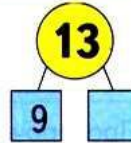
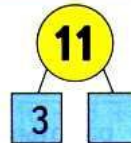
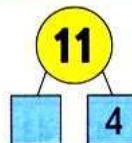
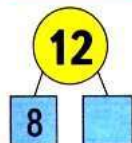
Стало на 2 больше.
Сколько стало ... ?

Было



Стало на 1 меньше.
Сколько стало ... ?

3. Узнай разными способами, на сколько сантиметров длина одного отрезка меньше длины другого.



$\square + 4$



№1

1. $7 + 3 + 2$
 $8 + 2 + 3$

$6 + 4 + 3$
 $5 + 5 + 1$

$9 + 1 + 6$
 $9 + 1 + 7$

Письменно

2. Составь задачи и реши их.


Было



Стало на 2 больше.
Сколько стало ... ?

$$7+2=9(\text{откр.})$$

Было



Стало на 1 меньше.
Сколько стало ... ?

$$6-1=5(\text{к.})$$



Проверь себя!

Задача № 2 (1).

Было – 7 откр.

Стало - ?, на 2 откр. б.

$7 + 2 = 9$ (откр.)

Ответ: 9 открыток стало.



Проверь себя!

Задача № 2 (2).

Было – 6 к.

Стало – ? , на 1 к. м.

$$6 - 1 = 5 \text{ (к.)}$$

Ответ: 5 конвертов стало.



Физкультминутка

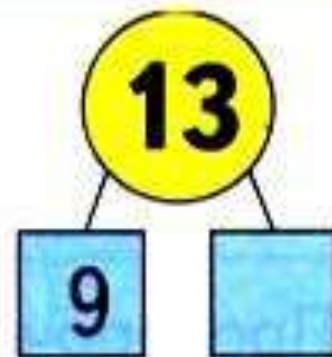
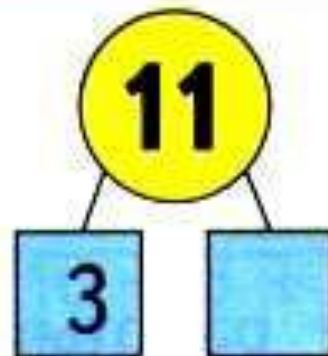
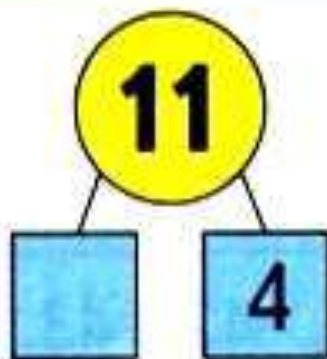
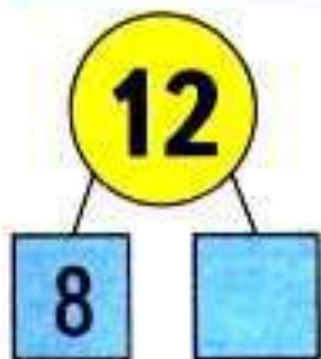
Яблоня в моём саду
Гнётся низко на ветру.
Наклонилась вправо, влево.
Покачаться захотела.
Ветки вниз и вверх качнула
И вперёд их протянула.
А как стихнет ветерок
Моя яблонька заснёт.



Закрепление изученного



3. Узнай разными способами, на сколько сантиметров длина одного отрезка меньше длины другого.



Найдите примеры с ответом

12.

$$9 + 3 =$$

$$9 + 4 =$$

$$8 + 4 =$$

$$10 + 2 =$$


$$10 - 2$$

$$9 + 2 =$$

$$5 + 5 =$$

$$10 + 7 =$$

$$14 - 2 =$$



Задания на смекалку





$$\square - 3 = 8$$

$$11 - \square = 9$$

$$\square - 3 = 9$$

Вставь пропущенные числа.

В первой клетке сидят **4** цыплёнка и **2** кролика, а во второй **5** цыплят. Где больше глаз и на сколько?

на 2 больше в 1

клетке

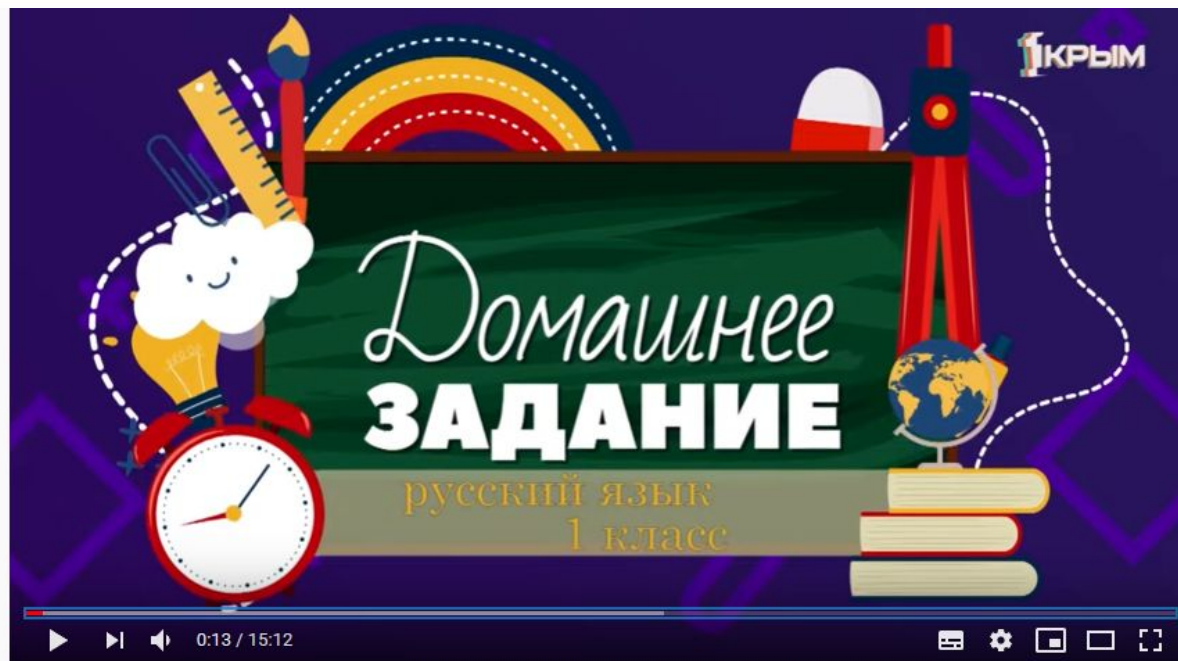


Каким этажом сверху будет **пяты́й** этаж десятиэтажного дома?



ШЕСТИ

Посмотри видеоурок!



- 1tvcrimea.ru/content/domashnee-zadanie-1-klass-russkiy-yazyk-matematika-vypusk-ot-8042020

Рефлексия

Какие примеры мы решали сегодня на уроке?

Почему они записаны в красной рамочке?

Кто смог их запомнить?

Оцените свою работу на уроке?



