

Здравствуйте!

**Откройте рабочую тетрадь по
математике**

Запишите число и классная работа

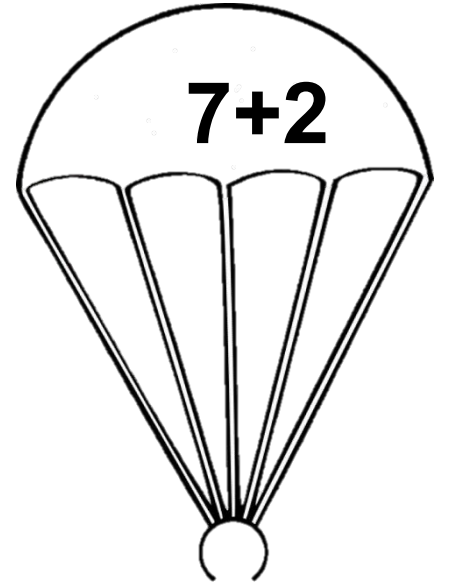



23 апреля

Классная работа

Учимся прибавлять к
9, 8 и 7 «+4»,
к 9, 8, 7 и 6 «+5»



Опусти парашютиста на своё поле



$$7 + 4$$

$$8 + 4$$

$$9 + 4$$

- В данных выражениях сумма будет равна меньше 10 или больше 10? (Больше)
- Продолжаем учиться складывать числа с переходом через десяток.
- Будем учиться прибавлять 4 по частям (развивать на удобные слагаемые)

$$7 + 4$$

$$8 + 4$$

$$9 + 4$$

ЗАПОМНИ!

$$7 + 4 = 7 + \overbrace{3+1} = 7 + 3 + 1 = \overbrace{10} + 1 = 11$$

$$8 + 4 = 8 + \overbrace{2+2} = 8 + 2 + 2 = \overbrace{10} + 2 = 12$$

$$9 + 4 = 9 + \overbrace{1+3} = 9 + 1 + 3 = \overbrace{10} + 3 = 13$$

$$9 + 5$$

$$8 + 5$$

$$7 + 5$$

$$6 + 5$$

- В данных выражениях сумма будет равна меньше 10 или больше 10? (Больше)
- Продолжаем учиться складывать числа с переходом через десяток.
- Будем учиться прибавлять 5 по частям (развивать на удобные слагаемые)

$$9 + 5$$

$$8 + 5$$

$$7 + 5$$

$$6 + 5$$

ЗАПОМНИ!


$$9 + 5 = 9 + \overbrace{1+4}^5 = 9 + 1 + 4 = 10 + 4 = 14$$

$$8 + 5 = 8 + \overbrace{2+3}^5 = 8 + 2 + 3 = 10 + 3 = 13$$

$$7 + 5 = 7 + \overbrace{3+2} = 7 + \overbrace{3} + 2 = 10 + 2 = 12$$

$$6 + 5 = 6 + \overbrace{4+1} = 6 + \overbrace{4} + 1 = 10 + 1 = 11$$

-Учебник: стр. 67 № 1 оформить в тетрадь, все остальные задания устно.



Откроем учебник на стр. 68

Обратите внимание на № 2 (устно)

Задача 2

- Прочитаем задачу.
- О чем задача?
- Найдите на полях мишени мальчиков?
- Какой вопрос задачи?
- Сколько выстрелов сделал каждый мальчик? (2)
- Сколько очков набрал Антон? ($10 + 0 = 10$)
- Сколько очков набрал Дима? ($5 + 3 = 8$)
- Сколько очков набрал Коля? ($10 + 3 = 13$)
- Кто больше всех набрал очков? (Коля)

Откроем учебник на стр. 68

Обратите внимание на № 3 (Оформим задачу в тетрадь)

Рыжих – 3 к. }
Пёстрых – 2 к. } ?к.

Отдала – 1 к.

Осталось - (? к)

1) $3 + 2 = 5$ (к.) – всего котят

2) $5 - 1 = 4$ (к.)

Ответ: 4 котёнка осталось.

Тет. на п/о стр. 35

