

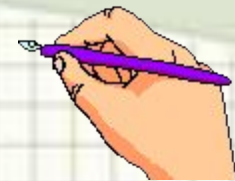
23 апреля.

Классная работа.

Чистописание.

2	3		2	3										
3	2		3	2										





- Какие цифры использовали для записи числа 23?

2	3
---	---

- Расскажите все, что знаете об этом числе.

22	23	24
----	----	----

2 дес

3 ед.

23

Двузначное
число

Нечетное число



Математический диктант

Какое число стоит между числами 13 и 15?

Какое число при счёте называют перед числом 1

Какое число при счёте идёт после числа 16?

8 – это 2 и

запиши число, в котором 1 десяток и 9 единиц

Первое слагаемое 12, второе слагаемое 3.

Чему равна сумма?

На сколько 18 больше


10?

14 13 17 6 19 15 8



Задача №1. страница 96

?





- 1). $37 - 2 = 25$ (т)-осталось
- 2). $25 - 20 = 5$ тарелок осталось тарелок



Запомним!!!

Вычитаем десятки из
десятков, единицы из
единиц!!!



Задача №2.

(запиши только выражения)



Тетрадь 10 руб.

Цветные карандаши 20 руб.

Фломастеры 30 руб.

Пенал 50 руб.

$$85 - 10 = \square$$

$$85 - 30 = \square$$

$$85 - 20 = \square$$

$$85 - 50 = \square$$



Решим примеры

№3.

$50-40=10$

$40-20=20$

$90-60=30$

$53-40=13$

$49-20=29$

$96-60=36$

$70-30=40$

$60-40=20$

$80-50=30$

$78-30=48$

$61-40=21$

$89-50=39$

$30-10=20$

$70-60=10$

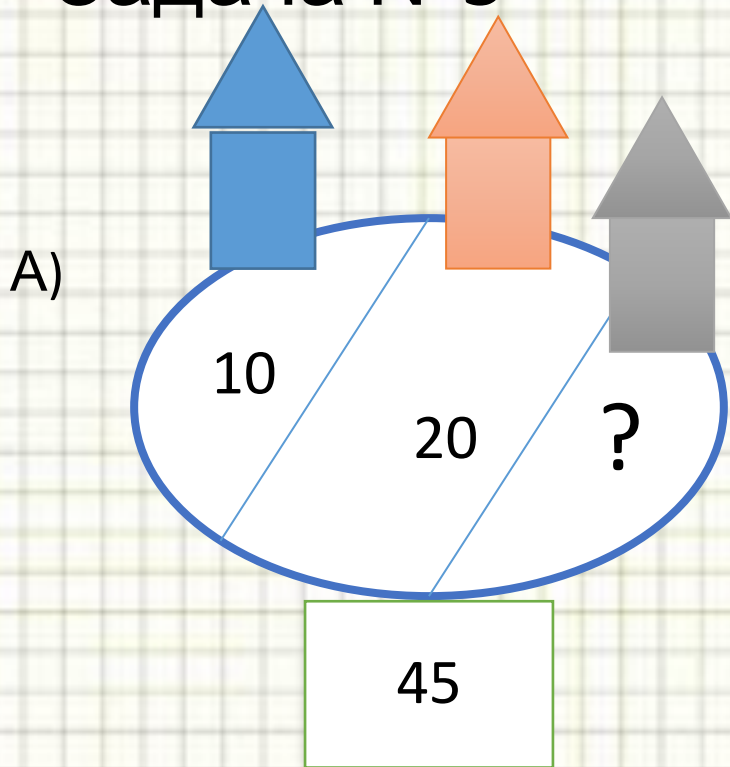
$34-10=24$

$72-60=12$



Оцени
себя!

Задача №5

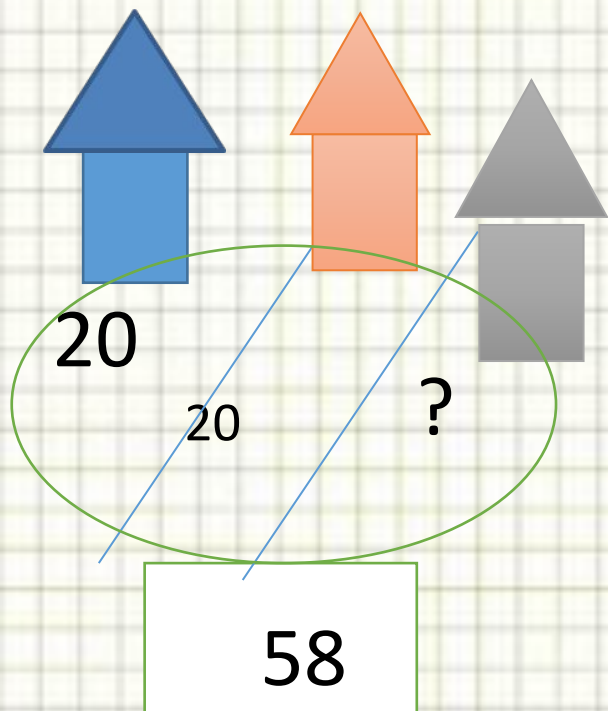


$$45 - 20 - 10 = \blacksquare \text{ (д.)}$$

Ответ: 15 домов.



Б)



$$58 - 20 - 20 = \square \text{ (д.)}$$


Ответ: 18

ДОМОВ.



Домашнее задание:

- Стр.97, № 7+ карточки на учи.ру



Спасибо за уро

