

# 12 МАЯ. МАТЕМАТИКА.



*12 мая.*

*12 21 ...*

**Запиши дату и минутку чистописания.**



# Арифметический диктант.

Запиши выражения и найди их значения:

- сумма чисел 4 и 8;
- разность чисел 13 и 7;
- увеличь 5 на 6;
- уменьши 13 на 5;
- первое слагаемое 3, второе слагаемое 9;
- уменьшаемое 13, вычитаемое 4.

1 2 2 1 ...

## Проверка диктанта

$$4 + 8 = 12$$

$$13 - 7 = 6$$

$$5 + 6 = 11$$



$$13 - 5 = 8$$

$$3 + 9 = 12$$

$$13 - 4 = 9$$



**ТЕМА УРОКА: Вычитание вида  $14 - \square$ ,  
 $15 - \square$ .**



**ЦЕЛЬ УРОКА: научиться вычитать из 14  
и 15 однозначные числа.**

# Работа по теме урока.

Запиши выражения и найди их значения.

$$14 - 5 = 9$$

$$14 - 6 = 8$$

$$14 - 7 = 7$$

$$14 - 9 = 5$$

$$14 - 8 = 6$$

Вычисли и запомни.


$$14 - 5$$

$$14 - 6$$

$$14 - 7$$

$$14 - 9$$

$$14 - 8$$



Работа по теме урока.  
Запиши выражения и найди их значения.

$$15 - 6 = 9$$

$$15 - 8 = 7$$

$$15 - 7 = 8$$

$$15 - 9 = 6$$



Вычисли и запомни.

$$15 - 6$$

$$15 - 7$$

$$15 - 8$$

$$15 - 9$$

## Реши задачу 2 на с.86.

2. В школьный буфет привезли два ящика яблок, по 8 кг в каждом, и 10 кг груш. Узнай сначала, сколько привезли килограммов яблок, а потом, на сколько килограммов больше привезли яблок, чем груш.




Яблоки – ? кг 2 ящ. по 8 кг  
Груши - 10 кг

на ? кг б.

1)  $8 + 8 = 16$  (кг) – яблок.


2)  $16 - 10 = 6$  (кг)

Ответ: на 6 кг яблок больше.





Найди длину ломаной.

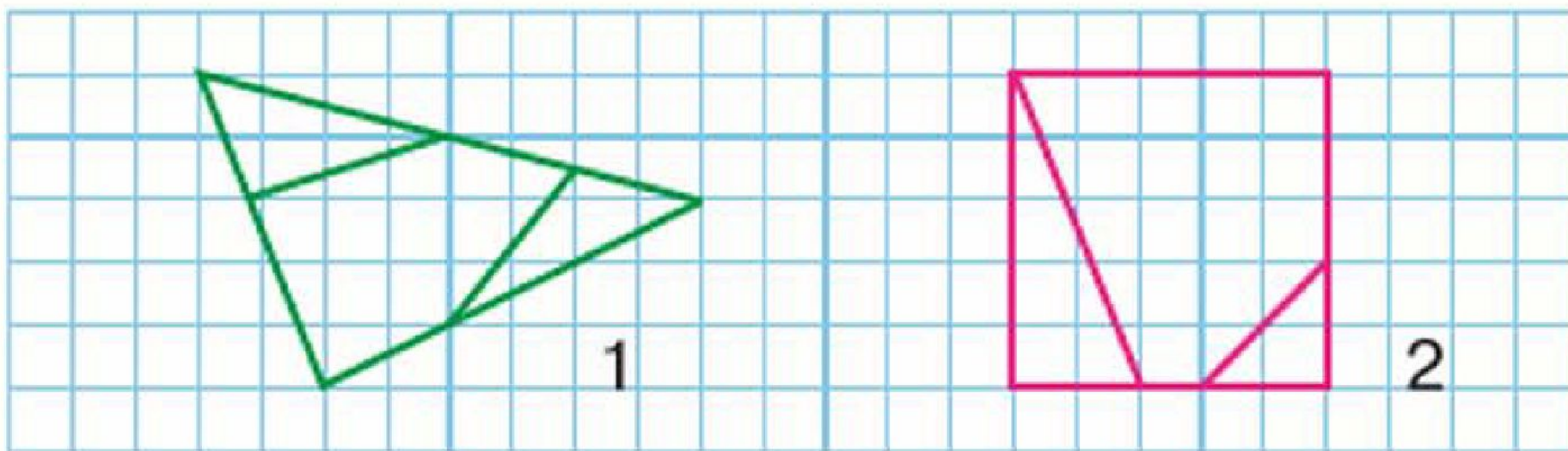


$$4 + 2 + 9 = 15 \text{ (cm)}$$

Ответ: 15 см.

## Развивающие задания

4. Сколько разных многоугольников на каждой чертеже? Назови их. Начерти такой пятиугольник, как на чертеже 2.



6

6

На рисунке четыре девочки: Тома, Катя, Юля и Даша.



Известно, что Катя не самая высокая из них. Юля и Даша ниже, чем Катя, а Юля выше, чем Даша. Как зовут девочку с книгой? с куклой? с шариком?

**Юля** **Даша** **Тома** **Катя**

**Рекомендации:** перепишите №3, вставив пропущенные числа; задача 3 (с краткой записью).

3	12	-	+	4	=	14			13	-	+	8	=	18		
	11	-	-	5	=	5			14	-	-	7	=	3		

3. У Оли взяли на выставку 4 рисунка, а у Светы — на 2 рисунка больше.  
Поставь вопрос так, чтобы задача решалась двумя действиями. Реши её.