

# Единица длины -дециметр стр. 51



*Школа России*  
*Математика 1 класс*





Устный счёт

Запиши только ответы:



Запиши число, которое  
на **2** больше, чем **10**.

**Запиши число, которое  
на 1 меньше, чем 15.**

**Запиши число, которое  
при счёте идёт за  
числом 17**

**Запиши число, которое  
следует при счёте  
перед числом 14.**

# Проверяе

М:

12

14

18

13




14 =  дес.  ед.

16 =  дес.  ед.

18 =  дес.  ед.



# Новый материал




Папа держал чемодан, масса которого 11

В ведро помещается 6 \_\_\_\_

воды

Ученик начертил отрезок длиной 5




Л

С

КГ

М





1

CM



Мерку новую Знайка нам  
принес.

Это мера длины?  
Как ее называют? Вопрос.  
Чтобы тему урока узнать,  
Запись нам надо  
расколдовать.




17	12	15	19	1	18	14	20
М	Е	И	Т	Д	Е	Ц	Р

Расположите числа в порядке возрастания, и вы узнаете,  
с какой новой единицей измерения длины мы  
познакомимся сегодня на уроке.

Дециметр


ДМ



**1 дм**



**1 дм = 10 см**



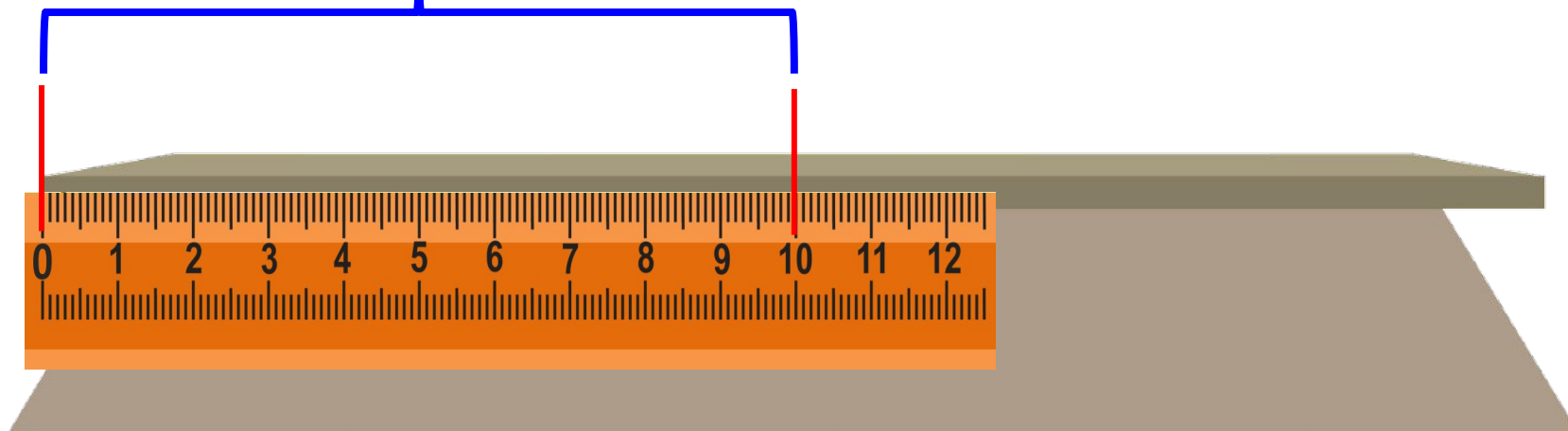
1 дм

2 см

**12 см = 1 дм 2 см**

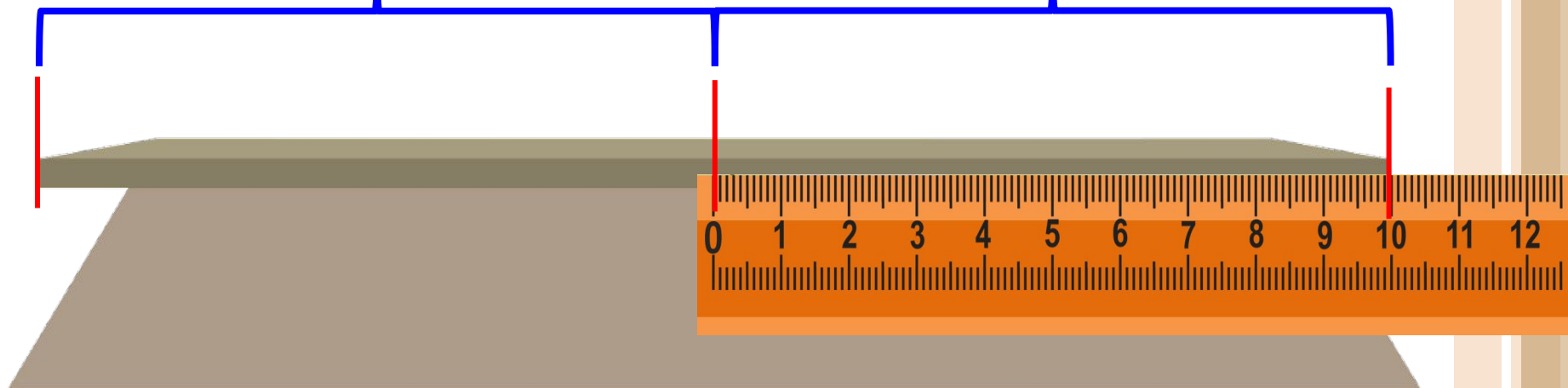


1 дм



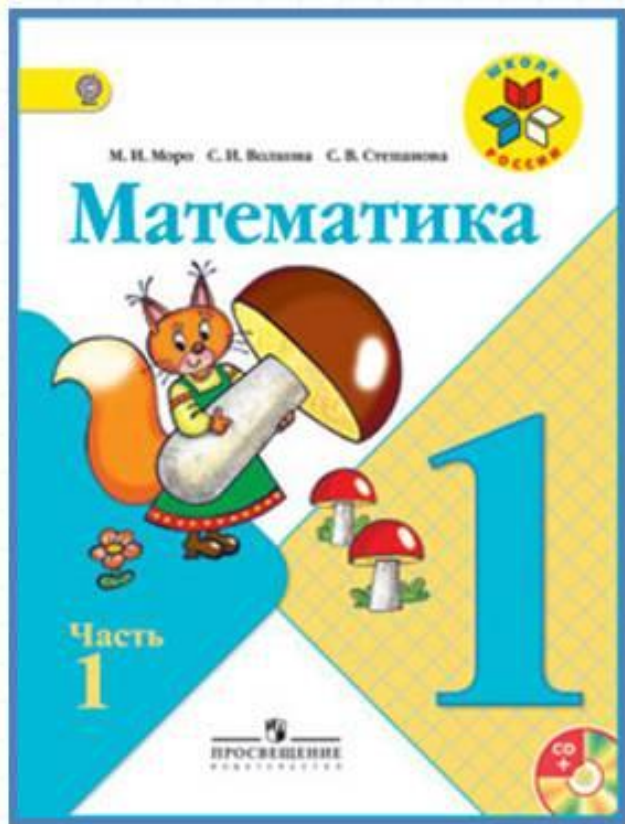
**1 дм**

**1 дм**



$$2 \text{ дм} = 20 \text{ см}$$

# Работа по учебнику

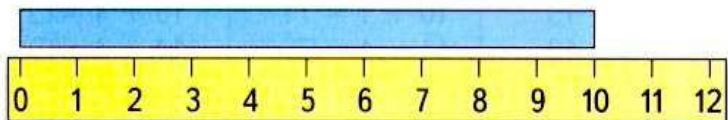


стр. 51

## Дециметр

Узнаем, что есть более крупная, чем сантиметр, единица длины — **дециметр**.

$$1 \text{ дм} = 10 \text{ см}$$



1. Возьми полоску бумаги длиной 1 дм и отмерь ею 2 дм верёвки. Сколько это сантиметров?
2. Начерти отрезок длиной 12 см. Сколько это дециметров и сантиметров?

3. У Вити



У Коли на 2 рыбки больше. Сколько рыбок у Коли?

У Вити



У Кати на 2 рыбки меньше. Сколько рыбок у Кати?

4.

Уменьши на 1:

16	11	13	20
----	----	----	----

Увеличь на 1:


19	18	14	17
----	----	----	----

5.  $3 + 5$      $8 - 6$      $10 - 7$      $2 + 5 + 3$   
 $9 - 6$      $4 + 4$      $10 - 8$      $9 - 9 + 1$

Измерь длину и ширину обложки учебника в сантиметрах. Сколько это дециметров и сантиметров?



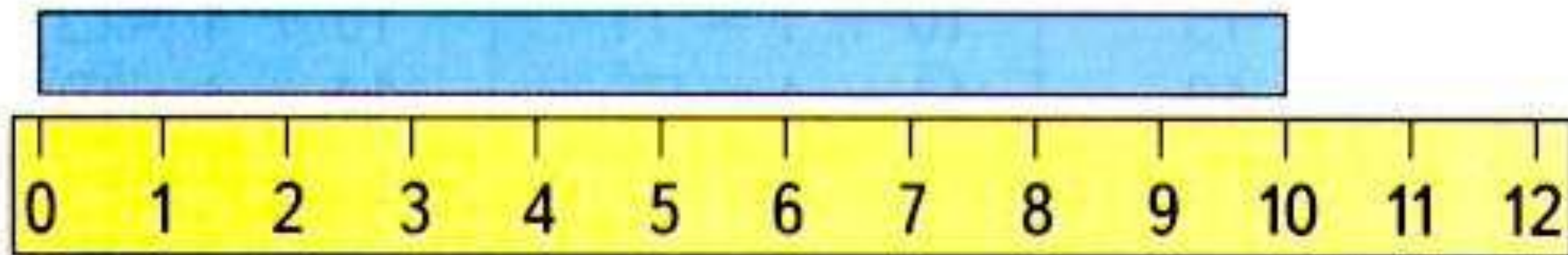
СКОЛЬКО  
ТРЕУГОЛЬ-  
НИКОВ?  
СКОЛЬКО  
ЧЕТЫРЁХ-  
УГОЛЬНИКОВ?



# Дециметр

Узнаем, что есть более крупная, чем сантиметр, единица длины — **дециметр**.

$$1 \text{ дм} = 10 \text{ см}$$



2. Начерти отрезок длиной 12 см. Сколько это дециметров и сантиметров?

3. У Вити



У Коли на 2 рыбки больше. Сколько рыбок у Коли?

У Вити



У Кати на 2 рыбки меньше. Сколько рыбок у Кати?

**$5 + 2 = 7$  (р.) у Коли**

**$5 - 2 = 3$  (р.) у Кати**





Переведите в дм и см.



15 см =

14 см =

11 см =

19 см =

18 см =

