

Случаи сложения вида + 5



Урок №

101

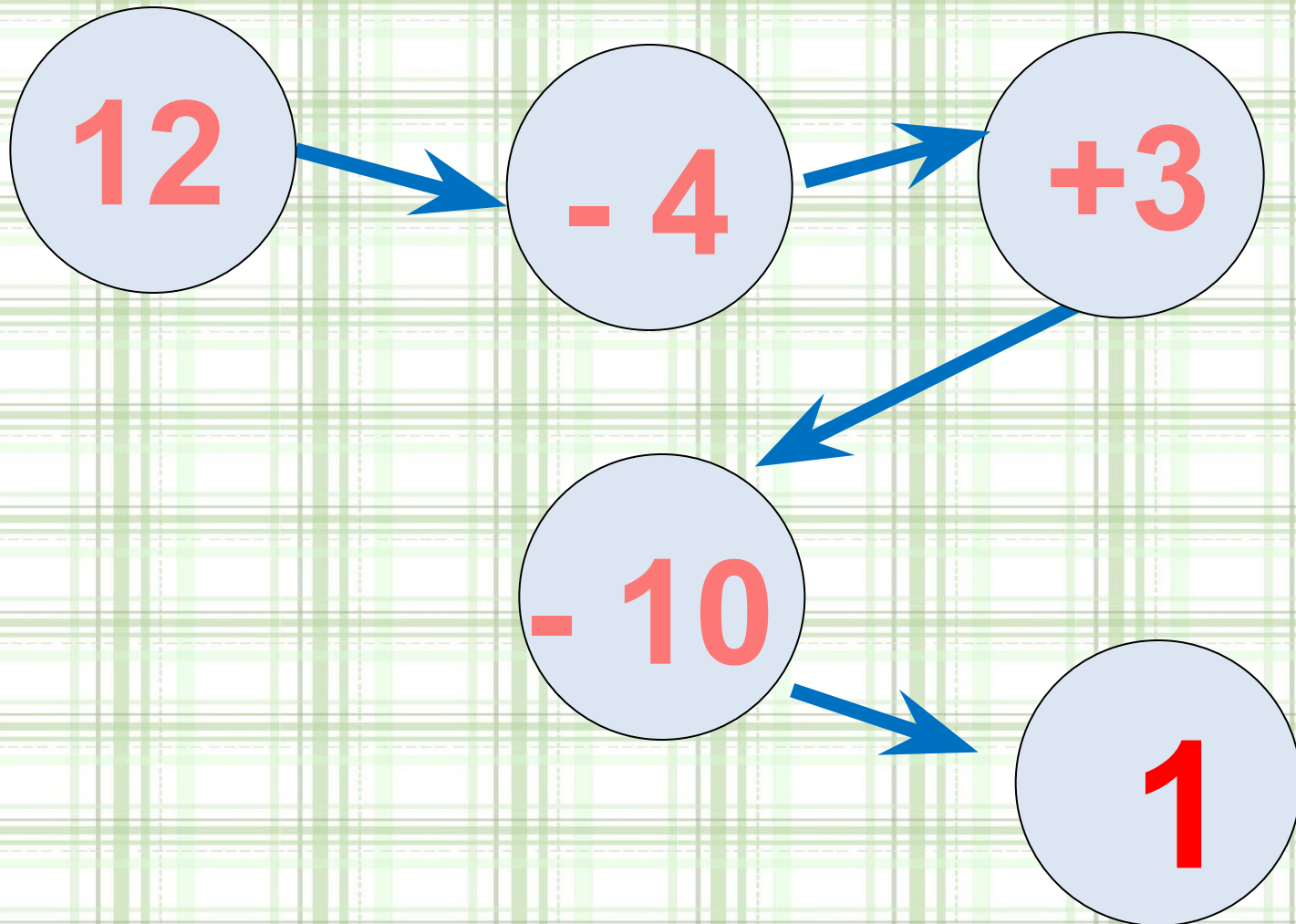
УСТНЫЙ СЧЁТ

$$2 + 2 =$$

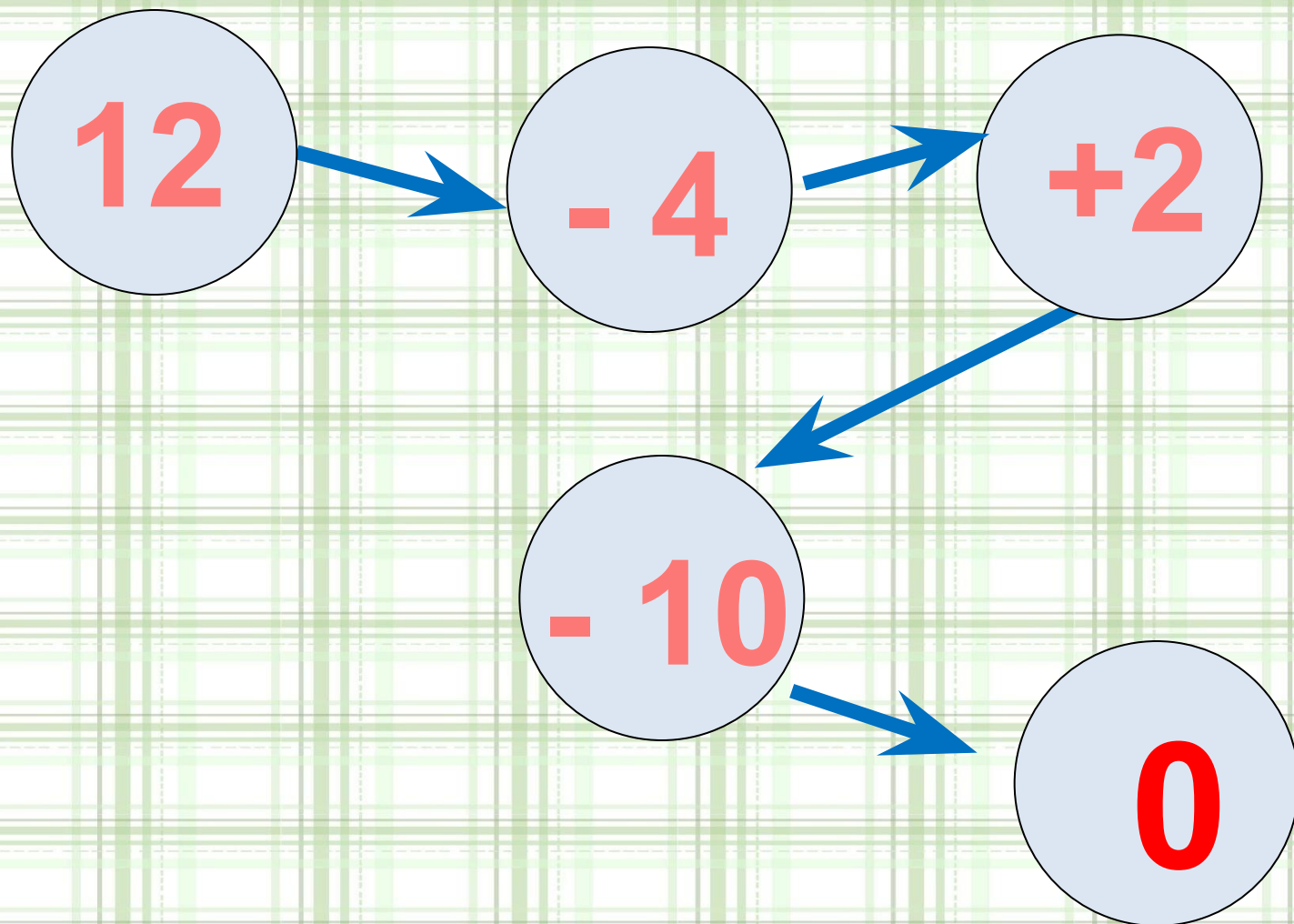
$$6 - 4 =$$



Реши цепочку примеров.



Реши цепочку примеров.



Когда на тарелку с пирожками положили ещё **3** пирожка, на тарелке стало **8** пирожков. Сколько пирожков было на тарелке?



5





$$8 - 3 = 5$$

Папа купил **6** кг картофеля и **2** кг моркови. На сколько больше кг картофеля, чем моркови, купил папа?



на 4 кг

$$6 - 2 = 4$$



В первый день Артём прочитал **6** страниц, а во второй на **2** страницы меньше. Сколько страниц прочитал Артём во второй день?




$$6 - 2 = 4 \text{ стр.}$$

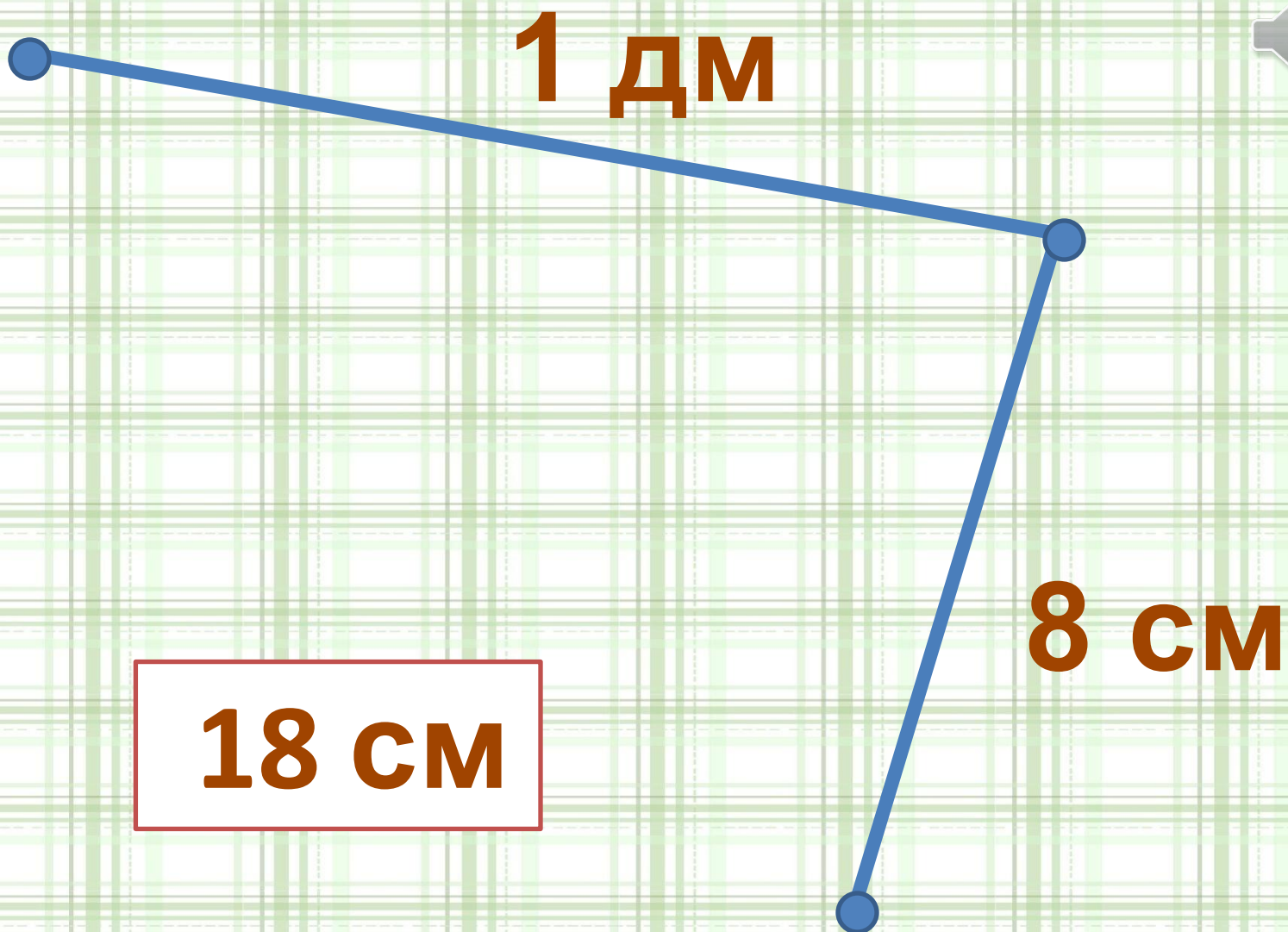
Сколько за два дня?



$$6 + 4 = 10$$

стр.





Найди длину ломаной.

НОВЫЙ МАТЕРИАЛ


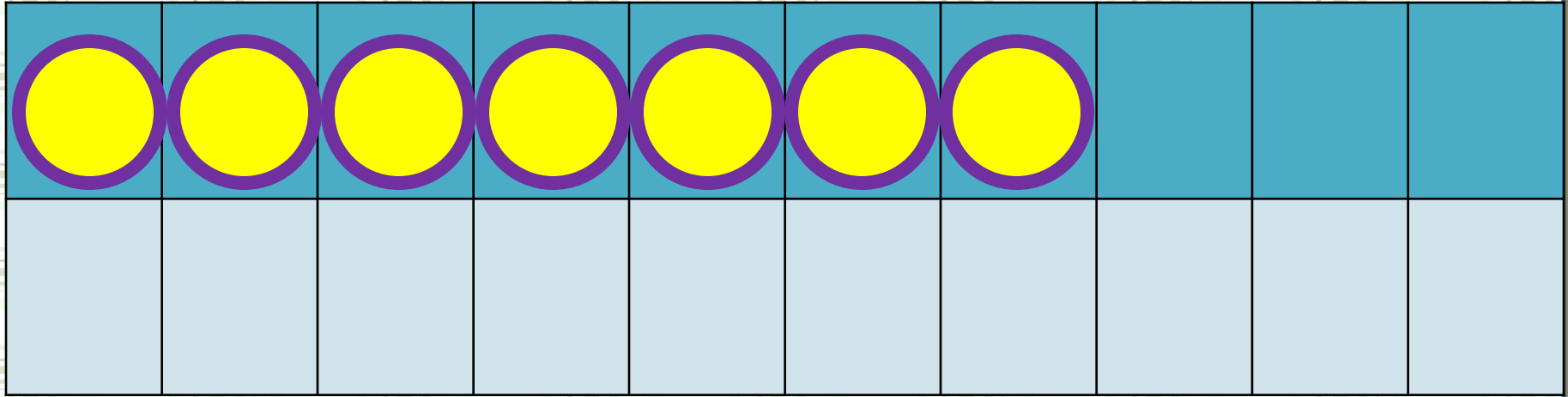


Составь выражения с числами.




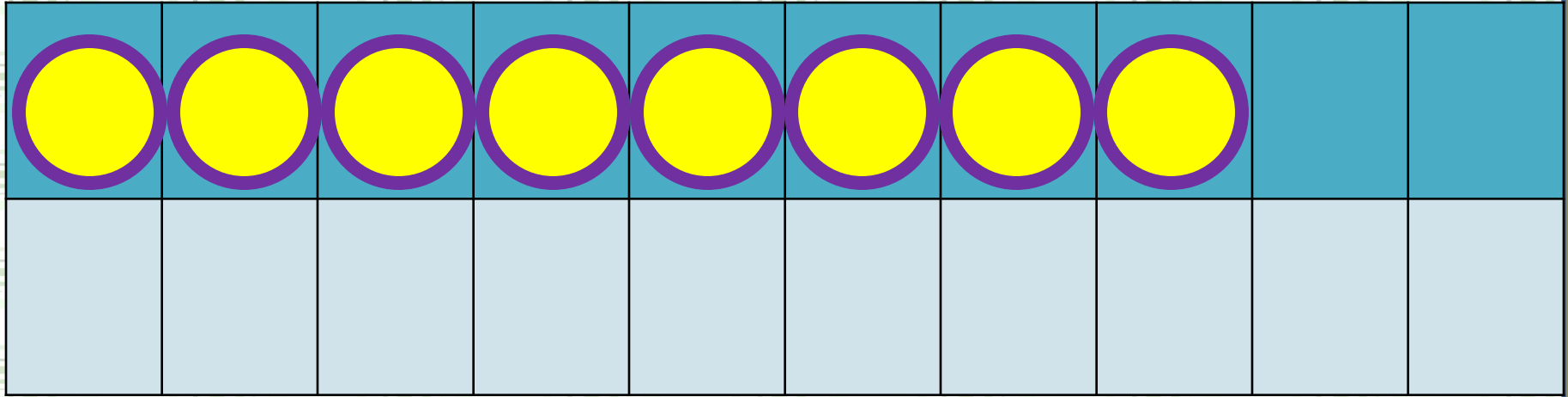
1 1	9		7	
		3		5

12	9		6	
		4		5




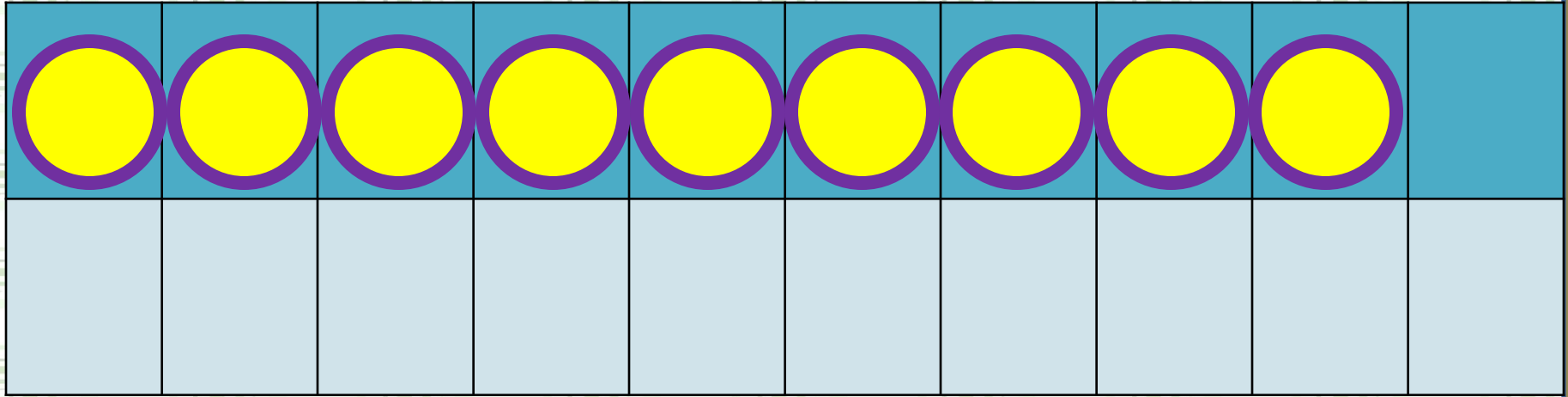
$$7 + 5$$

$$7 + 3 + 2$$




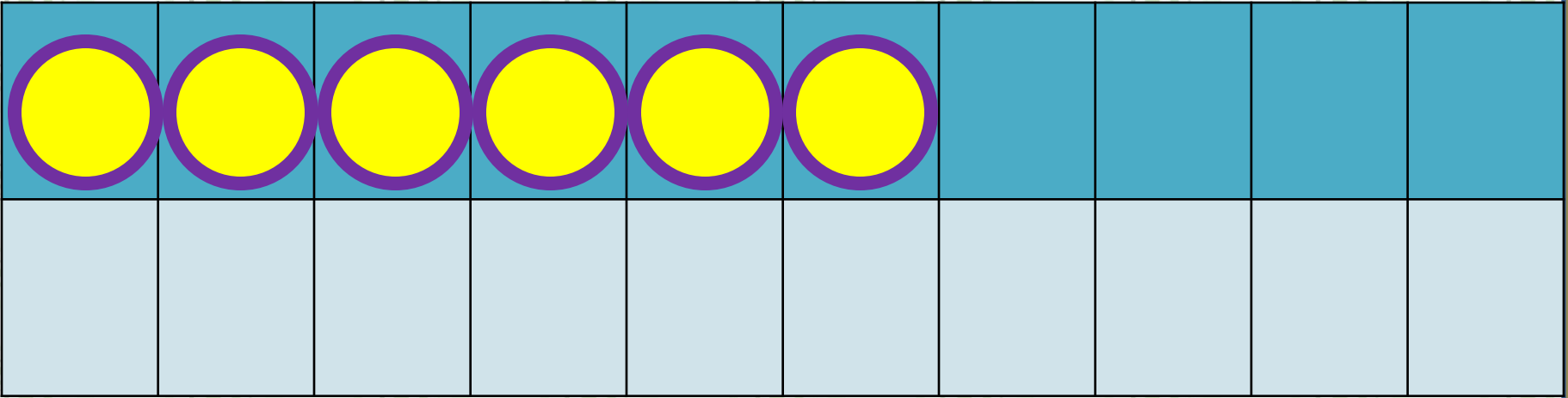
$$8 + 5$$

$$8 + 2 + 3$$



$$9 + 5$$

$$9 + 1 + 4$$



$$6 + 5$$

$$6 + 4 + 1$$

Запомни!

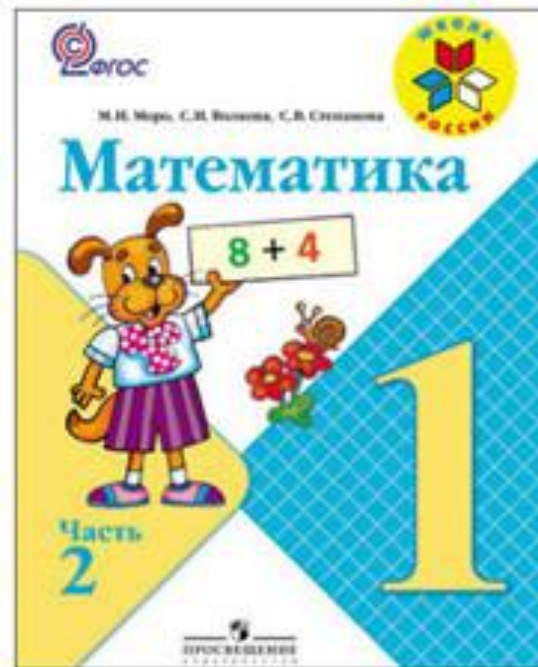
$$6 + 5 = 11$$

$$7 + 5 = 12$$

$$8 + 5 = 13$$


$$9 + 5 = 14$$

РАБОТА ПО УЧЕБНИКУ



Стр. 68

Объясни, как к числу 9 прибавить 5.



$$\begin{array}{r} 9 + 5 \\ \hline 9 + 1 + \square \end{array}$$

Рассуждая так же, вычисли.

$$\begin{array}{r} 8 + 5 \\ \hline 8 + 2 + \square \end{array}$$

$$\begin{array}{r} 7 + 5 \\ \hline 7 + 3 + \square \end{array}$$

$$\begin{array}{r} 6 + 5 \\ \hline 6 + \square + \square \end{array}$$

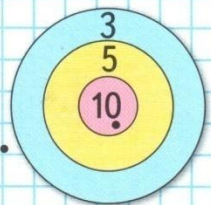
Запомни!

$$9 + 5 = 14 \quad | \quad 8 + 5 = 13 \quad | \quad 7 + 5 = 12 \quad | \quad 6 + 5 = 11$$

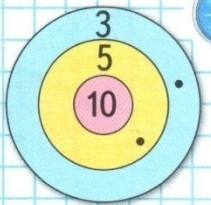
1.	$8 + 2 + 6$	$7 + 3 + 3$	$14 - 4 - 5$
	$8 + 2 + 5$	$7 + 3 + 4$	$14 - 4 - 4$
	$8 + 2 + 4$	$7 + 3 + 5$	$14 - 4 - 3$

2. Антон, Коля и Дима стреляли в цель. Сколько очков набрал каждый мальчик?

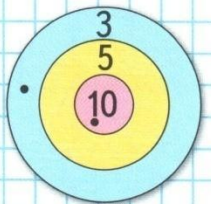
3. У Олиной кошки родились 3 рыжих котёнка и 2 пёстрых. Оля подарила 1 котёнка подруге. Сколько котят осталось?



Антон




Дима



Коля

4. В первой игре футбольные команды «Заря» и «Буря» забили по 4 гола каждая, а вторую игру закончили со счётом 6 : 5 в пользу команды «Буря». Сколько голов забила каждая команда в двух играх?
5. Найди разность чисел: 18 и 10, 16 и 6.
Найди сумму чисел: 9 и 3, 7 и 4, 8 и 5.
6. Есть два бидона: в один входит 7 л, а в другой — 3 л. Как с помощью этих бидонов отмерить 4 л воды?

РАБОТА В ТЕТРАДИ



Стр. 35




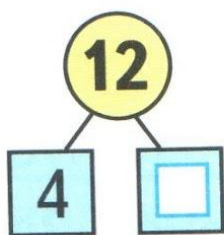
$$\square + 4$$

$$\square + 5$$

- 1 У Саши было 8 красных воздушных шаров и 4 синих. Один шар лопнул. Сколько шаров осталось?

Answer area with a grid and the handwritten word "Ответ:".

2

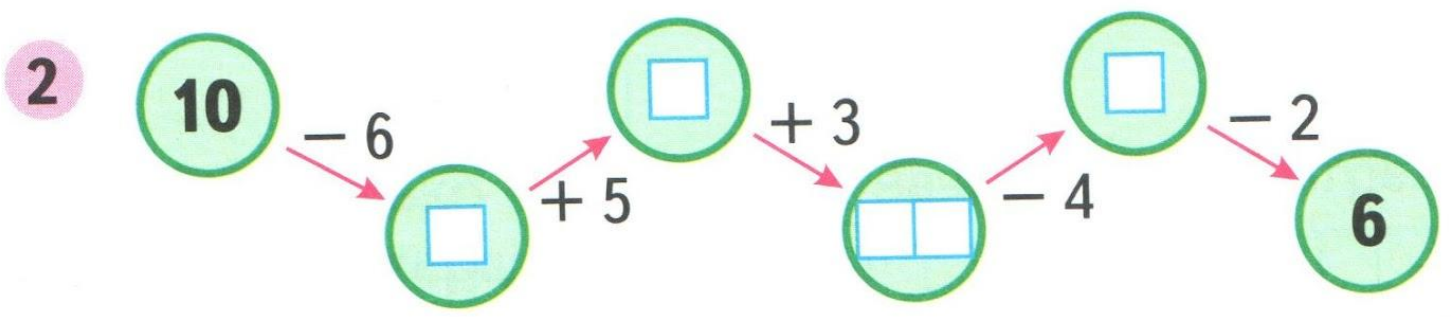


1 1) Красным цветом закрась карточки, на которых записаны примеры с ответом 11, а синим — с ответом 12.




$6 + 5$	$11 + 1$	$7 + 5$	$10 + 2$
	$8 + 4$	$10 + 1$	$\square + \square$
$\square + \square$	$9 + 2$	$6 + 6$	$8 + 3$

2) Запиши на свободных карточках новые суммы с ответами 11 и 12.



ПОВТОРЕНИЕ



$$18 \text{ см} = _ \text{ дм } _ \text{ см}$$

$$19 \text{ см} = _ \text{ дм } _$$

$$20 \text{ см} = _ \text{ дм } _ \text{ см}$$

Переведи единицы длины.





КОНЕЦ