

0

ЧИСЛО И ЦИФРА 0

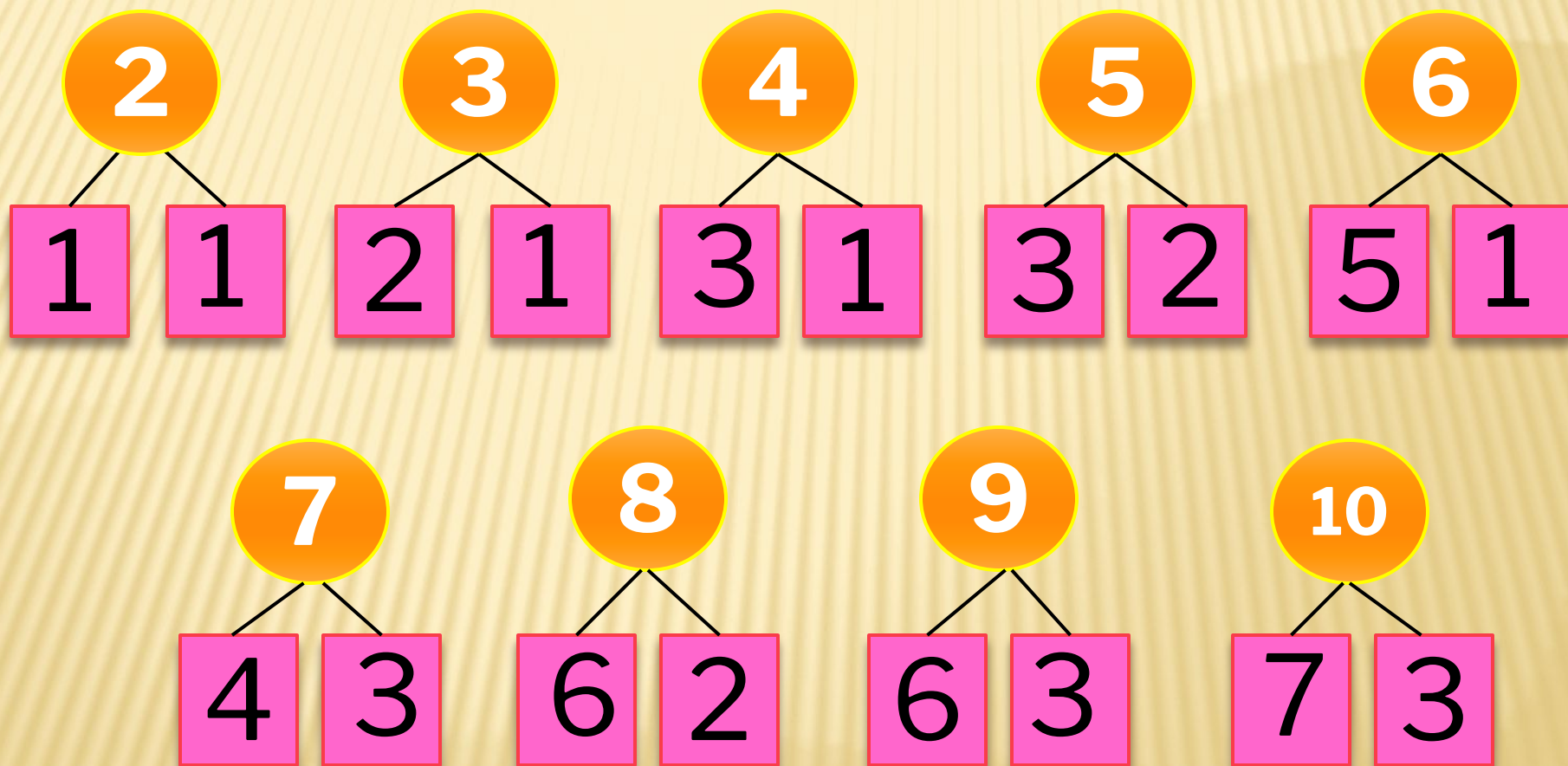
Александрова
Юлия,
3-НАЧА-171-2

РАССТАВЬТЕ В ПРАВИЛЬНОЙ
ПОСЛЕДОВАТЕЛЬНОСТИ

2 4 7 6 9 3 5 8

?	1								
---	---	--	--	--	--	--	--	--	--

ВСПОМИНАЕМ СОСТАВ ЧИСЕЛ



ПОКАЖИТЕ ВЕРНУЮ КАРТОЧКУ

- Сколько будет, если сложить 6 и 4?
- Уменьшите 7 на 1
- Назовите соседей числа 3
- Увеличьте 9 на 1
- Какое число следует за числом 5?
- Какое число в натуральном ряду стоит раньше, чем число 2?
- Сколько будет, если от 9 отнять 7?

ПОСЧИТАЙТЕ И СООТНЕСИТЕ

$8+1=$

9

$10-4=$

6

$1+1=$

2

$5-4=$

1

$6+3=$

9

$9-6=$

3

$3+2=$


5

$4-3=$

1

$7+3=$

10



ЗАДАЧА № 1


У Жени было 5 Новогодних открыток.
После Нового года у него стало на 3
открытки меньше. Сколько открыток теперь

у Жени?




ЗАДАЧА № 2

У Насти была 1 конфета. Вася подарил ей еще две. Сколько конфет стало у Насти?



СКОЛЬКО НА КАРТИНКЕ ПРЕДМЕТОВ?



7



9




2




1



4



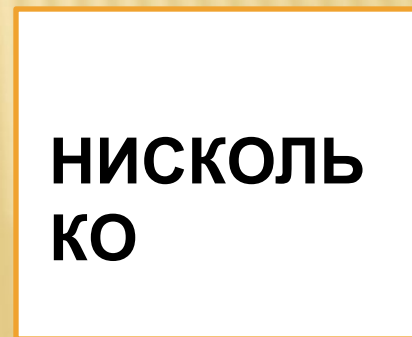
6



5




3



0

ПРО ЧТО МОЖНО СКАЗАТЬ «НИСКОЛЬКО»?

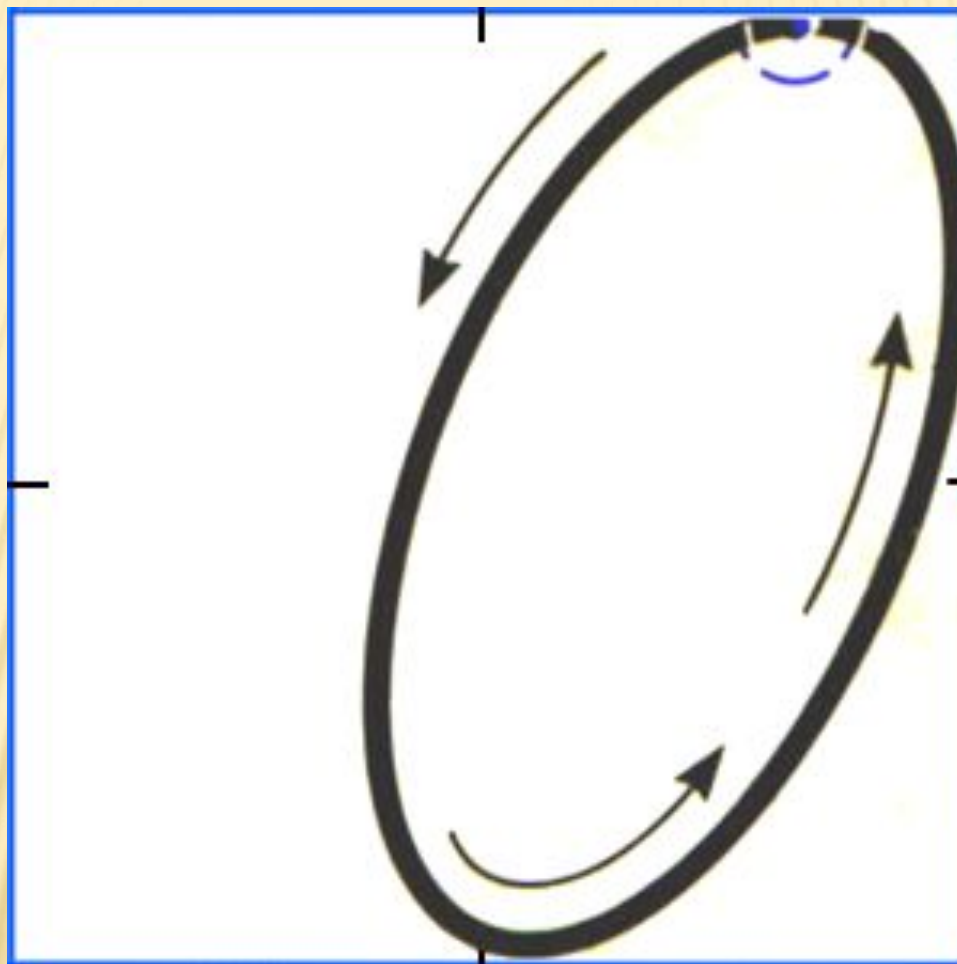


РАБОТА С УЧЕБНИКОМ С. 70

- ▶ На первой тарелке 3 ягоды, на второй тарелке ягод нет. Как это записать с помощью цифры?

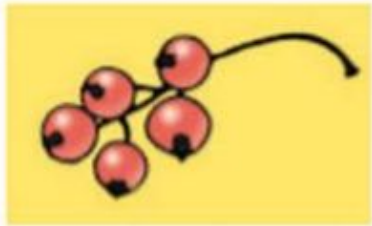


ЦИФРА 0



РАБОТА С УЧЕБНИКОМ С. 70

Какое равенство подходит к картинкам? Составь рассказы по двум другим равенствам.



$$3 - 3 = 0$$

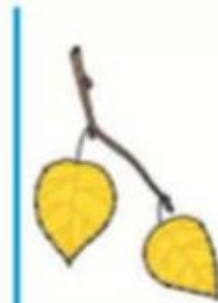
$$5 - 5 = 0$$

$$8 - 8 = 0$$

Расскажи, что было, что изменилось.



3



$$3 - 1 = 2$$

2 ○ 3



$$2 - 1 = 1$$

1 ○ 2

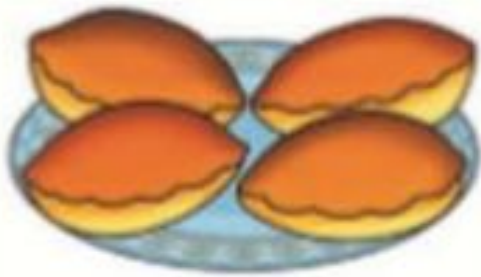


$$1 - 1 = 0$$


0 ○ 1

РАБОТА С УЧЕБНИКОМ С. 71

Перед обедом



После обеда



Составь по рисунку рассказ и выполни запись.

$$\square \bigcirc \square = \square$$

РЕШИТЕ ЗАДАЧУ

$$3 - 3 =$$

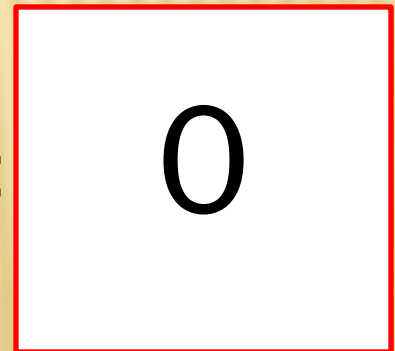
У Насти было 3
цветочка. Все свои
цветы она подарила
Алене. Сколько цветов
у нее осталось?



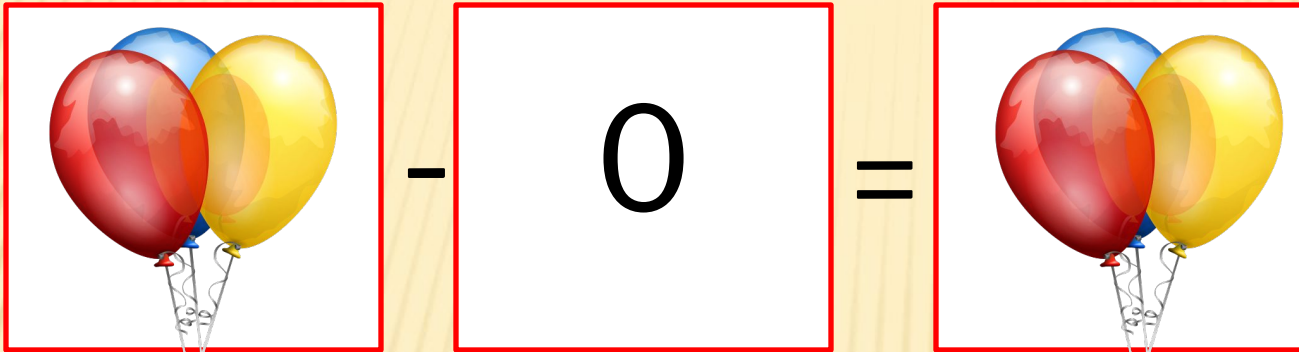
-



=



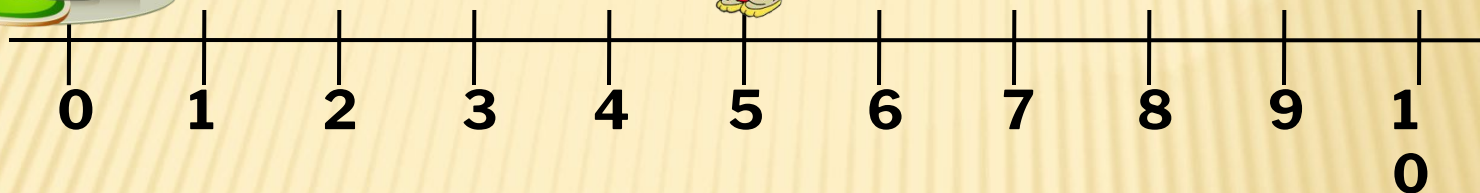
РЕШИТЕ ЗАДАЧУ



А у Пети было 3 шарика. И он ими ни с кем не поделился. Сколько осталось шариков у Пети?

$$3 - 0 =$$
$$3$$

РЕШИТЕ ПРИМЕРЫ ВМЕСТЕ С ЗАЙЧИКОМ



$$5 - 1 = 4$$

$$2 - 1 = 1$$

$$4 - 1 = 3$$

$$1 - 1 = 0$$

$$3 - 1 = 2$$

Если из числа
вычесть то же
самое число, то
получится НОЛЬ

0 1 2 3 4 5 6 7 8 9

0 < ? 0 > ?

Назовите соседа(-ей) числа

0

10	
9	1
8	2
4	6
3	7
6	4
10	0

ЗАСЕЛИТЕ
ДОМИК

НАБЕРИТЕ ЧИСЛА

8

1	3	6
5	2	0
8	7	4

9

3	5	7
2	4	8
1	0	9