


**«Сложение и вычитание.
Таблица сложения.
Нахождение значения
числового выражения».**



Презентацию подготовила
учитель начальных классов
МБОУ «СОШ № 39»
г. Набережные Челны
Стрицына Инна Леонидовна.

• Устный счёт-
гимнастика
для ума



1. Назовите самое большое и самое маленькое из этих чисел.

12

11

18

16

15

20

8

10

11

9

2. Сравните числа. Устно.

9

...

11 - 2

1 дм

...

9 см

9

...

10 - 0

1 дм

...

10 см

Логические задания!

$$2x - 17x = -15x$$

2

$$\frac{z-x^2}{y} \cdot \frac{x^2}{(x-1)}$$

$$E = mc^2$$

$$y^z + x = xy^2$$

$$\frac{a+1}{b-2} + \frac{a^2+b}{3}$$

$$\frac{z^2+y}{a-b}$$

$$3a+2b = 5ab$$

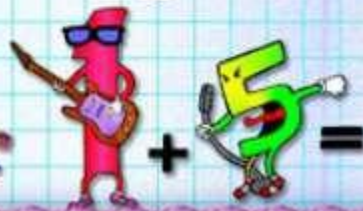
6

$$\frac{2x-3}{7-x}$$

$$\frac{a+b}{c} =$$

5

$$\frac{2x+3x}{y}$$




1) **Вспомни состав числа 10 и ответь на вопрос задачи.**

За карандаш и ластик заплатили 10 рублей. Карандаш на 4 рубля дороже ластика. Сколько стоит ластик? Сколько стоит карандаш?

Ответ:

3 руб.

7 руб.



**2. У Юли два яблока, две половинки и четыре четвертинки.
Сколько яблок у Юли?**




Ответ: 4 яблока.

**3. Боре 6 лет, а его брату 5 лет.
На сколько Боря будет старше
брата через 8 лет?**



Ответ: на 1 год старше.

Работа в тетради



- Откройте учебник и прочитайте задачу на странице 89 № 3.

Андрей и Сергей решили испытать себя в качестве вратарей. Каждый из них пробил 10 мячей в ворота противника. Андрей отбил 6 мячей, а Сергей - 8. Сколько голов забил в ворота каждый мальчик? Кто из них забил больше голов и на сколько?



- Что значит каждый мальчик пробил в ворота противника по 10 мячей?

(Ответ: Андрей пробил 10 мячей в ворота противника.

Сергей пробил 10 мячей в ворота противника.

- Сколько мячей отбил Андрей?

(Ответ: 6 мячей отбил Андрей.)

- Сколько мячей отбил Сергей?

(Ответ: 8 мячей отбил Сергей.)



- Рассмотрите краткую запись в виде таблицы.

	Пробил мячей	Отбил мячей	Андрей
Андрей	10 мячей	6 мячей	? мячей
Сергей	10 мячей	8 мячей	? мячей

на?

- Составим план решения этой задачи.

- Узнаем сначала, сколько мячей забил Сергей.

- Сергей пробил в ворота 10 мячей, но Андрей смог отбить 6 его мячей, значит ...

- Затем узнаем, сколько мячей забил Андрей.

- Андрей пробил в ворота 10 мячей, но Сергей смог отбить 8 его мячей, значит ...

В первом действии мы узнаем, сколько мячей забил Сергей.

Во втором действии мы узнаем, сколько мячей забил Андрей.

В третьем действии мы сравним количество забитых голов.

Запишите в тетради только решение задачи по действиям.

1) $10 - 6 = 4$ (гола) – забил Сергей.

2) $10 - 8 = 2$ (гола) – забил Андрей.

3) $4 - 2 \overset{\text{на}}{=} 2$ (гола) – Сергей забил больше, чем Андрей.

Ответ: 4гола, 2 гола, на 2 гола больше.





Самостоятельная работа

По учебнику:

Устно:

С. 89 № 2.

С. 89 № 5.



Письменно:

С. 89 № 1.

С. 89 № 6.

Рабочая тетрадь - стр. 41.



**Спасибо
за работу!
Вы молодцы!**