



«География Московского столичного региона»



Территория, границы, ЭГП.

Московский столичный регион

включает в себя два субъекта федерации

Город -герой
Москва

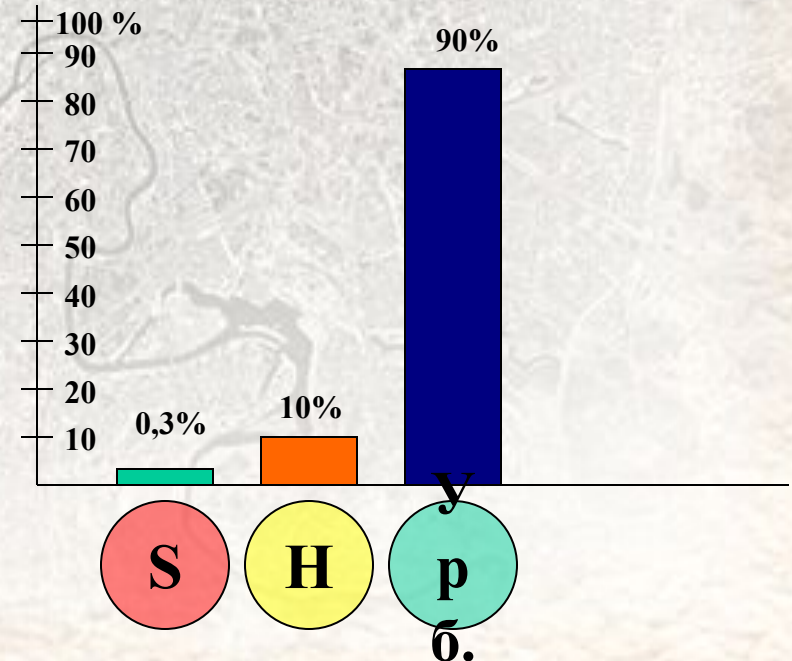
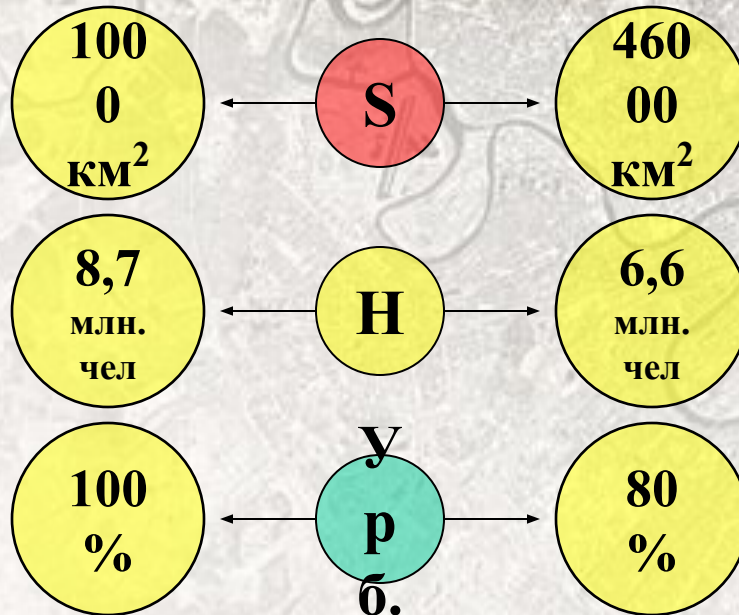
Московская
область



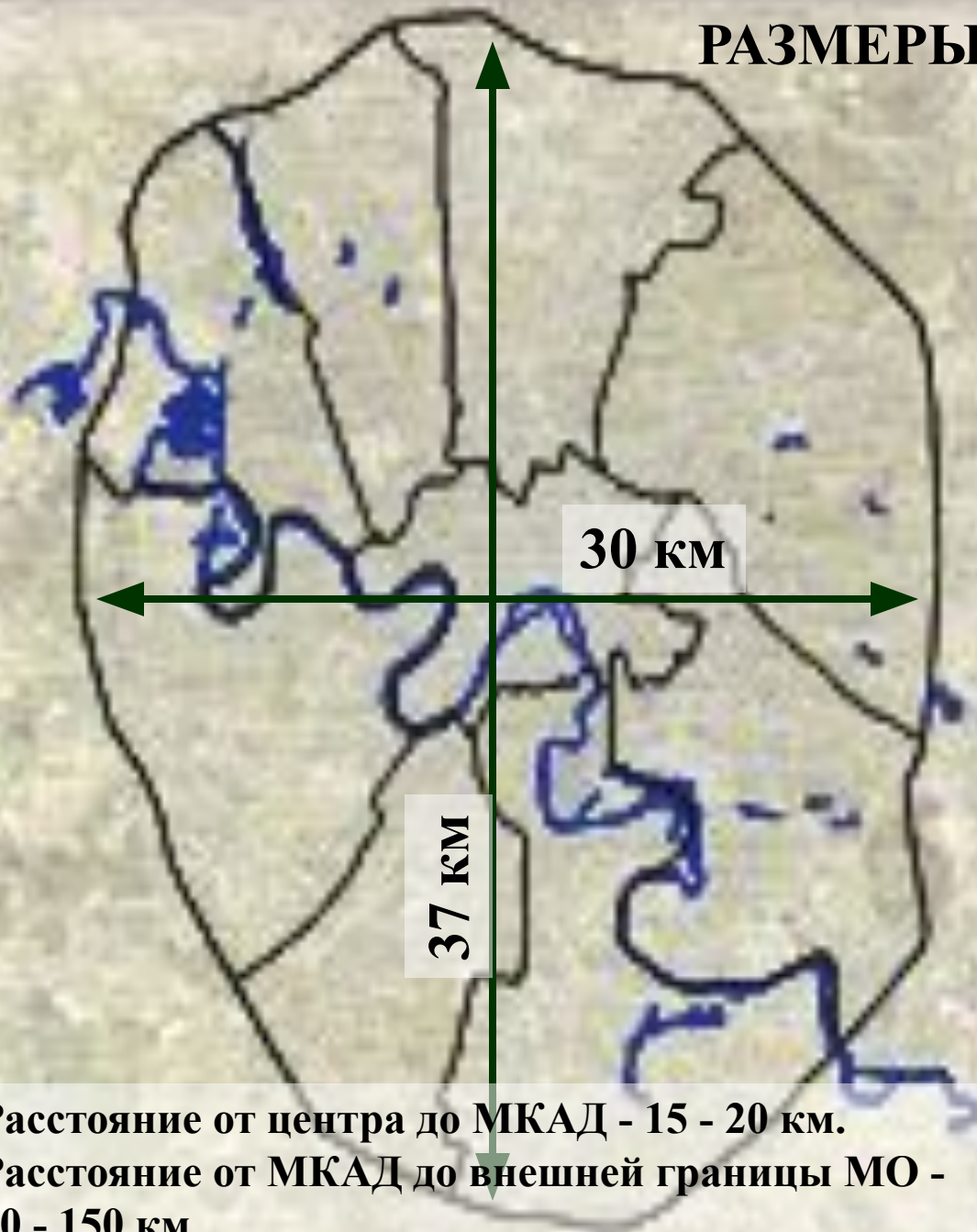
ОБЩАЯ ХАРАКТЕРИСТИКА

$$P_{(\text{Москва})} = 7000 \text{ ч/км}^2$$

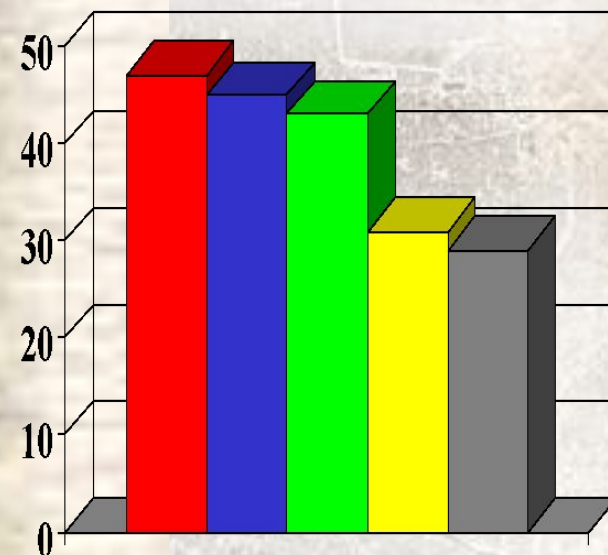
$$P_{(\text{МО})} = 140 \text{ ч/км}^2$$



РАЗМЕРЫ ТЕРРИТОРИИ ГОРОДА МОСКВЫ.



Расстояние от центра до МКАД - 15 - 20 км.
Расстояние от МКАД до внешней границы МО - 50 - 150 км.



Территория МСР в сравнении с зарубежными государствами и некоторыми обл. РФ (тыс. кв. км)

- МСР
- Эстония
- Дания
- Бельгия
- Владимирская обл.

АДМИНИСТРАТИВНО-ТЕРРИТОРИАЛЬНОЕ ДЕЛЕНИЕ МОСКВЫ.

- I Центральный АО
- II Северный АО
- III Северо-Восточный АО
- IV Восточный АО
- V Юго-Восточный АО
- VI Южный АО
- VII Юго-Западный АО
- VIII Западный АО
- IX Северо-Западный АО
- X Зеленоградский АО



ЭГП.

МСР находится в Центральном федеральном округе и в Центральном экономическом районе. Важнейшая особенность ГП МСР - наличие на его территории столицы страны.

МСР граничит с 7 областями.

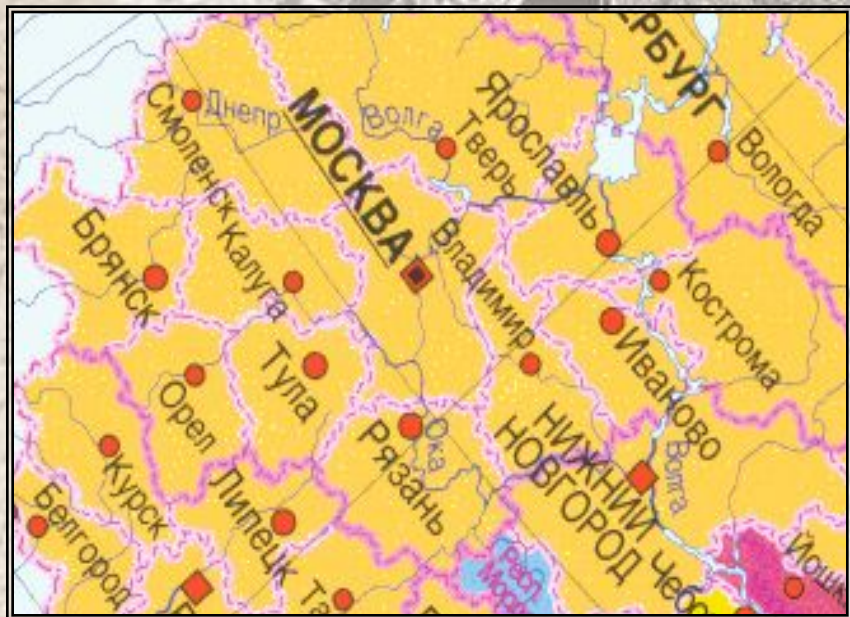
Пользуясь картой, назовите эти области.

ОСОБЕННОСТИ ЭГП:

**1. Столичное
положение**

**2. Центральное
транспортно-
географическое
положение**

**Это определило размещение в МСР
высших органов власти, иностранных
посольств, учреждений культуры и
науки.**





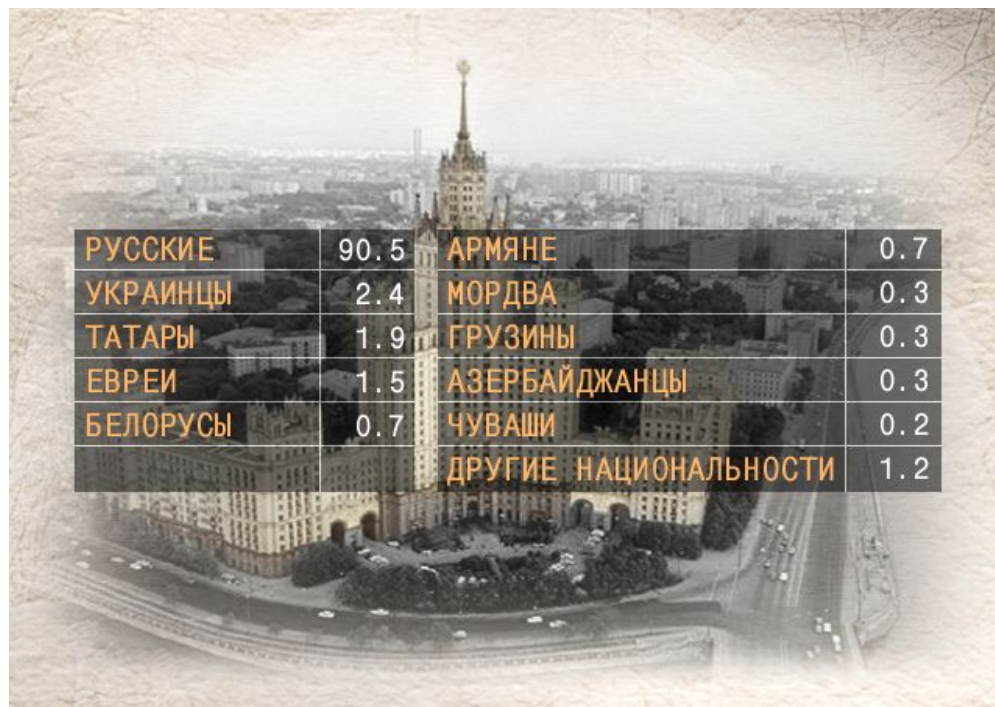
Москва - крупнейший транспортный узел



Тема: “Население Московского столичного региона”.

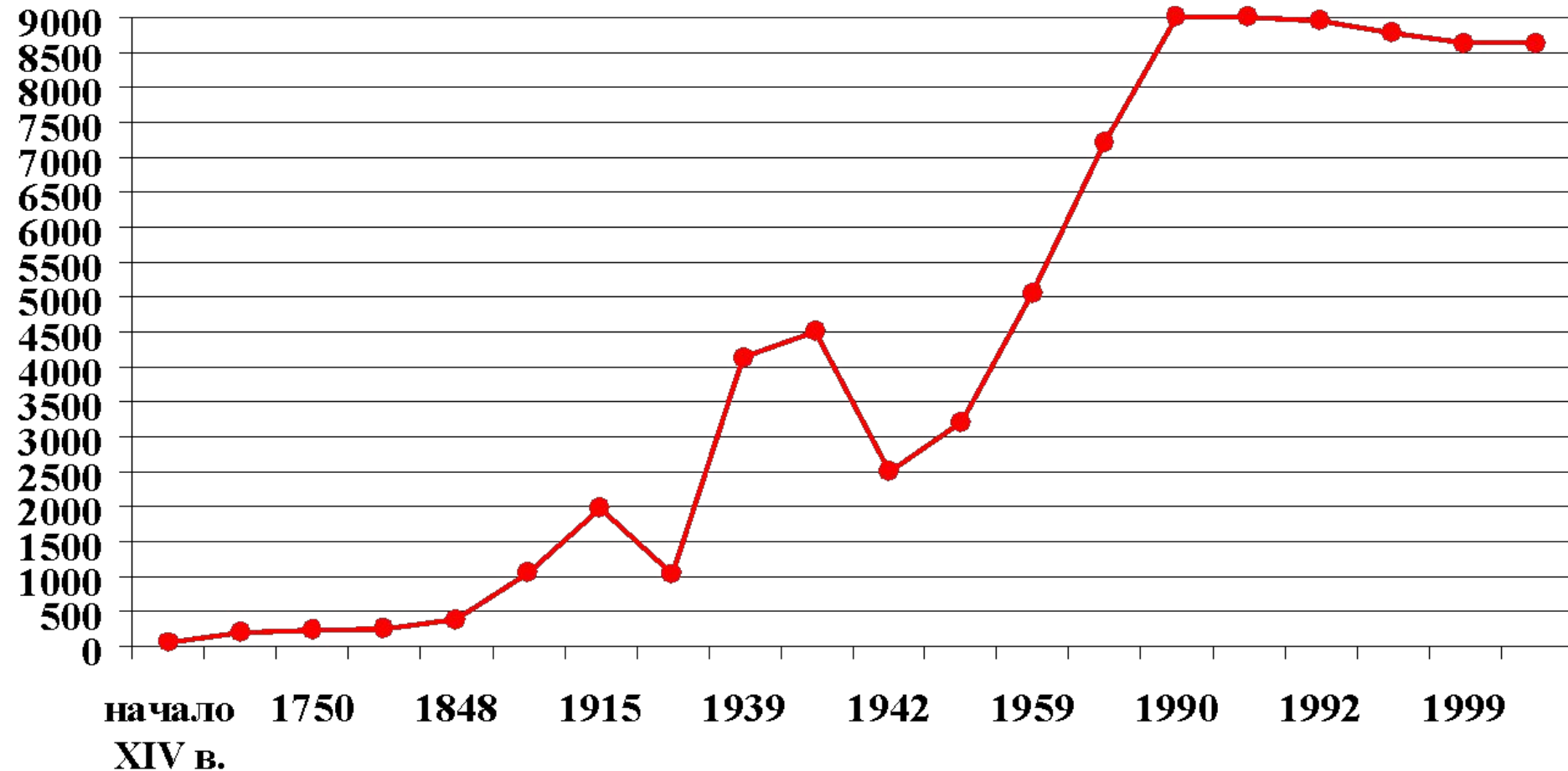
Задачи урока:

1. Используя графики и диаграммы, проследить изменение численности населения МСР.
2. Проанализировать половозрастные пирамиды МСР.
3. Изучить размещение населения МСР. Выделить крупнейшие города МСР.




Динамика изменения численности населения Москвы.

—●— тыс. чел.



Проанализируйте график. Во сколько раз увеличилась численность населения Москвы в XX в.? Объясните причины образования демографических волн в XX в. Как по - вашему мнению изменится численность населения Москвы в ближайшие годы.

Диаграмма: *Распределение населения МСР по основным возрастным группам (в %).*



- до 16 лет 18
- от 16 до 54 (59) лет 58
- старше трудоспособного возраста 24

**Как распределено население по основным возрастным группам?
Если различия между МСР и Россией в целом? Как вы можете
объяснить эти различия?**

Национальный состав МСР.

РУССКИЕ	90.5	АРМЯНЕ	0.7
УКРАИНЦЫ	2.4	МОРДВА	0.3
ТАТАРЫ	1.9	ГРУЗИНЫ	0.3
ЕВРЕИ	1.5	АЗЕРБАЙДЖАНЦЫ	0.3
БЕЛОРУСЫ	0.7	ЧУВАШИ	0.2
		ДРУГИЕ НАЦИОНАЛЬНОСТИ	1.2

Проанализируйте рис. 18. Какие особенности половозрастного состава населения Москвы и Московской области вы можете назвать?

Назовите крупнейшие города МСР. В каких частях области сосредоточено большинство городских поселений.