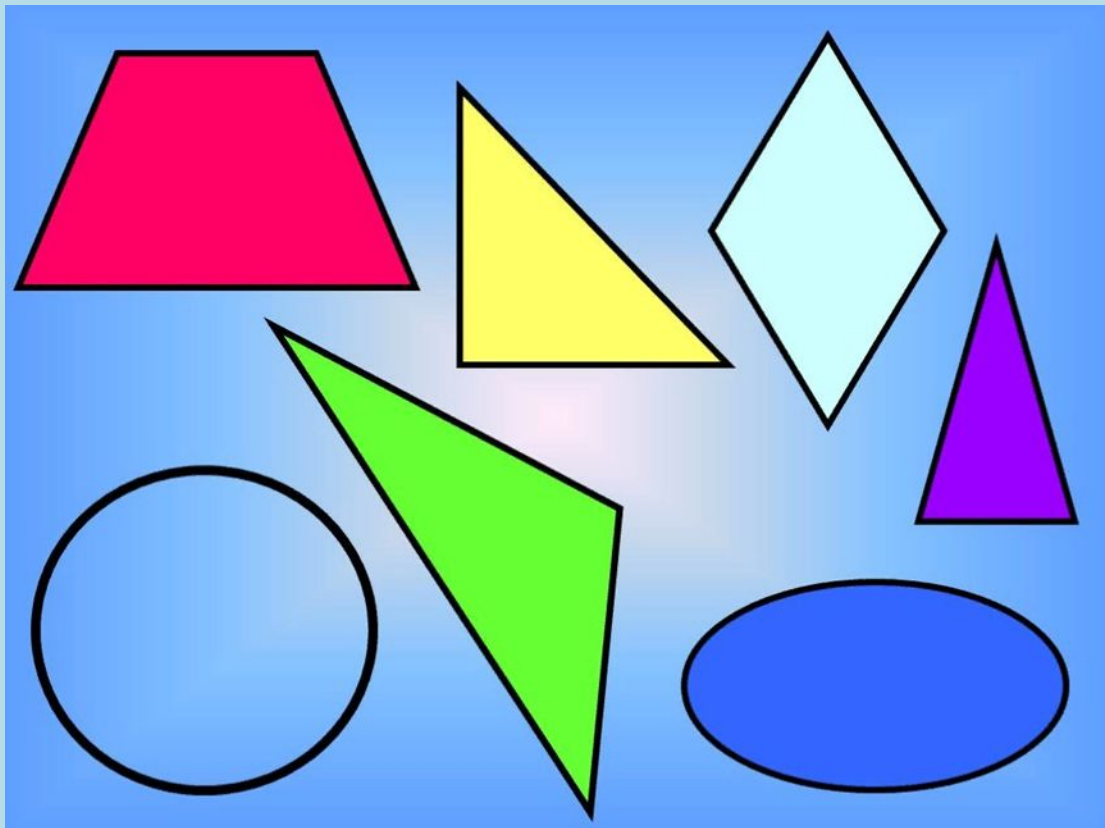


**Волшебная
страна -**

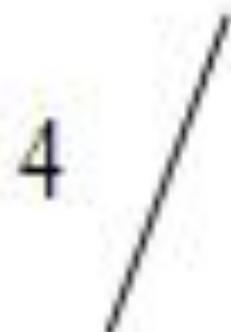


Геометрия

Отгадай загадку





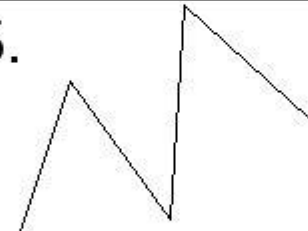


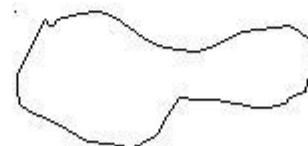
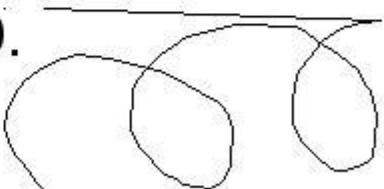
Под линейку я рисую
Очень ровную, простую
Всем заметную черту.
Как фигуру назову?
Не спеши, а рассуждай
И ответ скорее дай.





Поупражняемся!

В таблице приведены примеры линий, ломаных. Опишите каждую.

1. 	4. 	7. 
2. 	5. 	8. 
3. 	6. 	9. 

Раз, два, три, четыре, пять!

Будем прыгать и скакать! (Прыжки на месте)

Наклонился правый бок. (Наклоны туловища влево-вправо.)

Раз, два, три.

Наклонился левый бок.

Раз, два, три.

А сейчас поднимем ручки (Руки вверх.)

И дотянемся до тучки.

Сядем на дорожку, (Присели на пол.)

Разомнем мы ножки.

Согнем правую ножку, (Сгибаем ноги в колене)

Раз, два, три!

Согнем левую ножку,

Раз, два, три.

Ноги высоко подняли (Подняли ноги вверх.)

И немного подержали.

Головою покачали (Движения головой.)

И все дружно вместе встали. (Встал)



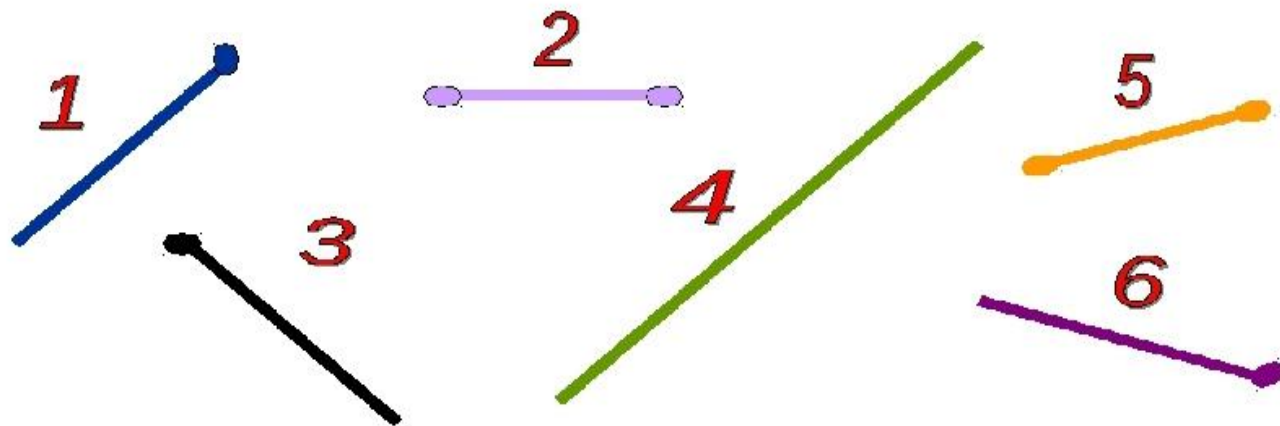






Закрепление изученного:

Найдите луч, отрезок, прямую.



Объясните свой выбор.