

1. Во второй четверти XV в. в Северо-Восточной Руси шла война между членами московского великокняжеского дома. Назовите великого князя, который три раза терял московский престол и был изгнан из столицы, но всё же сумел остаться в этой войне победителем. Кто из двоюродных братьев этого великого князя ослепил его и взял в плен? Почему соперники великого князя три раза занимали московский престол, но так и не смогли удержать за собой власть? Назовите одну любую причину.

Вам необходимо написать историческое сочинение об ОДНОМ из периодов истории России: ноябрь 1796 г.– март 1801 г.

В сочинении необходимо:

– указать не менее двух значимых событий (явлений, процессов), относящихся к данному периоду истории;

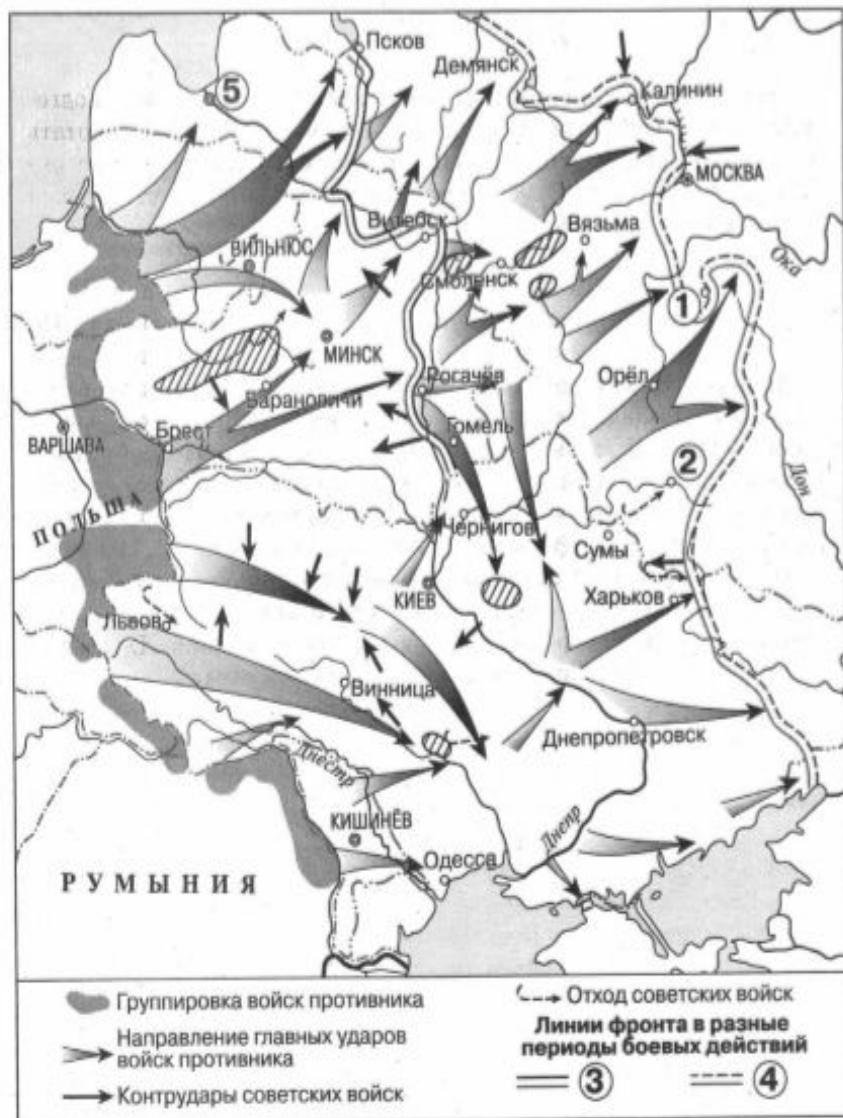
– назвать две исторические личности, деятельность которых связана с указанными событиями (явлениями, процессами), и, используя знание исторических фактов, охарактеризовать роли названных Вами личностей в этих событиях (явлениях, процессах);

***В н и м а н и е!* при характеристике роли каждой названной Вами личности необходимо указать конкретные действия этой личности, в значительной степени повлиявшие на ход и (или) результат указанных событий (процессов, явлений).**

– указать не менее двух причинно-следственных связей, характеризующих причины возникновения событий (явлений, процессов), происходивших в данных период;

– используя знание исторических фактов и (или) мнений историков, оцените влияние событий (явлений, процессов) данного периода на дальнейшую историю России.

В ходе изложения необходимо корректно использовать исторические термины и



13) Укажите название месяца, когда началось контрнаступление Красной армии от линии фронта, обозначенной в легенде схемы цифрой «4».

14) Укажите название города, обозначенного на схеме цифрой «1».

15) Укажите фамилию командующего Западным фронтом Красной армии на начальном этапе военных действий, обозначенных на схеме стрелками.

16) Какие суждения, относящиеся к схеме, являются верными? Выберите три суждения из шести предложенных. Запишите в таблицу **цифры**, под которыми они указаны.

1) По наименованию города, обозначенного на схеме цифрой «2», названа одна из крупнейших битв Великой Отечественной войны.

2) Военные действия, обозначенные на схеме стрелками, начались в мае.

3) Город, обозначенный на схеме цифрой «5», вошёл в состав СССР в 1940 г.

4) Линия фронта, обозначенная в легенде схемы цифрой «3», образовалась в середине сентября.


5) На схеме обозначены котлы — окружения, в которые попадали части Красной армии.

6) Все города, обозначенные и подписанные на данной схеме, в настоящее время имеют те же названия.



- 1 Заполните пропуск в предложении: «На схеме обозначена граница Древнерусского государства в начале _____ века». Ответ запишите словом.
 Ответ: _____
- 2 Укажите название восточнославянского племенного союза, территория расселения которого обозначена в легенде схемы цифрой «3».
 Ответ: _____
- 3 Заполните пропуск в предложении: «Стрелками с двойными надсечками «←←» на схеме обозначен поход, состоявшийся во второй половине _____ века». Ответ запишите словом.
 Ответ: _____
- 4 Укажите название города, обозначенного на схеме цифрой «6».
 Ответ: _____
- 5 Назовите государство, разгромленное в результате отмеченных на схеме походов, территория которого обозначена цифрой «8».
 Ответ: _____
- 6 Укажите название города, обозначенного на схеме цифрой «9».
 Ответ: _____
- 7 Какие суждения, относящиеся к схеме, являются верными? Выберите четыре суждения из девяти предложенных. Запишите в таблицу **цифры**, под которыми они указаны.
 - 1) Согласно Повести временных лет, в городе, обозначенном на схеме цифрой «4», в конце IX в. княжил варяг Синеус.
 - 2) На схеме обозначена и подписана территория расселения кочевых племён, в столкновении с которыми погиб князь Святослав Игоревич.
 - 3) На схеме обозначен и подписан город, в бухте которого в 1853 г. русская эскадра Черноморского флота под командованием вице-адмирала П. С. Нахимова разгромила турецкую эскадру.
 - 4) Упадок торговли по пути, обозначенному на схеме, стал одной из предпосылок объединения восточнославянских племенных союзов в единое Древнерусское государство.
 - 5) Согласно Повести временных лет, для ознаменования успешного завершения похода киевский князь Олег повесил свой щит над воротами города, обозначенного на схеме цифрой «7».
 - 6) Все походы, обозначенные на схеме стрелками без надсечек «←», произошли в период правления в Киеве одного и того же князя.
 - 7) Согласно Повести временных лет, восточнославянский племенной союз, территория которого обозначена в легенде схемы цифрой «1», во второй половине IX в. платил дань варягам.
 - 8) Цифрой «2» в легенде схемы обозначена территория расселения восточнославянского племенного союза.
 - 9) Согласно Повести временных лет, город, обозначенный на схеме цифрой «5», был основан киевским князем в первой половине XI в.

Какие суждения о данной иллюстрации являются верными? Выберите два суждения из пяти предложенных



- 1) Историческая ситуация, представленная на иллюстрации, возникла в период Смуты.**
- 2) Историческая ситуация, представленная на иллюстрации, разрешилась установлением единоличной власти одного из монархов, сидящих на троне.**
- 3) В левой части иллюстрации помещено изображение матери монархов, представленных в центральной части иллюстрации.**
- 4) Один из монархов, сидящих на троне, стал императором.**
- 5) Один из исторических деятелей, чьи изображения представлены на иллюстрации, первым из правителей Российского государства венчался на царство.**



13 Укажите название месяца, когда началось наступление Красной армии от линии фронта, обозначенной в легенде схемы цифрой «4».

Ответ: _____.

14 Укажите название города, обозначенного на схеме цифрой «3».

Ответ: _____.

15 Укажите название города, обозначенного цифрой «1», в период, к которому относится данная схема.

Ответ: _____.

16 Какие суждения, относящиеся к схеме, являются верными? Выберите три суждения из семи предложенных. Запишите в таблицу **цифры**, под которыми они указаны.

1) Ростов-на-Дону был освобождён от гитлеровцев раньше конца марта 1943 г.

2) В период, когда произошли события, обозначенные на схеме, была частично прорвана блокада Ленинграда.

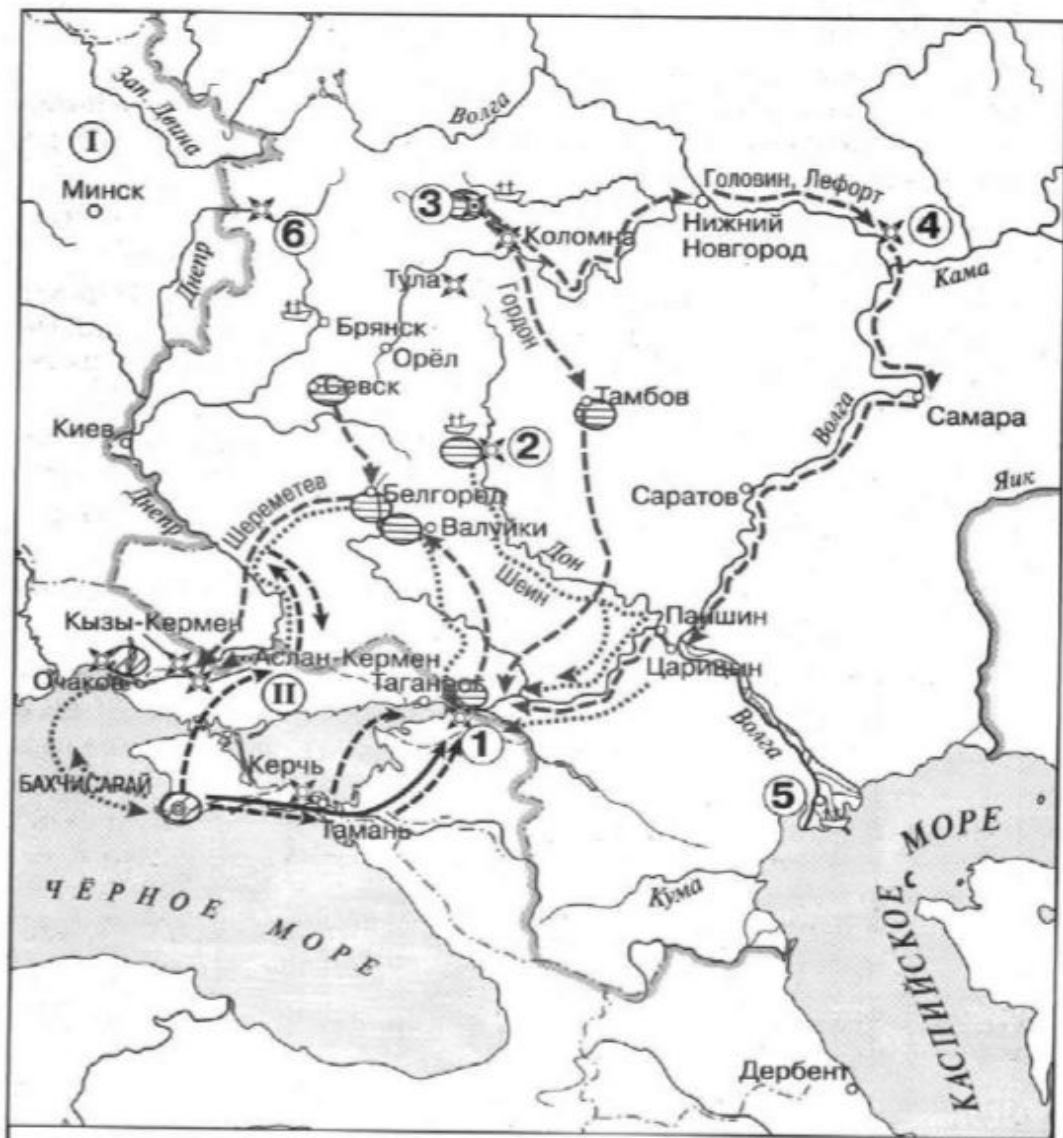
3) Днепропетровск был освобождён от гитлеровцев раньше конца марта 1943 г.

4) Цифрой «2» на схеме обозначена Тула.

5) В ходе боевых действий, обозначенных на схеме, Красная армия освободила Львов.

6) На схеме обозначены действия Красной армии в ходе операции «Багратион».

7) На схеме обозначены действия Красной армии в ходе операции «Уран».



Действия войск

- 1695 г. 1696 г.
- \dashrightarrow $\cdots\cdots\rightarrow$ русских войск и их союзников
 - \rightarrow \dashrightarrow противника

Судостроительные верфи

Районы сосредоточения войск

- русских войск и их союзников
- противника
- Крепости

- 1 Назовите российского монарха, в годы правления которого произошли события, отражённые на схеме.
 Ответ: _____.
- 2 Укажите название города, обозначенного на схеме цифрой «3».
 Ответ: _____.
- 3 Назовите государство, против которого российским монархом была организована военная кампания, отражённая на схеме.
 Ответ: _____.
- 4 Заполните пропуск в предложении: «Города, обозначенные на схеме цифрами «4» и «5», были присоединены к Российскому государству в годы правления царя _____».
 Ответ: _____.
- 5 Какие суждения, относящиеся к схеме, являются верными? Выберите семь суждений из десяти предложенных. Запишите в таблицу **цифры**, под которыми они указаны.
 - 1) Город, обозначенный на схеме цифрой «1», Россия была вынуждена оставить по итогам Прутского похода российской армии.
 - 2) На верфях города, обозначенного цифрой «2», было развёрнуто масштабное строительство военных кораблей, благодаря которым российские войска добились успеха в военной кампании, отражённой на схеме.
 - 3) Государство, обозначенное римской цифрой «II», было союзником Российского государства во время событий, отражённых на схеме.
 - 4) На схеме обозначен город, в котором Дмитрий Донской собирал войска перед Куликовской битвой.
 - 5) В период событий, отражённых на схеме, строительство военных кораблей было сосредоточено только в одном городе.
 - 6) На схеме указаны имена двух руководителей Великого посольства.
 - 7) На схеме обозначены города, в честь освобождения которых в годы Великой Отечественной войны в Москве был дан первый победный салют.
 - 8) Город, обозначенный цифрой «6», впервые вошёл в состав Российского государства в том же веке, когда произошли события, отражённые на схеме.
 - 9) Государство, обозначенное на схеме римской цифрой «I», входило вместе с Российским государством в Северный союз.
 - 10) На схеме обозначен город — центр формирования Второго ополчения в период Смуты.

В исторической науке существуют дискуссионные проблемы, по которым высказываются различные, часто противоречивые, точки зрения. Ниже приведена одна из спорных точек зрения, существующих в исторической науке:

"Перерождение партии, ликвидация внутрипартийной демократии начались ещё при Ленине, Сталин лишь продолжил ленинскую политику в этом направлении. "

Используя исторические знания, приведите два аргумента, которыми можно подтвердить данную точку зрения, и два аргумента, которыми можно опровергнуть её.

Ответ запишите в следующем виде.

***Аргументы в подтверждение:
опровержение:***

1) ...

2) ...

Аргументы в

1) ...

2) ...

В исторической науке существуют дискуссионные проблемы, по которым высказываются различные, часто противоречивые, точки зрения. Ниже приведена одна из спорных точек зрения, существующих в исторической науке, на события "кровавого воскресения":

Организаторы шествия к Зимнему дворцу сознательно стремились спровоцировать применение силы со стороны власти.

Используя исторические знания, приведите два аргумента, которыми можно подтвердить данную точку зрения, и два аргумента, которыми можно опровергнуть её.

Аргументы в подтверждение: Аргументы в опровержение:

1) ...

1) ...

2) ...

2) ...

В 1601 году из России в Польшу бежал монах Чудова монастыря Григорий Отрепьев. Он объявил себя чудом спасшимся царевичем Дмитрием. Осенью 1604 года он вторгся в пределы России, имея всего около четырех тысяч казаков и поляков. В 1605 году он взошел на трон. Объясните, чем был вызван успех Лжедмитрия I в борьбе за власть? Приведите три объяснения.

Первый период правления Ивана IV (вторая половина 40-х – 50-е гг. XVI в.) был ознаменован сотрудничеством царя с Избранной радой и отсутствием серьёзных конфликтов с земельной аристократией в решении задач внутренней и внешней политики.

Какие причины вызвали обострение и углубление конфликта между царём и его ближайшим окружением, между Иваном IV и княжеско-боярской аристократией, царём и отдельными городами страны в последующий период его правления (60-70-е гг. XVI в.)? Приведите не менее 3-х объяснений.