


# Координаты на прямой

Урок математики в 6 классе  
МКОУ Свободненская сош  
Торопова Л.М.

**Лень и плохое настроение  
умножим на ноль!**



# Вычислите:

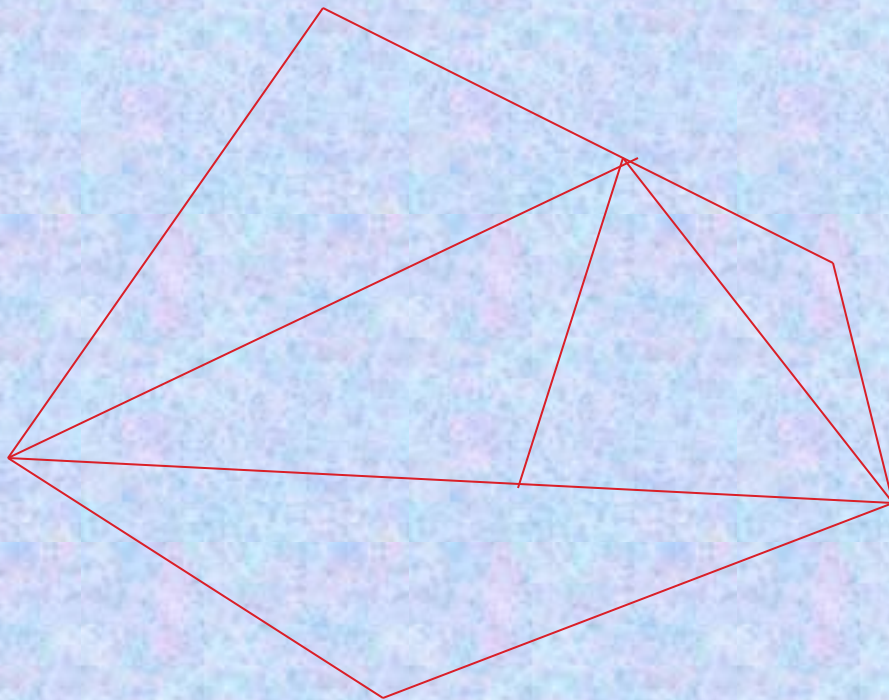
$$\begin{array}{r} 6 : 12 \\ \times 1,6 \\ - 0,35 \\ + 0,15 \\ : 4 \\ \hline ? \end{array}$$

$$\begin{array}{r} 5 \times 1,4 \\ - 3,2 \\ : 0,2 \\ \times 0,4 \\ + 2,4 \\ \hline ? \end{array}$$

$$a) 3,5 : 7 \times (0,6 + 0,4)$$

$$б) 3,15 \times (4,2 : 3 - 3,2 : 3)$$

# Сколько треугольников на рисунке





Используя знаки «+» и «-», запиши:

а)  $5^{\circ}$  мороза;

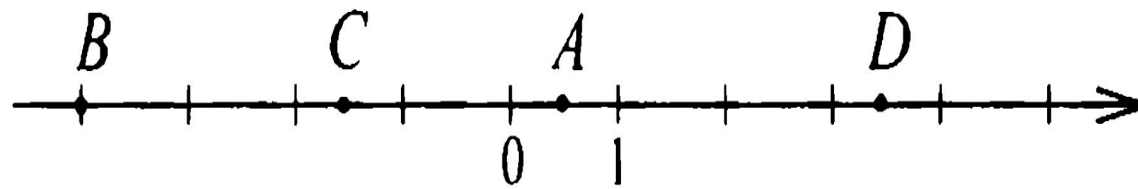
б)  $17^{\circ}$  тепла;

в) 3 пропущенных мяча;

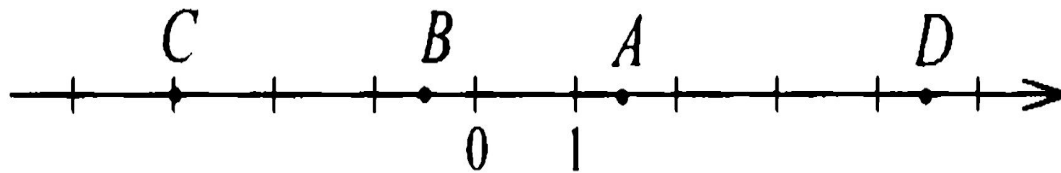
г) подъем воды от начального уровня на 4 метра;

д) высота горы 3000 м над уровнем океана.

Запиши координаты точек  $A$ ,  $B$ ,  $C$  и  $D$ , изображенных на рисунке:



Запиши координаты точек  $A$ ,  $B$ ,  $C$  и  $D$ , изображенных на рисунке:





Диофант Александрийский

Автор учебника  
математики Арифметика в  
13 книгах (6 сохранились)



# Тест

1. Термометр показывает температуру  $3^{\circ}$ . Какую температуру будет показывать термометр, если температура понизится на  $2^{\circ}$ .

А:  $3^{\circ}$       Б:  $5^{\circ}$       В:  $1^{\circ}$

2. Число 0 является:


А: положительным числом

Б: отрицательным числом

В: ни положительным, ни отрицательным числом.

3. Какое из чисел  $4,5$ ;  $0,3$ ;  $-4,5$ ;  $-0,3$  расположено на координатной прямой правее других?

А.  $-4,5$       Б.  $0,3$       В.  $4,5$       Г.  $-0,3$



Спасибо за урок