

Решение задач изученных видов



Школа России
Математика 1 класс



Начинается урок.

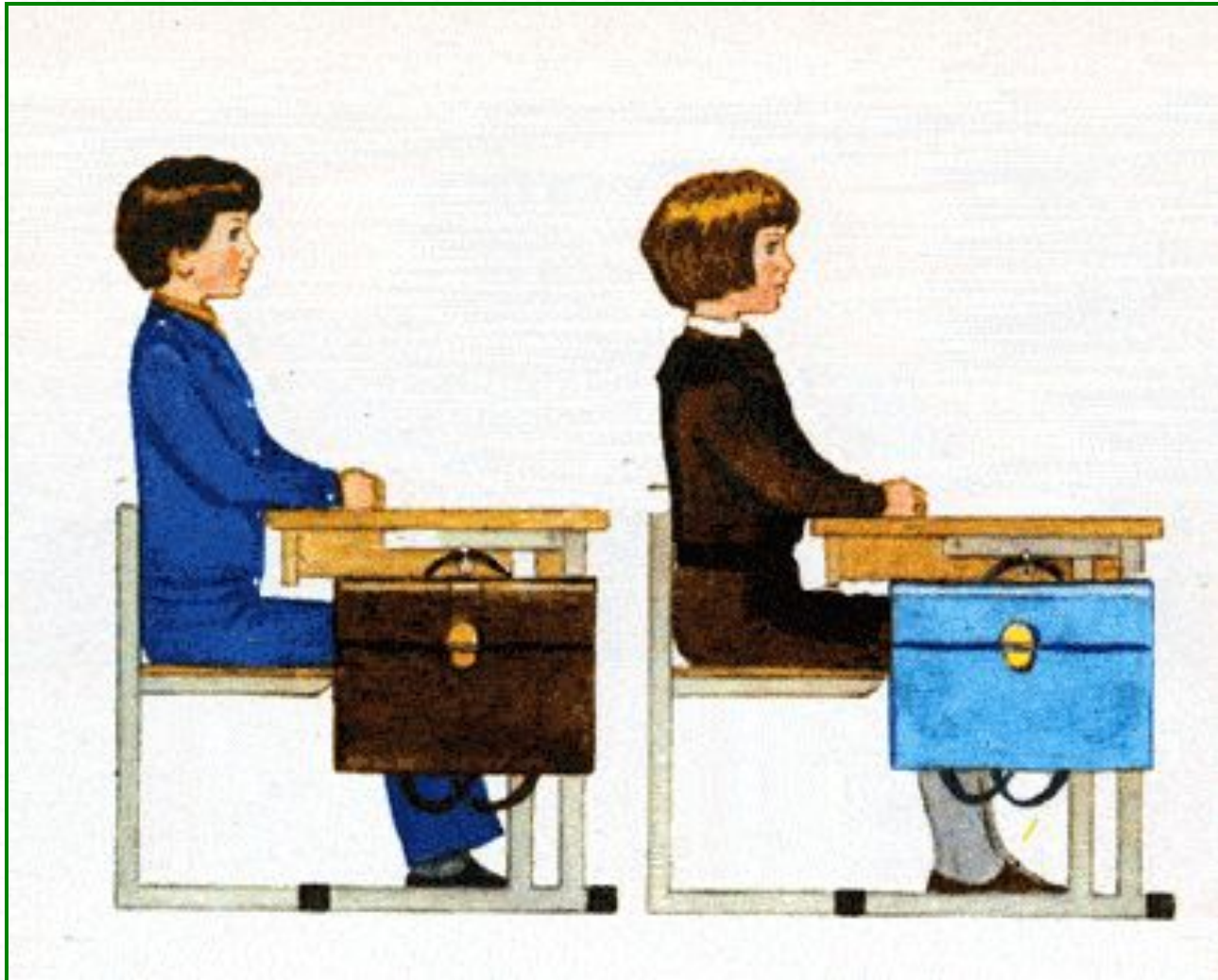
Он пойдёт ребятам впрок.

Постарайтесь всё понять.

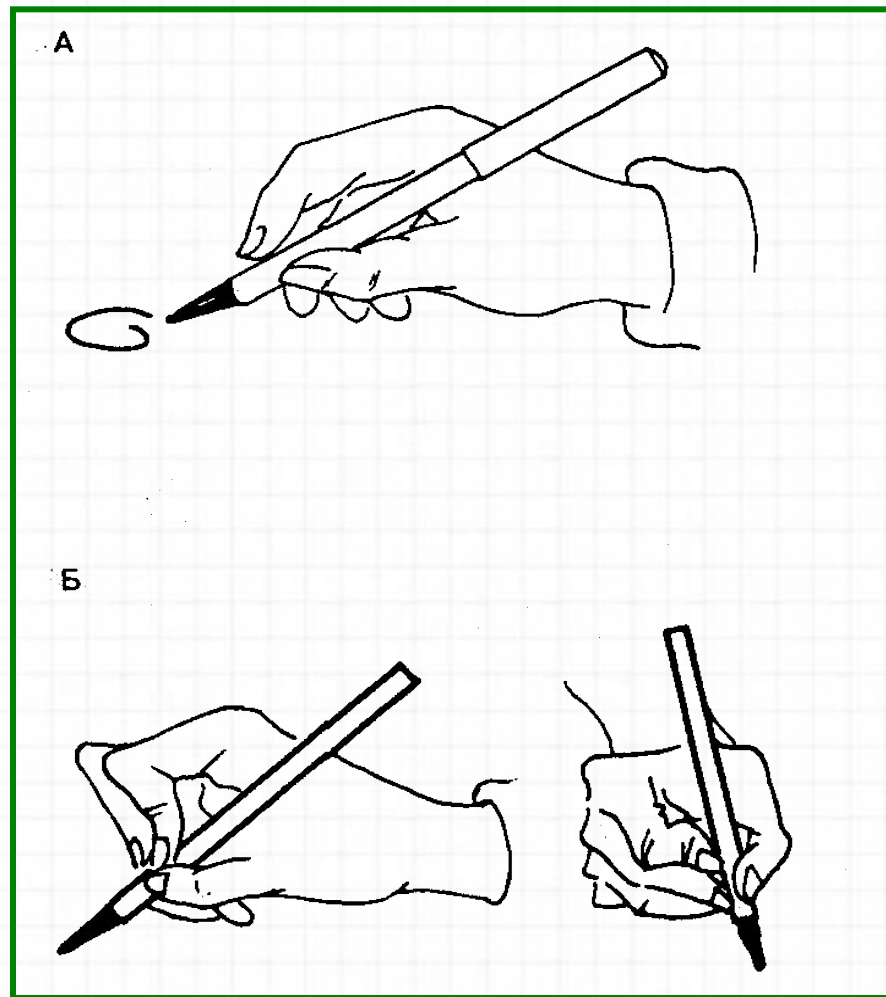

Будем правильно считать.



Правильно седи при писъме



Правильно держи ручку





Устный счёт


Вычисли:

$$8+1-3=$$

$$7-3+6=$$

$$8+1-4=$$

$$9-6+5=$$





Дорогой друг!
Кто считает лучше – ты или Маша?
Предлагаю соревнование:
кликай по волшебной ромашке и решай
примеры. Отвечай быстрее
или Маша опередит
Желаю удачи!
Миш




начать





Кликай мышкой по лепесткам ромашки!

12





Ребята!

Помогите нам с Машей решить примеры . Для этого нужно нажать на кнопку «Старт» и решить пример




СТА
РТ



20

19

18






СТА
РТ



20

19

18






СТА
РТ



16

17

18






16



19

18

СТА
РТ






СТА
РТ



14

13

12






СТА
РТ

14


13

12





СТА
РТ






СТА
РТ



15

17

19






СТА
РТ

15

17

19






СТА
РТ



11

13

14






СТА
РТ

11

13

14






СТА
РТ

11

13

14





Спасибо

за

ПОМОЩЬ!



Слагае мое	9	8	7	6	9	7
Слагае мое	6	8	6	5	9	4
Сумма						



Физкультминутка




Нажми на ссылку:

<https://youtu.be/O8qAc89TgyE>

19 мая.

**Открой тетрадь,
запиши число.**



Вставь пропущенные числа. Запиши примеры в тетрадь. Подчеркни вставленные числа.



$$\square - 4 = 6$$

$$9 - \square = 6$$

$$11 - \square = 8$$

$$\square + 4 = 9$$

Реши задачу и запиши её в тетрадь.

Миша поймал 16 рыбок, а Маша на 7 рыбок меньше. Сколько рыбок поймала Маша?



Краткая запись №6.

Реши задачу и запиши её в тетрадь.

**У Маши 9 ягод , а у Миши 5 ягод.
Сколько всего ягод у них вместе?**



Краткая запись №1.

Реши задачу и запиши её в тетрадь.

**Миша испек 10 пирожков. 4 пирожка
Маша съела. Сколько осталось
пир**



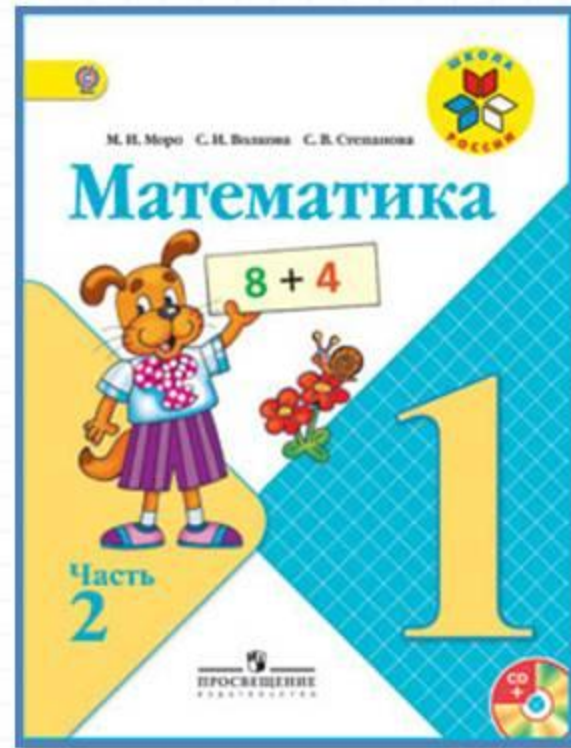

Краткая запись №3.

Физминутка для глаз






Работа по учебнику



стр.102

Реши № 7– реши примеры, запиши в тетрадь.(не забудь написать промежуточные результаты над первым действием)



7. $8 + 2 + 3$
 $9 + 1 + 3$

$$16 - 6 - 3$$
$$12 - 2 - 4$$

$$7 + 3 + 5$$
$$6 + 4 + 5$$

Сколько всего прибавили к числу или

Начерти отрезок длиной 9 см.




Помни ! Отрезки черти простым карандашом!

Оцени себя в тетради.




Задания на смекалку





Найди отличия на картинках.

Рефлексия



- Оцените свою работу на уроке**
- «!»- молодец, выполнил всё верно.
 - «+» – хорошо, ошибся совсем немного.
 - «-» с заданием пока не справился.





