



*«Думай,
считай,
отвечай»*



MyShared



«Отвечай-ка»

10

2

11

7

9

1

3

1

15

1

4

5

13

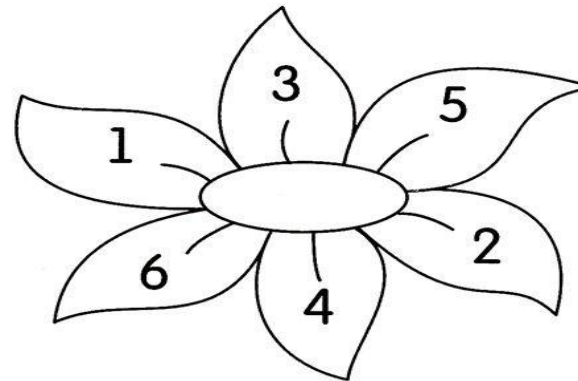
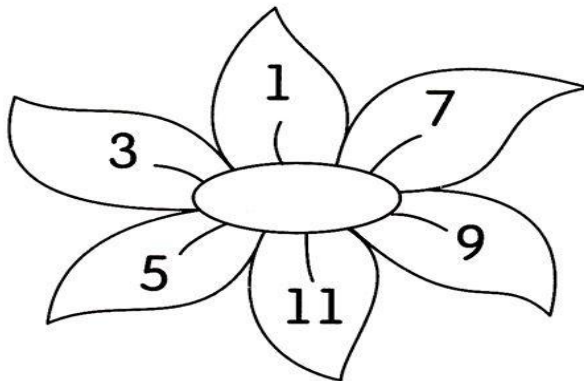
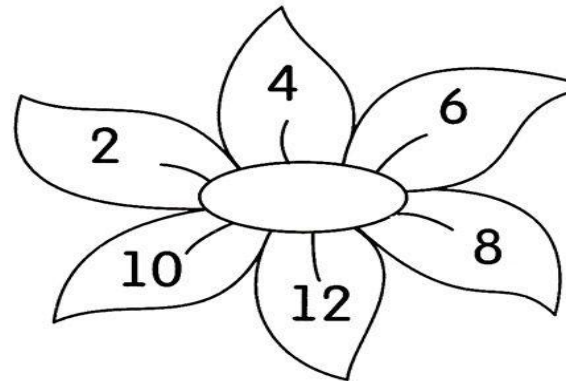
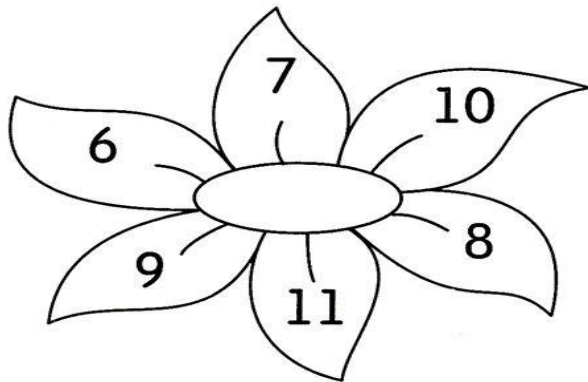
4



- назови числа в порядке возрастания
- назови числа в порядке убывания
- назови числа, которые меньше 7
- назови числа, которые больше 3
- назови числа, которых нет (в пределах 10)
- какие числа повторяются



На каждой цветке раскрась
красным цветом лепесток с самым большим числом,
жёлтым – с самым маленьким



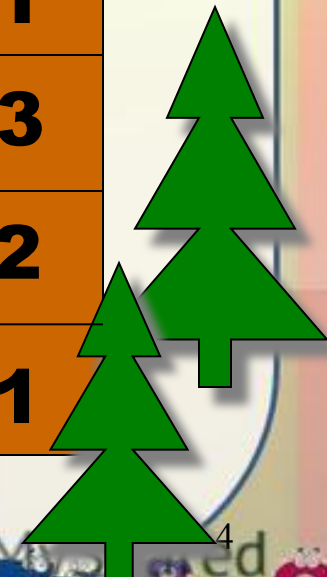


«Заселяй-ка»

9	
7	2
3	6
5	4
6	3
4	5

7	
1	6
5	2
4	3
4	3
2	5

5	
4	1
2	3
3	2
4	1





«Решайка»

$$10 - 4 = 6$$


$$4 - 2 = 2$$

$$7 + 3 = 10$$

$$5 + 4 = 9$$



$$7 + 2 = 9$$

$$3 + 5 = 8$$







«Лишняя фигура»





Какой вид сверху соответствует пирамидке





**По пустыне шло 7 верблюдов.
2 верблюда зашли на водопой.
Сколько верблюдов пошло дальше?**





Реши задачу:

Условие: У наседки 8 цыплят.

2 цыплёнка чёрных, а остальные жёлтые.

Вопрос: Сколько жёлтых цыплят у наседки?

Решение:

$$8 - 2 = 6$$

Ответ: У наседки 6 желтых цыплят.





**Мы решали и устали,
Тихо, дружно с места встали!**





Шерсть у кота Васьки темнее , чем у Мурзика,
но светлее, чем у Пушка.

Какой кот самый светлый?

Какой кот самый тёмный?

Который по счету кот Васька?

Васька



Мурзик



Пушок





Арифметический диктант

Запиши число, следующее за числом 9. **10**

Запиши число, которое стоит перед числом 7. **6**

Какое число находится между числами 8 и 10. **9**

7 – это 3 да ещё плюс сколько? **4**

Назови соседей числа 8. **7 и 9**

Увеличь 5 на 1. **6**

Уменьши 10 на 1. **9**

Уменьши 5 на 1 и ещё раз на 1. **3**






Веселый счет

Мальчики

Запиши только
примеры с ответом 4.


$1+2=$

$7-3=$ **4**



$4-2=$

$3+2=$




$5-1=$ **4**

$1+3=$ **4**



$6-3=$

$8-4=$ **4**



$2+2=$ **4**

$6-1=$



Девочки

Запиши только
примеры с ответом 5.

$2+2=$

$8-3=$ **5**

$6-1=$ **5**

$1+3=$

$3+2=$ **5**

$10-5=$ **5**

$7-3=$

$9-2=$

$4+1=$ **5**

$3+3=$





Молодцы !

