

29 - 30 сентября.
Классная работа.

- Тема урока:
«Умножаем и делим на 7, 8,
9»

1 ступенька: я знаю.

- - Как называются числа при умножении?
- - Как называются числа при делении?
- - Во сколько раз 8 меньше 32?
- - На сколько 35 больше 5?
- - Увеличьте 9 в 9 раз.
- - Запишите частное двух чисел 56 и 7 и вычислите его значение.
- - Запишите произведение двух чисел, значение которого 36.

ТАБЛИЦА УМНОЖЕНИЯ И ДЕЛЕНИЯ

С ЧИСЛОМ 9

$9 \times 2 = 18$

$9 \times 3 = 27$

$9 \times 4 = 36$

$9 \times 5 = 45$

$9 \times 6 = 54$

$9 \times 7 = 63$

$9 \times 8 = 72$

$9 \times 9 = 81$

$9 \times 9 = 81$

$81 : 9 = 9$





Найди подходящие числа.


$$\boxed{4} \cdot \textcircled{7} = 28$$


$$\boxed{7} \cdot \textcircled{9} = 63$$

$$\boxed{5} \cdot \textcircled{5} = 25$$

$$\boxed{6} \cdot \textcircled{9} = 54$$

$$\boxed{8} \cdot \textcircled{8} = 64$$






Временная выкладка с верной!

The grid contains the following arithmetic problems and solutions:


- $4 \times 6 = 24$
- $5 + 4 = 9$
- $80 : 8 = 10$
- $71 : 7 = 10$
- $30 + 9 = 39$
- $49 : 7 = 7$
- $18 + 1 = 19$
- $35 - 4 = 31$
- $39 + 18 = 57$
- $65 : 4 = 16.25$
- $36 + 18 = 54$
- $25 + 75 = 100$





Найди примеры на умножение в вертикальных столбиках.

7	8	5	8	3	2	7	4
6	8	5	9	9	9	7	7
42	63	25	72	27	17	49	28
9	4	7	9	5	4	9	3
7	2	3	2	6	3	5	3
63	8	22	18	30	12	45	9



Высчитай дорогу животных в метрах.



8 м

·7

56 м

-42

14 м

:2

7 м



6 м

·6

36 м

:4

9 м

·5

45 м




Дальше

1. В магазин привезли 6 ящиков бананов по 8 кг в каждом. Сколько кг бананов привезли в магазин?

2. Садовник посадил розы в 7 рядов по 8 штук. Сколько роз посадил садовник?

3. Купили 3 банки фанты по 8 рублей.

Сколько стоит покупка?



Работа по учебнику с. 37.

№ 6

С. – 300

Кн. п. – ? кн.,

} а)

720 кн.

на ? кн.

больше

Ост.

1). $720 - 300 = 420$ (кн.) – повестей.

2). $420 - 300 = 120$ (кн.)

Ответ: на 120 приключенческих повестей больше, чем сказок.

Домашнее задание

• стр. 38 № 4, № 5

а)

- Читаем вдумчиво 2 раза, а потом решаем, соблюдая режим письма и каллиграфию цифр и знаков.