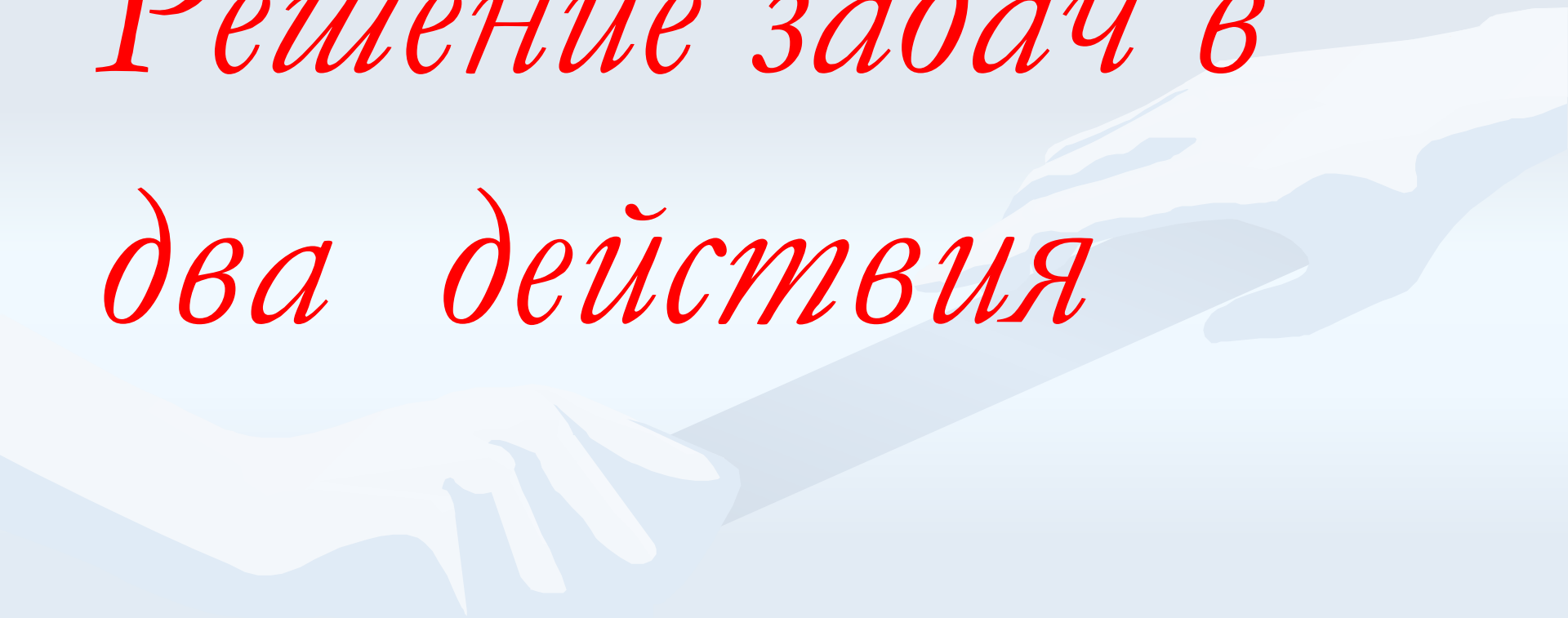


# Урок математики

## Решение задач в два действия



*13 апреля.  
Классная работа.*

# Работа в тетради

## Запиши краткую запись и решение задачи



**Катя сделала 6 закладок,  
а Даша на 2 закладки больше.  
Сколько закладок сделала Даша?**



# Проверь решение задачи



- Катя-6 з.
- Даша-? на 2 больше  
1)  $6+2=8$ (з.)
- Ответ: 8 закладок












Дорогие первоклассники!  
Будьте внимательны,  
Вас ждут новые задачи.



# *Тема. Задачи в два действия*






















Вот две задачи. Они отличаются вопросами. Если решать первую задачу, то решение будет в одно действие. Если же решать вторую задачу, то решений будет два (первое и второе действие)


*На первой проволоке 7 шариков, а на второй на 3 шарика больше. Сколько шариков на второй проволоке?*

*На первой проволоке 7 шариков, а на второй 10. Сколько всего шариков на двух проволоках?*

*На первой проволоке 7 шариков, а на второй на 3 шарика больше. Сколько всего шариков на двух проволоках?*


*1) Первый вопрос в этой задаче:*

*Сколько шаров на второй проволоке?*





*1) Второй вопрос в этой задаче:  
Сколько всего шаров на второй проволоке?*



**Составные задачи – это задачи, в которых больше 1 действия.**



# Решение задач

1.

1 п. – 7 ш.

2 п. – ?, на 3 б.

?


$$1) 7 + 3 = 10 \text{ (ш.)} - 2 \text{ п.}$$

$$1) 7 + 10 = 17 \text{ (ш.)} - \text{всего.}$$

Ответ: 17 шариков.

В одном ящике 8 кг яблок, а в другом – на 2 кг больше. Сколько всего килограммов яблок в этих ящиках?

**В одном ящике 8 кг яблок,  
а в другом – на 2 кг  
больше. Сколько всего  
килограммов яблок в этих  
ящиках?**



# Решение задач

1 ящ. – 8 кг

?

2 ящ. – ?, на 2 б.

1)  $8 + 2 = 10$  (кг)-во 2 ящ.

2)  $8 + 10 = 18$  (кг) – всего

Ответ: 18 кг

# Реши устно



- Найди сумму чисел:

6 и 10, 10 и 9, 0 и 13  
16 19 13

- Найди разность чисел:

20 и 1, 17 и 7, 18 и 10  
19 10 8

# Самостоятельная работа

Выполнить работу в тонкой тетради

$$8 + 2 + 7 =$$

$$19 - 9 - 8 =$$

$$12 - 2 - 7 =$$

$$6 + 4 + 9 =$$

$$9 + 1 + 6 =$$

$$16 - 6 - 7 =$$

Прислать учителю решение данной задачи

На верхней полке 7 книг , а на  
нижней -на 4 книги меньше.

Сколько книг на двух полках?

