








Урок математики во 2 классе




**Какая фигура «лишняя»?
Назови остальные фигуры одним
словом.**




Найдите среди геометрических фигур прямоугольник




1



2



3



4



5



6



Тема урока:

**«Свойства сторон
прямоугольника»**



Какие фигуры называются прямоугольниками?

Прямоугольник – это четырёхугольник,
у которого все углы прямые.



А какие свойства есть ещё у прямоугольника?

Посмотрите внимательно на
прямоугольник. Обратите внимание
на стороны прямоугольника.



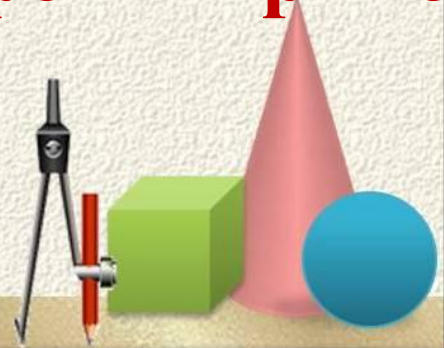
А как можно назвать эти стороны?

Стороны, которые лежат друг против друга называются противоположными.

Сколько пар противоположных сторон имеет прямоугольник?

Как вы думаете, а какими должны быть противоположные стороны прямоугольника?

Противоположные стороны прямоугольника равны.



**Найдём их и покажем синим и голубым цветом
противоположные стороны.**



**Как доказать, что противоположные стороны
равны?**




проверить сгибанием

измерить по линейке



Запомни!

Противоположные стороны
прямоугольника равны



Работа по учебнику

Стр. 117 № 3 и 5

(устно)



Выполни задания на повторение
РТ стр. 57 № 6 - 9



СПАСИБО ЗА РАБОТУ!



ДО НОВЫХ ВСТРЕЧ!